

Правила та Безпека Дорожнього Руху

ЕКЗАМЕНАЦІЙНІ БІЛЕТИ

офіційне чотирнадцяте видання



CD



Україна

<http://gai.org.ua> - підготовка до іспиту з ПБДР України

УДК 656.13.052.8 (075.4)
ББК 39.808.я7
Я 11

АВТОРИ:



ГУСАРОВ Сергій Миколайович —
Ректор Харківського національного
університету внутрішніх справ,
член-кореспондент Національної
академії правових наук,
доктор юридичних наук,
заслужений юрист України,
генерал-полковник міліції;



Астапкович Володимир Іванович —
начальник Департаменту ДАІ МВС України,
полковник міліції;



БУДНИК Сергій Іванович —
начальник ЦБДР та АС при МВС України,
генерал-майор міліції;



ДЕМ'ЯНКО Олександр Миколайович —
перший заступник начальника Департаменту
ДАІ МВС України, полковник міліції;



БЕРІЗКО Микола Михайлович —
завідувач відділу освіти і науки Головного
управління з питань гуманітарного розвитку
Адміністрації Президента України,
заслужений працівник освіти України;



КОЛЧИНСЬКИЙ Юрій Йосипович —
директор НВП «Світлофор»,
викладач-методист вищої категорії;

Затверджено наказом Департаменту ДАІ МВС України № 76 від 17.05.2013 р.

Погоджено з ЦБДР та АС при МВС України.

Рекомендовано Міністерством освіти і науки України.

Дозвіл № 1/11-6793 від 22.07.2010 р.

Свідоцтво про Державну реєстрацію авторського права на твір
№ 34089 від 13.07. 2010 р. Державного Департаменту інтелектуальної власності
Міністерства освіти і науки України.

Виключне право на використання твору належить НВП «Світлофор»
61024, Україна, м. Харків, вул. Лермонтовська, 12.
(рішення № 1331 від 13.07. 2010 р. ДДІВ МОНУ).

ПБДР — Екзаменаційні білети: навч. метод. посібн./ С. М. Гусаров,
Я11 В.І. Астапкович, С.І. Будник, О.М. Демянко, М.М. Берізко, Ю. Й. Колчинський. —
14-те вид. — Х.: Світлофор. — 2013. — 192 с.

ISBN 978-966-7877-50-7

Зміст та склад «ПБДР — Екзаменаційні білети» відповідають нині діючим Правилам дорожнього руху та іншим нормативно-правовим актам України. Білети розроблені для складання теоретичного іспиту на право керування транспортними засобами, а також для навчання широкого кола осіб, що готуються стати водіями транспортних засобів.

Посібник призначено для кандидатів у водії і для водіїв зі стажем, викладачів автошкіл і керівників автопідприємств, спеціалістів, які займаються забезпеченням безпеки дорожнього руху, а також для всіх учасників дорожнього руху.

УДК 656.13.052.8 (075.4)
ББК 39.808.я7

Ідентифікаційний номер
у міжнародній системі кодування
EAN International 9789667877507

© Колчинський Ю. Й., 1987-2013
© Гусаров С.М., Астапкович В.І., Будник С.І.,
Демянко О.М., Берізко М.М., 2013
© Науково-виробниче підприємство
«Світлофор», 2013

ISBN 978-966-7877-50-7

Затверджено Департаментом ДАІ МВС України
Рекомендовано Міністерством освіти і науки України

Правила та Безпека Дорожнього Руху

ЕКЗАМЕНАЦІЙНІ БІЛЕТИ

офіційне чотирнадцяте видання



Україна



2013

<http://gai.org.ua> - підготовка до іспиту з ПБДР України

УВАГА!

Екзаменаційні білети складено відповідно до діючих Правил дорожнього руху зі змінами і доповненнями по теперішній час. Кожний білет складається з двадцяти завдань. На питання кожного завдання пропонується від двох до п'яти відповідей, правильною може бути тільки одна. Щоб упевнитися в тому, що Ви правильно розв'язали завдання, необхідно скористатися кодом правильних відповідей. Якщо Вам незрозуміло, чому відповідь має бути саме така, як зазначено у кодї, подивіться - у правому нижньому кутку рамки кожного завдання вказано номер пункту Правил дорожнього руху, на основі якого завдання складено.

Зверніть увагу, що **при розв'язанні завдань щодо проїзду перехресть відсутні поняття «одночасно», «попутно», «під прикриттям»**. Пояснюється це тим, що у Правилах дорожнього руху ці поняття також відсутні, а також необхідністю підвищення персональної відповідальності водіїв.

Враховуючи, що білети мають тематичну структуру розподілу завдань, рекомендується при прийманні іспитів розрізати їх по вертикалі або по горизонталі та міняти місцями їхні частини. При цьому загальний зміст і вимоги білетів не порушуються.

Література, рекомендована для роботи з навчально-методичним посібником «Правила і безпека дорожнього руху — ЕКЗАМЕНАЦІЙНІ БІЛЕТИ»:

- «Правила дорожнього руху України». Офіційне видання. НВП «Світлофор», 2013 р. (ПДР);
- «Кодекс України про адміністративні правопорушення» (КУпАП);
- Закон України «Про міліцію» (ЗУМ);
- В. І. Коноплянко. «Основи безпеки дорожнього руху» (ОБР);
- Н. В. Колчинська. «Подання першої медичної допомоги учасникам дорожнього руху». Офіційне видання. НВП «Світлофор», 2013 р. (ППМД);
- С.М. Гусаров, С.Г. Коломієць, В. М. Зайченко, відповідальний за випуск Ю. Й. Колчинський. «Коментарі до Правил дорожнього руху України». Видання 3-є, перероблене та доповнене. НВП «Світлофор», 2013 р.

Навчально-методичний посібник складається з чотирьох книг:

- ***«Я — водій»***
- ***«ПБДР — Екзаменаційні білети»***
- ***«Подання першої медичної допомоги учасникам дорожнього руху» з коротким практичним посібником***
- ***«Відповідальність за порушення Правил дорожнього руху»***

1 За визначенням Правил дорожнього руху, «дозволена максимальна маса автопоїзда» — це:

1. Сума дозволеної максимально допустимої маси кожного транспортного засобу, що входить до складу автопоїзда.
2. Сума фактичних мас транспортних засобів, що входять до складу автопоїзда.
3. Сума вантажопідйомності автомобіля і причепа.


1.10

2 Як повинен вчинити водій мотоцикла без бокового причепа, якщо він почув спеціальний звуковий сигнал і побачив, що його наздоганяє автомобіль з увімкненим проблісковим маячком синього кольору?

1. Збільшити швидкість, щоб не зіткнутися з автомобілем, який наздоганяє.
2. Подати звуковий сигнал, щоб привернути увагу інших учасників дорожнього руху.
3. Дати дорогу такому транспортному засобу і забезпечити йому безперешкодний проїзд.

3.2

3 Як повинен учинити водій, якщо його транспортний засіб не може продовжувати рух на підйомі зі швидкістю, що дорівнює або більшою ніж 40 км/год?



1. Продовжувати рух по основній смузі, якщо за ним немає інших транспортних засобів.
2. Перестроїтися на додаткову смугу.
3. Продовжувати рух по основній смузі, якщо довжина підйому не перевищує 300 м.

Дод. 1: 5.20.2


4 Даний дорожній знак позначає:



1. Ділянку дороги, на якій немає тротуару або пішохідної доріжки.
2. Ділянку дороги, на якій є тротуар або пішохідна доріжка.
3. Наближення до нерегульованого пішохідного переходу, позначеного відповідними дорожніми знаками або дорожньою розміткою.

Дод. 1: 1.32


5 Даним дорожнім знаком:



1. Забороняється розворот, поворот ліворуч дозволяється.
2. Забороняється поворот ліворуч, розворот дозволяється.
3. Забороняється поворот ліворуч і розворот.

Дод. 1: 3.23


6 Чи дозволяється перетинати вузьку суцільну білу лінію дорожньої розмітки, яка позначає край проїзної частини дороги, суміжної з узбіччям?



1. Дозволяється.
2. Забороняється.

Дод. 2: 1.1

7 Даним дорожнім знаком:



1. Дозволено рух на триколісних та інших механічних транспортних засобах, дозволена максимальна маса яких не перевищує 400 кг.
2. Заборонено рух тільки на мотоциклах з боковим причепом.
3. Дозволено рух на моторолерах і велосипедах.
4. Забороняється рух на мотоциклах. Дія знака не поширюється на водіїв, що обслуговують громадян, які працюють у позначеній зоні.
5. Інформація, закладена у відповідях 1, 3 і 4.

Дод. 1: 3.6;
1.10 «мотоцикл»

8 Чим повинен керуватися водій, коли вимоги тимчасових дорожніх знаків і ліній розмітки суперечать одне одному?

1. Тимчасовими дорожніми знаками.
2. Лініями розмітки.

8.2

9 На якій відстані від пішохідних переходів забороняються зупинка і стоянка транспортних засобів?

1. Зупинка і стоянка заборонені на самих пішохідних переходах і ближче 25 м від них з обох боків.
2. Зупинка і стоянка заборонені на самих пішохідних переходах і ближче 15 м від них з обох боків.
3. Зупинка і стоянка заборонені на самих пішохідних переходах і ближче 10 м від них з обох боків.

15.9 «Г»

10 Як повинен учинити водій легкового автомобіля в показаній ситуації?



1. При виїзді з двору дати дорогу пішоходу і транспортним засобам.
2. Зупинитися біля краю проїзної частини, даючи дорогу транспортним засобам.
3. Швидше завершити поворот, щоб не створювати перешкоди транспортним засобам.

10.2

11 Яким способом дозволяється буксирування легкового автомобіля з несправним двигуном? Дайте повну відповідь.

1. Способом часткового навантаження.
2. На жорсткому зчепленні.
3. На гнучкому зчепленні.
4. На жорсткому або гнучкому зчепленні.
5. Будь-яким вищезазначеним способом.

23.4

12 Чи дозволяється рухатися без необхідності з дуже малою швидкістю?

1. Дозволяється при стомленому стані водія.
2. Забороняється, якщо це заважає іншим транспортним засобам.
3. Дозволяється при проїзді перехресть.

12.9 «В»

13 Водій якого транспортного засобу повинен дати дорогу при зустрічному роз'їзді на ділянках доріг, позначених знаком «Крутий спуск»?

1. Водій легкового автомобіля — водієві автобуса.
2. Водій транспортного засобу, який рухається на підйом.
3. Водій транспортного засобу, який рухається на спуск.

13.4

14 Даним розпізнавальним знаком позначаються транспортні засоби:



1. Які перевозять медикаменти.
2. Які належать водіям-лікарям.
3. Якими керують глухі або глухонімі водії.

30.3 «Ж»

15 Чи дозволяються зупинка і стоянка легкових автомобілів на лівому боці дороги з одностороннім рухом?

1. Дозволяються тільки легковим автомобілям швидкої медичної допомоги при поданні допомоги хворому.
2. Забороняються усім легковим автомобілям.
3. Дозволяються усім легковим автомобілям на дорогах у населених пунктах.

15.3

16 Якщо водій нерейкового транспортного засобу наближається до перехрестя, до якого наближається праворуч і інший транспортний засіб, то:

1. На перехресті рівнозначних доріг переважне право надається тому, хто наближається праворуч.
2. На нерівнозначному перехресті переважне право надається тому, хто наближається праворуч.
3. На перехресті будь-якої конфігурації переважне право надається тому, хто наближається праворуч.

16.11; 16.12

17 Які фактори повинен урахувати водій для вжиття заходів безпеки при повороті з добре освітленої вулиці на неосвітлену? Дайте повну відповідь.

1. Інтенсивність руху на неосвітленій дорозі нижча, тому, ввімкнувши дальнє світло, можна рухатися з високою швидкістю.
2. Для адаптації зору необхідний певний час.
3. Автомобіль спочатку поверне, і тільки потім фари висвітлять наявні перешкоди на неосвітленій дорозі.
4. Фактори, зазначені у відповідях 2 і 3.
5. Фактори, зазначені у відповідях 1, 2 і 3.


ОБР

18 За яких з перелічених умов, за Правилами дорожнього руху, забороняється експлуатація вантажного автомобіля з дозволеною максимальною масою понад 3,5 т?

1. Відсутні противідкотні упори.
2. Несправна система випуску відпрацьованих газів.
3. Не працюють склоочисники.
4. Не працює передбачений конструкцією механізм регулювання положення сидіння водія.
5. За всіх перелічених умов.

31.4

19 Як слід рухатися по гірським дорогам?



1. З працюючим двигуном, із ввімкненими зчепленням і передачею.
2. З непрацюючим двигуном, але з ввімкненими зчепленням і передачею.
3. З непрацюючим двигуном і вимкненим зчепленням або передачею.

28.3 «А»

20 Другим проїде перехрестя:



1. Червоний автомобіль.
2. Зелений автомобіль.
3. Синій автомобіль.


16.11; 16.14

1 За визначенням Правил дорожнього руху, «пішохідна доріжка» — це:

1. Елемент дороги, призначений для руху пішоходів і транспортних засобів зі спеціальними сигналами.
2. Доріжка з покриттям, призначена для руху пішоходів та осіб в інвалідних колясках, виконана в межах дороги чи поза нею і позначена знаком «Доріжка для пішоходів».
3. Будь-яка доріжка, призначена для руху пішоходів і водіїв-інвалідів, які керують мотоколяскою, і позначена знаком «Доріжка для пішоходів».

1.10

2 Водію якого автомобіля дозволяється зупинка в зоні дії даного дорожнього знака з табличкою?



1. Водію червоного автомобіля.
2. Водію жовтого автомобіля, позначеного розпізнавальним знаком «Інвалід».
3. Обом водіям.
4. Жодному водію.

2.8

3 Даний дорожній знак позначає, що:



1. Попереду ділянка дороги, на якій забороняється в'їзд всіх механічних транспортних засобів.
2. Попереду ділянка дороги, на якій заборонено в'їзд всіх транспортних засобів, крім маршрутних.
3. Попереду ділянка дороги, на якій забороняється в'їзд всіх транспортних засобів, крім мотоциклів і велосипедів.
4. Інформація, закладена у відповідях 2 і 3.

Дод. 1: 3.21

4 Який дорожній знак забороняє рух транспортних засобів, габаритна довжина яких більша ніж зазначена на знакові?



1



2



3



4



5

Дод. 1: 3.19

5 Чи дозволяється виконати обгін у даному місці населеного пункту?



1. Дозволяється, якщо обгін завершиться до залізничного переїзду.
2. Забороняється.
3. Дозволяється при швидкості того, кого обганяють менше ніж 30 км/год.

Дод. 1: 1.28;
14.6 «Б»

6 Перед Вами дві суцільні лінії розмітки — ліворуч і праворуч. Чи дозволяється їх перетинати?



1. Забороняється перетинати тільки ліву лінію. Праву дозволяється перетинати, бо вона позначає край проїзної частини і суміжна з узбіччям.
2. Забороняється перетинати обидві лінії.

Дод. 2: 1.1

7 Яку інформацію закладено у даний дорожній знак?



1. Позначає в'їзд на дорогу зі смугою для маршрутних транспортних засобів.
2. Позначає в'їзд на головну дорогу.
3. Позначає в'їзд на дорогу з реверсивним рухом.
4. Інформація, закладена у відповідях 2 і 3.

Дод. 1: 5.15

8 У якій відповіді названо транспортні засоби, яким дозволено рух?



1. Легковий автомобіль.
2. Вантажний автомобіль.
3. Мотоцикл.
4. Легковий і вантажний автомобілі.
5. Автобус.

8.8 «А»

9 У яких випадках дозволяється використовувати звуковий сигнал у населених пунктах?

1. Для запобігання дорожньо-транспортним пригодам.
2. При обгоні.
3. У випадках, зазначених у відповідях 1 і 2.

9.5

10 Чи дозволяється навчальна їзда на ділянках доріг, позначених даним дорожнім знаком?



1. Дозволяється тільки на легковому автомобілі при достатніх навичках в учня.
2. Забороняється.
3. Дозволяється при русі по першій смузі проїзної частини.

24.9

11 Дорога з двостороннім рухом має по три смуги для руху в кожному напрямку. В якому з перелічених випадків водію легкового автомобіля дозволяється виїжджати на крайню ліву смугу?

1. Тільки для обгону.
2. Тільки для руху прямо, якщо зайняті праві смуги, повороту ліворуч або розвороту.
3. В усіх перелічених випадках.

11.5

12 Які з перелічених дій забороняються водію при виборі швидкості руху?

1. Тільки перевищувати максимальну швидкість руху, визначену технічною характеристикою даного транспортного засобу.
2. Тільки перешкоджати іншим транспортним засобам, рухаючись без потреби з дуже малою швидкістю.
3. Дії, перелічені у відповідях 1 і 2, заборонені.

12.9 «А», «В»

13 Якої дистанції на дорогах поза населеними пунктами повинні дотримуватись водії транспортних засобів, швидкість руху яких не перевищує 40 км/год?

1. Дистанція повинна бути такою, щоб транспортні засоби, які здійснюють обгін, мали можливість безперешкодно повернутися на раніше займану смугу руху. Ця вимога не діє, якщо водій тихохідного транспортного засобу готується до виконання обгону чи об'їзду та подає попереджувальний сигнал.
2. Дистанція повинна бути не менша ніж 50 м.
3. Дистанція повинна бути не менша ніж 100 м.

13.2

14 Чи дозволяється обігнати транспортний засіб, який обганяє інший транспортний засіб?

1. Дозволяється, якщо швидкість руху при обгоні не перевищує встановлену швидкість руху для даної ділянки дороги.
2. Забороняється.
3. Дозволяється усім транспортним засобам, крім автобусів.
4. Дозволяється у випадках, зазначених у відповідях 1 і 3.

14.6 «Г»

15 В яких місцях з перелічених заборонено зупинку транспортних засобів?

1. Під мостами та на них.
2. На березі водойми.
3. Ближче 20 м від перехрестя.
4. В усіх зазначених місцях.

15.9 «В»

16 Ви повертаєте ліворуч при основному зеленому сигналі світлофора. Яким транспортним засобам необхідно дати дорогу?

1. Усім транспортним засобам, що рухаються з інших напрямків.
2. Тільки трамваю попутного напрямку, а також транспортним засобам, що рухаються в зустрічному напрямку прямо або повертають праворуч.
3. Тільки транспортним засобам, що наближаються праворуч.

16.6

17 При русі на повороті автомобіль стійкіший, якщо рух здійснюється:



1. Зі збільшенням швидкості.
2. З вимкненою передачею.
3. З увімкненою передачею.

ОБР

18 Забороняється експлуатація транспортного засобу шляхом доставки його на спеціальний майданчик або стоянку ДАІ:

1. У випадку порушення Правил дорожнього руху, який потягнув до створення аварійної обстановки.
2. У випадках, передбачених законодавством.
3. У випадках, зазначених у відповідях 1 і 2.


31.7

19 Чи дозволяється установка шин з різними малюнками протектора на одну вісь легкового автомобіля?

1. Дозволяється.
2. Дозволяється тільки на задню вісь передньоприводного автомобіля.
3. Забороняється.

31.4.5 «Г»


20 Першим проїде перехрестя:



1. Синій автомобіль.
2. Червоний автомобіль.
3. Зелений автомобіль.
4. Жовтий автомобіль.

16.11; 16.13

1 За визначенням Правил дорожнього руху, при якій мінімальній відстані настають умови «недостатньої видимості» в сутінках, в умовах туману, дощу, снігопаду тощо?



1. Менше 500 м.
2. Менше 400 м.
3. Менше 300 м.


1.10

2 Якого кольору повинні бути пробіскові маячки транспортного засобу, що замикає колону транспортних засобів? Дайте повну відповідь.

1. Зеленого кольору.
2. Зеленого і синього кольору.
3. Колір пробіскових маячків повинен узгоджуватися з відповідями 1 або 2.
4. Синього і червоного кольору.
5. Червоного кольору.

3.3


3 Яку інформацію закладено у даний дорожній знак?



1. Попереду ділянка дороги, на якій забороняється зупинка всіх транспортних засобів.
2. Попереду ділянка дороги, на якій зупинка вантажних автомобілів заборонена.
3. Попереду ділянка дороги, на якій дозволяється зупинка тільки транспортних засобів, які рухаються за встановленими маршрутами.
4. Попереду ділянка дороги, на якій дозволяється стоянка транспортних засобів.
5. Інформація, закладена у відповідях 2 і 3.

Дод. 1: 5.38

4 Який з даних дорожніх знаків дозволяє рух вантажного автомобіля з загальною фактичною масою 6 т?

1. Тільки знак 
2. Тільки знак 
3. Обидва знаки дозволяють рух.

Дод. 1: 3.3, 3.15

5 Даний дорожній знак попереджає, що:



1. Зустрічний роз'їзд у тунелі ускладнено через звуження проїзної частини.
2. Порядок руху у тунелі регулюється світлофором.
3. На під'їзді до тунелю звужена проїзна частина.


4. Інформація, закладена у відповідях 1 і 3. Дод. 1: 1.9

6 Широка жовта переривчаста лінія дорожньої розмітки на проїзній частині означає:

1. Місце зупинки маршрутних транспортних засобів.
2. Місце, де на смугу маршрутних транспортних засобів дозволено заїзд інших транспортних засобів.
3. Місце, де на смугу маршрутних транспортних засобів дозволено заїзд і подальший рух по ній інших транспортних засобів.

Дод. 2: 1.2

7 Даний дорожній знак з табличкою:



1. Інформує водія про те, що він знаходиться у кінці зони дії знака «Стоянку заборонено».
2. Інформує водія про те, що він знаходиться на початку зони дії знака «Зупинку заборонено».
3. Інформує водія про те, що він знаходиться у зоні дії знака «Стоянку заборонено».

Дод. 1: 3.35, 7.2.4

8 Чи дозволяється займати місце для постійного руху в колоні іншим транспортним засобам?

1. Забороняється.
2. Дозволяється тільки у світлу пору доби.
3. Дозволяється на час до 30 секунд.
4. Дозволяється за наявності безпечної дистанції.
5. Дозволяється за виконання всіх вищезазначених умов.

25.6

9 Дайте повну відповідь, коли водій повинен подавати сигнали світловими покажчиками поворотів відповідного напрямку?

1. Перед початком руху.
2. Перед зупинкою.
3. Перед перестроюванням, поворотом або розворотом.
4. У випадках, зазначених у відповідях 1, 2, 3.
5. У випадках, зазначених у відповідях 1 і 3.

9.2

10 За яких перелічених умов навчальна їзда на автомобілі на дорогах дозволяється? Дайте повну відповідь.

1. Якщо особі, яка навчається водінню автомобіля, не менше 16 років і за наявності в неї достатніх початкових навичок водіння.
2. У присутності спеціаліста з підготовки водіїв.
3. За умов, зазначених у відповідях 1 і 2, а також якщо водійський стаж особи, яка навчає, становить не менше п'яти років.
4. За умов, зазначених у відповідях 1 і 2.

24.2; 24.5

11 Яка максимальна загальна довжина зчеплених транспортних засобів (крім маршрутних) допускається Правилами дорожнього руху при буксируванні?

- | | | | | |
|------|------|------|------|------|
| 1 | 2 | 3 | 4 | 5 |
| 20 м | 22 м | 23 м | 24 м | 25 м |

23.10 «В»

12 З якою максимальною швидкістю дозволяється рух транспортних засобів, якими керують водії зі стажем до двох років, на автомагістралях?

- | | | | | |
|-----------|-----------|-----------|-----------|------------|
| 1 | 2 | 3 | 4 | 5 |
| 60 км/год | 70 км/год | 80 км/год | 90 км/год | 100 км/год |

12.6 «Б»

13 Дайте повну відповідь. Щоб не створювати небезпеки для дорожнього руху, безпечний інтервал слід вибирати:

1. Під час стоянки на майданчику, позначеному табличкою «Спосіб постановки транспортного засобу на стоянку».
2. При обгоні, випередженні, об'їзді перешкоди.
3. При зустрічному роз'їзді.
4. У випадках, перелічених у відповідях 2 і 3.

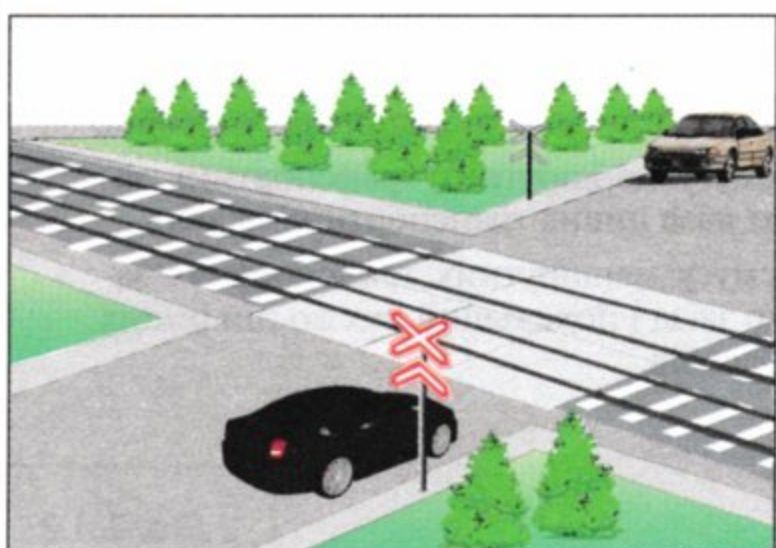
13.3

14 В яких випадках перереєструються у ДАІ транспортні засоби?

1. У випадках зазначених у відповідях 2,3 і 4.
2. Тільки якщо змінюється колір автомобіля.
3. Тільки якщо змінюється адреса власника транспортного засобу.
4. Якщо необхідно внести зміни до реєстраційних документів.

30.1

15 На якій відстані від залізничних переїздів заборонено зупинку транспортних засобів?



1. На відстані не більше 20 м.
2. На відстані не менше 20 м.
3. Зупинка заборонена тільки на самому залізничному переїзді.

15.9 «А»

16 Червоний автомобіль проїде перехрестя:



1. Третім, після зеленого і жовтого.
2. Другим.
3. Другим після жовтого.

16.12

17 Як слід вчинити, якщо під час руху стався прокол шини колеса?

1. Різко загальмувати і зупинитися.
2. Міцно тримати рульове колесо і плавно зупинитися.
3. Повернути рульове колесо у бік пошкодженої шини і загальмувати.

ОБР

18 Чи дозволяється експлуатація автомобіля, якщо на ньому відсутній один болт (гайка) кріплення колеса?

1. Дозволяється зі швидкістю до 30 км/год.
2. Дозволяється, якщо справна гальмова система автомобіля.
3. Дозволяється, якщо болт (гайка) відсутній на задньому колесі.
4. Забороняється.

31.4.5 «Є»

19 Якому вантажному автомобілю дозволяється продовжити рух на ділянці дороги за даним дорожнім знаком?



1. Повністю завантаженому вантажному автомобілю з дозволеною максимальною масою 7 т.
2. Порожньому вантажному автомобілю вантажопідйомністю 7 т.
3. Вантажному автомобілю з дозволеною максимальною масою 7 т, який буксирує причеп з дозволеною максимальною масою 5 т.

Дод. 1: 3.3

20 Останнім проїде перехрестя:



1. Жовтий автомобіль.
2. Зелений автомобіль.
3. Червоний автомобіль.
4. Синій автомобіль.

16.11; 16.13

1 З Державтоінспекцією узгоджуються:

1. Порядок буксирування двох і більше транспортних засобів.
2. Порядок буксирування двох і більше механічних транспортних засобів.
3. Порядок буксирування транспортних засобів не потребує узгоджень.

32.1 «Д»

2 Яку з перелічених дій зобов'язаний виконати водій перед виїздом з місця постійної стоянки і початком руху? Дайте повну відповідь.

1. Подати сигнал світловими покажчиками повороту відповідного напрямку.
2. Перевірити й забезпечити технічно справний стан і комплектність транспортного засобу, правильність розміщення та кріплення вантажу.
3. Переконаватися в тому, що початок руху буде безпечним, і він не створить перешкод або небезпеки для інших учасників руху.
4. Виконати всі перелічені дії.

2.3 «А»;
9.2; 10.1


3 Даний дорожній знак:



1. Інформує про виїзд на дорогу, на якій рух маршрутних транспортних засобів здійснюється по спеціально виділеній смузі назустріч загальному потоку транспортних засобів.
2. Інформує про наближення до вузької ділянки дороги, під час руху по якій водій має перевагу відносно зустрічних транспортних засобів.
3. Інформує про наближення до вузької ділянки дороги, на якій забороняється в'їзд, якщо це ускладнить зустрічний рух транспортних засобів.

Дод. 1: 2.6


4 Чи розрізняються між собою вимоги даного дорожнього знака і даної таблички?



1. Розрізняються, бо знак забороняє рух з причепом тільки вантажних автомобілів і тракторів, а табличка діє на всі транспортні засоби з причепом.
2. Вимоги знака не відрізняються від вимог таблички.
3. Розрізняються, бо знак забороняє рух з причепом усіх транспортних засобів, а табличка діє тільки на вантажні автомобілі і трактори з причепами.

Дод. 1: 3.4,
7.5.2

5 У яких напрямках дозволяється рух вантажного автомобіля з дозволеною максимальною масою меншою ніж 3,5 т?



1. Тільки ліворуч.
2. Тільки праворуч.
3. У всіх напрямках.
4. Тільки ліворуч або праворуч.
5. Тільки прямо.

Дод. 1: 4.11,
7.3.3

6 Який водій порушив вимоги Правил дорожнього руху?

1. Водій, який перетнув суцільну вузьку лінію розмітки, що позначає край проїзної частини дороги, суміжний з узбіччям.
2. Водій, який рухався в житловій зоні зі швидкістю 30 км/год.
3. Ніхто не порушив.
4. Обидва порушили.

Дод. 2: 1.1;
12.5

7 Даний дорожній знак попереджає, що:



1. Попереду дорога має підйом, величина якого зазначена на знакові.
2. Попереду дорога має спуск, величина якого зазначена на знакові.
3. Попереду дорога має поперечний уклін, величина якого зазначена на знакові.

Дод. 1: 1.6

8 Даний сигнал регулювальника означає, що:



1. Дозволено рух червоному, зеленому автомобілям. Заборонено жовтому, білому.
2. Дозволено рух зеленому автомобілю. Заборонено червоному, жовтому, білому.

8.8 «Б»

9 Яку максимальну кількість чоловік дозволяється перевозити у пристосованому для цього вантажному автомобілі, водій якого має стаж більше 3 років і посвідчення водія категорії «С»?

1. До 5 чоловік.
2. До 10 чоловік.
3. Кількість пасажирів повинна відповідати кількості обладнаних з цією метою місць.
4. До 8 чоловік.

21.5

10 За вимогами Правил дорожнього руху, поворот праворуч слід виконати:

1. З крайньої правої смуги або з другої смуги для руху, а повернувши, — слід рухатися ближче до правого краю проїзної частини.
2. З крайньої правої смуги для руху, а повернувши, — слід рухатися ближче до правого краю проїзної частини.
3. З крайньої правої смуги для руху, а повернувши, — дозволяється рухатися по будь-якій смузі, вільній від транспортних засобів.


10.4; 10.5

11 Коли дозволяється транспортному засобу, швидкість руху якого не перевищує 40 км/год, виїжджати в крайнє ліве положення на проїзній частині для руху в цьому ж напрямку?

1. Тільки при перестроюванні перед поворотом ліворуч або розворотом.
2. Тільки при обгоні, випередженні чи об'їзді.
3. В усіх перелічених випадках.
4. В усіх перелічених випадках, а також якщо є три і більше смуги для руху в одному напрямку.

11.7

12 З якою максимальною швидкістю дозволяється рух вантажним автомобілям у населених пунктах?



1. 50 км/год.
2. 60 км/год.
3. 70 км/год.
4. 80 км/год за відсутності вантажу у кузові.

12.4

13 На якому малюнку правильно показано метод визначення, живий чи мертвий потерпілий?



1 2 3

1. На малюнку 1.
2. На малюнку 2.
3. На малюнку 3.
4. На малюнках 1, 2, 3.

Не замислюючись оживляйте потерпілого, якщо сумніваєтеся - живий він чи мертвий!!!

ППМД
стор.5


14 Чи дозволено обгін водію червоного автомобіля? Мотоцикліст здійснює об'їзд.



1. Заборонено.
2. Дозволено.

14.6 «Г»


15 Чи дозволяється стоянка поза населеними пунктами, де видимість або оглядовість дороги менше ніж 100 м тільки в одному напрямку?



1. Забороняється.
2. Забороняється тільки у темну пору доби або в умовах недостатньої видимості.
3. Дозволяється, якщо увімкнена аварійна світлова сигналізація.

15.10 «Г»

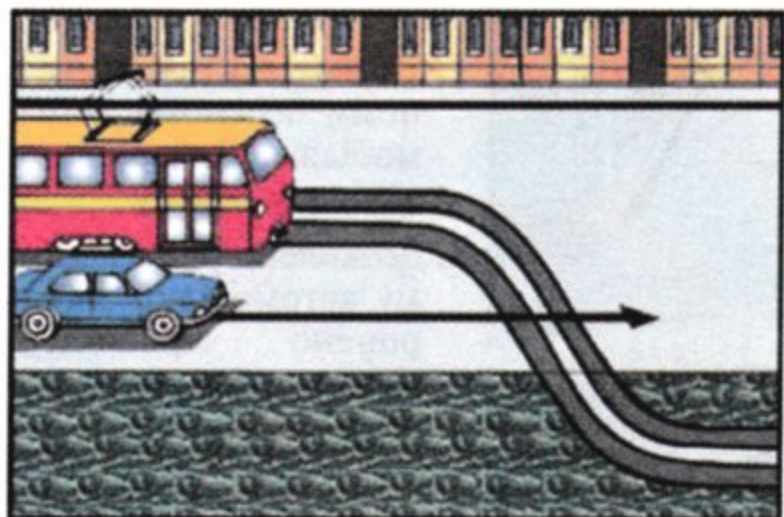
16 Третім проїде перехрестя:



1. Червоний автомобіль.
2. Зелений автомобіль.
3. Жовтий автомобіль.
4. Синій автомобіль.

16.11; 16.14

17 Водій якого транспортного засобу повинен дати дорогу?



1. Водій трамвая.
2. Водій автомобіля.

17.3

18 Мінімально допустиме Правилами дорожнього руху значення залишкової висоти малюнка протектора шин вантажних автомобілів з дозволеною максимальною масою понад 3,5 т становить:

1	2	3	4	5
3 мм	2 мм	1,6 мм	1 мм	0,5 мм

31.4.5 «А»

19 За яких умов забороняється експлуатація транспортних засобів? Дайте повну відповідь.

1. У світлових приладах використовуються лампи, що не відповідають типові даних світлових приладів.
2. Тільки порушене регулювання фар.
3. Не горить лампа лівої фари в режимі ближнього світла.
4. За всіх перелічених умов.

31.4.3

20 Сигналом зупинки поїзда слугує:

1. Простягнута уперед рука.
2. Погойдування вгору та вниз простягнутою уперед рукою.
3. Круговий рух руки (у світлу пору — із шматком яскравої тканини або будь-яким добре помітним предметом, у темну пору доби і в умовах недостатньої видимості — з факелом або ліхтарем).
4. Піднята над головою рука з жезлом або червоним прапором.

20.9

1 За визначенням Правил дорожнього руху, «перехрестя» — це:

1. Ділянка перехрещення двох доріг.
2. Перехрещення доріг на різних рівнях разом з дорогами, які їх з'єднують.
3. Місце перехрещення, прилягання або розгалуження доріг на одному рівні, межею якого є уявні лінії між початком закруглень країв проїзної частини кожної з доріг. Не вважається перехрестям місце прилягання до дороги виїзду з прилеглої території.

1.10

2 Чи повинен водій, що здійснює перевезення великогабаритного або великовагового вантажу, мати при собі документацію, відповідно до вимог спеціальних правил?

1. Не повинен. Достатньо мати при собі посвідчення водія на транспортний засіб відповідної категорії.
2. Не повинен тому, що вантаж безпечний.
3. Не повинен. Документація у такому випадку зберігається в адміністрації автопідприємства, а його реєстраційний номер записується в дорожній лист.
4. Повинен.

2.1 «Г»

3 Даний дорожній знак позначає:



1. Кінець додаткової смуги на підйомі або смуги розгону.
2. Дорогу, яка не має наскрізного проїзду.
3. Напрямок руху до об'єкта в населеному пункті.

Дод. 1: 5.29.1


4 На які транспортні засоби поширюється дія даного дорожнього знака з табличкою?



1. Тільки на легкових автомобілі.
2. На легкові автомобілі і мотоцикли.
3. На легкові автомобілі, а також вантажні автомобілі з дозволеною максимальною масою до 3,5 т.

Дод. 1: 4.2, 7.5.3

5 Чи дозволено зупинку автомобіля в даному місці?



1. Заборонено в парні числа місяця.
2. Дозволено.
3. Заборонено, бо відстань між переривчастою лінією розмітки і автомобілем, що зупинився, менша від 3 м.

Дод. 1: 3.35

6 Яким учасникам дорожнього руху забороняється рухатися по автомагістралях та дорогах для автомобілів? Дайте повну відповідь.

1. Велосипедистам.
2. Особам, котрі навчаються водінню автомобіля.
3. Водіям тракторів, самохідних машин і механізмів.
4. Водіям транспортних засобів, зазначених у відповідях 1, 2, 3.
5. Водіям транспортних засобів, зазначених у відповідях 1 і 2.

6.6 «Б»; 24.9; 27.2 «А»

7 Дайте повну відповідь. Даний дорожній знак:



1. Застосовується для заборони руху всіх без виключення користувачів доріг, вулиць, залізничних переїздів тільки у зв'язку з дорожньо-транспортною при годою.
2. Застосовується для заборони руху транспортних засобів тільки у зв'язку з аварією, проявом стихійного лиха або іншою небезпекою для руху.
3. Застосовується для заборони руху транспортних засобів тільки у зв'язку з падінням каміння, сильним снігопадом, повінню.
4. Застосовується у відповідях 1, 2, 3.

Дод. 1: 3.43

8 Що означає зелений сигнал світлофора у формі стрілки, направленої вниз?

1. Рух дозволено без обгону.
2. Рух дозволено тільки прямо.
3. Рух дозволено тільки по одній смузі.
4. Рух дозволено по реверсивній смузі, над якою цей сигнал розташований.

8.7.4

9 Коли має бути подано попереджувальний сигнал перед перестроюванням у населеному пункті?

1. За 150—200 м до початку виконання маневру.
2. Завчасно до початку виконання маневру, але не менш ніж за 50—100 м.
3. Безпосередньо перед початком виконання маневру.
4. Одразу після початку виконання маневру.

9.4

10 В яких з перелічених місць забороняється зупинка транспортних засобів?

1. Ближче 100 м перед залізничним переїздом.
2. Ближче 10 м від позначеного місця виконання дорожніх робіт і в зоні їх виконання, де це створить перешкоди технологічним транспортним засобам, що працюють.
3. У місцях, перелічених у відповідях 1 і 2.

15.9 «Є»

11 Де можуть перебувати пасажирів при буксируванні автомобілів способом часткового навантаження?

1. У кабіні буксируючого автомобіля.
2. У кабіні буксированого автомобіля.
3. У кабінах обох автомобілів.
4. У кузові буксируючого автомобіля.

23.9

12 Чи дозволяється рух заднім ходом на ділянках доріг, позначених даним дорожнім знаком?



1. Забороняється.
2. Дозволяється за відсутності інших транспортних засобів.
3. Дозволяється в будь-якому випадку з дотриманням запобіжних заходів.


27.2 «Г»

13 Який водій порушив вимоги Правил дорожнього руху?

1. Водій, котрий перетнув суцільну вузьку лінію розмітки, яка позначає край проїзної частини дороги, суміжний з узбіччям.
2. Водій, який рухався в житловій зоні зі швидкістю 30 км/год.
3. Обидва порушили.
4. Ніхто не порушив.

12.5;
дод. 2: 1.1


14 Даним розпізнавальним знаком позначається транспортний засіб:



1. Той, що перевозить людей у кузові-фургоні.
2. Той, що перевозить великогабові і великогабаритні вантажі.
3. Той, довжина якого з вантажем або без вантажу перевищує 22 м, а також автопоїзди з двома і більше причепами.

30.3 «Г»


15 На якій відстані від залізничних переїздів забороняється стоянка транспортних засобів?



1. На відстані не більше ніж 100 м.
2. На відстані не менше ніж 100 м.
3. Ближче ніж 50 м від залізничних переїздів.

15.10 «Г»


16 Перевагу в русі має:



1. Водій автобуса, який в'їжджає на перехрестя по головній дорозі.
2. Водій легкового автомобіля, який завершує розворот на перехресті.
3. Водій автобуса, який в'їжджає на перехрестя при дозволяючому сигналі світлофора.

16.5

17 Чи дозволяється водію туристського автобуса заїжджати на смугу «А» в даній ситуації для повороту праворуч?



1. Забороняється.
2. Дозволяється.

17.2

18 Забороняється експлуатація транспортних засобів згідно з законодавством за наявності наступних технічних несправностей і умов: Дайте повну відповідь.

1. Не працюють склоочисники.
2. Відсутні підголовники, де їх установлення передбачено конструкцією.
3. Не горить лампа лівої фари в режимі ближнього світла.
4. За всіх перелічених несправностей та умов.

31.4.3 «В»;
31.4.4 «А»;
31.4.7 «Ж»

19 За яких з перелічених умов забороняється експлуатація транспортних засобів? Дайте повну відповідь.

1. На одну вісь транспортного засобу встановлено шини ошиповані і неошиповані.
2. Не працює запор горловини паливного бака.
3. За умов, зазначених у відповідях 1 і 2.

31.4.5 «Г»;
31.4.7 «Г»

20 Що повинен виконати водій негайно в разі вимушеної зупинки транспортного засобу на залізничному переїзді?

1. Подавати сигнал загальної тривоги — серії з одного довгого і трьох коротких звукових сигналів.
2. Висадити людей і вжити заходів для звільнення переїзду.
3. Бігти назустріч поїзду, подаючи сигнал зупинки, — круговий рух руки.
4. Виконати дії, зазначені у відповідях 1, 2 і 3.

20.8

1 Чи дозволяється установка на транспортних засобах спеціальних звукових сигналів?

1. Дозволяється, якщо звук не різкий.
2. Дозволяється за узгодженням з ДАІ МВС.
3. Дозволяється, якщо вони використовуються тільки при виконанні невідкладного службового завдання.


32.1 «Е»

2 Який документ, крім реєстраційного, підтверджує право водія керувати даним транспортним засобом, якщо в автомобілі відсутній його власник?

1. Тільки доручення, видане власником.
2. Реєстраційний документ на транспортний засіб. Другий документ не потрібен.
3. Свідоцтво на право спільної власності.

2.1 «Б»

3 Даний дорожній знак попереджає, що:



1. Попереду залізничний переїзд. До нього залишилося 50-100 м.
2. Попереду залізничний переїзд. До нього залишилося 150-300 м.
3. Попереду залізничний переїзд з трьома коліями.
4. Попереду залізничний переїзд з однією колією.
5. Інформація, закладена у відповідях 2 і 3.


Дод. 1: 1.31.1

4 Який дорожній знак дозволяє поворот ліворуч?



Дод. 1: 3.24


5 У якому напрямку дозволено рух?



1. А і Б.
2. А.
3. Б.

Дод. 1: 1.4.2


6 Де наноситься суцільна жовта лінія дорожньої розмітки, що позначає місця, де заборонено зупинку? Дайте повну відповідь.



1. На проїзній частині.
2. Біля краю проїзної частини.
3. По верху бордюру тротуару.
4. Біля краю проїзної частини або по верху бордюру тротуару.

Дод. 2: 1.4

7 Даний дорожній знак:



1. Установлюється на всіх дорогах перед перехрещенням рівних за значенням доріг.
2. Установлюється перед перехрещенням головної дороги з другорядною.
3. Установлюється перед перехрещенням, на якому водій зобов'язаний дати дорогу усім транспортним засобам, що рухаються по перехрещуваній дорозі.

Дод. 1: 1.21

8 Червоний автомобіль проїде перехрестя:



1. Другим.
2. Першим.

8.3; 16.6

9 Чи дозволяється користуватися дальнім світлом фар як попереджувальним сигналом під час обгону?

1. Забороняється.
2. Дозволяється на дорогах поза населеними пунктами.
3. Дозволяється, якщо це не може спричинити засліплення інших водіїв, у тому числі й через дзеркало заднього виду.
4. Дозволяється в будь-якому випадку.

9.6; 9.7

10 На автомагістралі заборонено:

1. Тільки зупинку поза спеціальними майданчиками для стоянки, позначеними знаком «Місце для стоянки» або «Місце відпочинку».
2. Тільки розворот і в'їзд у технологічні розриви розділювальної смуги.
3. Тільки рух заднім ходом.
4. Усі перелічені дії.

27.2

11 Чи дозволяється буксирування більше одного транспортного засобу?

1. Дозволяється будь-яким способом, якщо за кермом буксированого транспортного засобу перебуває водій.
2. Забороняється.
3. Дозволяється тільки на жорсткому зчепленні.

23.10 «Г»

12 Якщо на транспортному засобі встановлено розпізнавальний знак «Обмеження максимальної швидкості», то водію цього транспортного засобу:

1. Забороняється перевищувати вказану на знакові швидкість.
2. Дозволяється перевищувати вказану на знакові швидкість тільки на ділянках доріг, де швидкість руху підвищена встановленням відповідного дорожнього знака.
3. Дозволяється перевищувати вказану на знакові швидкість, якщо рух здійснюється на автомагістралях.


12.9 «Б»

13 Якими смугами дозволено рух легкових автомобілів і мотоциклів у населених пунктах при інтенсивному русі на чотирисмуговій проїзній частині в одному напрямку?

1. Тільки крайньою правою смугою.
2. Будь-якими смугами.
3. Будь-якою смугою, крім крайньої лівої смуги.

11.6

14 Біла переривчаста лінія поділяє транспортні потоки протилежних напрямків. На даній ділянці дороги обгін:



1. Дозволено тільки поза населеним пунктом.
2. Дозволено.
3. Заборонено.


14.6 «Е»;
дод. 2: 1.5

15 У яких місцях Правила дорожнього руху забороняють зупинку транспортних засобів?

1. На залізничних переїздах, у тунелях і під естакадами, мостами і шляхопроводами.
2. Поза населеними пунктами ближче 100 м від залізничних переїздів.
3. У місцях виїзду із дворів і ближче ніж 15 м від них.
4. У всіх перелічених місцях.

15.9 «А», «В»

16 Водії яких транспортних засобів проїдуть перехрестя першими?



1. Водій трамвая.
2. Водії автомобіля й автобуса.

16.9

17 У населеному пункті водій автобуса, мікроавтобуса або тролейбуса починає рух від позначеної зупинки, що розташована у заїзному «кармані». Він повинен:

1. Дати дорогу транспортному засобу, що об'їжджає його.
2. Вжити заходів для запобігання дорожньо-транспортній пригоді.
3. Використовуючи перевагу, почати рух у наміченому напрямку.

17.5

18 За яких умов забороняється експлуатація механічних транспортних засобів?

1. Тих, що не пройшли обов'язковий державний технічний контроль (для тих транспортних засобів, що підлягають такому контролю).
2. Перебої в роботі двигуна.
3. Шум у коробці передач.
4. За умов, перелічених у відповідях 1, 2, 3.

31.3 «Б»


19 Даний дорожній знак називається:



1. «Зміна напрямку руху на дорозі з розділювальною смугою».
2. «Попередній показник в'їзду на смугу зустрічного руху».
3. «Попередній показник об'їзду перешкоди».

Дод. 1: 5.24.1

20 Якщо шлагбаум на залізничному переїзді почав опускатися, то водій нереєстрового транспортного засобу повинен:



1. Проїхати переїзд, якщо шлагбаум ще високо і можна під ним проїхати.
2. Проїхати переїзд, якщо не видно поїзда, що наближається.
3. Зупинитися. Рух через переїзд забороняється.

20.5 «Б»

1 Що називається «гальмовим шляхом»?

1. Відстань, пройдена транспортним засобом з моменту виявлення водієм небезпеки до повної зупинки.
2. Відстань, яку проходить транспортний засіб під час екстреного гальмування з початку впливу на механізм керування гальмовою системою (педаль, рукоятку) до місця його зупинки.

ОБР; 1.10

2 Чи дозволяється водію звичайного транспортного засобу користуватися мобільним телефоном під час руху?

1. Дозволяється будь-яким способом при виконанні невідкладного службового завдання.
2. Дозволяється в усіх випадках.
3. Дозволяється, не тримаючи його в руці.
4. Забороняється в усіх випадках.

2.9 «Д»

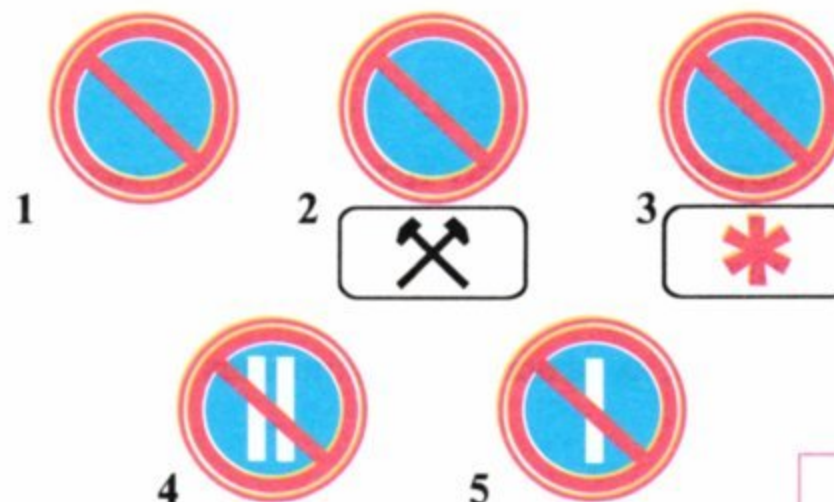
3 Якщо висота автомобіля (з вантажем чи без нього) більша ніж зазначена на даному дорожньому знакові, водій повинен:



1. Отримати дозвіл на проїзд у найближчого працівника ДАІ.
2. Об'їхати ділянку дороги іншим маршрутом.
3. Мати дозвіл на проїзд від керівника автопідприємства.


Дод. 1: 3.18

4 Який дорожній знак забороняє стоянку тільки в парні числа місяця?



Дод. 1: 3.37

5 На даний сигнал регулювальника водієві легкового автомобіля дозволяється рух:



1. Прямо, ліворуч, на розворот.
2. Тільки прямо.
3. Тільки праворуч.
4. У всіх напрямках.

Дод. 1: 3.22;
8.8 «Б»

6 За яких умов велосипедисти зобов'язані дати дорогу іншим транспортним засобам? Дайте повну відповідь.

1. Якщо велосипедна доріжка, по якій вони рухаються, перетинає дорогу поза перехрестям.
2. При наближенні транспортного засобу, що рухається справа на нерегульованому рівнозначному перехресті.
3. При виникненні умов, зазначених у відповідях 1 і 2.

6.5;
6.7

7 Розворот дозволяється:

1. На ділянці дороги, перед якою встановлено дорожній знак «Поворот ліворуч заборонено».
2. На ділянці дороги, перед якою встановлено дорожній знак «Дорога зі смугою для руху маршрутних транспортних засобів».
3. На ділянках доріг, зазначених у відповідях 1 і 2.

Дод. 1: 3.23,
5.8

8 Під час руху в колоні:

1. Водії всіх транспортних засобів повинні домовитися між собою про дистанцію руху.
2. На кожному транспортному засобі вмикається дальнє світло фар.
3. Колона, що рухається без супроводження оперативними транспортними засобами, повинна бути розділена на групи не більш ніж по п'ять транспортних засобів у кожній, дистанція між якими повинна забезпечити можливість обгону групи іншими транспортними засобами.
4. Водії всіх транспортних засобів повинні домовитися між собою про швидкість руху.
5. Виконати всі вищезазначені дії.

25.4

9 Чи завжди водій повинен подавати сигнали світловими покажчиками поворотів при зміні напрямку свого руху?

1. Повинен завжди. Сигнал забороняється подавати, якщо він може бути незрозумілим для інших учасників руху.
2. Сигнал дозволяється не подавати, якщо відсутні інші учасники дорожнього руху.
3. Обов'язково повинен подавати сигнали тільки в умовах недостатньої видимості, в сутінки і в темну пору доби.

9.2; 9.4

10 При якій мінімальній видимості дороги вперед дозволяється розворот? (Видимість назад не обмежена).



1. 250 м.
2. 200 м.
3. 150 м.
4. 100 м.
5. 50 м.

10.7 «Г»

11 В яких з перелічених випадків дозволяється виїзд на смугу зустрічного руху на дорозі з двостороннім рухом, яка має по одній смузі для руху в кожному напрямку?

1. В населених пунктах для зупинки або для стоянки біля лівого краю проїзної частини в дозволених випадках.
2. Поза населеними пунктами, якщо на дорозі відсутні спеціально відведені місця для довготривалої стоянки.
3. У випадках, зазначених у відповідях 1 і 2.

11.3

12 Чи дозволяється водію вантажного автомобіля з дозволеною максимальною масою понад 3,5 т рух зі швидкістю більше 90 км/год?

1. Дозволяється при русі по дорогах для автомобілів, автомагістралях і на ділянках доріг, позначених дорожнім знаком «Обмеження максимальної швидкості».
2. Дозволяється, якщо автомобіль завантажений до половини своєї вантажопідйомності.
3. Забороняється в будь-якому випадку.

12.6 «Г»;
12.8

13 Як повинен поводитися водій транспортного засобу, якщо він рухається по дорозі з двостороннім рухом і на його смузі є перешкода?

1. Дати дорогу зустрічному транспортному засобу, якщо роз'їзд утруднений.
2. Увімкнути ближнє світло фар і проїхати вузьке місце першим.
3. Зробити так, як зазначено у відповідях 1 або 2.

13.4

14 Чи дозволяється здійснити обгін у даній обстановці?



1. Дозволяється.
2. Дозволяється, якщо транспортний засіб, який обганяють, рухається зі швидкістю менш як 30 км/год.
3. Дозволяється, якщо транспортний засіб, який обганяють, рухається зі швидкістю менш як 10 км/год.
4. Забороняється.

14.6 «Е»;
дод. 2: 1.3

15 Якщо дорога має бульвар або розділювальну смугу, то зупинка і стоянка транспортних засобів біля них:

1. Забороняються.
2. Забороняються. Дозволяються, як виняток, з 21.00.
3. Дозволяються тільки в робочі дні тижня.
4. Дозволяються тільки в недільні та святкові дні.

15.3

16 Чи дозволяється рух водію легкового автомобіля?



1. Забороняється.
2. Дозволяється.
3. Дозволяється після проїзду трамвая.

16.9

17 Чи зміщується причіп автопоїзда при русі на повороті?

1. Зміщується від центра повороту.
2. Зміщується до центра повороту.
3. Не зміщується.

ОБР

18 В яких з перелічених випадків забороняється експлуатація транспортних засобів згідно з законодавством?

1. У випадку обладнання їх без дозволу ДАІ спеціальними звуковими і світловими сигналами.
2. У випадку, якщо стоянкова гальмова система забезпечує нерухомий стан легкового автомобіля у спорядженому стані на схилі 25%.
3. У випадках, зазначених у відповідях 1 і 2.

31.3 «Г»

19 Чи дозволяється на легковому автомобілі рухатися з увімкненими тільки габаритними ліхтарями в темну пору доби?

1. Забороняється. Дозволяється тільки з увімкненими фарами ближнього (дальнього) світла.
2. Дозволяється.
3. Дозволяється на добре освітлених вулицях.

19.1

20 Транспортні засоби проїдуть перехрестя в наступному порядку:



1. Мотоцикл, синій автомобіль, червоний автомобіль.
2. Синій автомобіль, мотоцикл, червоний автомобіль.
3. Синій автомобіль, червоний автомобіль, мотоцикл.

16.11; 16.13

1 Якщо водій транспортного засобу, що рухається попереду, увімкнув покажчик повороту з лівого боку, то його:

1. Можна обігнати, подавши короткочасовий звуковий сигнал.
2. Можна випередити праворуч, якщо це безпечно.
3. Обганяти та випереджати заборонено.


1.10; ОБР

2 Чи дозволяється особі, яка навчає водінню не пристібатися ременями безпеки?

1. Дозволяється в будь-якому випадку.
2. Дозволяється, якщо за кермом перебуває учень.
3. Забороняється.

2.3 «В»

3 Якщо перед нерегульованим залізничним переїздом встановлено даний дорожній знак, то водій повинен:



1. Зупинитися перед переїздом і заглушити двигун.
2. Пригальмувати, озирнутися і, впевнившись у відсутності поїзда, продовжити рух без зупинки.
3. Зупинитися перед розміткою «стоп-лінія», а якщо вона відсутня, — перед знаком, впевнитися у тому, що не наближається поїзд, і лише після цього продовжити рух.

20.2; 20.3; дод. 1: 2.2

4 Дія якого з даних дорожніх знаків не поширюється на транспортні засоби, які рухаються за встановленими маршрутами?








- 1
- 2
- 3
- 4
- 5

Дод. 1: 3.34


5 Водій наближається до ділянки гірської дороги, перед якою встановлено даний дорожній знак. Чи забороняється на даному підйомі буксирування під час ожеледиці?



1. Забороняється у будь-якому випадку.
2. Забороняється буксирування на гнучкому зчепленні.
3. Дозволяється буксирування в будь-якому випадку при дотриманні підвищених заходів обережності.

Дод. 1: 1.6; 28.3 «В»

6 Що позначає дана дорожня розмітка?



1. Позначає смугу для руху маршрутних транспортних засобів.
2. Позначає межі смуг руху, на яких здійснюється реверсивне регулювання.
3. Позначає смугу для руху автомобілів спеціального призначення.
4. Інформація, закладена у відповідях 1 і 3.

Дод. 2: 1.9

7 Чи дозволяється водію автобуса обганяти інші транспортні засоби в зоні дії даного дорожнього знака?



1. Дозволяється лише за умови, що транспортний засіб, який обганяють, рухається зі швидкістю меншою ніж 30 км/год.
2. Забороняється.
3. Дозволяється в усіх випадках з дотриманням правил обгону.

Дод. 1: 3.27

8 У якому випадку водій мотоцикла повернув ліворуч правильно?



1. При даному жесті регулювальника повернув ліворуч без зупинки.
2. Виїхав на перехрестя, пропустив вантажний автомобіль, закінчив поворот.

8.8 «Б»

9 Яку максимальну кількість пасажирів дозволяється перевозити у транспортному засобі?

1. У легковому автомобілі — до 4 чоловік, а у вантажному — до 20 чоловік.
2. У легковому і вантажному автомобілях — у тій кількості, яка передбачена технічною характеристикою транспортного засобу.
3. Кількість пасажирів повинна відповідати технічному стану транспортного засобу.

21.1

10 Водії яких транспортних засобів порушують Правила дорожнього руху?



1. Водії навчального автомобіля, трактора і легкового автомобіля.
2. Тільки водії навчального автомобіля і трактора.
3. Тільки водії легкового автомобіля.
4. Водії всіх транспортних засобів.

27.2 «А», «Г», «Д»; 24.9

11 Чи дозволяється експлуатація состава транспортних засобів, що складається з автобуса і причепа?

1. Дозволяється, якщо вантажопідйомність причепа не перевищує 1000 кг.
2. Забороняється.
3. Дозволяється, за умови відповідності причепа тягачу та виконання вимог щодо їх експлуатації та наявності причепного пристрою, встановленого заводом-виробником.

23.11

12 Що заборонено в житловій зоні населеного пункту?

1. Зупинка транспортного засобу.
2. Рух зі швидкістю більш як 20 км/год.
3. Усі вищезазначені дії.

12.5

13 Чи дозволяється водію транспортного засобу виїхати на трамвайну колію зустрічного напрямку?

1. Дозволяється тільки водію легкового автомобіля.
2. Дозволяється водіям усіх транспортних засобів, якщо попереду по ходу руху утворився затор.
3. Забороняється у всіх випадках.

11.9

14 Дайте повну відповідь. Відповідно до Правил дорожнього руху розпізнавальний знак «Автопоїзд» встановлюється :

1. На вантажних автомобілях з причепами.
2. На колісних тракторах класу 1,4 т. і вище з причепом.
3. На зчленованих автобусах і тролейбусах.
4. На транспортних засобах, вказаних у відповідях 1 та 2.
5. На транспортних засобах, вказаних у відповідях 1,2,3.


30.3 «А»

15 Де на перелічених ділянках доріг забороняється зупинка транспортних засобів?

1. На підйомах і спусках.
2. У місцях, де транспортний засіб закриє від інших водіїв сигнали світлофора або дорожні знаки.
3. У місцях з інтенсивним рухом транспортних засобів і пішоходів.
4. В усіх перелічених місцях.

15.9 «3»

16 До нерегульованого перехрестя наближаються водій автомобіля, перед яким встановлено дорожній знак «Дати дорогу», і водій велосипеда. Хто має перевагу?



1. Водій автомобіля.
2. Водій велосипеда.

16.11

17 Чи дозволяється стоянка транспортних засобів на правій смозі дороги, відокремленій суцільною жовтою лінією розмітки й позначеній дорожнім знаком «Смуга для руху маршрутних транспортних засобів»?

1. Дозволяється тільки автомобілям, що обслуговують підприємства, що знаходяться в цій зоні, або належать громадянам, які мешкають у найближчих будинках.
2. Дозволяється, якщо немає знака, що забороняє стоянку.
3. Забороняється.

17.1

18 Чи дозволяється прямувати до місця стоянки або ремонту у темну пору доби, а також в умовах недостатньої видимості коли не горять задні габаритні ліхтарі?

1. Дозволяється з особливою обережністю.
2. Забороняється.
3. Дозволяється тільки на дорогах зі штучним освітленням.

31.6 «Б»


19 На гірських дорогах заборонені:



1. Тільки буксирування на гнучкому зчепленні.
2. Тільки будь-яке буксирування під час ожеледиці.
3. Дії, зазначені у відповідях 1 і 2.

28.3 «Б», «В»

20 Синій автомобіль проїде перехрестя:



1. Останнім.
2. Четвертим.
3. Третім.
4. Другим.
5. Першим.

16.11; 16.13

1 Які з перелічених питань, згідно з вимогами Правил дорожнього руху, слід погоджувати в Державтоінспекції?

1. Тільки переобладнання транспортного засобу.
2. Тільки нанесення білих смуг під нахилом на зовнішніх бокових поверхнях транспортних засобів.
3. У всіх випадках, які перелічені вище.

32.1 «Д,Е,Є»

2 З якого віку надається право на керування автомобілями усіх типів(категорії В1,В,С1,С) (за винятком автобусів,трамваїв і тролейбусів)?

1. З 20-річного віку.
2. З 19-річного віку.
3. З 18-річного віку.

2.13

3 Даний дорожній знак забороняє рух:



1. Усіх транспортних засобів.
2. Усіх механічних транспортних засобів, за винятком маршрутних транспортних засобів, тих що обслуговують підприємства, які знаходяться в позначеній зоні, а також обслуговують громадян чи належать громадянам, які проживають або працюють у позначеній зоні.

Дод. 1: 3.2

4 Який з даних дорожніх знаків інформує про місце розташування пункту для миття автомобілів?



Дод. 1: 6.6

5 Транзитний рух прямо дозволено:



1. Тільки водіям автомобіля й автобуса.
2. Тільки водіям автомобіля й мотоцикла.
3. Тільки водієві автомобіля.
4. Водіям усіх транспортних засобів.

Дод. 1: 4.11


6 Що позначає дана дорожня розмітка?



1. Позначає смугу, призначену тільки для руху маршрутних транспортних засобів.
2. Позначає смугу, призначену тільки для руху тролейбусів.
3. Позначає смугу, призначену тільки для руху автобусів.

Дод. 2: 1.24

7 При даному дорожньому знаку:



1. Забороняється стоянка транспортних засобів у два ряди.
2. Забороняється зупинка і стоянка транспортних засобів.
3. Забороняється стоянка транспортних засобів у парні числа місяця.

Дод. 1: 3.37

8 Яким транспортним засобам дозволено рух?



1. Зеленому, синьому й червоному автомобілям. Червоний повинен дати можливість пішоходам закінчити перехід.
2. Червоному, жовтому й зеленому автомобілям.
3. Зеленому, синьому й чорному автомобілям.

8.8 «Б»; 18.2

9 На якому малюнку водій подає сигнал попередження про поворот ліворуч?



9.3

10 Чи дозволяється рух заднім ходом на дорогах з одностороннім рухом?

1. Дозволяється тільки з метою завантаження чи розвантаження вантажу.
2. Дозволяється за умови, що водій не створює небезпеки чи перешкод іншим учасникам дорожнього руху, і при неможливості під'їхати до об'єкта іншим способом.
3. Забороняється.

10.9; 10.10

11 Чи дозволяється пішоходам рухатися в житловій зоні по проїзній частині?



1. Дозволяється тільки по тротуарах.
2. Дозволяється як по тротуарах, так і по проїзній частині.

26.1

12 Як повинен учинити водій, якщо в умовах недостатньої видимості на проїзній частині раптово з'явилися тварини?

1. Продовжити рух з підвищеною увагою.
2. Увімкнути звуковий сигнал, зменшити швидкість і об'їхати тварин.
3. Негайно вжити заходів для зменшення швидкості і зупинити транспортний засіб у межах видимості дороги.


12.2; 12.3

13 З яким автомобілем дозволяється експлуатація причепа?

1. З будь-яким автомобілем, що має зчіпний прилад.
2. За умови відповідності причепа автомобілю і виконання вимог щодо їх експлуатації.
3. З автомобілем, вантажопідйомність якого відповідає вантажопідйомності причепа.

23.11

14 Чи дозволяється водію синього автомобіля розпочати обгін у даній ситуації?



1. Забороняється.
2. Дозволяється.

14.2 «А»

15 У яких місцях дозволяється ставити транспортний засіб під кутом до краю проїзної частини?

1. Тільки на дорогах з одностороннім рухом.
2. Там, де це не перешкоджатиме рухові інших транспортних засобів.
3. Тільки на дорогах з двома смугами руху.
4. Тільки на дорогах з трьома смугами руху і більше.
5. В усіх перелічених місцях.

15.5

16 Автомобілі проїдуть перехрестя в наступному порядку:



1. Синій, червоний, зелений.
2. Синій, зелений, червоний.
3. Червоний, зелений, синій.
4. Червоний, синій, зелений.


16.11; 16.14

17 У якому випадку збільшується відцентрова сила, що діє на автомобіль на поворотах дороги?

1. Із збільшенням швидкості руху.
2. Із зменшенням швидкості руху.
3. Із збільшенням радіуса повороту.

ОБР

18 Наближаючись до автобуса з розпізнавальним знаком «Діти», що зупинився з увімкненою аварійною світловою сигналізацією, водій легкового автомобіля повинен:



1. Не збільшуючи швидкості руху, об'їхати автобус, чекаючи можливості несподіваного виникнення дітей із за передньої частини автобуса.
2. Зменшити швидкість, а при необхідності зупинитися, щоб уникнути наїзду на дітей.

3. В залежності від реальної обстановки, зробити так, як вказано у відповідях 1 або 2.


18.9

19 Чи дозволяється користуватися дальнім світлом фар на дорогах в населених пунктах?

1. Забороняється.
2. Дозволяється тільки на слабо освітлених ділянках доріг.
3. Забороняється тільки на дорогах з інтенсивним рухом.
4. Дозволяється.

19.1

20 Автомобілі проїдуть перехрестя у наступному порядку:



1. Синій, зелений, червоний, жовтий.
2. Синій, червоний, зелений, жовтий.
3. Червоний, синій, жовтий, зелений.

16.11; 16.13

1 Хто з перелічених осіб обов'язково повинен знати і чітко виконувати Правила дорожнього руху?

1. Тільки водії всіх транспортних засобів.
2. Тільки водії і пішоходи.
3. Усі, без винятку, учасники дорожнього руху.
4. Тільки особи, зазначені у відповідях 1 і 2.

1.3; 1.10


2 Водій якого транспортного засобу повинен дати дорогу?



1. Водій легкового автомобіля.
2. Водій автомобіля швидкої допомоги.

3.2


3 Даний дорожній знак попереджає, що:



1. Попереду ділянка дороги, на якій часто виникають дорожньо-транспортні пригоди.
2. Попереду ділянка дороги, на якій буде заборонено обгін.
3. Попереду ділянка дороги, на якій слід зменшити швидкість руху, бо починається жила зона.
4. Попереду вузька ділянка дороги, на якій зустрічний роз'їзд утруднений.
5. Інформація, закладена у відповідях 3 і 4.

Дод. 1: 1.39


4 Чи розрізняються між собою вимоги даних дорожніх знаків?

1. Розрізняються тим, що в зоні дії знака А дозволяється виконати розворот для руху у зворотному напрямку, а на дорогах, позначених знаком Б, розворот заборонено.
2. Розрізняються тим, що при знакові А дозволено рух тільки прямо, а також поворот праворуч у двори й на інші прилеглі до дороги території, тоді як при знакові Б повороти в зазначені місця дозволені праворуч і ліворуч.
3. Не розрізняються, бо в зоні дії обох знаків дозволяється рух прямо, а також повороти ліворуч і праворуч у будь-який проїзд.

Дод. 1: 4.1, 5.5

5 Даний дорожній знак:



1. Забороняє рух транспортних засобів, що перевозять небезпечні вантажі.
2. Забороняє рух транспортних засобів, що перевозять вибухівку.
3. Забороняє рух транспортних засобів, що перевозять речовини, які забруднюють воду.

Дод. 1: 3.13

6 Чи дозволяється буксирування велосипедів?

1. Забороняється.
2. Дозволяється.
3. Дозволяється тільки у світлу пору доби на дорогах, що не мають твердого покриття.

6.7 «Е»

7 Суцільна жовта лінія горизонтальної розмітки в поєднанні з дорожнім знаком «Зупинку заборонено» дозволяє зупинку:

1. Автобусам і тролейбусам.
2. Автобусам, тролейбусам і автомобілям таксі.
3. Тільки маршрутним транспортним засобам і таксі, що здійснює посадку або висадку пасажирів.
4. Усім транспортним засобам, що здійснюють висадку пасажирів.

Дод. 1: 3.34; дод. 2: 1.4

8 Чи дозволяється виконати розворот при даному сигналі світлофора?



1. Забороняється.
2. Дозволяється.

8.7.3 «Б», «Е»

9 Чи дозволяється проїзд пасажирів у кузові вантажного автомобіля, не обладнаного для їх перевезення?

1. Забороняється.
2. Дозволяється на дорогах, які не належать до автомагістралей.
3. Дозволяється тільки особам, що супроводжують вантаж або їдуть для його отримання, за умови забезпечення їх обладнаними місцями для сидіння. Їх кількість у кабіні та кузові не повинна перевищувати восьми чоловік.

21.10

10 Яким шляхом із числа позначених стрілками Вам дозволяється виконати поворот ліворуч?



1. Будь-яким із зазначених шляхів.
2. Тільки шляхом А, бо це найкоротший шлях, і він скоротить час проїзду перехрестя.
3. Тільки шляхом Б, бо при виїзді Ви не опинитеся на смугі зустрічного руху.


10.5

11 Чи допускається рух транспортних засобів по тротуарах та пішохідних доріжках за відсутності інших під'їздів?

1. Допускається при обслуговуванні торговельних та інших підприємств, розташованих безпосередньо біля цих тротуарів або доріжок, за умови виконання вимог правил руху в житловій і пішохідній зоні.
2. Допускається для об'їзду іншого транспортного засобу, що стоїть біля тротуару.
3. Допускається, якщо це не ускладнить рух пішоходів.
4. Не допускається, бо це може поставити під загрозу безпеку пішоходів.

11.13

12 При встановленні якого з даних дорожніх знаків на позначеній ділянці дороги забороняється рух заднім ходом?



27.2 «Г»

13 Чи дозволяється буксирування мотоциклів з боковим причепом?

1. Дозволяється тільки на жорсткому зчепленні.
2. Забороняється.
3. Дозволяється.

23.10 «Г»

14 На механічних транспортних засобах, причепах, за винятком трамваїв і тролейбусів, за Правилами дорожнього руху, встановлюється:

1. Розпізнавальний та номерний знаки.
2. Розпізнавальний знак про належність транспортного засобу.
3. Номерний знак відповідного зразка.


30.2

15 Чи дозволяються зупинка і стоянка транспортних засобів поза населеними пунктами на лівому боці дороги, що має по одній смузі для руху в кожному напрямку і не розділена суцільною лінією розмітки?

1. Дозволяються зупинка і стоянка легкових автомобілів та мотоциклів.
2. Дозволяються тільки водіям-інвалідам, що керують мотоколяскою або автомобілем, позначеним розпізнавальним знаком «Інвалід».
3. Дозволяються у випадках, зазначених у відповідях 1 і 2.
4. Забороняються.
5. Забороняється стоянка. Дозволяється тільки зупинка.

15.3

16 Транспортні засоби проїдуть перехрестя в наступному порядку:



1. Трамвай, мотоцикл, автомобіль.
2. Трамвай, автомобіль, мотоцикл.
3. Мотоцикл, трамвай, автомобіль.

16.11; 16.14

17 Якщо Ви наближаєтеся до повороту дороги ліворуч і він виявився крутішим, ніж припускалося, Ви повинні:



1. Збільшити швидкість, щоб швидше подолати поворот.
2. Продовжити рух, не змінюючи швидкості і тримаючись лівого краю проїзної частини дороги.
3. Зменшити швидкість руху.

ОБР

18 Подальший рух транспортних засобів забороняється, якщо:

1. Не працюють у встановленому режимі або забруднені зовнішні світлові прилади або світлоповертачі.
2. Не діє склоочисник з боку розміщення керма під час дощу або снігопаду.
3. Не працюють передбачені конструкцією транспортного засобу склообмивачі.
4. В усіх перелічених випадках.

31.6


19 Чи дозволяється здійснити обгін водію вантажного автомобіля в зоні дії даного дорожнього знака?



1. Забороняється водієві вантажного автомобіля з дозволеною максимальною масою до 3,5 т.
2. Забороняється водієві вантажного автомобіля з дозволеною максимальною масою понад 3,5 т — крім поодиноких транспортних засобів, що рухаються зі швидкістю меншою ніж 30 км/год.
3. Забороняється в будь-якому випадку.

Дод. 1: 3.27

20 Другим проїде перехрестя:



1. Зелений автомобіль.
2. Синій автомобіль.
3. Жовтий автомобіль.
4. Червоний автомобіль.

16.11; 16.13

1 Для чого призначена смуга гальмування?

1. Ця смуга руху призначена для з'єднання автомагістралі зі звичайною дорогою.
2. Ця смуга призначена для руху тихохідних транспортних засобів.
3. Це перехідно-швидкісна смуга. При наявності смуги гальмування виконання повороту з інших смуг забороняється, а зменшувати швидкість дозволяється тільки на ній.


10.8

2 В якому з перелічених випадків Правила дорожнього руху зобов'язують водія вантажного автомобіля надати свій транспортний засіб у розпорядження працівника міліції?

1. Для транспортування пошкоджених транспортних засобів.
2. Для прямування до місця служби.
3. В будь-якому випадку.

2.7 «Б»

3 Якщо встановлено даний дорожній знак, то хто з водіїв має перевагу у русі?



1. Водій, перед яким даний дорожній знак встановлено.
2. Водій зустрічного транспортного засобу.
3. Водій транспортного засобу, що наближається праворуч.
4. Водій транспортного засобу, що рухається швидше.

Дод. 1: 2.5

4 Який із даних дорожніх знаків визначає одночасно кінець дії всіх заборон та обмежень, запроваджених заборонними дорожніми знаками?



Дод. 1: 3.42

5 Укажіть дозволені напрямки руху. (Напрямки А і В — в'їзди у двори).



1. Тільки А.
2. Тільки Б.
3. А і Б.
4. Б і В.
5. Тільки В.


Дод. 1: 4.1, 3.42

6 Яким учасникам дорожнього руху забороняється рухатися по автомагістралях і дорогах для автомобілів? Дайте повну відповідь.

1. Водіям тракторів, самохідних машин і механізмів.
2. Особам, які навчаються водінню автомобіля.
3. Велосипедистам.
4. Водіям транспортних засобів, зазначених у відповідях 1, 2, 3.
5. Тільки водіям транспортних засобів, зазначених у відповідях 1 і 3.

27.2 «А»;
6.6 «Б»;
24.9

7 Про що інформує даний дорожній знак?



1. Рух дозволено тільки прямо, повороти праворуч або ліворуч заборонені.
2. Зупинка і стоянка на ділянці дороги, позначеній знаком, заборонені.
3. Дорога або окрема проїзна частина, по якій рух транспортних засобів по всій ширині здійснюється тільки в одному напрямку.
4. Інформація, закладена у відповідях 1 і 3.

Дод. 1: 5.5

8 Яким транспортним засобам дозволяється рух?



1. Тільки автобусу і зеленому автомобілю.
2. Тільки автобусу.
3. Тільки зеленому автомобілю.
4. Автобусу, червоному і зеленому автомобілям.

8.8 «Б»

9 Яким чином слід позначити буксирований автомобіль під час буксирування?

1. У світлу пору доби — увімкненням габаритних ліхтарів, а в темну пору — увімкненням аварійної світлової сигналізації.
2. У будь-яку пору доби — увімкненням габаритних ліхтарів.
3. У будь-яку пору доби — увімкненням аварійної світлової сигналізації.


9.9 «Г»

10 Якщо транспортний засіб через габарити або з інших причин не може виконати поворот із крайнього положення, чи допускається здійснювати його з відступом від цього правила?

1. Допускається, якщо це не суперечить вимогам заборонних або наказових дорожніх знаків та дорожньої розмітки, не створить небезпеки чи перешкод іншим учасникам руху. У разі потреби для забезпечення безпеки руху слід звернутися за допомогою до інших осіб.
2. Допускається на дорогах поза населеними пунктами.
3. Не допускається.

10.6

11 Який з даних автомобілів правильно зупинився?



1. Легковий — в очікуванні на пасажирів.
2. Вантажний — з метою завантаження.
3. Обидва зупинилися неправильно.
4. Обидва зупинилися правильно.

11.6; 15.3

12 Чи дозволяється рух по автомагістралях транспортних засобів, швидкість яких за технічною характеристикою менша від 40 км/год?

1. Дозволяється за відсутності знака «Обмеження мінімальної швидкості».
2. Дозволяється тільки крайньою правою смугою.
3. Дозволяється у випадках, передбачених у відповідях 1 і 2.
4. Забороняється.

27.3

13 Які попереджувальні сигнали подаються всіма транспортними засобами в разі зупинки колони на дорозі?

1. Вмикається ближнє світло фар у світлу пору доби.
2. Вмикається ліхтар заднього ходу.
3. Вмикається аварійна світлова сигналізація.
4. Вмикається один із вищеперелічених сигналів.

25.5

14 Водій транспортного засобу, який обганяють, повинен:



1. Перестроїтися як можна ближче до правого краю проїзної частини і зменшити швидкість свого руху.
2. Не перешкоджати обгону підвищенням швидкості або іншими діями.
3. Виконати дії, зазначені у відповідях 1 і 2.


14.3

15 Де дозволяються зупинка і стоянка транспортних засобів поза населеними пунктами?

1. Тільки у спеціально відведених місцях.
2. Тільки на правому узбіччі за відсутності спеціально відведених місць.
3. Тільки на правому боці проїзної частини дороги, якомога правіше, щоб не перешкоджати рухові інших транспортних засобів, якщо немає правого узбіччя.
4. Тільки на лівому боці дороги, але з дотриманням заповіжних заходів.
5. У місцях, зазначених у відповідях 1, 2, 3.

15.1; 15.2

16 Автомобілі проїдуть перехрестя у наступному порядку:



1. Зелений, червоний, синій.
2. Синій, зелений, червоний.
3. Червоний, синій, зелений.

16.11; 16.13

17 З якою швидкістю дозволяється рух на легковому автомобілі по засніженій дорозі за умови, що на ньому встановлені «зимові» покриття?

1. 80 км/год поза населеним пунктом.
2. 30 км/год в населеному пункті.
3. Зі швидкістю, зазначеною у відповідях 1 і 2.
4. Зі швидкістю, яка забезпечує безпеку руху.

ОБР;
12.1

18 За яких з перелічених умов забороняється експлуатація транспортних засобів? Дайте повну відповідь.

1. Підтікає рідина з системи охолодження двигуна.
2. Вміст шкідливих речовин у відпрацьованих газах або їх димність перевищують установлені стандартами норми.
3. Не працює показник рівня палива.

31.4.6 «А»


19 У зоні дії даного дорожнього знака:



1. Обмежується тривалість стоянки транспортних засобів.
2. Забороняється стоянка транспортних засобів без оплати.
3. Забороняється зупинка транспортних засобів.

Дод. 1: 3.38

20 Синій автомобіль проїде перехрестя:



1. Першим.
2. Другим.

16.6; 8.3

1 Чи виділяється медичний працівник при перевезенні організованих груп дітей автобусом?

1. Виділяється обов'язково при одночасному перевезенні десяти і більше дітей.
2. Виділяється обов'язково при одночасному перевезенні тридцяти і більше дітей.
3. Не виділяється, оскільки є відповідальний керівник за супровід дітей.

1.10

2 Хто з учасників дорожнього руху порушує Правила?



1. Ніхто не порушує.
2. Порушують водії всіх транспортних засобів.
3. Порушує водій червоного легкового автомобіля і пішоходи.
4. Порушує водій вантажного автомобіля.

4.14 «Д»;
27.2 «Б»


3 Перед перехрестям, де встановлено даний дорожній знак, зупинилися один за одним два транспортних засоби. Як правильно повинен продовжити рух другий водій?



1. Після того, як продовжить рух перший водій, другий поїде слід за ним без зупинки.
2. Після того, як продовжить рух перший водій, другий поїде слід за ним, даючи дорогу транспортним засобам, що наближаються праворуч.
3. Після того, як продовжить рух перший водій, другий поїде слід за ним і зупиниться перед даним дорожнім знаком, а потім продовжить рух.

Дод. 1: 2.2

4 Даний дорожній знак з табличками позначає:



1. Місце стоянки в зоні 30 м для транспортних засобів, крім мотоциколясок.
2. Місце стоянки в зоні 30 м для мотоциколясок і автомобілів з розпізнавальним знаком «Інвалід».
3. Місце стоянки через 30 м для автомобілів з розпізнавальним знаком «Інвалід».

Дод. 1: 5.38,
7.2.1, 7.17

5 Чи дозволяється обігнати автобус на даній ділянці дороги?



1. Дозволяється у будь-якому випадку.
2. Забороняється.
3. Дозволяється тільки у тому випадку, якщо автобус рухається зі швидкістю менше ніж 30 км/год.

Дод. 1:
1.27, 1.31.4;
14.6 «Б»

6 Дана дорожня розмітка дозволяє:



1. Рух прямо і поворот ліворуч на дорогу, яка веде у тупик.
2. Рух на перехресті тільки прямо.
3. Рух прямо і поворот ліворуч у другий проїзд.

Дод. 2: 1.18

7 З якою максимальною швидкістю дозволяється рух вантажного автомобіля з дозволеною максимальною масою понад 3,5 т поза населеними пунктами на автомобільній дорозі з окремими проїзними частинами, відокремлені одна від іншої розділювальною смугою?

1. 130 км/год 2. 120 км/год 3. 110 км/год
 4. 100 км/год 5. 90 км/год

12.6 «Г»

8 Рух дозволено:



1. Усім транспортним засобам.
2. Трамваю, легковому автомобілю.
3. Легковому і вантажному автомобілям, мотоциклу.
4. Вантажному автомобілю і мотоциклу.

8.8 «А»

9 За яких перерахованих умов здійснюється перевезення автобусом або мікроавтобусом організованих груп дітей? Дайте повну відповідь.

1. Якщо попереду і позаду автобуса (мікроавтобуса) встановлені розпізнавальні знаки «Діти».
2. Якщо на групу з тридцяти і більше дітей, що одночасно перевозяться, є медичний працівник.
3. При виконанні умов, вказаних у відповідях 1 і 2.

1.10, 21.3

10 Виїжджаючи на дорогу зі смуги розгону на легковому автомобілі, Ви:



1. Маєте перевагу перед вантажним автомобілем.
2. Зобов'язані рухатися по смузі розгону, влитися у транспортний потік, даючи дорогу вантажному автомобілю.

10.8

11 Чи дозволяється буксирування на гнучкому зчепленні транспортного засобу з несправним робочим гальмом?

1. Забороняється.
2. Дозволяється зі швидкістю до 15 км/год, якщо справні стоянкові гальма.
3. Дозволяється зі швидкістю до 30 км/год.

23.4

12 Яких заходів, за Правилами дорожнього руху, повинен ужити водій при виникненні перешкоди або небезпеки для руху, які він об'єктивно спроможний виявити? Дайте повну відповідь.

1. Повідомити про те, що сталося, міліцію.
2. Прибути до найближчого поста ДАІ або до органу міліції й повідомити про перешкоду чи небезпеку, які виникли.
3. негайно вжити заходів для зменшення швидкості аж до зупинки транспортного засобу або безпечного для інших учасників руху об'їзду перешкоди.
4. Зменшити швидкість і проїхати небезпечну ділянку, дотримуючись заходів безпеки.

12.3

13 Водій повинен дотримуватись безпечної дистанції: Дайте повну відповідь.

1. Залежно від швидкості руху та дорожньої обстановки.
2. Під час стоянки на майданчику, позначеному дорожнім знаком «Місце відпочинку».
3. Залежно від особливості вантажу, що перевозиться, та стану транспортного засобу.
4. Залежно від умов, перелічених у відповідях 1 та 3.


13.1

14 Чи дозволяється обігнати транспортний засіб, який перед перехрестям почав зменшувати швидкість?

1. Дозволяється, якщо відсутні пішоходи, які переходять проїзну частину.
2. Дозволяється, якщо дозволяє оглядовість перехрестя.
3. Забороняється.

14.6 «А»; 18.4

15 На дорозі, яка має по одній смузі руху в кожному напрямку, є суцільна осьова лінія дорожньої розмітки. Чи дозволяється зупинка або стоянка у даному місці?



1. Забороняється.
2. Забороняється, якщо між транспортним засобом, який зупинився, і суцільною лінією менше трьох метрів.
3. Забороняється водіям усіх транспортних засобів, крім маршрутних.

15.9 «Д»

16 Водій якого транспортного засобу проїде перехрестя другим?



1. Водій автомобіля.
2. Водій мотоцикла.

16.11; 16.14

17 Зменшення гальмового шляху задньоприводного автомобіля досягається:

1. Гальмуванням шляхом блокування коліс.
2. Переривчастим гальмуванням з вимкненням зчеплення.
3. Переривчастим гальмуванням без вимкнення зчеплення.

ОБР

18 За яких із перелічених умов забороняється експлуатація транспортних засобів? Дайте повну відповідь.

1. На передній осі автобуса, який виконує внутрішньоміські перевезення, встановлено шини, що відновлені по першому класу ремонту.
2. Не замикається важіль (рукоятка) стоянкової гальмової системи у робочому положенні.
3. За умов, зазначених у відповідях 1 і 2.

31.4.1 «Е»
31.4.5 «Е»

19 В яких з перелічених випадків дозволяється використовувати задні протитуманні ліхтарі?

1. В умовах недостатньої видимості виключно у темну пору доби.
2. В умовах недостатньої видимості виключно у світлу пору доби.
3. В умовах, зазначених у відповідях 1 і 2.
4. В умовах, зазначених у відповідях 1 і 2, а також на транспортному засобі під час його буксирування.

19.9

20 Які з перелічених дій повинен виконати водій транспортного засобу, під'їжджаючи до регульованого залізничного переїзду? Дайте повну відповідь.

1. Пригальмувати і бути готовим до зупинки.
2. обов'язково збільшити швидкість, щоб проїхати переїзд швидше.
3. Керуватися тільки вказівками і сигналами чергового по переїзду.
4. Виконати дії, зазначені у відповідях 1 і 3.

20.2

1 За визначенням Правил дорожнього руху, «розділювальна смуга» — це:

1. Декоративні будівлі, розташовані уздовж дороги.
2. Виділений конструктивно, або за допомогою суцільних ліній дорожньої розмітки елемент автодороги, який розділяє суміжні проїзні частини і не призначений для руху або стоянки транспортних засобів.
3. Ділянка дороги, озеленена травою або квітами, яка розділяє дорогу по довжині, призначена для руху пішоходів.

1.10

2 Як повинен учинити водій транспортного засобу, якщо він наближається до нерухомого транспортного засобу на проїзній частині з увімкненим проблісковим маячком синього кольору?

1. Продовжити рух із підвищеною увагою якомога ближче до правого краю проїзної частини незалежно від кольору увімкненого пробліскового маячка.
2. Продовжити рух із підвищеною увагою якомога ближче до правого краю проїзної частини при увімкненому проблісковому маячку тільки синього кольору.
3. Знизити швидкість до 40 км/год та в разі подання регулювальником відповідного сигналу зупинитися. Продовжити рух можна лише з дозволу регулювальника.

3.5


3 Яку інформацію закладено у даний дорожній знак?



1. За знаком закінчується житлова зона, особливі умови дорожнього руху припиняють дію.
2. На ділянці дороги за знаком забороняється рух пішоходів.
3. На ділянці дороги за знаком забороняються спортивні змагання та ігри дітей.
4. На ділянці дороги за знаком забороняється рух автомобілів.
5. Інформація, зазначена у відповідях 2, 3, 4.

Дод. 1: 5.32

4 Що означає даний дорожній знак з табличкою?



1. Дозволяє стоянку тільки легкових автомобілів та мотоциклів зазначеним на табличці способом.
2. Дозволяє стоянку тільки легкових автомобілів, мотоциклів і вантажних автомобілів, дозволена максимальна маса яких до 3,5 т, зазначеним на табличці способом.
3. Дозволяє стоянку всіх транспортних засобів способом, зазначеним на табличці.

Дод. 1: 5.38, 7.6.1

5 Чи дозволяється здійснити обгін у зоні дії даного дорожнього знака, якщо буксируючий автомобіль рухається зі швидкістю менш як 30 км/год?



1. Забороняється.
2. Дозволяється.


Дод. 1: 3.25; дод. 2: 1.11

6 У якому мінімальному віці дозволяється рухатися по дорозі на велосипедах?

1	2	3	4
12 років	14 років	16 років	18 років

6.1

7 Чи дозволяється обгін транспортних засобів на ділянці дороги за даним дорожнім знаком?



1. Дозволяється обігнати тільки автопоїзд, що рухається зі швидкістю менше ніж 30 км/год.
2. Дозволяється обігнати тільки транспортний засіб, що буксирує, у зчепленні з тим, якого буксирують, які рухаються зі швидкістю менше ніж 30 км/год.
3. Дозволяється обігнати тільки поодинокий транспортний засіб, що рухається зі швидкістю менше ніж 30 км/год.
4. Дозволяється обігнати мотоцикл без бокового причепа.
5. Дозволяється обігнати транспортні засоби, зазначені у відповідях 1, 2 і 3.

Дод. 1: 3.25

8 У якій відповіді правильно названо усі транспортні засоби, яким дозволено рух?



1. Автомобілі і мотоцикл.
2. Усі транспортні засоби.
3. Автомобілі і трамвай.

8.8 «Б»

9 Для перевезення яких пасажирів необхідно використати спеціальні засоби, що дають змогу пристебнути дитину за допомогою ременів безпеки на передньому сидінні легкового автомобіля? Дайте повну відповідь.

1. Для перевезення пасажирів, постраждалих у ДТП.
2. Для перевезення дітей зростом менше 145 см.
3. Для перевезення дітей, які не досягли 12-річного віку.
4. Для пасажирів, зазначених у відповідях 2 і 3.

21.11 «Б»

10 В якому напрямку дозволяється рух легкового автомобіля?



1. Тільки в зворотному напрямку.
2. Тільки ліворуч і в зворотному напрямку.
3. Прямо, ліворуч і в зворотному напрямку.
4. В усіх напрямках.

10.4

11 Дайте повну відповідь.
У житловій зоні забороняється:

1. Тільки стоянка транспортних засобів поза спеціально відведеними місцями.
2. Тільки стоянка з працюючим двигуном.
3. Тільки рух вантажних автомобілів, тракторів, самохідних машин та механізмів, крім тих, що обслуговують об'єкти і населення, виконують технологічні роботи або належать громадянам, які проживають у цій зоні.
4. Усі вищезазначені дії.

26.2

12 Чи дозволяється рух вантажних автомобілів по автомагістралях і дорогах для автомобілів далі другої смуги?

1. Забороняється.
2. Дозволяється, якщо їхня дозволена максимальна маса понад 3,5 т.
3. Дозволяється, якщо їхня дозволена максимальна маса не перевищує 3,5 т.

27.2 «Б»

13 Чи дозволяється повернути у двір на даній ділянці дороги?



1. Забороняється.
2. Дозволяється.

Дод. 2: 1.2

14 В яких з перелічених випадків обгін заборонено? Дайте повну відповідь.

1. У кінці підйому.
2. На мостах, естакадах, шляхопроводах.
3. На крутих поворотах і інших ділянках доріг з обмеженою оглядовістю.
4. В умовах недостатньої видимості.
5. У випадках, зазначених у відповідях 1, 2, 3, 4.

14.6 «Г»

15 Чи дозволяються зупинка і стоянка з лівого боку на дорозі з двостороннім рухом?

1. Дозволяються в населених пунктах і поза ними.
2. Забороняються на дорогах в населених пунктах, які мають по одній смузі для руху у кожному напрямку, без трамвайних колій посередині і не розділених суцільною лінією розмітки.
3. Дозволяються на дорогах в населених пунктах, які мають по одній смузі для руху у кожному напрямку, без трамвайних колій посередині і не розділених суцільною лінією розмітки.

15.3

16 Автомобілі проїдуть перехрестя в наступному порядку:



1. Синій, зелений, червоний.
2. Зелений, синій, червоний.
3. Синій, червоний, зелений.

16.12

17 До чого призводить знижений тиск повітря в шинах передніх коліс автомобіля?

1. До утруднення керування автомобілем.
2. До збільшення гальмового шляху.
3. До збільшення швидкості руху.


ОБР

18 За яких з перелічених умов забороняється експлуатація транспортних засобів? Дайте повну відповідь.

1. Не горять лампи підсвітки щитка приладів.
2. На передній осі автобуса, який виконує міжміське перевезення, встановлено шини з відновленим протектором.
3. За умов, зазначених у відповідях 1 і 2.

31.4.5 «Д»


19 Водій якого транспортного засобу повинен дати дорогу?



1. Водій автобуса, водієві автомобіля
2. Водій автомобіля— водієві автобуса.

16.12

20 Синій автомобіль проїде перехрестя:



1. Першим.
2. Другим.
3. Третім.
4. Останнім.

16.11; 16.14;
3.2

1 Даний дорожній знак:



1. Забороняє рух тільки на мотоциклах з боковим причепом.
2. Дозволяє рух на моторолерах і велосипедах.
3. Дозволяє рух на триколісних та інших механічних транспортних засобах, дозволена максимальна маса яких не перевищує 400 кг.
4. Забороняє рух на мотоциклах. Дія знака не поширюється на водіїв, що обслуговують громадян, які працюють у позначеній зоні.
5. Інформація, закладена у відповідях 2, 3, 4.

1.10 «мотоцикл»; дод. 1: 3.6

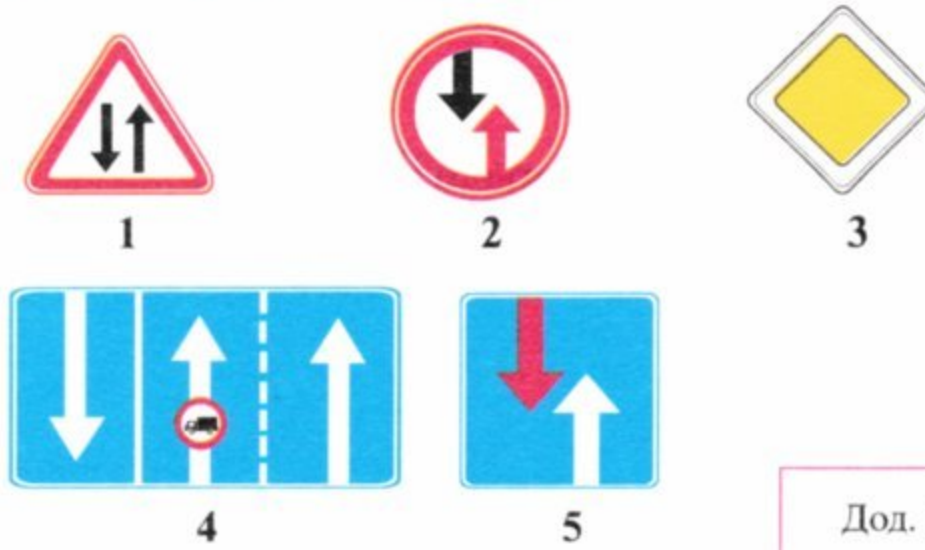
4.7; 4.8

3 Дайте повну відповідь. З Державтоінспекцією узгоджуються:

1. Розміщення реклами на транспортному засобі.
2. Нанесення білих смуг під нахилом на зовнішніх бокових поверхнях транспортних засобів.
3. Встановлення пробліскових маячків.
4. В усіх вище перелічених випадках.
5. У випадках, зазначених у відповідях 2 і 3.

32.1 «Е»

4 Який дорожній знак надає водію перевагу відносно зустрічних транспортних засобів?



Дод. 1: 2.6

5 Чи дозволяється повернути праворуч на даному перехресті?



1. Забороняється. Дозволяється тільки водіям легкових автомобілів, що виконують невідкладне службове завдання.
2. Забороняється. Дозволяється тільки водіям маршрутних транспортних засобів.
3. Забороняється в будь-якому випадку.

Дод. 1: 4.5

6 Яким транспортним засобам дозволено рух правою смугою проїзної частини?



1. Усім механічним транспортним засобам.
2. Тільки маршрутним транспортним засобам.
3. Маршрутним транспортним засобам і таксі.
4. Тільки велосипедам.

Дод. 2: 1.24


7 Даний дорожній знак:



1. Визначає кінець зони дії тільки знака «Обгін заборонено».
2. Визначає одночасно кінець дії всіх заборон і обмежень, запроваджених деякими заборонними дорожніми знаками.
3. Знімає всі заборони й обмеження, запроваджені всіма дорожніми знаками.

Дод. 1: 3.42

8 Рух дозволено:



1. Прямо.
2. Праворуч у перший і другий проїзди.
3. Праворуч у перший проїзд.
4. Праворуч у другий проїзд.

8.8 «Б»

9 Яким чином дозволяється привернути увагу водія транспортного засобу, який обганяють, на дорозі поза населеним пунктом?

1. Включенням аварійної світлової сигналізації.
2. Переключенням світла фар і звуковим сигналом.
3. Тільки включенням звукового сигналу.

9.6

10 Для чого призначена смуга гальмування?

1. Ця смуга призначена для повороту на іншу дорогу, на цю смугу водій повинен своєчасно перестроїтися і знизувати швидкість тільки на ній.
2. На дорозі з крутим, зтяжним підйомом на цій смузі дозволяється в разі необхідності зупинитися.
3. На дорозі з крутим, зтяжним підйомом ця смуга призначена для транспортних засобів, які рухаються зі швидкістю до 30 км/год.

10.8

11 Буксирування заборонено:

1. При загальній довжині зчеплених транспортних засобів 20 м (маршрутних транспортних засобів 22 м).
2. Мотоциклів з боковим причепом.
3. Мотоциклами з боковим причепом.
4. В ожеледицю на гнучкому зчепленні.

23.10 «Б»

12 З якою максимальною швидкістю дозволяється рух автобусам (мікроавтобусам), що здійснюють перевезення організованих груп дітей, на ділянках доріг, позначених даним дорожнім знаком?



- | | | | |
|-----------|-----------|-----------|-----------|
| 1 | 2 | 3 | 4 |
| 60 км/год | 70 км/год | 80 км/год | 90 км/год |

12.6 «А»

13 Для забезпечення в дорозі безпеки дорожнього руху водій зобов'язаний стежити за технічним станом:

1. Усього транспортного засобу.
2. Тільки гальмової системи та рульового керування транспортного засобу.

2.3 «Б»

14 Чи дозволяється обгін транспортного засобу на даній ділянці?



1. Дозволяється.
2. Забороняється.
3. Дозволяється за відсутності зустрічного транспортного засобу.

14.6 «Г»

15 У яких місцях заборонено зупинку транспортних засобів?

1. На залізничних переїздах.
2. На майданах.
3. Ближче ніж за 15 м від краю перехрещуваної проїзної частини.
4. На дорогах із трамвайними коліями.
5. В усіх перелічених місцях.

15.9 «А»

16 Синій автомобіль проїде перехрестя:



1. Третім.
2. Другим.
3. Першим.

16.12; 16.13;
3.2

17 Водій рухається по дорозі з двостороннім рухом, дотримуючись відповідної дистанції. Його починає обганяти інший транспортний засіб, і раптово з'являється зустрічний. Як повинен вчинити водій транспортного засобу, що обганяє?

1. Зменшити свою швидкість, звільнити займану смугу руху.
2. Збільшити свою швидкість, звільнити займану смугу руху.
3. Подати звуковий сигнал і продовжити рух, не змінюючи швидкісний режим.

ОБР

18 Яке з перерахованого обладнання застосовується для регулювання дорожнього руху? Дайте повну відповідь.

1. Вставки розмічувальні дорожні для поліпшення зорової орієнтації водіїв на проїжджій частині.
2. Дорожні огорожі на насипах.
3. Устаткування, перераховане у відповідях 1 і 2.

8.6 «Г», «Е»

19 Дайте повну відповідь. Знак автопоїзда повинен бути ввімкнений:

1. Під час руху автопоїзда.
2. Під час руху автопоїзда з вантажем.
3. Під час руху вночі або в умовах недостатньої видимості.
4. Під час руху автопоїзда, а в темну пору доби або в умовах недостатньої видимості — і під час вимушеної зупинки, зупинки чи стоянки на дорозі.

19.8

20 Яку з перелічених дій слід виконати водію, який наближається до залізничного переїзду?

1. Зменшити швидкість і зупинитися у будь-якому випадку.
2. Не менше ніж за 100 м до переїзду припинити або завершити обгін.
3. Упевнитися у тому, що до переїзду не наближається поїзд.
4. Виконати дії, зазначені у відповідях 1, 2, 3.
5. Виконати дії, зазначені у відповідях 2 і 3.

14.6 «Б»;
20.2

1 Як повинні вчинити водії попутних та зустрічних транспортних засобів, якщо під час руху по дорозі, на якій відсутня розділювальна смуга, наближається спеціальний транспортний засіб, на якому ввімкнено пробліскові маячки червоного кольору?

- Продовжити рух по своїй смузі.
- Зупинитися біля правого краю проїзної частини (на правому узбіччі) і поновити рух лише після того, як проїде замикаючий колону транспортний засіб з увімкненими проблісковими маячками зеленого або синього та зеленого кольору.
- Зменшити швидкість і взяти праворуч.

3.2; 3.3

2 Дайте повну відповідь. По визначенню Правил дорожнього руху «Велосипедист»-це:

- Особа, яка керує велосипедом.
- Особа, яка керує мопедом, який має двигун з робочим об'ємом до 50 куб.см.
- Особа, яка керує велосипедом та вищевказаним мопедом.

1.10


3 Даний дорожній знак попереджає, що:



- Попереду звивиста ділянка дороги.
- Попереду початок ділянки дороги з зустрічним рухом після одностороннього.
- Попереду ділянка дороги, на якій слід обов'язково дати дорогу зустрічному транспортному засобу.
- Даний знак повинен застосовуватися тільки одночасно зі знаком «Кінець дороги з одностороннім рухом».
- Інформація, закладена у відповідях 3 і 4.

Дод. 1: 1.26

4 Даний дорожній знак з табличкою:



- Забороняє зупинку і стоянку транспортних засобів в непарні числа місяця.
- Забороняє зупинку і стоянку транспортних засобів на смузі руху, на яку вказує табличка.
- Указують кінець зони дії даного знака.

Дод. 1: 3.34, 7.2.3

5 У якому напрямку заборонено рух?



- Праворуч у перший і другий проїзди.
- Праворуч у перший проїзд.
- Праворуч у другий проїзд.


Дод. 1: 3.22

6 Яким транспортним засобам забороняється рух по автомагістралях?

- Тільки велосипедам.
- Тільки транспортним засобам, на яких навчають водінню.
- Тільки тракторам, самохідним машинам і механізмам.
- Транспортним засобам, зазначеним у відповідях 1, 2, 3.

6.6 «Б»; 24.9; 27.2 «А»

7 Даний дорожній знак:



- Забороняє рух зі швидкістю 50 км/год і менше.
- Забороняє рух зі швидкістю, яка перевищує указану на знакові.
- Дозволяє рух тільки з указаною швидкістю або більшою.

Дод. 1: 3.29

8 Синій автомобіль проїде перехрестя:



- Другим.
- Першим.

8.3; 16.6

9 Вантажний автомобіль, що використовується для перевезення пасажирів, повинен бути обладнаний сидіннями, закріпленими у кузові на відстані:

- Тільки не менше 0,3 м від верхнього краю борта.
- Тільки не менше 0,3—0,5 м від підлоги.
- Від верхнього краю борта і від підлоги — як зазначено у відповідях 1 і 2.

21.6

10 Розворот забороняється:

- На пішохідних переходах і ближче 10 м від них з обох боків, крім випадку дозволеного розвороту на перехресті.
- Ближче як за 15 м від перехрестя.
- На нерегульованих перехрестях, якщо на перехрещуваній дорозі організовано односторонній рух.
- В усіх перелічених випадках.

10.7 «Г»

11 Буксирування на жорсткому зчепленні має здійснюватися за наявності водія за кермом:

1. Буксируючого і буксированого транспортних засобів.
2. Тільки буксируючого транспортного засобу, якщо конструкція жорсткого зчеплення забезпечує буксированому транспортному засобу повторення траєкторії руху буксируючого транспортного засобу незалежно від величини поворотів.
3. В обох випадках.

23.5

12 Чи дозволяється різко гальмувати?

1. Дозволяється, якщо автомобіль обладнаний сучасною гальмовою системою.
2. Дозволяється, якщо відстань до повної зупинки невелика.
3. Дозволяється, коли без цього неможливо запобігти дорожньо-транспортній пригоді.
4. Дозволяється у випадках, зазначених у відповідях 1, 2, 3.

12.9 «Г»

13 Чи дозволяються зупинка і стоянка у місцях, де відстань між транспортним засобом, що зупинився, і протилежним краєм проїзної частини менше трьох метрів?

1. Дозволяються на дорогах з неінтенсивним рухом.
2. Дозволяються тільки у світлу пору доби, якщо водій не кидає своє місце в автомобілі.
3. Забороняються.

15.9 «Д»

14 В яких з перелічених місць забороняється обгін?

1. Тільки ближче ніж за 50 м перед пішохідним переходом у населеному пункті.
2. Тільки ближче ніж за 100 м перед пішохідним переходом поза населеним пунктом.
3. Тільки на дорогах з двостороннім рухом, які мають по одній смузі в кожному напрямку.
4. В місцях, зазначених у відповідях 1, 2, 3.
5. В місцях, зазначених у відповідях 1 і 2.

14.6 «В»


15 Водії яких транспортних засобів правильно зупинилися для висадки пасажирів?



1. Тільки водій легкового автомобіля.
2. Тільки водій мотоцикла.
3. Тільки водій мікроавтобуса.
4. Усі водії зупинилися неправильно.

15.9 «Г»

16 Першим проїде перехрестя:



1. Чорний автомобіль.
2. Червоний автомобіль.
3. Синій автомобіль.

16.9

17 У якому випадку відцентрова сила на повороті зменшується?



1. При зменшенні радіуса повороту.
2. При різкому повороті рульового колеса в бік повороту.
3. При зменшенні швидкості руху.


ОБР

18 Як повинен учинити водій, якщо у темну пору доби на неосвітлених ділянках доріг на автомобілі не вмикається ближнє світло лівої фари?

1. Вжити заходів до усунення несправностей, а якщо це зробити неможливо — рухатися як можна коротшим шляхом до місця стоянки або ремонту, дотримуючись запобіжних заходів.
2. Продовжити рух, увімкнувши протитуманні фари.
3. Продовжити рух, увімкнувши габаритні ліхтарі.

31.5; 19.5


19 Транспортні засоби проїдуть перехрестя в наступному порядку:



1. Трамвай, легковий автомобіль, автобус.
2. Легковий автомобіль, автобус, трамвай.
3. Трамвай, автобус, легковий автомобіль.

16.12

20 Водій якого транспортного засобу має право на першочерговий рух?



1. Велосипедист.
2. Водій автомобіля.

16.11; 16.14

1 У якій з відповідей за Правилами дорожнього руху зазначені найбільш характерні ознаки терміна «автомагістраль»?

1. Це дорога, на якій не існує обмеження швидкості руху.
2. Це дорога, призначена для міжнародного автомобільного руху, яка має, як мінімум, три смуги для руху в кожному напрямку.
3. Це автомобільна дорога, яка позначена відповідним дорожнім знаком, має для кожного напрямку руху окремі проїзні частини, відокремлені одна від іншої розділювальною смугою.


1.10

2 З якого боку повинен сідати пасажир в автомобіль, якщо автомобіль зупинений біля лівого краю дороги?

1. З правого боку.
2. З лівого або правого боку.
3. З боку посадкового майданчика, а у випадку його відсутності, — з боку тротуару або узбіччя.

5.1

3 Даний дорожній знак:



1. Позначає номер дороги поза населеним пунктом.
2. Позначає номер, наданий дорозі (маршруту), на автомагістралі.
3. Позначає відстань до найближчого населеного пункту.
4. Позначає відстань до найближчої автозаправної станції.

Дод. 1: 5.61.1

4 Чи дозволяється зупинка з лівого боку на дорогах, позначених даними дорожніми знаками?

ОДЕСА

А

РУДНЯ

Б

1. Забороняється.
2. Дозволяється при знаках А і Б.
3. Дозволяється при знакові Б.
4. Дозволяється при знакові А.

Дод. 1: 5.45, 5.47

5 Водії яких транспортних засобів, здійснюючи транзитний рух, порушили вимогу даного дорожнього знака?



1. Водії автомобіля й мотоцикла з боковим причепом.
2. Водії всіх транспортних засобів.
3. Тільки водій автомобіля.
4. Водії мотоциклів.


Дод. 1: 3.2

6 Яким транспортним засобам забороняється рух по дорогах для автомобілів?

1. Тільки транспортним засобам, на яких навчають водінню.
2. Тільки тракторам, самохідним машинам і механізмам.
3. Тільки велосипедам.
4. Транспортним засобам, зазначеним у відповідях 1, 2, 3.

24.9; 27.2 «А»; 6.6«Б»

7 Яким транспортним засобам забороняє обгін даний дорожній знак?



1. Тільки легковим автомобілям.
2. Тільки легковим автомобілям, мікроавтобусам і автобусам.
3. Усім транспортним засобам.
4. Усім механічним транспортним засобам.

Дод. 1: 3.25

8 Миготливі червоні сигнали даного світлофора:



1. Попереджують про наступну зміну сигналів.
2. Забороняють рух у місцях виїзду спеціальних автомобілів.
3. Забороняють рух через залізничний переїзд.

8.7.6

9 На якій відстані до транспортного засобу встановлюється знак аварійної зупинки або червоний миготливий ліхтар у світлу пору доби?

1. На відстані, що забезпечує безпеку дорожнього руху, але не ближче 20 м в населених пунктах і 40 м поза ними.
2. На відстані, що забезпечує безпеку дорожнього руху, але не ближче 30 м в населених пунктах і 50 м поза ними.
3. На відстані, що забезпечує безпеку дорожнього руху, але не ближче 40 м в населених пунктах і 100 м поза ними.

9.10

10 Як повинен учинити водій автобуса, повертаючи праворуч?



1. Дати дорогу легковому автомобілю, що рухається по автомагістралі.
2. Першим виїхати на автомагістраль, тому, що він перевозить пасажирів.

27.1

11 Залежно від яких чинників обирається спосіб буксирування механічного транспортного засобу?

1. Залежно від технічної несправності буксированого транспортного засобу.
2. Залежно від фактичної наявності буксира.
3. На розсуд водіїв транспортних засобів, що беруть участь у буксируванні.
4. Залежно від чинників, зазначених у відповідях 2 і 3.

23.4

12 Під час вибору в установлених межах безпечної швидкості руху водій повинен урахувати:

1. Тільки дорожню обстановку.
2. Тільки особливості вантажу, що перевозиться.
3. Тільки стан транспортного засобу.
4. Враховувати усі фактори, перелічені у відповідях 1, 2, 3.

12.1

13 Що означає табличка під дорожнім знаком?



1. Відстань від першого повороту до початку другого повороту.
2. Протяжність ділянки дороги з небезпечними поворотами.
3. Відстань від знака до початку першого повороту.

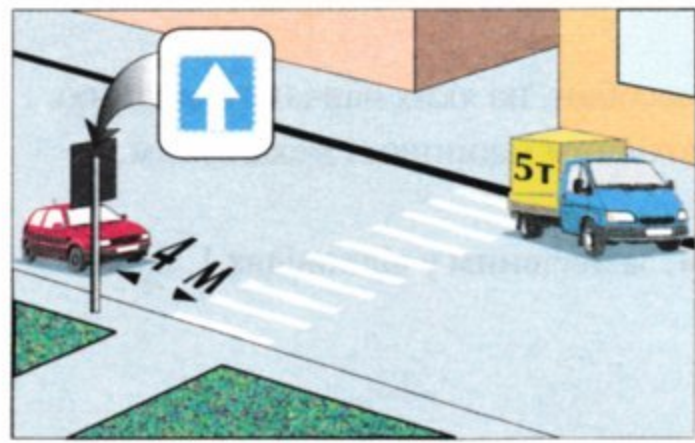
Дод. 1: 7.2.1

14 Як позначаються у світлу пору доби частини вантажу, що перевозяться транспортним засобом, і які виступають більш ніж на 1 м за його габарити спереду або ззаду?

1. Червоними прапорцями.
2. Білими прапорцями.
3. Щитками або прапорцями з нанесеними по діагоналі червоними і білими смугами, що чергуються.

30.3 «3»


15 Який автомобіль правильно поставлено на стоянку?



1. Червоний.
2. Жовто-синій.
3. Обидва правильно.
4. Обидва неправильно.

15.9 «Г»;
11.6

16 Транспортні засоби проїдуть перехрестя в наступному порядку:



1. Трамвай, зелений автомобіль, червоний автомобіль.
2. Трамвай, червоний, зелений автомобілі.
3. Червоний автомобіль, трамвай і зелений автомобіль.

16.9

17 З якою безпечною швидкістю слід виконати поворот на перехрещувану дорогу?

1. Зменшити швидкість при в'їзді у поворот і збільшити її при виїзді з повороту.
2. Рухатися, не зменшуючи швидкості руху, але дотримуючись особливої безпеки.
3. Зменшити швидкість руху лише у тому випадку, якщо дорога слизька.

ОБР

18 Яку кількість протитуманних фар дозволяється встановлювати на легковому автомобілі?

1. На розсуд водія.
2. Чотири.
3. Дві.

31.4.3,
прим. 1

19 Чи дозволяється установка шин з різними малюнками протектора на одну вісь легкового автомобіля?

1. Дозволяється тільки на задню вісь передньоприводного автомобіля.
2. Забороняється.
3. Дозволяється тільки на передню вісь.

31.4.5 «Г»

20 Дана дорожня розмітка позначає:



1. Наближення до звуження проїзної частини або до суцільної лінії розмітки, яка поділяє транспортні потоки протилежних напрямків.
2. Наближення до смуги проїзної частини, призначеної для руху тільки маршрутних транспортних засобів.
3. Зону, в якій забороняється обганяти всі транспортні засоби, крім поодиноких, що рухаються зі швидкістю менш як 30 км/год, двоколісних мотоциклів, велосипедів.

Дод. 2: 1.19

1 Що означає термін «дати дорогу»?
 Дайте повну відповідь.

1. Це вимога, яка зобов'язує водія тільки пригальмувати або зупинитися.
2. Це вимога до учасника дорожнього руху не продовжувати або не відновлювати рух, не здійснювати будь-яких маневрів (за винятком вимоги звільнити займану смугу руху), якщо це може примусити інших учасників дорожнього руху, які мають перевагу, змінити напрямок руху або швидкість.
3. Це вимога до учасника дорожнього руху тільки зменшити швидкість руху.


1.10

2 Де повинен рухатися пішохід, якщо на дорозі немає тротуару і пішохідної доріжки?

1. По узбіччю з правого боку.
2. По проїзній частині з правого боку.
3. По узбіччю, а якщо його немає, — по краю проїзної частини назустріч рухові транспортних засобів.

4.1

3 Даний дорожній знак з табличкою:



1. Забороняє рух всіх транспортних засобів на ділянці дороги довжиною 300 м.
2. Забороняє в'їзд усіх транспортних засобів на ділянці дороги довжиною 300 м.
3. В'їзд усіх транспортних засобів (крім маршрутних) буде заборонено через 300 м.

Дод. 1: 3.21, 7.1.1

4 Який дорожній знак позначає готель або мотель?



Дод. 1: 6.16

5 У будинку при дворі ліворуч проживає власник даного автомобіля. Яким із зазначених маршрутів дозволяється водієві проїхати до себе у двір?



1. Маршрутом А, після розвороту на наступному перехресті.
2. Маршрутом Б.
3. Маршрутами А і Б.

Дод. 1: 4.1

6 Водії яких транспортних засобів неправильно зупинилися для висадки пасажирів?



1. Усі водії.
2. Тільки водій легкового автомобіля.
3. Тільки водій мотоцикла.
4. Тільки водій вантажного автомобіля.
5. Водії вантажного автомобіля і мотоцикла.

Дод. 2: 1.10.1

7 На перехресті встановлені світлофор і наказовий дорожній знак «Рух прямо». У якому напрямку дозволено рух?

1. При зеленому сигналі світлофора — тільки прямо.
2. При зеленому сигналі світлофора — в усіх напрямках.
3. При червоному сигналі світлофора в поєднанні з жовтим — тільки прямо.
4. У напрямках, зазначених у відповідях 2 і 3.

Дод. 1: 4.1

8 Що позначають два одночасно увімкнених сигнали світлофора — червоний і жовтий?



1. Забороняється рух, незабаром буде увімкнено зелений сигнал.
2. Необхідно дати дорогу пішоходам.
3. Дозволяється закінчити поворот праворуч.

8.7.3 «Є»

9 В якому з перелічених випадків встановлюється, разом з увімкненою аварійною світловою сигналізацією, знак аварійної зупинки або червоний миготливий ліхтар?

1. Якщо водію необхідно залишити несправний транспортний засіб для доставки до нього частини, що вийшла з ладу.
2. У випадку вимушеної зупинки у місцях з обмеженою оглядовістю дороги хоча б в одному напрямку менше 100 м.
3. У випадку довготривалої вимушеної зупинки у місцях з обмеженою оглядовістю дороги в обох напрямках менше 200 м.

9.10 «Б»

10 З якого мінімального віку дозволяється навчатися водінню на легковому автомобілі, що належить фізичній особі?

1	2	3	4
з 15 років	з 16 років	з 17 років	з 18 років

24.2

- 11** Якою смугою на дорозі з двостороннім рухом, яка має по три смуги для руху в кожному напрямку, дозволяється рух прямо вантажних автомобілів з дозволеною максимальною масою 4 т? Дайте повну відповідь.

1. Крайньою правою смугою.
2. Крайньою правою і середньою смугою.
3. Будь-якою смугою, якщо праві смуги для руху зайняті іншими транспортними засобами.

11.6

- 12** З якою максимальною швидкістю дозволено рух автобусів на ділянках доріг, позначених даним дорожнім знаком?



- | | | | | |
|-----------|-----------|-----------|-----------|-----------|
| 1 | 2 | 3 | 4 | 5 |
| 90 км/год | 80 км/год | 70 км/год | 60 км/год | 50 км/год |

12.6 «Г»

- 13** Якщо зустрічний роз'їзд утруднений, дорогу повинен дати: Дайте повну відповідь.

1. Тільки водій легкового автомобіля водієві маршрутного транспортного засобу.
2. Тільки водій, на смузі руху якого є перешкода.
3. Тільки водій транспортного засобу, габарити якого заважають зустрічному рухові.
4. Водії, зазначені у відповідях 2 і 3.
5. Тільки водій вантажного автомобіля водієві маршрутного транспортного засобу.

13.4

- 14** Як позначається у світлу пору доби великогабаритний вантаж, що виступає за габарити транспортного засобу на відстань, більшу ніж це передбачено Правилами дорожнього руху?

1. Червоними прапорцями спереду і ззаду.
2. Сигнальними щитками або прапорцями (з нанесеними по діагоналі червоними та білими смугами, що чергуються).
3. Світлоповертачами: спереду — білого кольору, ззаду — червоного, збоку — оранжевого кольору.


30.3 «3»

- 15** Зупинка і стоянка транспортних засобів заборонені:

1. На перехрестях і ближче 10 м від краю перехрещуваної проїзної частини за відсутності на них пішохідного переходу.
2. На пішохідних переходах і ближче 10 м тільки перед ними.
3. Ближче 20 м за пішохідним переходом.
4. Забороняються у місцях, перелічених у відповідях 1, 2 і 3.

15.9 «Г»

- 16** Третім проїде перехрестя:



1. Червоний автомобіль.
2. Синій автомобіль.
3. Зелений автомобіль.
4. Жовтий автомобіль.

16.11; 16.14

- 17** Зменшення гальмового шляху на слизькій дорозі для задньоприводного автомобіля досягається:



1. Переривчастим гальмуванням із вимкненим зчепленням.
2. Переривчастим гальмуванням без вимкнення зчеплення й передачі.

ОБР

- 18** За яких із перелічених умов забороняється експлуатація транспортних засобів? Дайте повну відповідь.

1. Порушено герметичність гідравлічного гальмового привода.
2. Не горить лампа заднього протитуманного ліхтаря.
3. За умов, зазначених у відповідях 1 і 2.

31.4.1 «В»

- 19** Чи дозволяється рух механічних транспортних засобів із дальнім світлом фар на освітлених ділянках дороги в темну пору доби?

1. Дозволяється тільки при виконанні невідкладного службового завдання.
2. Дозволяється тільки при русі з великою швидкістю.
3. Дозволяється.

19.1

- 20** При заборонному сигналі світлофора й відкритому шлагбаумі на залізничному переїзді водій повинен:

1. Проїхати через переїзд, керуючись положенням шлагбаума.
2. Зупинитися не ближче як за 5 м від шлагбаума.
3. Зупинитися перед дорожньою розміткою «стоп-лінія», дорожнім знаком «Проїзд без зупинки заборонено», шлагбаумом чи світлофором так, щоб бачити сигнали, а якщо засоби організації дорожнього руху відсутні — не ближче як за 10 м до найближчої рейки.
4. Особисто впевнитися у відсутності поїзда, що наближається, і проїхати через переїзд.

20.3

1 Транспортний засіб повинен бути тимчасово зареєстрований у ДАІ, якщо він перебуває в міжнародному русі на території України понад:

1. Два місяці.
2. Один місяць.
3. В обох випадках.


29.2

2 Чи можуть пішоходи рухатися велосипедними доріжками за відсутності тротуару або пішохідної доріжки?

1. Не можуть.
2. Можуть.
3. Можуть, тримаючись правого боку і не ускладнюючи рух на велосипедах.

4.1

3 Що означає даний дорожній знак?



1. Обов'язковий напрямок руху вантажних автомобілів, дозволена максимальна маса яких більша ніж 3,5 т.
2. Рекомендований напрямок руху для вантажних автомобілів і самохідних машин.
3. Напрямок руху тільки для вантажних автомобілів.
4. Напрямок руху для вантажних автомобілів, які здійснюють міжміські перевезення.


Дод. 1: 5.28

4 Чи є серед даних дорожніх знаків такий, який би не поширював свою дію на маршрутні транспортні засоби?

1. Тільки знак 
2. Тільки знак 
3. Тільки знак 
4. Тільки знак 
5. Свою дію не поширюють на маршрутні транспортні засоби всі перелічені знаки.

Дод. 1: 3.1, 3.2, 3.34, 4.1

5 У яких напрямках, позначених стрілками, дозволено рух?



1. А і Б.
2. А.
3. Б.

Дод. 1: 5.26

6 Що означає дана дорожня розмітка?



1. Вказує дозволені на перехресті напрямки руху по смугам.
2. Забороняє перестроюватися зі смуги на смугу.
3. Дозволяє перестроюватися зі смуги на смугу до в'їзду на перехрестя.

Дод. 2: 1.18

7 Яким з перелічених транспортних засобів дозволено рух на даний дорожній знак?



1. Тільки легковим і вантажним автомобілям з дозволеною максимальною масою до 3,5 т.
2. Тільки легковим автомобілям і мотоциклам.
3. Автомобілям, мікроавтобусам, автобусам і мотоциклам.

Дод. 1: 5.3

8 Чи є виконання вимог горизонтальної дорожньої розмітки обов'язковим?

1. Строго обов'язковою є тільки горизонтальна розмітка, виконана жовтим кольором.
2. Не завжди, а тільки в тому випадку, коли її виконано білим кольором.
3. Є обов'язковим, бо горизонтальна дорожня розмітка встановлює певний режим і порядок руху.

8.5.1

9 Коли, відповідно до Правил дорожнього руху, слід закінчити подавання попереджувального сигналу рукою?

1. негайно після завершення маневру.
2. Під час виконання маневру.
3. Безпосередньо перед початком виконання маневру.

9.4

10 Для чого призначена смуга розгону?

1. Ця смуга руху призначена для з'єднання автомагістралі зі звичайною дорогою.
2. Ця смуга призначена для руху швидкохідних транспортних засобів.
3. При наявності смуги розгону водій повинен рухатися тільки по ній, вливаючись у транспортний потік і даючи дорогу транспортним засобам, що рухаються по дорозі, на яку він в'їжджає.

10.8

- 11** Яким способом дозволяється буксирування транспортного засобу з несправною гальмовою системою?
1. На гнучкому або жорсткому зчепленні.
 2. Тільки на жорсткому зчепленні.
 3. На жорсткому зчепленні або способом часткового навантаження.
 4. Тільки способом часткового навантаження.
 5. Будь-яким способом, дотримуючи запобіжних заходів.

23.4

- 12** З якою максимальною швидкістю дозволяється рух легкових автомобілів на ділянках доріг, позначених даним дорожнім знаком?



1. 130 км/год.
2. 100 км/год.
3. 90 км/год.
4. 80 км/год.
5. 70 км/год.

12.6 «Г»

- 13** Чи допускається перемикання світла фар і застосування звукового сигналу для привернення уваги водія, якого обганяють, на дорозі поза населеним пунктом?

1. Допускається за умов, коли це не може призвести до засліплення інших водіїв, у тому числі через дзеркало заднього виду.
2. Не допускається.

9.6; 9.7

- 14** Забороняється перевезення вантажу, якщо:

1. Маса вантажу, що перевозиться, перевищує величину, встановлену технічною характеристикою даного транспортного засобу.
2. Крайня точка вантажу за шириною знаходиться на відстані більш ніж 0,4 м від зовнішнього краю переднього або заднього габаритного ліхтаря.
3. Вантаж виступає за габарити транспортного засобу спереду більш ніж на 1 м.


22.1; 22.4

- 15** Чи дозволяється стоянка усіх транспортних засобів на тротуарах?

1. Забороняється стоянка усіх транспортних засобів.
2. Дозволяється стоянка легкових автомобілів і мотоциклів на краю тротуару, де для руху пішоходів залишається не менше двох метрів.
3. Дозволяється стоянка на краю тротуару всіх автомобілів і мотоциклів.

15.10 «В»

- 16** Водій якого транспортного засобу повинен дати дорогу?



1. Водій мотоцикла, водієві автомобіля.
2. Водій автомобіля — мотоциклістові.

16.12

- 17** Як рекомендується рухатися по ділянці дороги, яка залита водою?

1. Перед вїздом на ділянку прискорити рух і не зменшувати швидкості до виїзду з неї.
2. Перед вїздом на ділянку зменшити швидкість руху і проїхати його не прискорюючись.
3. Перед вїздом на ділянку зменшити швидкість руху, а на самій ділянці збільшити її.

ОБР

- 18** За яких з перелічених умов забороняється експлуатація транспортних засобів? Дайте повну відповідь.

1. На світлових приладах немає розсіювачів.
2. Несправна система випуску відпрацьованих газів.
3. За умов, зазначених у відповідях 1 і 2.


31.4.3 «Г»;
31.4.6 «В»

- 19** Чи дозволяється керувати автомобілем у темну пору доби або в умовах недостатньої видимості, якщо ввімкнені тільки габаритні ліхтарі?

1. Дозволяється на освітленій дорозі в населених пунктах.
2. Забороняється. Повинно бути ввімкнене ближнє або дальнє світло фар.
3. Дозволяється при швидкості руху не більше 50 км/год.

19.1 «А»

- 20** Водій червоного автомобіля:



1. Має перевагу, бо рухається по дорозі, яка має продовження в обидва напрямки, а жовтий автомобіль рухається по дорозі, що прилягає.
2. Повинен дати дорогу.

16.9; 8.7.3 «Е»

1 Чи відноситься до терміну «острівець безпеки» частина розділювальної смуги, через яку пролягає пішохідний перехід?

1. Відноситься.
2. Не відноситься.


1.10

2 Де можуть рухатися пішоходи в населених пунктах, якщо немає тротуарів, пішохідних і велосипедних доріжок?

1. В один ряд по узбіччю, тримаючись якомога правіше, а за його відсутності, — по краю проїзної частини дороги назустріч рухові транспортних засобів. При цьому треба бути обережним і не заважати іншим учасникам дорожнього руху.
2. В один ряд по узбіччю, тримаючись якомога правіше, а за його відсутності, — по краю проїзної частини дороги за ходом руху.
3. В обох випадках правильно.

4.1

3 Дані дорожні знаки попереджають, що:



1. Попереду залізничний переїзд із шлагбаумом, до якого не більше 50 м.
2. Попереду залізничний переїзд без шлагбаума, до якого не більше 300 м.
3. Попереду залізничний переїзд без шлагбаума, до якого не менше 50 м.

Дод. 1: 1.28, 1.31.6

4 Який дорожній знак дозволяє об'їзд перешкоди тільки праворуч?



Дод. 1: 4.7

5 Дана табличка застосовується:



1. З даним дорожнім знаком. Цифра на табличці зазначає кількість смуг руху для розвороту.
2. З даними дорожніми знаками. Цифра на табличці зазначає кількість поворотів.
3. Тільки з даним дорожнім знаком. Цифра на табличці зазначає кількість смуг, що примикають до основної смуги.

Дод. 1: 7.10

6 З яким дорожнім знаком застосовується дана розмітка?



1. З попереджувальним знаком «Перехрещення рівнозначних доріг».
2. Зі знаком «Дати дорогу».
3. Зі знаком «Проїзд без зупинки заборонено».
4. З усіма переліченими знаками.

Дод. 2: 1.13

7 Даний дорожній знак позначає, що:



1. Попереду ділянка дороги, на якій забороняється користування звуковими сигналами поза населеними пунктами, крім випадків, коли без цього неможливо уникнути ДТП.
2. Попереду ділянка дороги в населеному пункті, на якій забороняється користуватися звуковими сигналами.
3. Попереду ділянка дороги, на якій водіям усіх транспортних засобів і навіть транспортних засобів зі спеціальними сигналами користуватися звуковими сигналами заборонено.
4. Інформація і вимоги, викладені у відповідях 1, 2, 3.

Дод. 1: 3.33

8 Чи завжди Правила дорожнього руху вимагають виконання вимог горизонтальної дорожньої розмітки?

1. Обов'язковим є виконання вимог горизонтальної дорожньої розмітки, виконаної тільки білим кольором.
2. Завжди.
3. Обов'язковим є виконання вимог горизонтальної дорожньої розмітки, виконаної тільки жовтим кольором.

8.1; 8.5

9 Яким чином має бути позначено буксирований механічний транспортний засіб, якщо його аварійна світлова сигналізація несправна або відсутня?

1. Знаком аварійної зупинки або миготливим червоним ліхтарем, прикріпленим на ньому ззаду.
2. Спереду ліхтарями білого, а ззаду — червоного кольору.
3. Сигнальними прапорцями.

9.9 «Г»; 9.11 «А»

10 Чи дозволяється водію автобуса виїжджати на перехрестя в даній ситуації?



1. Дозволяється.
2. Дозволяється, якщо автобус рухається за встановленим маршрутом.
3. Забороняється.

16.4

11 При інтенсивному русі, коли усі смуги проїзної частини зайняті рівномірно, водію дозволяється:

1. Змінювати смугу руху тільки для об'їзду перешкоди, повороту, розвороту або зупинки.
2. Рухатися по вільній смузі зустрічного руху, ввімкнувши при цьому ближнє світло фар.
3. Обрати будь-яку смугу для руху з урахуванням можливості виконання обгону.

11.11

12 Що забороняється водієві при виборі швидкості руху? Дайте повну відповідь.

1. Перешкоджати іншим транспортним засобам, рухаючись без потреби з дуже малою швидкістю.
2. Перевищувати максимальну швидкість, визначену технічною характеристикою даного транспортного засобу.
3. Забороняються обидві названі дії.


12.9

13 В яких з перелічених випадків водій транспортного засобу повинен дати дорогу?

1. Виїжджаючи на дорогу з дворів — тільки пішоходам і транспортним засобам.
2. З'їжджаючи з дороги у двори — тільки велосипедистам і пішоходам.
3. Виїжджаючи з дороги з одностороннім рухом — на дорогу з двостороннім рухом.
4. У випадках, зазначених у відповідях 1, 2, 3.
5. У випадках, зазначених у відповідях 1 і 2.

10.2


14 Чи дозволено обгін у даній ситуації поза населеним пунктом?



1. Заборонено.
2. Дозволено обганяти тільки поодинокі транспортні засоби, що рухаються зі швидкістю менш ніж 30 км/год.
3. Дозволено в усіх випадках.

14.6 «Б»


15 Які транспортні засоби поставлені на стоянку поза населеними пунктами з порушенням Правил дорожнього руху?



1. Тільки А.
2. Тільки Б.
3. А і Б.
4. Тільки В.
5. Б і В.

15.2; 15.3

16 Водій якого транспортного засобу має право на першочерговий рух?



1. Синього автомобіля, адже він рухається по дорозі з круговим рухом.
2. Червоного автомобіля, адже він виїжджає на перехрестя праворуч від синього автомобіля.

16.12


17 Як користуватися гальмами на вкритій листям слизькій дорозі?



1. Вимкнути зчеплення і плавно гальмувати.
2. Гальмувати плавно, переривчастими натисканнями на педаль гальма, не вимикаючи зчеплення і не здійснюючи різких поворотів рульового колеса.

ОБР

18 Що повинен зробити водій у даній ситуації?



1. Зменшити швидкість і при необхідності зупинитися, щоб уникнути наїзду на дітей.
2. Об'їхати транспортний засіб, що стоїть, з мінімальною швидкістю, завчасно увімкнувши ближнє світло фар і періодично подаючи звуковий сигнал.

18.9

19 У разі виявлення негерметичності паливної системи водій зобов'язаний:

1. Вжити заходів для усунення несправності, а якщо це неможливо, — рухатися якомога коротшим шляхом до місця стоянки або ремонту, дотримуючись запобіжних заходів.
2. Продовжити намічену поїздку.
3. Припинити подальший рух.

31.5

20 На якій відстані від дорожньої розмітки «стоп-лінія» або дорожнього знака «Проїзд без зупинки заборонено» повинен зупинитися водій для пропуску поїзда, що наближається?

1. Безпосередньо перед дорожньою розміткою «стоп-лінія» і (або) знаком.
2. 1,5 м.
3. 2,5 м.
4. 5 м.
5. 15 м.

20.3

1 Що означає термін «дозволена максимальна маса»?

1. Фактична маса транспортного засобу.
2. Вантажопідйомність транспортного засобу.
3. Маса вантажу, який перевозиться транспортним засобом, що встановлюється як допустима технічною характеристикою підприємства-виробника.
4. Маса спорядженого транспортного засобу з вантажем, водієм і пасажиром, що встановлена технічною характеристикою транспортного засобу як максимально допустима.

1.10

2 Під час руху на транспортному засобі пасажиром:

1. Забороняється тільки перешкоджати зачиненню дверей.
2. Дозволяється використовувати під час руху підніжки, якщо вони розташовані всередині транспортного засобу.
3. Забороняється тільки використовувати під час руху підніжки і виступи транспортних засобів.
4. Забороняються дії, зазначені у відповідях 1 і 3.

5.3 «В»

3 На які транспортні засоби поширюється дія даної таблички?



1. На легкові автомобілі, а також вантажні автомобілі з дозволеною максимальною масою до 3,5 т.
2. На легкові автомобілі, а також вантажні автомобілі вантажопідйомністю до 3,5 т.
3. Тільки на легкові автомобілі.

Дод. 1: 7.5.3

4 За яким з даних дорожніх знаків дозволяється рух зі швидкістю більшою ніж зазначена на них?

1. Тільки за знаком 
2. Тільки за знаком 
3. Тільки за знаком 
4. За знаками, зазначеними у відповідях 1 і 2.

Дод. 1: 5.30, 4.16

5 В якому з перелічених випадків, наближаючись до нерегульованого перехрестя, водій має переважне право руху?

1. Якщо перехрестя рівнозначних доріг, і з правого боку на перехрещуваній дорозі відсутні транспортні засоби.
2. Якщо на перехрещуваній дорозі встановлено знак «Дати дорогу».
3. У будь-якому випадку, якщо водій під'їхав до перехрестя першим.
4. У випадках, зазначених у відповідях 1, 2.
5. У випадках, зазначених у відповідях 1, 2, 3.

Дод. 1: 2.1; 16.12


6 Дана горизонтальна дорожня розмітка позначає:



1. Місце, де водій повинен при необхідності зупинитися, даючи дорогу транспортним засобам, що рухаються по перехрещуваній дорозі.
2. Наближення до місця, де заборонено зупинку.
3. Звуження проїзної частини, де зменшується кількість смуг руху в даному напрямку.

Дод. 2: 1.13

7 Даний дорожній знак:



1. Позначає ділянку дороги, на якій є небезпеки, інформацію про які не закладено у інші дорожні знаки.
2. Позначає напрямок повороту з обмеженою оглядовістю.
3. Позначає ділянку дороги, на якій можливий сильний боковий вітер.

Дод. 1: 1.4.2

8 Хто з водіїв має право рухатися у прямому напрямку?



1. Водії легкового та вантажного автомобілів.
2. Водій легкового автомобіля.
3. Водії автобуса та мотоцикла.

8.8 «Б»

9 Чи дозволяється перевозити дітей віком до 16 років у кузові вантажного автомобіля?

1. Забороняється.
2. Дозволяється в кузові вантажного автомобіля з дозволеною максимальною масою до 3,5 т.
3. Дозволяється за наявності двох дорослих супровідників.
4. Дозволяється в обох випадках.

21.11 «В»

10 Особам, котрі навчаються водінню легкового автомобіля, повинно бути не менше:

1	2	3	4
15 років	16 років	17 років	18 років


24.2

11 Якою смугою на дорозі з двостороннім рухом, яка має по три смуги для руху в кожному напрямку, дозволяється рух прямо вантажних автомобілів з дозволеною максимальною масою 4 т? Дайте повну відповідь.

1. Крайньою правою смугою.
2. Крайньою правою і середньою смугою.
3. Будь-якою смугою, якщо праві смуги для руху зайняті іншими транспортними засобами.

11.6

12 З якою максимальною швидкістю дозволяється рухатися водію вантажного автомобіля, якщо він буксирує легковий автомобіль?



1. 90 км/год.
2. 80 км/год.
3. 60 км/год.
4. 50 км/год.
5. 40 км/год.

12.7

13 Для зупинення кровотечі використовують:

1. Капронову нитку, волосінь або м'яку дротину.
2. Гумовий джгут.
3. Предмети, зазначені у відповідях 1 або 2.

ППМД
стор. 4

14 Яку з перелічених дій слід виконати водію, який наближається до залізничного переїзду?

1. Зменшити швидкість і зупинитися у будь-якому випадку.
2. Не менше ніж за 100 м до переїзду припинити або завершити обгін.
3. Упевнитися у тому, що до переїзду не наближається поїзд.
4. Виконати дії, зазначені у відповідях 1, 2, 3.
5. Виконати дії, зазначені у відповідях 2 і 3.


14.6 «Б»;
20.2

15 Дайте повну відповідь, де заборонено стоянку легкових автомобілів і мотоциклів.

1. На тротуарах, окрім місць, позначених відповідними дорожніми знаками, встановленими з табличками.
2. Поза населеними пунктами, в зоні небезпечних поворотів та випуклих переломів поздовжнього профілю дороги з її видимістю або оглядовістю менш як 100 м хоча б в одному напрямку руху.
3. В усіх перелічених випадках.
4. В усіх перелічених випадках, а також на тротуарах, де для руху пішоходів залишається менше двох метрів.

15.10 «Б»,
«В», «Г»

16 Хто з водіїв має право на першочерговий рух?



1. Водій автомобіля.
2. Водій мотоцикла.

16.12

17 Що рекомендується зробити водію, якщо при русі у темну пору доби зустрічний транспортний засіб засліплює його?

1. Защулити очі.
2. Переводити погляд періодично то ліворуч, то праворуч.
3. Переводити погляд періодично праворуч, орієнтуючись на білу лінію дорожньої розмітки, що позначає край проїзної частини.

ОБР

18 В якому з перелічених випадків забороняється подальший рух транспортних засобів?

1. Під час дощу або снігопаду не працює склоочисник з боку розташування керма.
2. Порушено регулювання фар.
3. За умов, зазначених у відповідях 1 і 2.

31.6 «В»

19 Чи дозволяється висадка пасажирів на ділянці дороги за даним дорожнім знаком?



1. Дозволяється тільки водіям маршрутних транспортних засобів.
2. Дозволяється водіям усіх транспортних засобів тільки посадка або висадка пасажирів.
3. Дозволяється водіям усіх транспортних засобів тільки посадка пасажирів.

Дод. 1: 3.34

20 Вийжджаючи з ґрунтової дороги на асфальтовану, водій зобов'язаний дати дорогу:

1. Тільки тим транспортним засобам, які наближаються праворуч.
2. Усім транспортним засобам.
3. Тільки механічним транспортним засобам.

16.11

1 Що повинен ураховувати водій при визначенні найбільшої ширини смуги руху автопоїзда?

1. Габарити транспортного засобу за шириною, а також вилання причепа і зміщення його до центра повороту.
2. Тільки габарити автопоїзда за шириною.


1.10; 11.1

2 Кому водій зобов'язаний надати транспортний засіб незалежно від напрямку свого руху?

1. Працівникам дорожньо-експлуатаційної служби.
2. Дружинникам.
3. Працівникам міліції та охорони здоров'я для доставки до найближчого лікувального закладу осіб, які потребують негайної медичної допомоги.
4. Усім вищепереліченим особам.

2.7 «А»


3 На дорозі встановлено даний дорожній знак. Водій якого транспортного засобу має перевагу в русі?



1. Водій, перед яким встановлено даний дорожній знак.
2. Водій, який наближається по дорозі ліворуч від знака.
3. Водій, який під'їхав до місця перехрещення доріг першим.

Дод. 1: 1.23.2

4 Даний дорожній знак позначає:



1. Не обладнаний шлагбаумом переїзд через залізницю з двома і більше коліями.
2. Не обладнаний шлагбаумом переїзд через залізницю з однією колією.
3. Обладнаний шлагбаумом переїзд через залізницю з однією колією.

Дод. 1: 1.30

5 Підприємство розташоване в зоні, позначеній дорожнім знаком. Чи поширюється дія даного дорожнього знака на транспортний засіб, що обслуговує дане підприємство?




1. Не поширюється в будь-якому випадку.
2. Поширюється.
3. Не поширюється, якщо транспортний засіб в'їхав у позначену зону та виїхав із неї на найближчому перехресті до місця призначення.

Дод. 1: 3.1

6 Чи дозволяється перетинати суцільну білу лінію дорожньої розмітки, що позначає край проїзної частини, суміжний з узбіччям, на автомагістралі?



1. Забороняється.
2. Забороняється лише тоді, коли на автомагістралі дуже інтенсивний рух.
3. Дозволяється при вимушеній зупинці.

Дод. 2: 1.2

7 Зупинку заборонено ближче якої відстані від посадочних майданчиків, а за їх відсутності — від покажчика зупинки маршрутних транспортних засобів?

1	2	3	4	5
30 м	35 м	40 м	45 м	50 м

15.9 «Е»

8 Чи мають перевагу додаткові вимоги регулювальника перед вимогами дорожніх знаків і дорожньої розмітки?

1. Мають перевагу тільки з 06.00 до 19.00.
2. Водії і пішоходи повинні виконувати додаткові вимоги регулювальника, навіть якщо вони суперечать вимогам дорожніх знаків і розмітки.
3. Мають перевагу тільки перед вимогами дорожніх знаків пріоритету.

8.3

9 Які зовнішні світлові прилади повинні бути ввімкнені на транспортних засобах при буксируванні? Дайте повну відповідь.

1. Поза населеними пунктами ближнє світло фар на тому, який буксирують, і габаритні ліхтарі на тому, що буксирує.
2. В населених пунктах ближнє світло фар на тому, що буксирує, і аварійна світлова сигналізація на тому, який буксирують, транспортних засобах.
3. Ближнє світло фар на тому, що буксирує, і аварійна світлова сигналізація на тому, який буксирують, механічних транспортних засобах.

9.8 «Г»,
9.9 «Г»

10 На перехресті організовано круговий рух. Проїзна частина, якою Ви під'їжджаєте до перехрестя, має дві смуги для руху в даному напрямку. Яку смугу Вам дозволяється зайняти для повороту при в'їзді на перехрестя?

1. Праву або ліву смугу.
2. Праву смугу.
3. Ліву смугу.

10.4

- 11** Чи правильно зупинився перед перехрестям на заборонний сигнал світлофора водій вантажного автомобіля, якщо на перехресті він повинен продовжити рух у прямому напрямку?



1. Не правильно .
2. Правильно, тому що рух у прямому напрямку дозволяється з будь якої полоси.

11.6

- 12** Якщо на транспортному засобі встановлено розпізнавальний знак «Обмеження максимальної швидкості», то водію цього транспортного засобу:

1. Дозволяється перевищувати вказану на знакові швидкість тільки на ділянках доріг, де швидкість руху підвищена, про що свідчать установлені дорожні знаки.
2. Дозволяється перевищувати вказану на знакові швидкість тільки при обгоні транспортних засобів, які рухаються зі швидкістю до 30 км/год.
3. Забороняється перевищувати вказану на знакові швидкість руху.

12.9 «Б»

- 13** Якщо зустрічний роз'їзд утруднений, водій якого транспортного засобу повинен дати дорогу?

1. Який першим підїхав до вузької частини дороги.
2. Габарити якого не заважають зустрічному руху, але яке перевозить металопродукції.
3. На смузі руху якого є перешкода.

13.4

- 14** Вантаж розміщується і при необхідності закріплюється на транспортному засобі так, щоб він:

1. Не виступав за габарити транспортного засобу позаду більш ніж на 0,8 м.
2. Не виступав вище бортів платформи.
3. Не створював шуму, не піднімав пилу, не забруднював проїзну частину й навколишнє середовище.
4. Усі перелічені умови правильні.


22.3 «Г»

- 15** Водій може покинути своє місце або залишити транспортний засіб, якщо:

1. Він заглушив двигун і поставив автомобіль на стоянкове гальмо.
2. Він ужив необхідних заходів, які виключають довільний рух транспортного засобу, проникнення до нього і (або) незаконного заволодіння ним.
3. Він заглушив двигун і встановив задні противідкотні упори.

15.12

- 16** Зелений автомобіль проїде перехрестя:



1. Першим.
2. Після червоного, синього.
3. Після синього, червоного.
4. Після синього, перед червоним.

16.12; 16.13

- 17** Для безпеки дорожнього руху в умовах сильного туману водієві рекомендується:

1. Увімкнути задні протитуманні ліхтарі і скоротити дистанцію, щоб орієнтуватися за габаритними ліхтарями транспортного засобу, що рухається попереду.
2. Увімкнути задні протитуманні ліхтарі і збільшити дистанцію руху.
3. Рекомендується будь-яка із зазначених у відповідях 1 і 2 дій.

ОБР

- 18** Сумарний люфт у рульовому керуванні автобуса з дозволеною максимальною масою до 5 т не повинен перевищувати:

1. 10 градусів.
2. 15 градусів.
3. 20 градусів.
4. 25 градусів.
5. 30 градусів.


31.4.2 «А»

- 19** Дайте повну відповідь, коли дозволяється користуватися фарами-прожектором?

1. У будь-яких місцях, якщо в цьому є необхідність.
2. Водіям оперативних транспортних засобів під час виконання службових завдань з ужиттям заходів для того, щоб не засліплювати інших учасників дорожнього руху.
3. В умовах недостатньої видимості.
4. В усіх перелічених випадках.
5. У випадках, зазначених у відповідях 2 і 3.

19.6

- 20** Якщо рух через залізничний переїзд заборонено, а засоби організації дорожнього руху відсутні, то водій повинен зупинитися до першої рейки не ближче ніж за:



1. 10 м.
2. 5 м.
3. 15 м.
4. 20 м.

20.3

1 Що означає, за Правилами дорожнього руху, термін «стоянка»?

1. Зупинку транспортного засобу часом більше ніж на 10 хвилин.
2. Припинення руху транспортного засобу з інших причин, ніж необхідність виконання вимог Правил дорожнього руху, або на більший час, ніж це потрібно для посадки (висадки) пасажирів, навантажування (розвантажування) вантажу.
3. Припинення руху транспортного засобу на час, більший ніж 5 хвилин, з причин, не пов'язаних із необхідністю виконання вимог Правил дорожнього руху, посадкою (висадкою) пасажирів, навантажуванням (розвантажуванням) вантажу.
4. Усі відповіді доповнюють одна одну і тому є вірними.

1.10


2 На які транспортні засоби дія даного дорожнього знака не поширюється? Дайте повну відповідь.



1. Маршрутне таксі.
2. Таксі з увімкненим таксометром.
3. Автомобіль, керований інвалідом, позначений розпізнавальним знаком «Інвалід».
4. Транспортні засоби, зазначені у відповідях 2 і 3.
5. Маршрутні транспортні засоби.

2.8;
дод. 1: 3.35


3 Даний дорожній знак:



1. Застосовується для позначення кінця населеного пункту, з якого на даній дорозі втрачають силу вимоги Правил дорожнього руху, які визначають порядок руху в населених пунктах.
2. Застосовується для позначення кінця населеного пункту, з якого на даній дорозі не діють вимоги Правил дорожнього руху, які регламентують порядок руху поза населеними пунктами.

Дод. 1: 5.46

4 Даний дорожній знак з табличкою:



1. Забороняє в'їзд всіх транспортних засобів на смугу руху, вказану табличкою.
2. Забороняє в'їзд всіх транспортних засобів на всі смуги руху, крім тієї смуги, на яку вказує табличка.
3. Забороняє в'їзд всіх транспортних засобів по всій ширині проїзної частини.

Дод. 1: 3.21, 7.9

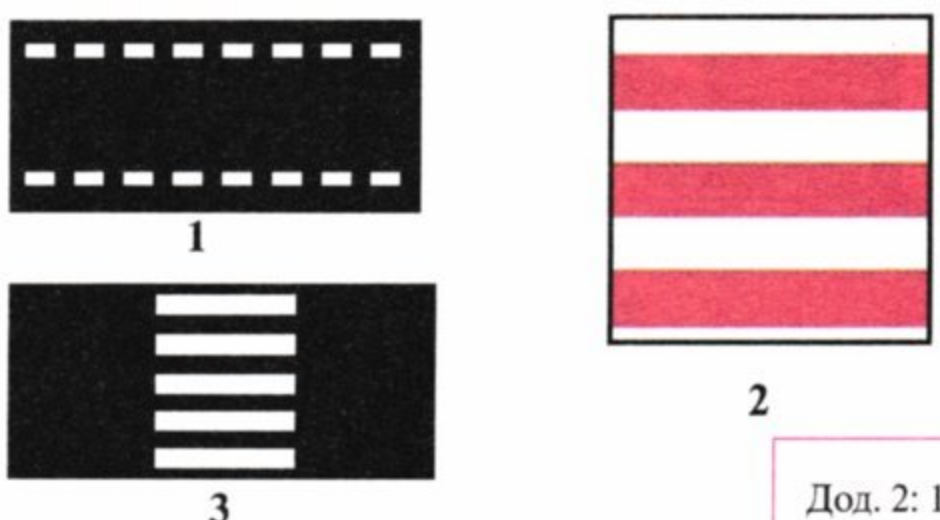
5 Чи дозволяється такому автопоїзду проїхати по мосту?



1. Забороняється.
2. Дозволяється.


Дод. 1: 3.15

6 На якому з малюнків показано розмітку пішохідного переходу, де рух регулюється світлофором?



Дод. 2: 1.14.2

7 Даний дорожній знак показує, що:



1. Попереду ділянка дороги, на якій водій має переважне право проїзду перехрест'я нерівнозначних доріг.
2. Попереду ділянка дороги, на якій водій має переважне право проїзду на регульованому перехресті.
3. Даний знак, установлений перед першим перехрест'ям, дає переважне право проїзду на всіх подальших перехрест'ях.
4. Інформація і вимоги, викладені у відповідях 1 і 3.

Дод. 1: 2.3

8 У якій відповіді правильно зазначено дозволений напрямок руху?



1. Прямо й розворот.
2. Тільки прямо.
3. Тільки розворот.

8.2

9 Чи дозволяється перевозити дітей на мотоциклі без бокового причепа?

1. Забороняється.
2. Дозволяється.
3. Дозволяється за наявності дорослого пасажирів.
4. Дозволяється — дітей більш ніж 12-річного віку і зріст яких більше 145 см.

21.11 «Б»

10 Як правильно, згідно з вимогами Правил дорожнього руху, виконати поворот ліворуч з дороги з двостороннім рухом на дорогу з одностороннім двосмуговим рухом?

1. З крайньої лівої смуги для руху тільки на крайню ліву смугу.
2. З будь-якої смуги для руху тільки на крайню праву смугу.
3. З крайньої лівої смуги для руху на крайню праву, а якщо вона зайнята, то на другу смугу.


10.4; 10.5

11 Яка із зазначених дій заборонена в житловій зоні?

1. Стоянка понад одну годину.
2. Рух зі швидкістю більш ніж 15 км/год.
3. Транзитний рух транспортних засобів.
4. Усі вищезазначені дії.

26.2 «А»

12 Хто з учасників дорожнього руху порушує Правила?



1. Порушують водії всіх транспортних засобів.
2. Ніхто не порушує.
3. Порушують водії вантажного автомобіля і мопеда.
4. Порушує водій червоного легкового автомобіля і пішоходи.


27.2 «Б»;
 4.14 «Д»;
 6.6 «Б»

13 Як подати першу медичну допомогу при харчовому отруєнні в дорозі?

1. Зупинитися. Вийти на свіже повітря, прийняти валеріанові краплі і при можливості випити гарячий чай або каву.
2. Зупинитися. Прийняти багато пиття, викликати штучно блювання, прийняти активоване вугілля.
3. Виконати дії, зазначені у відповіді 1 або 2.

ППМД
 стор. 7,13


14 Чи дозволяється обгін автобуса у даному місці?



1. Забороняється.
2. Дозволяється.

14.6 «Б»


15 Водій якого транспортного засобу порушив правила стоянки?



1. Водій червоного автомобіля.
2. Водій синього автомобіля.
3. Обидва водії не порушили.
4. Обидва водії порушили.

15.10 «Д»

16 Як повинен учинити водій, якщо ввімкнувся дозволяючий сигнал світлофора, а в напрямку його руху є пішоходи, які не встигли перейти проїзну частину?



1. Проїхати пішохідний перехід на мінімальній швидкості, дотримуючись заходів безпеки.
2. Подати звуковий сигнал і проїхати пішохідний перехід.

3. Дати дорогу пішоходам, які закінчують перехід.

16.5

17 Водії транспортних засобів повинні дати дорогу автобусу або тролейбусу:

1. У населеному пункті, якщо він починає рухатися від позначеної зупинки, яка розташована в заїзному «кармані».
2. Якщо він починає рух від місця своєї зупинки.

17.4

18 За яких з перелічених умов забороняється експлуатація транспортних засобів? Дайте повну відповідь.

1. Розшарування каркасу шин, відшарування протектора і боковини.
2. Забруднені габаритні ліхтарі.
3. За умов, зазначених у відповідях 1 і 2.

31.4.5 «Б»

19 На крутому спуску, де зустрічний роз'їзд ускладнений, водій транспортного засобу, що рухається на спуск, повинен дати дорогу:

1. Тільки тому транспортному засобу, у якого дозволена максимальна маса понад 3,5 т.
2. Транспортним засобам, що рухаються вгору.
3. В населених пунктах — транспортним засобам, що рухаються вгору.

28.1

20 Червоний автомобіль проїде перехрестя:



1. Другим.
2. Першим.
3. Останнім.

16.11; 16.14

1 Що називається «гальмовим шляхом»?

- Відстань, яку проходить транспортний засіб під час екстреного гальмування з початку впливу на механізм керування гальмовою системою (педаль, рукоятку) до місця його зупинки.
- Відстань, пройдена транспортним засобом з моменту виявлення водієм небезпеки до повної зупинки.


1.10; ОБР

2 Чи дозволяється пасажиром під час руху відвертати увагу водія від керування транспортним засобом?

- Дозволяється.
- Забороняється.
- Дозволяється тільки для придбання квитків у маршрутних транспортних засобах.

5.3 «А»


3 Даний дорожній знак з табличкою попереджає, що:



- Вимоги знака і таблички діють постійно.
- Дія знака поширюється тільки на той період часу, коли покриття проїзної частини є вологим.
- Дія знака не поширюється на той період, коли покриття проїзної частини є вологим.

Дод. 1: 1.38, 7.13

4 Даний дорожній знак з табличкою попереджає, що:



- Попереду ділянка дороги, яка виходить на набережну.
- Попереду ділянка дороги, яка виходить на берег водойми.
- Попереду в'їзд на поромну переправу.
- Інформація, закладена у відповідях 1, 2, 3.

Дод. 1: 1.8, 7.11

5 Чи діє заборонний дорожній знак на ту ділянку дороги, де зупинився водій?



- Не діє.
- Діє.

Дод. 1: 3.34

6 Хто з водіїв правильно зупинився для висадки пасажирів?



- Тільки водій синього автомобіля.
- Водії синього і червоного автомобілів.
- Тільки водій мотоцикла.
- Усі водії.

Дод. 2: 1.10.1, 1.17

7 На якій відстані до початку небезпечної ділянки встановлюються попереджувальні дорожні знаки поза населеними пунктами?

1	2	3
150—300 м	400—500 м	50—100 м

Дод. 1

8 У якому напрямку дозволено рух?



- Праворуч у перший та другий проїзди.
- Праворуч у другий проїзд.
- Праворуч у перший проїзд.
- Прямо і праворуч у перший проїзд.

8.7.3 «Е»

9 Чи завжди водій повинен подавати сигнали світловими покажчиками поворотів при зміні напрямку свого руху?

- Тільки на дорозі з інтенсивним рухом.
- Тільки у тому випадку, коли позаду рухається інший транспортний засіб.
- Повинен завжди. Сигнал забороняється подавати, якщо він може бути незрозумілим для інших учасників руху.

9.2; 9.4

10 Чи на всіх мостах Правилами дорожнього руху заборонено розворот?

- Розворот заборонено тільки на вузьких мостах.
- Розворот заборонено тільки на мостах з трамвайними коліями.
- Розворот заборонено на всіх мостах.


10.7 «Б»

11 Чи дозволяється рух по трамвайних коліях при проїзді перехрестя?

1. Дозволяється тільки по трамвайних коліях попутного напрямку.
2. Дозволяється по трамвайних коліях попутного напрямку, якщо кількість смуг і напрямок руху по них не визначені дорожнім знаком.
3. Дозволяється, тільки якщо не створюються перешкоди трамваєві.
4. Забороняється.

11.8

12 Водію якого транспортного засобу дозволено рух зі швидкістю, вказаною на дорожньому знакові?



1. Тільки водію мікроавтобуса.
2. Обом водіям дозволено.
3. Обом водіям заборонено.

12.6 «В»

13 Чи дозволяється транспортним засобам обслужити громадян або об'єкти, розташовані в пішохідній зоні?

1. Забороняється.
2. Дозволяється, якщо до об'єктів немає інших під'їздів.
3. Дозволяється в будь-якому разі.

26.3

14 На якій мінімальній відстані перед залізничним переїздом забороняється обгін?

1. На залізничних переїздах і ближче ніж за 20 м перед ними.
2. На залізничних переїздах і ближче ніж за 50 м перед ними.
3. Обгін дозволяється майже до самого переїзду, якщо за переїздом проїзна частина вільна від транспортних засобів.
4. На залізничних переїздах і ближче ніж за 100 м перед ними.


14.6 «Б»

15 Як повинен вчинити водій нерейкового транспортного засобу у випадку вимушеної зупинки на трамвайній колії і неможливості прибрати його?

1. Увімкнути тільки аварійну світлову сигналізацію.
2. Установити тільки знак аварійної зупинки відповідно до Правил дорожнього руху.
3. Виконати дії, зазначені у відповідях 1 або 2.
4. Виконати дії, зазначені у відповідях 1 і 2 тільки в умовах недостатньої видимості.

15.9 «Б»
15.14


16 У якій відповіді правильно зазначено черговість проїзду перехрестя?



1. Велосипед, автобус, автомобіль.
2. Автобус, автомобіль, велосипед.
3. Автомобіль, автобус, велосипед.

16.12

17 Чи дозволяється заїжджати на смугу, позначену даним дорожнім знаком, при виконанні правого повороту?



1. Забороняється.
2. Дозволяється, якщо смуга не відокремлена від решти проїзної частини суцільною лінією розмітки.
3. Дозволяється в усіх випадках.


17.2

18 Якщо під час гальмування транспортний засіб займає смугу руху більшу, ніж передбачено нормативом, водій повинен:

1. Рухатися як можна коротшим шляхом до місця стоянки або ремонту, дотримуючись заходів обережності.
2. Припинити подальший рух.
3. Продовжити рух без різкого гальмування.

31.4.1 «Б»,
прим. 1; 31.5


19 Останнім проїде перехрестя:



1. Зелений автомобіль.
2. Червоний автомобіль.
3. Синій автомобіль.

16.12

20 Транспортні засоби проїдуть перехрестя в наступному порядку:



1. Трамвай, синій автомобіль, білий автомобіль.
2. Трамвай, білий, а за ним — синій автомобіль.
3. Синій автомобіль, трамвай, а за ним — білий автомобіль.

16.11; 16.14

1 У якому випадку дозволяються посадка й висадка пасажирів з крайньої смуги проїзної частини?

1. На розсуд водія та за умови, що це буде безпечно й не створить перешкод іншим учасникам руху.
2. При вимушеній зупинці транспортного засобу.
3. На дорогах з одностороннім рухом, що мають дві смуги або більше.
4. Якщо це неможливо зробити з тротуару або узбіччя та за умови, що це буде не з боку суміжної смуги для руху, безпечно та не створить перешкод іншим учасникам руху.


5.1

2 Дайте повну відповідь. Водій і пасажир транспортного засобу, обладнаного ременями безпеки, зобов'язані бути пристебнуті:

1. Під час руху на автомагістралях.
2. Під час руху на гірських дорогах.
3. Під час руху поза населеними пунктами.
4. В усіх випадках під час руху транспортного засобу.

2.3 «В»

3 Даний дорожній знак показує, що:



1. Попереду ділянка дороги, на якій забороняється рух на велосипедах.
2. Попереду ділянка дороги, на якій забороняється рух на інвалідних колясках.
3. Попереду ділянка дороги, на якій забороняється рух на велосипедах і мопедах.
4. Інформація, закладена у відповідях 1 і 2.

Дод. 1: 3.8

4 За яким з даних дорожніх знаків дозволяється рух зі швидкістю нижче ніж зазначена на них? Дайте повну відповідь.

1. За знаком 
2. За знаком 
3. За знаком 
4. За знаками, зазначеними у відповідях 1 і 3.

Дод. 1: 5.30, 3.31

5 Який дорожній знак дозволяє розворот?







- 1
- 2
- 3
- 4
- 5

Дод. 1: 3.23

6 У яких напрямках дозволяється рух?



1. У напрямках А, Б і В.
2. У напрямках Б і В.
3. Тільки в напрямку А.
4. Тільки в напрямку Б.
5. Тільки в напрямку В.

Дод. 2: 1.11

7 Що позначає дорожній знак круглої форми, на синьому фоні якого зображені окантовка і похила смуга червоного кольору?

1. Забороняється стоянка всіх транспортних засобів.
2. Забороняється в'їзд усіх транспортних засобів.
3. Забороняється користування звуковими сигналами, за винятком випадків, коли без цього неможливо запобігти дорожньо-транспортній пригоді.
4. Забороняються зупинка і стоянка транспортних засобів.

Дод. 1: 3.35

8 Жезл застосовується:

1. Тільки працівниками підрозділів ДАІ.
2. Працівниками підрозділів ДАІ і військової інспекції безпеки дорожнього руху.
3. Працівниками міліції, черговими на залізничних переїздах.
4. Працівниками підрозділів ДАІ і черговими на поромних переправах.
5. Усіма переліченими регулювальниками.

8.8

9 На якому з нижчеперелічених транспортних засобів повинне бути ввімкнене ближнє світло фар при русі у світлу пору доби?

1. На маршрутних транспортних засобах.
2. На автобусах (мікроавтобусах), що здійснюють перевезення організованих груп дітей.
3. На транспортних засобах, зазначених у відповідях 1 і 2.

9.8 «В»

10 Перед початком перестроювання Ви повинні переконатися:

1. Що маневр буде безпечним і не створить перешкод або небезпеки іншим учасникам руху.
2. Що Ваш маневр буде зрозумілий пішоходам, і вони утримаються від переходу.
3. У відсутності заборонних знаків.

10.1

- 11** В якому з перелічених випадків транспортні засоби повинні рухатися якнайближче до правого краю проїзної частини? Дайте повну відповідь.
1. При перевезенні небезпечних вантажів.
 2. При перевезенні великогабаритних вантажів.
 3. При русі зі швидкістю не більше ніж 40 км/год.
 4. У випадках, зазначених у відповідях 1, 2, 3.

11.7

- 12** Що позначає даний дорожній знак?



1. Доріжка, призначені для руху пішоходів і велосипедистів.
2. Доріжка, призначені для руху тільки пішоходів.
3. Місце пішохідного переходу.

Дод. 1: 4.14

- 13** Дайте повну відповідь, як зупинити кровотечу.

1. За допомогою стискальної пов'язки або закрутки.
2. За допомогою джгута або згинанням кінцівки.
3. Способами, зазначеними у відповідях 1 і 2.

ППМД
стор. 4

- 14** Даним розпізнавальним знаком позначаються автомобілі:



1. Керовані водіями, які мають водійський стаж до 2 років.
2. Ті, що перевозять небезпечні вантажі.
3. Керовані інвалідами.
4. Керовані глухонімими або глухими водіями.


30.3 «Б»

- 15** На якій відстані від тротуару дозволяється зупинити транспортний засіб?

1. Як можна правіше, щоб не перешкоджати іншим учасникам дорожнього руху.
2. Не більше 15 см.
3. Не більше 30 см.

15.2

- 16** Автомобілі проїдуть перехрестя у наступному порядку:



1. Зелений, червоний, синій автомобілі.
2. Червоний, синій, зелений автомобілі.
3. Червоний, зелений, синій автомобілі.

16.11; 16.14

- 17** В якому з перелічених випадків водію можна прибрати одну руку з рульового колеса під час руху?

1. Тільки для ввімкнення одного з важелів органів керування транспортним засобом.
2. Тільки під час паління.
3. У випадках, зазначених у відповідях 1 і 2.

ОБР

- 18** За яких з перелічених умов забороняється експлуатація транспортних засобів? Дайте повну відповідь.

1. Є люфти в з'єднаннях рами мотоцикла з рамою бокового причепа.
2. Зруйновано корінний лист або центральний болт ресори.
3. За умов, зазначених у відповідях 1 і 2.

31.4.7 «Г», «Д»

- 19** Під час зупинки на дорозі у темну пору доби на транспортному засобі повинні бути ввімкнені:

1. Ближнє світло фар або протитуманні ліхтарі.
2. Габаритні або стоянкові ліхтарі.
3. Дальнє світло фар.

19.4

- 20** Дана дорожня розмітка:



1. Позначає наближення до перехрещення доріг, на якому рух дозволяється в усіх напрямках.
2. Забороняє рух у вказаних напрямках.
3. Указує дозволені на перехресті напрямки руху по смугах.

Дод. 2: 1.18

1 За визначенням Правил дорожнього руху, «смуга руху» — це:

1. Поздовжня смуга на дорозі з одnobічним рухом завширшки не менше як 3 м.
2. Поздовжня смуга для руху на автомагістралі завширшки не менше як 3 м.
3. Поздовжня смуга на проїзній частині завширшки не менше як 2,75 м, позначена або не позначена дорожньою розміткою і призначена для руху нерейкових транспортних засобів.

1.10

2 Як можна встановити, що водій оперативного транспортного засобу виконує невідкладне службове завдання?

1. Якщо водій такого автомобіля подав звуковий сигнал, увімкнув дальнє світло фар і проїхав на забороняючий сигнал світлофора.
2. Якщо водій увімкнув пробліскові маячки синього або червоного кольору і подає спеціальні звукові сигнали.
3. Водії оперативних транспортних засобів завжди виконують невідкладні службові завдання, і тому завжди слід давати їм дорогу.

3.1

3 Яким з перелічених транспортних засобів дозволено рух по дорозі, на якій встановлено даний дорожній знак?



1. Усім транспортним засобам.
2. Тільки механічним транспортним засобам.
3. Тільки транспортним засобам, максимальна швидкість яких не менша від 40 км/год.
4. Автомобілям, автобусам, мікроавтобусам і мотоциклам.

Дод. 1: 5.3

4 Даний дорожній знак з табличкою попереджає, що:



1. Попереду ділянка дороги, на якій можуть бути падіння каміння, обвали, зсуви. Табличка вказує довжину небезпечної ділянки.
2. Попереду ділянка дороги, на якій можливий викид гравію. Табличка вказує відстань до небезпечної ділянки.
3. Попереду ділянка дороги, яка має нерівності на проїзній частині. Табличка вказує довжину небезпечної ділянки.

Дод. 1: 1.16, 7.2.1

5 У якій відповіді правильно зазначено всі дозволені напрямки руху автомобіля?



1. Тільки прямо.
2. Тільки праворуч.
3. Тільки ліворуч.
4. В усіх напрямках.
5. Ліворуч і праворуч.

Дод. 1: 3.6

6 Яким із позначених стрілками напрямків дозволено рух?



1. Ліворуч і у зворотному напрямку.
2. Прямо, ліворуч і у зворотному напрямку.
3. Тільки прямо.

Дод. 2: 1.11

7 Даний дорожній знак попереджає, що:



1. Попереду ділянка дороги з підвищеною слизькістю проїзної частини.
2. Попереду ділянка дороги з двома і більше закругленнями з обмеженою оглядовістю або небезпечними поворотами.
3. Попереду ділянка дороги, на якій ширина проїзної частини зменшується на одну смугу.
4. Інформація, закладена у відповідях 1 і 3.

Дод. 1: 1.3.1

8 Водієві якого транспортного засобу надається переважне право руху на перехресті рівнозначних доріг з круговим рухом?

1. Транспортному засобу, що наближається праворуч.
2. Транспортному засобу, що рухається по колу на перехресті.
3. Транспортному засобу, що наближається до перехрестя з більшою швидкістю.

16.12

9 Чи є увімкнення ближнього світла фар у світлу пору доби попереджувальним сигналом?

1. Не є.
2. Є.

9.1 «Г»

10 З якої смуги дозволяється рух прямо?



1. Тільки з лівої смуги.
2. Тільки з правої смуги.
3. З лівої або правої смуги.
4. З будь-якої смуги.

10.4

11 Механічний транспортний засіб з недіючим рульовим керуванням має буксируватися:

1. На жорсткому зчепленні, якщо фактична маса буксирующего вдвічі перевищує фактичну масу буксированого.
2. Способом його часткового навантаження або на жорсткому зчепленні.
3. На жорсткому зчепленні.
4. Способом його часткового навантаження.

23.7

12 У яких з перелічених випадків рекомендується зменшити швидкість руху? Дайте повну відповідь.

1. На ділянках доріг з небезпечними поворотами.
2. На ділянках доріг, на яких можлива поява диких тварин або худоби.
3. На ділянках доріг, зазначених у відповідях 1 і 2.
4. На ділянках доріг, зазначених у відповідях 1 і 2, а також на ділянках з затяжними спусками.

12.1

13 Як правильно зняти з потерпілого одяг при пораненні руки?

1. Одяг зняти з хворої руки, а потім вивільнити здорову.
2. Одяг знімати з обох рук одночасно.
3. Одяг зняти зі здорової руки, а потім вивільнити хвору.

ППМД


14 Дайте повну відповідь, де розміщується даний розпізнавальний знак?



1. На транспортному засобі, що має особливу форму, — обов'язково.
2. На транспортному засобі, що використовується для дорожніх робіт, — обов'язково.
3. На інших транспортних засобах — за бажанням їх власників.
4. У випадках, перелічених у відповідях 1, 2, 3.

30.3 «І»


15 Чи дозволяється водію транспортного засобу зупинка на смузі руху, яка позначена дорожньою розміткою «А»? Дайте повну відповідь.



1. Дозволяється зупинитися біля правого краю проїзної частини тільки водієві маршрутних транспортних засобів для посадки чи висадки пасажирів.
2. Дозволяється зупинитися у правого краю проїзної частини водієві будь-якого транспортного засобу для посадки або висадки пасажирів.
3. Забороняється в будь-якому випадку на смузі для руху маршрутних транспортних засобів.

17.2

16 Червоний автомобіль проїде перехрестя:



1. Після чорного.
2. Після чорного, синього.
3. Першим.

16.9

17 Чи дозволяється буксирування автомобіля по дорозі, на якій встановлено даний дорожній знак?



1. Забороняється.
2. Дозволяється буксирування тільки легкових автомобілів.
3. Дозволяється буксирування тільки на жорсткому зчепленні.
4. Дозволяється буксирування на будь-якому зчепленні.

Дод. 1: 3.4

18 За яких з перелічених умов забороняється експлуатація транспортних засобів? Дайте повну відповідь.

1. Вільний хід педалі зчеплення не відповідає вимогам підприємства-виробника.
2. Не працює спідометр.
3. За умов, зазначених у відповідях 1 і 2.


31.4.7 «Г»

19 Водій повинен перемкнути дальнє світло фар на ближнє, якщо він може засліпити інших водіїв на відстані не менш ніж:

1. За 100 м до зустрічного транспортного засобу.
2. За 150 м до зустрічного транспортного засобу.
3. За 250 м до зустрічного транспортного засобу, а також тоді, коли він може засліпити інших водіїв, зокрема тих, які рухаються в попутному напрямку.
4. За 300 м до зустрічного транспортного засобу.

19.2

20 Другим проїде перехрестя:



1. Зелений автомобіль.
2. Жовтий автомобіль.
3. Білий автомобіль.
4. Червоний автомобіль.

16.11; 16.13

1 Якщо ширина проїзної частини недостатня для розвороту з крайнього лівого положення, чи дозволяється здійснювати його від правого краю проїзної частини?

1. Забороняється.
2. Дозволяється в будь-якому випадку.
3. Дозволяється, якщо це не суперечить вимогам заборонних чи наказових дорожніх знаків, дорожньої розмітки та не створює небезпеки чи перешкод іншим учасникам руху.

10.6

2 Чи дозволяється водію легкового автомобіля зайняти місце у колоні, яку супроводжують транспортні засоби з увімкненими проблісковими маячками?

1. Забороняється тільки тоді, коли увімкнені пробліскові маячки синього і червоного кольору.
2. Забороняється тільки тоді, коли увімкнені пробліскові маячки червоного кольору.
3. Забороняється тільки тоді, коли увімкнені пробліскові маячки оранжевого кольору.
4. Дозволяється, якщо колона рухається зі швидкістю до 30 км/год.
5. Забороняється у випадках, зазначених у відповідях 1 і 2.

3.4

3 Про що попереджує даний дорожній знак?



1. Попереду назустріч руху можлива поява колони туристів-дітей.
2. Попереду ділянка дороги, на якій можлива поява дітей з території дитячого закладу, що примикає безпосередньо до дороги.
3. Попереду ідуть спортивні змагання дітей.

Дод. 1: 1.33

4 Який із знаків зазначає протяжність небезпечної ділянки дороги, позначеної попереджувальними дорожніми знаками?



Дод. 1: 7.2.1

5 Хто з водіїв правильно поставив свій транспортний засіб на стоянку на дорозі з одностороннім рухом?



1. Обидва правильно.
2. Обидва неправильно.
3. Водій вантажного автомобіля.
4. Водій легкового автомобіля.


Дод. 1: 5.5; 15.3, 15.9 «Г»

6 На автомагістралях заборонено:

1. Випередження транспортних засобів, що рухаються зі швидкістю 90 км/год.
2. Рух велосипедів, тракторів, самохідних машин і механізмів.
3. Усі перелічені дії.

6.6 «Б»; 27.2 «А»

7 Яким транспортним засобам забороняється рух по ділянці дороги, перед якою встановлено даний дорожній знак? Дайте повну відповідь.



1. Маршрутним транспортним засобам.
2. Вантажним автомобілям з дозволеною максимальною масою понад 7 т.
3. Будь-яким транспортним засобам, які не можуть розвивати швидкість, зазначену на знакові, або Правилами дорожнього руху їм заборонено рух із зазначеною швидкістю.
4. Транспортним засобам, зазначеним у відповідях 1, 2, 3.

Дод. 1: 4.16

8 При заборонному сигналі світлофора або жесті регулювальника водії перед перехрестям зобов'язані зупинитися:

1. Тільки перед дорожньою розміткою «стоп-лінія», дорожнім знаком «Місце зупинки», а якщо їх немає, — перед світлофором, пішохідним переходом.
2. Якщо відсутня розмітка, знак, світлофор і пішохідний перехід, — перед перехрещуваною проїзною частиною, не створюючи перешкод для руху пішоходів.
3. У місцях, зазначених у відповідях 1 або 2.

8.10

9 Коли на буксированому механічному транспортному засобі повинна бути ввімкнена аварійна світлова сигналізація? Дайте повну відповідь.

1. Коли на буксированому транспортному засобі несправне рульове керування.
2. Коли на буксированому транспортному засобі несправна гальмова система.
3. В темну пору доби та за умов недостатньої видимості.
4. В темну пору доби.
5. Завжди повинна бути ввімкнена під час буксирування.

9.9 «Г»

10 Чи дозволяється рух тракторів або самохідних машин і механізмів на автомагістралях?

1. Дозволяється рух тракторів і самохідних машин у робочі дні, крім днів святкових і вихідних.
2. Дозволяється рух тракторів і самохідних машин.
3. Забороняється рух тракторів, самохідних машин і механізмів.
4. Дозволяється рух тільки тракторів.
5. Дозволяється рух тільки самохідних машин.

27.2 «А»

11 В яких з перелічених випадків забороняється обгін на дорогах з двостороннім рухом? Дайте повну відповідь.

1. На дорогах, що мають по одній смузі для руху в кожному напрямку.
2. На дорогах, що мають тільки по дві смуги для руху в кожному напрямку.
3. На дорогах, що мають тільки по три смуги для руху в кожному напрямку.
4. У випадках, зазначених у відповідях 1, 2, 3.
5. У випадках, зазначених у відповідях 2, 3.

11.4; 11.5;
14.6 «Е»

12 На транспортному засобі встановлено розпізнавальний знак «Обмеження максимальної швидкості». Чи дозволяється перевищувати вказану на знакові швидкість?

1. Дозволяється перевищувати вказану на знакові швидкість тільки під час обгону транспортних засобів, що рухаються зі швидкістю менше ніж 30 км/год.
2. Забороняється перевищувати вказану на знакові швидкість.
3. Дозволяється перевищувати вказану на знакові швидкість тільки на ділянках доріг, де швидкість руху підвищена встановленням відповідного дорожнього знака.

12.9 «Б»

13 Які транспортні засоби дозволяється ставити на проїзній частині в два ряди на стоянку?

1. Мотоцикли без бокового причепа.
2. Легкові малолітражні автомобілі.
3. Транспортні засоби, зазначені у відповідях 1 і 2.

15.4

14 Як повинен діяти водій автомобіля під час обгону його іншим транспортним засобом?

1. Зменшити швидкість руху, подати звуковий сигнал.
2. Не змінюючи смуги руху, подати сигнал покажчиком правого повороту.
3. Не перешкоджати обгону підвищенням швидкості руху або іншими діями.

14.3


15 Зупинку заборонено:



1. На пішохідних переходах і ближче 10 м від них з обох боків.
2. За пішохідним переходом зупинку дозволено.
3. Тільки перед пішохідним переходом за 5 м.

15.9 «Г»

16 Водій якого транспортного засобу повинен дати дорогу?



1. Водій автомобіля — водію мотоцикла.
2. Водій мотоцикла.

16.9

17 Рухаючись зі швидкістю близько 60 км/год, Ви знезацька потрапили на ділянку дороги з ожеледицею. Що слід учинити в даній ситуації?



1. Не змінюючи положення рульового колеса, вимкнути передачу й рухатися накатом.
2. Не змінюючи положення рульового колеса й швидкості руху, проїхати слизьку ділянку дороги.

ОБР

18 Якщо за пішохідним переходом утворився затор, який змусить водія зупинитися на пішохідному переході, водій зобов'язаний:



1. Зупинитися на пішохідному переході, дотримуючись необхідної дистанції від транспортного засобу, що стоїть попереду.
2. Зупинитися і не в'їжджати на пішохідний перехід, бо це створить перешкоду для руху пішоходів.


18.6

19 За яких з перелічених умов забороняється експлуатація транспортних засобів? Дайте повну відповідь.

1. Несправний або відсутній передбачений конструкцією підсилювач рульового керування або рульовий демпфер на мотоциклах.
2. Відсутній вогнегасник на мотоциклі з боковим причепом.
3. За умов, зазначених у відповідях 1 і 2.

31.4.2 «В»


20 Другим проїде перехрестя:



1. Жовтий автомобіль.
2. Синій автомобіль.
3. Зелений автомобіль.
4. Червоний автомобіль.

16.11; 16.13

1 У якому положенні має бути вимкнено попереджувальний сигнал покажчика повороту ліворуч за вимогами Правил дорожнього руху?



- 1. У положенні В.
- 2. У положенні Б.
- 3. У положенні А.

9.4

2 Чи дозволяється пішоходам раптово виходити на пішохідний перехід?

- 1. Дозволяється в будь-який час, бо на пішохідному переході пішоходи мають перевагу.
- 2. Дозволяється тільки у світлу пору доби, так як на пішохідному переході пішоходи мають перевагу.
- 3. Забороняється.

4.14 «Б»

3 Даний дорожній знак попереджує, що:



- 1. Попереду ділянка дороги з небезпечними поворотами.
- 2. Попереду ділянка дороги, яка має нерівності проїзної частини — хвилястості, напливи, спучування.
- 3. Попереду ділянка дороги, де є непланвні сопряжіння з мостами.
- 4. Попереду ділянка дороги з вибоїнами на проїзній частині.
- 5. Інформація, закладена у відповідях 3 і 4.

Дод. 1: 1.10

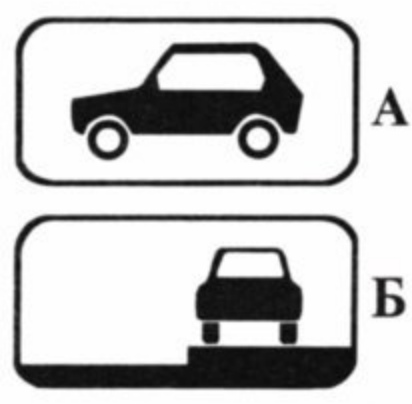
4 Якщо перед ділянкою дороги встановлено даний дорожній знак, то який встановлюється знак з протилежного боку даної ділянки?



- 1.
- 2.
- 3.
- 4.

Дод. 1: 2.6


5 Яка з даних табличок поширює дію дорожнього знака «Місце для стоянки» на легкові автомобілі, а також на вантажні автомобілі з дозволеною максимальною масою до 3,5 т?



- 1. Обидві таблички.
- 2. Табличка А.
- 3. Табличка Б.

Дод. 1: 7.5.3, 7.6.3

6 Дана дорожня розмітка застосовується для позначення:



- 1. Горцевих частин штучних споруд.
- 2. Дорожньої розв'язки на різних рівнях.
- 3. Ділянки дороги, на якій швидкість руху обмежено до 40 км/год.

Дод. 2: 2.1

7 Чи дозволяється водію трактора здійснити обгін у зоні дії даного дорожнього знака?



- 1. Забороняється, крім поодиноких велосипедів, гужових возів (саней).
- 2. Дозволяється в будь-якому випадку.

Дод. 1: 3.27

8 Як повинен учинити водій, якщо регулювальник направляє його на дорогу, в'їзд на яку забороняє дорожній знак?



- 1. Зупинитися, перепитати регулювальника і впевнитися у тому, що дійсно слід рухатися у напрямку, що вказує він.
- 2. Виконати вимогу регулювальника.


8.3

9 Що повинен виконати водій, якщо він перевозить великогабаритний або великоваговий вантаж?

- 1. Рухатися посередині проїзної частини, щоб запобігти небезпечному обгону.
- 2. Увімкнути габаритні ліхтарі, а в умовах недостатньої видимості періодично подавати звуковий сигнал.
- 3. У світлу пору доби під час руху увімкнути ближнє світло фар.
- 4. Виконати дії, перелічені у відповідях 1, 2, 3.

9.8 «Г»

10 Водій якого транспортного засобу правильно виконує розворот?



- 1. Тільки водій вантажного автомобіля.
- 2. Тільки водій легкового автомобіля.
- 3. Водії обох автомобілів виконують розворот правильно.
- 4. Водії обох автомобілів виконують розворот неправильно.

10.4; 10.6

11 Перевезення пасажирів заборонено при буксируванні на жорсткому або гнучкому зчепленні:

1. Тільки в кузові буксированого вантажного автомобіля.
2. У кузові буксируючого, у кабіні і кузові буксированого вантажних автомобілів.
3. Тільки в кузові буксируючого вантажного автомобіля.

23.9

12 Що заборонено на автомагістралях водіям вантажних автомобілів, дозволена максимальна маса яких до 3,5 т?

1. Рух заднім ходом.
2. Буксирування механічних транспортних засобів.
3. Рух далі другої смуги, крім перестроювання для розвороту або повороту ліворуч.
4. Усі перелічені дії.

27.2 «Г»

13 Чи повинен дати дорогу водій автобуса, який виконує міжнародні перевезення, рухаючись вниз на ділянці дороги, позначеній дорожнім знаком «Крутий спуск», — водію зустрічного легкового автомобіля, на смузі руху якого є перешкода?

1. Повинен в будь-якому випадку.
2. Не повинен, бо перешкода знаходиться на смузі руху легкового автомобіля.
3. Не повинен, якщо автобус повністю завантажений пасажирями.
4. Не повинен, бо він виконує міжнародні пасажирські перевезення.

13.4

14 Дайте повну відповідь: в чому повинен упевнитися водій, перш ніж почати обгін?

1. Жоден з водіїв транспортних засобів, які рухаються за ним і яким може бути створено перешкоду, не розпочав обгону.
2. Водій транспортного засобу, що рухається попереду по тій самій смузі, не подав сигналу про намір повороту (перестроювання) ліворуч.
3. Смуга зустрічного руху, на яку він буде виїжджати, вільна від транспортних засобів на достатній для обгону відстані.
4. Після обгону він зможе, не створюючи перешкоди транспортному засобу, якого він обганяє, повернутися на займану смугу.
5. Упевнитися в усьому переліченому.

14.2

15 Стоянку заборонено:

1. У межах дії дорожніх знаків, що позначають залізничний переїзд.
2. Ближче 50 м від залізничних переїздів.
3. Ближче 15 м за пішохідним переходом.
4. Ближче 20 м від краю перехрещуваних проїзних частин.
5. В усіх перелічених випадках.

15.10 «Г»

16 Повертаючи праворуч, водій автомобіля:



1. Не повинен давати дорогу велосипедисту.
2. Повинен дати дорогу велосипедисту.

16.2

17 Ви зупинилися на підйомі в очікуванні дозвольного сигналу світлофора. При цьому утримувати автомобіль на місці найкраще:

1. За рахунок пробуксовування зчеплення при ввімкненій першій передачі.
2. Вимкненим двигуном з установленою зниженою передачею.
3. Робочим гальмом.
4. Стоянковим гальмом.

ОБР

18 За яких з перелічених умов забороняється експлуатація транспортних засобів? Дайте повну відповідь.

1. Уповільнена частота переміщення щіток склоочисника.
2. На мотоциклі немає передбачених конструкцією дуг безпеки.
3. За умов, зазначених у відповідях 1 і 2.

31.4.7 «И»

19 Водій якого транспортного засобу має перевагу на гірських дорогах і крутих спусках, позначених відповідними дорожніми знаками у випадках, коли зустрічний роз'їзд утруднено?

1. Водій транспортного засобу, який перевозить великогабаритний або великоваговий вантаж.
2. Водій автопоїзда.
3. Водії, зазначені у відповідях 1 і 2.
4. Водій транспортного засобу, що рухається на підйом.
5. Усі вищезазначені водії.

28.1

20 Водій колісного трактора перетинає перехрестя, виїжджаючи з ґрунтової дороги на асфальтовану. Він повинен:

1. Дати дорогу всім транспортним засобам, що рухаються по асфальтованій дорозі лише у тому випадку, коли перед перехрестям встановлено дорожній знак «Дати дорогу».
2. Дати дорогу усім транспортним засобам, що рухаються по асфальтованій дорозі.
3. Дати дорогу транспортним засобам, що наближаються тільки праворуч.

16.11; 1.10

1 Водій, наближаючись до перехрестя двох асфальтованих доріг, перед яким не установлені знаки пріоритету:

1. Має перевагу, бо наближається до перехрестя швидше інших транспортних засобів.
2. Має перевагу, тому що, водій транспортного засобу, що наближається ліворуч, повинен дати йому дорогу.
3. Має перевагу у будь-якому випадку перед усіма механічними транспортними засобами, які рухаються на перехрещуваній дорозі.


16.12

2 Що в першу чергу зобов'язаний зробити водій, причетний до дорожньо-транспортної пригоди?

1. негайно зупинити транспортний засіб та залишатися на місці пригоди, увімкнути аварійну світлову сигналізацію та встановити знак аварійної зупинки.
2. Зупинитися на місці пригоди, записати прізвища й адреси очевидців, повідомити про подію міліцію, вжити заходів для подання долікарської медичної допомоги потерпілим.
3. Зупинитися й ужити всіх можливих заходів щодо збереження слідів пригоди, огороження їх і організації об'їзду місця пригоди, повідомити про подію міліцію та вжити заходів для подання долікарської медичної допомоги потерпілим.

2.10 «А», «Б»; 9.10

3 Чи дозволяється зупинитися для посадки або висадки пасажирів водіям звичайних транспортних засобів на смузі руху, позначеній даним дорожнім знаком?



1. Дозволяється, якщо смуга розташована біля правого краю проїзної частини і відокремлена від неї переривчастою жовтою лінією дорожньої розмітки.
2. Забороняється.
3. Дозволяється.


17.2; дод. 1: 5.11

4 Які з даних дорожніх знаків дають перевагу в русі?

1. Тільки знак 
2. Тільки знак 
3. Тільки знак 
4. Знаки, зазначені у відповідях 2 і 3.
5. Знаки, зазначені у відповідях 1, 2, 3.

Дод. 1: 1.22, 1.23.2, 1.23.4

5 Що позначає цифра, зазначена на даному дорожньому знакові?



1. Вантажопідйомність транспортного засобу.
2. Масу вантажу.
3. Загальну фактичну масу транспортного засобу або состава транспортних засобів, при перевищенні якої забороняється рух.

Дод. 1: 3.15


6 З яким дорожнім знаком може бути застосовано дану дорожню розмітку?



1. «Стоянку заборонено».
2. «Стоянку заборонено в непарні числа місяця».
3. «Зупинку заборонено».

Дод. 2: 1.10.1

7 Даний дорожній знак:



1. Попереджує про наявність попереду ділянки дороги з поперечним ухилом проїзної частини.
2. Попереджує про те, що попереду ділянка дороги з небезпечними поворотами, у даному випадку — з першим поворотом ліворуч.
3. Попереджує про наявність попереду ділянки дороги з підвищеною слизькістю проїзної частини.

Дод. 1: 1.13

8 Водій червоного автомобіля:



1. Повинен дати дорогу.
2. Має перевагу, тому що рухається по дорозі, яка має продовження в обидва напрямки, а жовтий автомобіль рухається по прилеглій дорозі.

8.7.3 «Е»; 16.9

9 Дайте повну відповідь. Миготливе червоне світло, випромінюване ліхтарем, який застосовується відповідно до вимог Правил дорожнього руху, повинно бути гарно видно:

1. В темну пору доби.
2. В умовах недостатньої видимості.
3. Вдень при сонячній погоді.
4. У випадках, зазначених у відповідях 1, 2, 3.
5. У випадках, зазначених у відповідях 1 і 2.

9.12

10 Водію якого транспортного засобу дозволено рух заднім ходом?



1. Водіям обох автомобілів.
2. Водію вантажного автомобіля.
3. Водію легкового автомобіля.
4. Водіям обох автомобілів рух заднім ходом заборонено.

10.10

11 Коли дозволяється транспортному засобу, швидкість руху якого не перевищує 40 км/год, виїжджати у крайнє ліве положення на проїзній частині для руху в цьому ж напрямку? Дайте повну відповідь.

1. При обгоні або об'їзді.
2. При перестроюванні перед поворотом ліворуч або розворотом.
3. В усіх перелічених випадках, а також на проїзній частині з одностороннім рухом.
4. У випадках, зазначених у відповідях 1 і 2.

11.7


12 Водіям вантажних автомобілів з дозволеною максимальною масою до 3,5 т на автомагістралі забороняється:



1. Рух далі другої смуги, крім перестроювання для повороту ліворуч або розвороту.
2. Рух заднім ходом.
3. Буксирування механічних транспортних засобів.
4. Виконувати дії, зазначені у відповідях 1, 2, 3.

27.2 «Г»

13 Як повинен учинити водій, якщо на перехресті, на якому він має перевагу в русі, утворився затор?



1. В'їхати на перехрестя, дотримуючись заходів безпеки.
2. Забороняється в'їжджати на перехрестя.
3. В'їхати на перехрестя, подаючи переривчастий звуковий сигнал.


16.4

14 Обгін заборонено:

1. На перехрестях.
2. На перехрестях, за винятком тих випадків, коли обгін здійснюється на дорозі, яка є головною відносно перехрещуваної.
3. На перехрестях, за винятком випадків обгону на регульованих перехрестях.
4. В усіх перелічених випадках.

14.6 «А»

15 Чи дозволяються зупинка і стоянка на проїзній частині у другому ряду біля автомобіля, який вже стоїть?



1. Дозволяються тільки легковим мікролітражним автомобілям.
2. Дозволяються тільки велосипедам і мопедам.
3. Забороняються усім транспортним засобам.

15.4

16 Другим проїде перехрестя:



1. Червоний і синій автомобілі.
2. Жовтий автомобіль.
3. Зелений автомобіль.

16.12; 16.13

17 У чому небезпека тривалого гальмування автомобіля з вимкненою передачею на крутих з'яжних спусках?

1. Підвищений знос деталей зчеплення.
2. Перегрівання гальмових механізмів та відмова їх у роботі.
3. Підвищений знос шин.


ОБР

18 За яких із перелічених умов забороняється експлуатація транспортних засобів? Дайте повну відповідь

1. Порушено герметичність пневматичного або пневмогідролічного гальмового привода.
2. Не горить лампа лівої фари у режимі ближнього світла.
3. За умов, зазначених у відповідях 1 і 2.

31.4.1 «Г»;
31.4.3 «В»


19 На якій мінімальній відстані від транспортного засобу, що рухається попереду в попутному напрямку, слід перемкнути дальнє світло фар на ближнє у темну пору доби?



1. Не менше ніж за 150 м.
2. Не менше ніж за 200 м.
3. Не менше ніж за 250 м.
4. Не менше ніж за 300 м.

19.2

20 Водій якого транспортного засобу повинен дати дорогу?



1. Водій червоного автомобіля.
2. Ви — водій синього автомобіля.

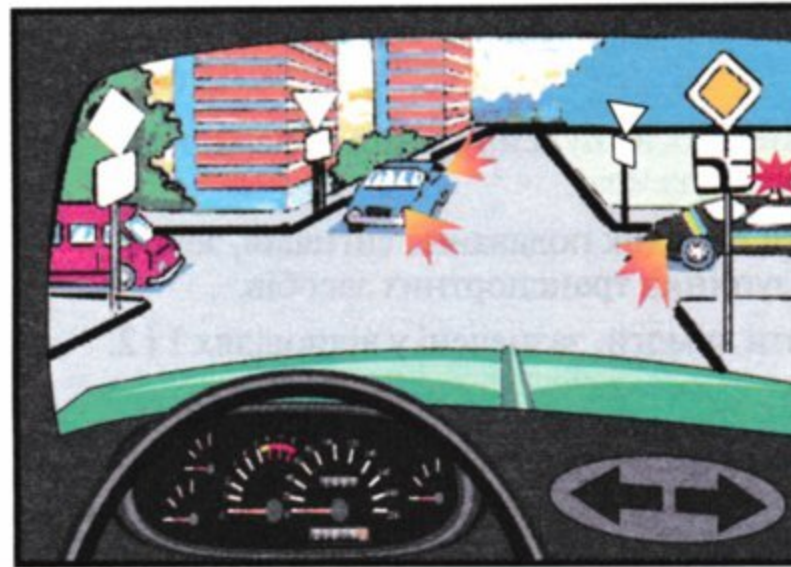
16.12

1 Яку дорогу, за визначенням Правил дорожнього руху, слід вважати «головною дорогою»?

1. Дорогу з трамвайними коліями відносно до дороги без трамвайних колій.
2. Дорогу з продовженням в обидва боки відносно прилеглої на трьохсторонньому перехресті.
3. Дорогу з багатосмуговою проїзною частиною відносно дороги з однією смугою для руху в кожному напрямку.
4. Дорогу з покриттям відносно ґрунтової або ту, що позначається відповідними знаками.
5. Дороги, зазначені у відповідях 1—4.

1.10

2 Зелений автомобіль проїде перехрестя:



1. Першим.
2. Другим.
3. Третім.
4. Останнім.

3.2;
16.11; 16.14


3 З якою максимальною швидкістю дозволяється рух транспортних засобів на ділянках доріг, позначених даним дорожнім знаком?



1. Зі швидкістю не більшою за передбачену Правилами дорожнього руху для конкретної ділянки дороги.
2. Понад 50 км/год.
3. Не більше ніж 50 км/год.


Дод. 1: 5.30

4 Який з даних дорожніх знаків указує напрямок руху для повернення на проїзну частину праворуч?



Дод. 1: 5.24.2

5 У яких напрямках дозволяється рух вантажного автомобіля з дозволеною максимальною масою меншою ніж 3,5 т?



1. Тільки ліворуч.
2. Тільки праворуч.
3. Тільки прямо.
4. Ліворуч і праворуч.
5. В усіх напрямках.

Дод. 1: 4.11,
7.3.3

6 Даною дорожньою розміткою позначаються:



1. Бокові поверхні огорожень доріг на закругленнях малого радіуса, крутих спусках, інших небезпечних ділянках.
2. Ділянки доріг, на яких перестроювання і маневрування на проїзній частині заборонені.
3. Ділянки доріг, на яких виїзд на смугу зустрічного руху заборонено.
4. Ділянки доріг, на яких зупинка і стоянка заборонені.
5. Ділянки доріг, на яких усі заборони викладені у відповідях 2, 3, 4.


Дод. 2: 2.5

7 Що позначає дорожній знак круглої форми, на білому фоні якого зображені окантовка і похилені смуги чорного кольору?

1. Відмінюють заборону руху всіх вантажних автомобілів.
2. Визначає одночасно кінець дії всіх заборон і обмежень, що запроваджені деякими заборонними дорожніми знаками.
3. Відмінює заборону для руху маршрутних транспортних засобів.
4. Відмінює заборони, зазначені у відповідях 1 і 3.

Дод. 1: 3.42

8 Рух заборонено:



1. Вантажному автомобілю — ліворуч.
2. Вантажному автомобілю — прямо, легковому автомобілю — прямо і праворуч.
3. Легковому автомобілю.

8.8 «А»

9 Якщо необхідно ввімкнути аварійну світлову сигналізацію в населеному пункті, а вона несправна, чи слід виставляти знак аварійної зупинки або миготливий червоний ліхтар?

1. Не треба.
2. Необхідно.

9.11

10 У разі, коли траєкторії руху транспортних засобів перетинаються, а черговість проїзду не обумовлена Правилами дорожнього руху, дорогу повинен дати водій:

1. Той, до якого транспортний засіб наближається ліворуч.
2. Той, до якого транспортний засіб наближається праворуч.
3. Той, що рухається з меншою швидкістю.

10.11

11 Перед початком буксирування водії механічних транспортних засобів повинні:

1. Вибрати спосіб буксирування залежно від наявності буксира.
2. Узгодити порядок подавання сигналів, зокрема для зупинки транспортних засобів.
3. Виконати вимоги, зазначені у відповідях 1 і 2.

23.8

12 Яким транспортним засобам забороняється рух поза населеними пунктами зі швидкістю більш як 70 км/год?

1. Тільки вантажним автомобілям з дозволеною максимальною масою менш як 3,5 т.
2. Легковим автомобілям, керованим водіями зі стажем 3 роки.
3. Транспортним засобам, якими керують водії зі стажем до двох років.

12.6 «Б»

13 Третім проїде перехрестя:



1. Червоний автомобіль.
2. Зелений автомобіль.
3. Синій автомобіль.
4. Жовтий автомобіль.

16.11; 16.13

14 У яких випадках Правила дорожнього руху дозволяють обгін на перехресті?

1. Коли виконується обгін по головній дорозі.
2. Коли обганяються двоколісні транспортні засоби з боковим причепом.
3. Коли обганяються транспортні засоби, що рухаються зі швидкістю до 30 км/год.
4. Обгін на перехресті заборонено.
5. У випадках, перелічених у відповідях 1, 2 і 3.

14.6 «А»

15 Стоп-лінія вказує місце, де водій повинен зупинитись при заборонному сигналі світлофора. На якій відстані до стоп-лінії забороняються зупинка і стоянка транспортних засобів?

1. На відстані 10 м.
2. На відстані 20 м.
3. На відстані 50 м.
4. На будь-якій відстані, в місцях, де транспортний засіб закриває від інших водіїв сигнали світлофора.

15.9 «3»

16 Водій трамвая:



1. Повинен дати дорогу.
2. Має перевагу перед нерейковими транспортними засобами й тому проїде перехрестя першим.

16.9

17 Від чого залежить довжина ділянки дороги, необхідна для виконання обгону?

1. Тільки від швидкості руху того, що обганяє, і того, якого обганяють, транспортних засобів.
2. Тільки від стану дорожнього покриття.
3. Від умов, зазначених у відповідях 1 і 2.

ОБР

18 За яких із перелічених умов не забороняється експлуатація транспортних засобів?

1. Несправний рульовий демпфер мотоцикла.
2. Сумарний люфт у рульовому керуванні легкового автомобіля менший від 10°.
3. Не працює манометр пневматичного гальмового привода.

31.4.2 «А»

19 Даний дорожній знак показує, що:



1. Попереду ділянка дороги, на якій забороняється рух зі швидкістю, яка перевищує ту, що зазначена на знакові.
2. Попереду ділянка дороги, на якій відмінюються усі заборони і обмеження.
3. Попереду ділянка дороги, на якій рух дозволяється зі швидкістю не менше тієї, яка указана на знакові.
4. Попереду ділянка дороги, на якій зона дії знака «Обмеження максимальної швидкості» закінчена.
5. Інформація, закладена у відповідях 2 і 4.

Дод. 1: 3.30

20 Сигналом, що забороняє рух через залізничний переїзд, є положення чергового, який звернений до водія:

1. Будь-яким плечем або грудьми з піднятим над головою жезлом (червоним прапорцем).
2. Лівим або правим плечем з піднятим над головою жезлом (червоним прапорцем).
3. Грудьми або спиною з піднятим над головою жезлом (червоним прапорцем) або витягнутими у сторони руками.

20.5 «А»

1 Дайте повну відповідь. Робітник міліції, скориставшись транспортним засобом для виконання непередбачених та невідкладних службових обов'язків, повинен:

1. Видати довідку про використання транспортного засобу.
2. Зробити запис у дорожньому листі.
3. Виконати вказане у відповідях 1 або 2.


2.7 «Б»
Прим.2

2 Як повинен учинити пішохід при наближенні транспортного засобу з увімкненими проблісковими маячками червоного і синього кольору і спеціальним звуковим сигналом?

1. Якнайшвидше перейти проїзну частину.
2. Перейти проїзну частину, якщо він перебуває на пішохідному переході.
3. Утриматися від переходу проїзної частини або негайно залишити її.

4.13

3 Даний дорожній знак, встановлений на дорозі поза населеним пунктом попереджує, що:



1. Попереду перехрестя, на якому до головної дороги прилягають другорядні дороги — праворуч, а менше ніж через 100 м — ліворуч.
2. Попереду перехрестя, на яких необхідно дати дорогу транспортним засобам, що рухаються по перехрещуваним дорогам.
3. Попереду ділянка дороги зі спусками, підйомами і дорогами, що її перетинають.

Дод. 1: 1.23.3

4 Який дорожній знак зобов'язує дати дорогу транспортним засобам при зустрічному роз'їзді?







- 1
- 2
- 3
- 4
- 5

Дод. 1: 2.5

5 Водій якого транспортного засобу має перевагу в русі?



1. Водій автобуса.
2. Водій вантажного автомобіля.

Дод. 1: 2.5, 2.6

6 З яким дорожнім знаком застосовується розмітка «стоп-лінія»?



1. Зі знаком «Дати дорогу» або зі знаком «Проїзд без зупинки заборонено».
2. Зі знаком «Дати дорогу».
3. Зі знаком «Проїзд без зупинки заборонено».

Дод. 2: 1.12

7 Чи дозволяється буксирування механічних транспортних засобів, якщо на дорозі встановлено даний дорожній знак?



1. Дозволяється на будь-якому зчепленні.
2. Дозволяється тільки легковим автомобілям.
3. Дозволяється на жорсткому зчепленні.
4. Забороняється.

Дод. 1: 3.4

8 Яким транспортним засобам дозволено рух?



1. Мотоциклу, легковому та вантажному автомобілям.
2. Легковому автомобілю й мотоциклу.
3. Легковому та вантажному автомобілям.

8.8 «Б»

9 Чим визначається допустима кількість пасажирів, яку можна перевозити в кузові вантажного автомобіля?

1. Вказівками адміністрації.
2. Вантажопідйомністю автомобіля.
3. Кількістю обладнаних для сидіння місць.

21.7

10 Перед початком руху, перестроюванням і будь-якою іншою зміною напрямку руху водій повинен:

1. Упевнитися, що це буде безпечно і не створить перешкод або небезпеки іншим учасникам дорожнього руху.
2. Подати звуковий сигнал, якщо пішоходи, які стоять попереду, створюють перешкоди для руху.
3. Подати сигнал фарами, попереджуючи інших учасників дорожнього руху про свої наміри.


10.1

11 За наявності трамвайної колії посередині проїзної частини поворот ліворуч або розворот повинні бути виконані:

- З трамвайної колії попутного напрямку, розташованої на одному рівні з проїзною частиною для нерейкових транспортних засобів, якщо інший порядок руху не передбачено дорожніми знаками.
- З крайньої лівої смуги для руху нерейкових транспортних засобів.
- Згідно з вимогами у відповідях 1 або 2.

11.8

12 З якою максимальною швидкістю дозволяється рух автобусів на автомагістралях?



- 110 км/год.
- 100 км/год.
- 90 км/год.
- 80 км/год.
- 70 км/год.

12.6 «Г»

13 Чи дозволяється самовільно відкривати шлагбаум або об'їжджати його при виконанні службового завдання?

- Дозволяється за відсутності чергового по переїзду.
- Дозволяється на розсуд водія, якщо поблизу немає поїзда, що наближається.
- Дозволяється.
- Забороняється.

20.7

14 В яких з перелічених місць забороняється обгін?

- Тільки на ділянках доріг з обмеженою оглядовістю.
- Тільки на дорогах, на яких є переривчаста лінія дорожньої розмітки, яка розділяє транспортні потоки протилежних напрямків.
- Тільки на ділянках доріг, на яких є переривчаста лінія дорожньої розмітки, довжина штрихів якої у три рази перевищує проміжки між ними.
- На ділянках доріг, зазначених у відповідях 1 і 3.

14.6 «Г»


15 Чи дозволяється стоянка на краю тротуару, що прилягає безпосередньо до краю проїзної частини?



- Забороняється всім транспортним засобам, крім місць, позначених відповідними дорожніми знаками й табличками.
- Дозволяється тільки легковим автомобілям і мотоциклам за умови, що це не створить перешкод для руху пішоходів.

15.10 «Б»

16 Транспортні засоби проїдуть перехрестя в наступному порядку:



- Трамвай 1, червоний автомобіль, зелений автомобіль, трамвай 2, жовтий автомобіль, синій автомобіль.
- Трамваї 1 і 2, червоний, зелений, жовтий, синій автомобілі.

16.11; 16.14

17 Застосування гальмування двигуном на слизькій дорозі для задньоприводного автомобіля:

- Зменшує стійкість автомобіля.
- Підвищує стійкість автомобіля.
- Не справляє будь-якого впливу на стійкість автомобіля.

ОБР

18 Дайте повну відповідь. За визначенням Правил дорожнього руху забороняється експлуатація транспортних засобів:

- Якщо транспортні засоби, які підлягають обов'язковому технічному контролю, не пройшли його.
- У випадках переобладнання транспортних засобів на СТО.
- У випадках обладнання транспортного засобу спеціальними звуковими та світловими сигналами без дозволу Державтоінспекції.
- У випадках, зазначених у відповідях 1, 2 і 3.
- У випадках, зазначених у відповідях 2 і 3.

31.3 «Б»

19 Даний дорожній знак попереджує, що:



- Попереду ділянка дороги, на якій ширина проїзної частини зменшується на одну смугу руху.
- Попереду вузька ділянка дороги проїзної частини, під час руху по якій надається перевага відносно до зустрічних транспортних засобів.
- Попереду починається ділянка дороги (проїзної частини) з зустрічним рухом після одностороннього руху.

Дод. 1: 1.26

20 Водій якого транспортного засобу повинен дати дорогу?



- Водій вантажного автомобіля.
- Водії обох автомобілів.
- Водій трамвая.

16.12

1 Чи дозволяється експлуатація транспортного засобу, який переобладнано на інший вид палива?

1. Дозволяється, за виключенням транспортних засобів, які належать індивідуальним власникам.
2. Забороняється, якщо таке переобладнання не узгоджено з ДАІ.
3. Дозволяється, якщо рівень димності у відпрацьованих газах не перевищує встановленої норми.


32.1 «Є»;
31.3 «А»

2 Чи дозволяється особі, що навчається водінню, не пристібатися ременями безпеки під час навчальної їзди?

1. Дозволяється, тільки якщо це ускладнює керування автомобілем.
2. Дозволяється тільки на дорогах з неякісним дорожнім покриттям.
3. Дозволяється у випадках, зазначених у відповідях 1 і 2.
4. Забороняється.

2.3 «В»

3 Даний дорожній знак попереджає, що:



1. Попереду на шляху руху є тільки поромна переправа.
2. Попереду на шляху руху є тільки розвідний міст.
3. Попереду ремонтні роботи на дорозі. Слід об'їхати дану ділянку.
4. Інформація, закладена у відповідях 1 і 2.

Дод. 1: 1.25

4 Який дорожній знак називається «Кінець дороги з одностороннім рухом»?



Дод. 1: 5.6


5 Даний дорожній знак:



1. Забороняє рух усіх транспортних засобів, за винятком колісних тракторів.
2. Забороняє рух тракторів, самохідних машин і механізмів.
3. Забороняє рух усіх механічних транспортних засобів, за винятком двоколісних мотоциклів без бокового причепа.

Дод. 1: 3.5


6 Що позначає дана дорожня розмітка?



1. Місце, де велосипедна доріжка перетинає проїзну частину.
2. Місце, де пішохідна доріжка перетинає проїзну частину.
3. Пішохідний перехід, де рух регулюється світлофором.

Дод. 2: 1.14.2

7 Перед якими ділянками доріг встановлюється даний дорожній знак?



1. Перед напливами або хвилястістю на проїзній частині.
2. Перед штучно створеними буграми в місцях, де необхідно примусово обмежити швидкість руху транспортних засобів.
3. Перед вибоїнами чи просіданнями дорожнього покриття на проїзній частині.
4. Перед ділянками доріг, зазначеними у відповідях 1, 2, 3.

Дод. 1: 1.12

8 Чи дозволяється виїзд на ліву смугу на даній ділянці дороги, де реверсивний світлофор вимкнений?



1. Забороняється.
2. Дозволяється.

8.7.4

9 Які зовнішні світлові прилади повинні бути ввімкнені на буксированому механічному транспортному засобі при буксируванні?

1. Габаритні ліхтарі, якщо на буксированому транспортному засобі несправне рульове управління.
2. Аварійна світлова сигналізація.
3. Ближнє світло фар, якщо на буксированому транспортному засобі несправна гальмова система.

9.9 «Г»

10 Де не повинен опинитися транспортний засіб при виїзді з перехрещення проїзних частин під час повороту?

1. На смузі зустрічного руху.
2. На лівій смузі, якщо є не менше трьох вільних смуг для руху в одному напрямку.
3. На лівій смузі, якщо зайнята права смуга.

10.5

11 Яку мінімальну відстань між транспортними засобами повинне забезпечувати гнучке зчеплення при буксируванні?

- | | | | | |
|-------|-------|-------|-------|-------|
| 1 | 2 | 3 | 4 | 5 |
| 4—8 м | 4—6 м | 3—6 м | 2—4 м | 1—3 м |

23.3

12 З якою максимальною швидкістю дозволяється рух вантажних автомобілів з дозволеною максимальною масою до 3,5 т на ділянках доріг, що не відносяться за умовами руху до «доріг для автомобілів» і позначених даним дорожнім знаком?



- | | | | | |
|-----------|-----------|------------|------------|------------|
| 1 | 2 | 3 | 4 | 5 |
| 60 км/год | 90 км/год | 100 км/год | 110 км/год | 130 км/год |

12.6 «Г»

13 На місці ДТП лежить потерпілий без ознак життя. Як визначити, живий потерпілий чи мертвий? Дайте повну відповідь.

1. Наявність дихання визначають за запотіванням дзеркала, або за рухом ватки, піднесених до носа.
2. За реакцією зіниць на світло.
3. За ознаками, переліченими у відповідях 1 і 2.

Подавайте допомогу доти, доки у потерпілого не з'явиться дихання або пульс!!!

ППМД стор. 5


14 Що означає даний розпізнавальний знак, установлений на автомобілі?



1. Автомобіль належить водію-інваліду.
2. Автомобіль належить водію-лікаря.
3. Автомобіль призначено для подання медичної допомоги вдома.

30.3 «Ж»

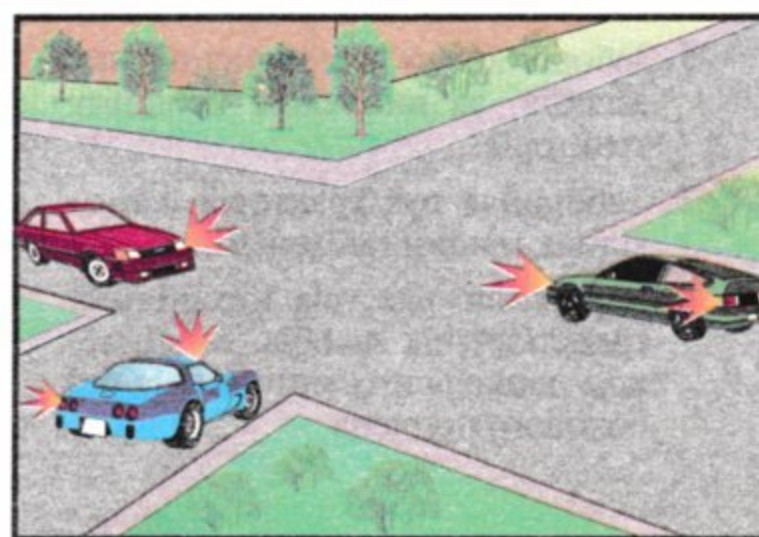
15 Водію якого автомобіля дозволено зупинку?



1. Обом водіям.
2. Водію легкового автомобіля.
3. Водію вантажного автомобіля.
4. Зупинку заборонено водіям обох транспортних засобів.

15.9 «В»

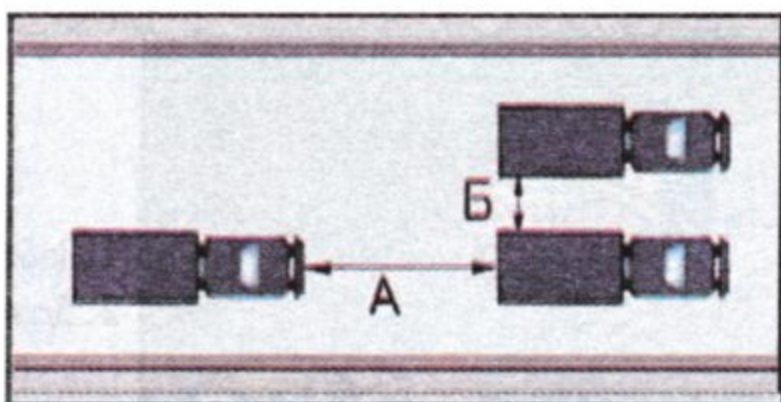
16 Другим проїде перехрестя:



1. Синій автомобіль.
2. Зелений автомобіль.
3. Червоний автомобіль.

16.12
16.13

17 Що називається дистанцією?



1. Відстань Б.
2. Відстань А і Б.
3. Відстань А.

ОБР

18 Чи дозволяється керувати автомобілем у темну пору доби, якщо одна фара не працює?

1. Дозволяється тільки на освітленій дорозі.
2. Забороняється у будь-якому випадку.
3. Забороняється, якщо не горить лампа лівої фари у режимі ближнього світла.


31.4.3 «В»

19 Якщо порушена герметичність гідравлічного гальмового привода, водій повинен:

1. Припинити подальший рух.
2. Продовжити намічену поїздку, використовуючи ручне гальмо.
3. Усунути несправність на місці, а якщо це не вдалося, — рухатися якомога коротшим шляхом до місця стоянки або ремонту, дотримуючись запобіжних заходів.

31.5

20 Як повинен учинити водій, якщо сигнал світлофора дозволяє йому рух, а пішоходи не встигли перейти проїзну частину?



1. Почати рух з особливою обережністю, щоб не створювати за собою затор.
2. Дати дорогу пішоходам.
3. Почати рух з особливою обережністю, а пішоходи повинні зупинитися на острівці безпеки.

16.5

1 За яких перелічених умов дозволяється навчальна їзда на автомобілі? Дайте повну відповідь.

1. Дозволяється тільки в присутності спеціаліста з підготовки водіїв при наявності розпізнавального знаку «Учбовий транспортний засіб».
2. Дозволяється тільки в присутності спеціаліста з підготовки водіїв і за достатніх початкових навичок водіння у того, хто навчається.
3. Дозволяється при відсутності спеціаліста з підготовки водіїв, але при наявності розпізнавального знаку «Учбовий транспортний засіб».
4. За умов, зазначених у відповідях 1, 2, 3.
5. За умов, зазначених у відповідях 1, 2.


24.5; 24.8

2 Чи дозволяється водію транспортного засобу категорії «В» керувати легковим автомобілем з причепом без дозволу керувати транспортним засобом категорії «ВЕ»?

1. Дозволяється, якщо дозволена максимальна маса причепа не перевищує 750 кг.
2. Дозволяється, якщо дозволена максимальна маса причепа не перевищує 550 кг.
3. Забороняється у будь-якому випадку.

2.13


3 Даний дорожній знак:



1. Забороняє рух автопоїздів і вантажних автомобілів з причепами.
2. Забороняє рух транспортних засобів з дозволеною максимальною масою більше 10 т.
3. Забороняє рух транспортних засобів, що перевозять небезпечні вантажі.
4. Інформація, закладена у відповідях 1, 2 і 3.

Дод. 1: 3.12

4 Даний дорожній знак з табличкою:



1. Забороняє в'їзд всіх транспортних засобів у робочі дні тижня з 8.00 до 17.30.
2. Забороняє в'їзд всіх транспортних засобів в усі дні тижня, за виключенням періоду доби з 8.00 до 17.30.
3. Забороняє в'їзд транспортних засобів у робочі дні тижня, за виключенням часу з 8.00 до 17.30.

Дод. 1: 3.21, 7.4.6

5 У якому напрямку дозволено рух?



1. Тільки прямо.
2. Прямо, право руч і ліворуч.
3. Тільки прямо і праворуч.
4. В усіх напрямках.

Дод. 1: 5.5

6 У яку пору доби дозволяється переганяти стадо тварин по дорозі?

1. Дозволяється в будь-яку пору доби за наявності необхідної кількості погоничів.
2. Дозволяється у світлу пору доби за наявності двох погоничів.
3. Дозволяється тільки у світлу пору доби, при цьому залучається така кількість погоничів, щоб можна було направляти тварин якомога ближче до правого краю дороги.

7.6

7 Що з перелічених дій зобов'язаний виконати водій перед виїздом з місця постійної стоянки і початком руху? Дайте повну відповідь.

1. Переконавшись, що початок руху буде безпечним і він не створить перешкод або небезпеки іншим учасникам руху.
2. Подати сигнал світловими покажчиками повороту відповідного напрямку.
3. Перевірити й забезпечити технічно справний стан і комплектність транспортного засобу, правильність розміщення та кріплення вантажу.
4. Виконати всі перелічені дії.

9.2; 2.3 «А»; 10.1

8 Чи мають перевагу сигнали регулювальника перед вимогами дорожніх знаків?

1. Мають перевагу перед вимогами всіх дорожніх знаків і є обов'язковими для виконання.
2. Мають перевагу перед вимогами дорожніх знаків пріоритету і є обов'язковими для виконання.
3. Не мають переваги перед дорожніми знаками.

8.3

9 Чи дозволяється водію відчиняти двері перед зупинкою транспортного засобу з метою прискорити висадку пасажирів?

1. Дозволяється тільки у часи пік.
2. Забороняється.
3. Дозволяється тільки у літню пору в часи пік.

21.4

10 Водії яких транспортних засобів порушують Правила дорожнього руху?



1. Водії навчального автомобіля, трактора і легкового автомобіля.
2. Тільки водій легкого автомобіля.
3. Тільки водії навчального автомобіля і трактора.
4. Водії всіх транспортних засобів.

24.9; 27.2 «А», «Г», «Д»

11 Чи дозволяється поворот ліворуч або розворот при русі на велосипедах і мопедах по проїзній частині?

1. Дозволяється на всіх дорогах без трамвайної колії посередині.
2. Забороняється на всіх дорогах.
3. Дозволяється на дорогах з однією смугою для руху в кожному напрямку і без трамвайної колії посередині.

11.14


12 З якою максимальною швидкістю дозволяється рух вантажних автомобілів у зоні, позначеній даним дорожнім знаком?



1. На розсуд водія, гарантуючи безпеку руху.
2. 5 км/год.
3. 10 км/год.
4. 15 км/год.
5. 20 км/год.

12.5

13 На дорогах, які мають дві і більше смуг для руху в одному напрямку, виїзд з правих смуг:



1. Дозволяється в будь-якому випадку.
2. Дозволяється, якщо вони зайняті.
3. Дозволяється для виконання обгону.

11.5; 14.6 «Е»

14 Якщо необхідно внести зміни до реєстраційних документів, власники механічних транспортних засобів повинні перереєструвати їх у ДАІ протягом:

1	2	3	4
30 діб	20 діб	15 діб	10 діб


30.1

15 Стоянка забороняється:

1. Ближче 20 м перед пішохідним переходом.
2. Ближче 30 м перед пішохідним переходом.
3. У місцях, де транспортний засіб, що стоїть, робить неможливим рух інших транспортних засобів або створює перешкоду для руху пішоходів.
4. Ближче 20 м від краю перехрещуваних проїзних частин.
5. В усіх перелічених випадках.

15.10 «Д»

16 Другим проїде перехрестя:



1. Синій автомобіль.
2. Зелений автомобіль.
3. Червоний автомобіль.

16.12; 16.13

17 Рухаючись прямо, Ви знезацька потрапили на слизьку ділянку дороги. Що слід учинити в даній ситуації?

1. Не змінюючи положення рульового колеса, вимкнути передачу і рухатися накатом.
2. Не змінюючи положення рульового колеса і швидкості руху, проїхати слизьку ділянку дороги.
3. Не змінюючи положення рульового колеса, збільшити швидкість руху автомобіля на даній ділянці.
4. Проїхати слизьку ділянку дороги, не змінюючи положення рульового колеса, пригальмовуючи, не вимикаючи зчеплення.

ОБР

18 За яких із перелічених умов забороняється експлуатація транспортних засобів? Дайте повну відповідь.

1. Під час дорожніх випробувань робочої гальмової системи транспортних засобів перевищуються значення гальмового шляху.
2. На передню вісь легкового автомобіля встановлено діагональні шини.
3. За умов, зазначених у відповідях 1 і 2.

31.4.1 «Б»

19 На ділянці дороги за даним дорожнім знаком:



1. Дозволяється обгін тільки вантажним автомобілям.
2. Дозволяється обгін усіх транспортних засобів.
3. Дозволяється обгін усім транспортним засобам, крім мікроавтобусів і автобусів.

Дод. 1: 3.28

20 У зв'язку з великим снігопадом і темним часом доби неможливо визначити наявність покриття на дорозі. Водій повинен:

1. Давати дорогу тільки автобусам.
2. Дати дорогу тільки тому транспортному засобу, що наближається до нього ліворуч.
3. Вважати, що він знаходиться на другорядній дорозі.

16.15

1 Якщо на ґрунтовій дорозі, безпосередньо перед перехрестям, є ділянка дороги з покриттям, чи робить це її рівною за значенням з перехрещуваною?

1. Так.
2. Ні.


1.10

2 Дайте повну відповідь. Автомобіль перед пішохідним переходом, на якому знаходяться пішоходи слід зупинити:

1. Якщо пішохідний перехід регулюється, і для водія ввімкнений забороняючий сигнал.
2. Якщо пішохідний перехід знаходиться у населеному пункті.
3. Якщо переходять дорогу двоє і більше людей.
4. Слід зупинити в усіх перелічених випадках.

4.9;
8.7.3 «Е»

3 Що позначає даний дорожній знак?



1. Вузьку ділянку дороги, під час руху по якій водій має перевагу відносно зустрічних транспортних засобів.
2. Попереду дорога з одностороннім рухом.
3. Зупинка і стоянка забороняються.

Дод. 1: 2.6

4 Який дорожній знак указує напрямок руху на Т-подібному перехресті?







1 2 3 4 5

Дод. 1: 1.4.3

5 Чи дозволено стоянку автомобіля в даному місці?



1. Заборонено.
2. Дозволено.


Дод. 1: 3.35

6 Розмітка «стоп-лінія» позначає те місце, де водій повинен:

1. Зупинитися за наявності знака «Проїзд без зупинки заборонено» або при заборонному сигналі світлофора чи регулювальника.
2. Зупинитися тільки в населеному пункті.
3. Зупинитися в місцях, зазначених у відповідях 1 і 2.
4. Зупинитися в будь-якому випадку.

Дод. 2: 1.12

7 Чи дозволяється рух автобусів на ділянці дороги за даним дорожнім знаком?



1. Дозволяється тільки тим автобусам, які рухаються за встановленими маршрутами і мають визначені місця на дорозі для посадки (висадки) пасажирів.
2. Забороняється.
3. Дозволяється.

Дод. 1: 4.11

8 Жовтий миготливий сигнал світлофора:



1. Дозволяє рух та інформує про наявність небезпечного нерегульованого перехрестя або пішохідного переходу.
2. Забороняє рух пішоходів.
3. Забороняє рух транспортних засобів.

8.7.3 «Д»

9 Як позначаються у світлу пору доби автомобілі, що буксирує і який буксирують?

1. На автомобілі, що буксирує, вмикають дальнє світло фар, а на тому, який буксирують — габаритні ліхтарі.
2. На автомобілі, що буксирує, вмикають ближнє світло фар, а на тому, який буксирують — аварійну світлову сигналізацію.
3. На автомобілях, що буксирує і який буксирують, вмикають аварійну світлову сигналізацію.

9.8 «Г»,
9.9 «Г»

10 Як повинен вчинити водій транспортного засобу, який виїжджає з місця стоянки?

1. Дати дорогу пішоходам, які рухаються тротуаром, і транспортним засобам, які рухаються по проїзній частині.
2. Водій має перевагу перед пішоходами, а транспортним засобам повинен дати дорогу.

10.2

11 Чи дозволяється водіям велосипедів, мопедів та гужових возів поворот ліворуч або розворот на дорогах?

1. Дозволяється на будь-якій дорозі з двостороннім рухом, але без трамвайної колії посередині.
2. Дозволяється на дорогах з однією смугою для руху в кожному напрямку і без трамвайної колії посередині.
3. Забороняється тільки розворот на будь-якій дорозі з двостороннім рухом.
4. Забороняється.

11.14

12 З якою максимальною швидкістю дозволяється рух легкового автомобіля у темну пору доби поза населеним пунктом?

1. З тією ж швидкістю, що й у світлу пору доби.
2. З такою швидкістю, щоб водій мав змогу зупинити транспортний засіб у межах видимості дороги.
3. Зі швидкістю на розсуд водія.

12.2


13 Водій легкового автомобіля наближається до ділянки дороги, на якій встановлено даний дорожній знак. Попереду рухається транспортний засіб з меншою швидкістю. Чи дозволяється водієві легкового автомобіля виконати обгін?



1. Дозволяється, якщо транспортний засіб попереду рухається зі швидкістю до 30 км/год.
2. Дозволяється у будь-якому випадку.
3. Дозволяється при виконанні умов, викладених у відповідях 1 або 2.
4. Дозволяється, якщо обгін буде завершено не менше, ніж за 50 м до місця установки знака.
5. Обгін заборонено у будь-якому випадку.

14.6 «Б»;
дод. 1: 1.31.3


14 Водію транспортного засобу, який обганяють:



1. Забороняється перешкоджати обгону шляхом підвищення швидкості або іншими діями.
2. Дозволяється використувати свою перевагу, рухаючись на свій розсуд.

14.3

15 Ставити транспортні засоби під кутом до краю проїзної частини дозволяється:




1. Так, як зупинився водій автомобіля Б.
2. Так, як зупинився водій автомобіля А або Б.
3. В місцях, де це не буде перешкоджати рухові інших транспортних засобів, так, як зупинився водій автомобіля А.

4. Тільки там, де є відповідна розмітка проїзної частини.

15.5

16 Чи повинен водій автомобіля зупинитися перед «стоп-лінією»?



1. Не повинен.
2. Повинен обов'язково.
3. Йому дозволяється не зупинятися, якщо по перехрещуваній дорозі не рухаються транспортні засоби.

16.8

17 Яку інформацію закладено у даний дорожній знак?



1. Попереду ділянка дороги, на якій діють особливі умови дорожнього руху, передбачені розділом «Рух по автомагістралям і дорогам для автомобілів» Правил дорожнього руху.
2. Попереду ділянка дороги, на якій не забороняється учбова їзда.
3. Попереду ділянка дороги, на якій забороняється буксирування.
4. Попереду ділянка дороги, на якій тільки розворот заборонено.
5. Інформація і вимоги, викладені у відповідях 1, 2, 3, 4.

Дод. 1: 5.1

18 Чи дозволяється прямувати до місця стоянки або ремонту з пошкодженням тягово-зчпним пристроєм автопоїзда?

1. Дозволяється при буксируванні на жорсткому зчепленні.
2. Забороняється.
3. Дозволяється зі швидкістю, що гарантує безпеку руху.

31.6

19 На гірських дорогах буксирування дозволяється:

1. Із застосуванням жорсткого або гнучкого зчеплення.
2. Із застосуванням гнучкого зчеплення.
3. Із застосуванням будь-якого способу при гарантуванні безпеки дорожнього руху.
4. Із застосуванням жорсткого зчеплення або з частковим навантаженням буксированого транспортного засобу на платформу або на спеціальний опорний пристрій.

28.3 «Б»

20 Наближаючись до нерегульованого залізничного переїзду, перед яким встановлено даний дорожній знак, водій нерейкового транспортного засобу повинен:



1. Зменшити швидкість і у випадку відсутності поїзда продовжити рух через переїзд.
2. Продовжити рух без зменшення швидкості і зупинки, якщо водій переконався в тому, що поїзд не наближається.
3. Зупинитися у будь-якому випадку.

20.2;
дод. 1: 2.2

1 Чи дозволяються зупинка та стоянка транспортних засобів на ділянці дороги, де встановлено даний дорожній знак з табличкою?



1. Дозволяються усім транспортним засобам тільки для посадки і висадки пасажирів.
2. Дозволяються тільки водіям-інвалідам, які керують транспортними засобами, позначеними розпізнавальним знаком «Інвалід», а також водіям маршрутних транспортних засобів.
3. Дозволяються усім транспортним засобам тільки у населених пунктах в умовах недостатньої видимості.


2.8

2 Чи дозволяється стояти в кузові вантажного автомобіля під час руху?

1. Дозволяється тільки особам, що супроводжують вантаж.
2. Дозволяється, якщо перевезення здійснюється в полі.
3. Дозволяється, якщо борти кузова нарощені на висоту не менш ніж 0,8 м від рівня підлоги.
4. Забороняється.

5.3 «Г»



3 Даний дорожній знак?



1. Забороняє проїзд без зупинки тільки тоді, коли на перехрещуваній дорозі немає руху інших транспортних засобів.
2. Забороняє проїзд без зупинки тільки тоді, коли обмежена оглядовість на перехресті.
3. Забороняє проїзд без зупинки тільки водію маршрутного транспортного засобу.
4. Забороняє проїзд у всіх випадках без зупинки перед розміткою «стоп-лінія», а якщо вона відсутня — перед знаком.
5. Інформація і вимоги, викладені у відповідях 1 і 4.

Дод. 1: 2.2

4 Який з даних дорожніх знаків забороняє рух тракторів?

1. Тільки знак 
2. Тільки знак 
3. Знаки, зазначені у відповідях 1 і 2.

Дод. 1: 3.3, 3.5

5 В якій відповіді указані всі водії, які порушили правила зупинки на дорозі з двостороннім рухом, яка має по дві смуги у кожному напрямку?



1. Тільки водії легкового автомобіля і мотоцикла.
2. Тільки водій вантажного автомобіля.
3. Тільки водій мотоцикла.
4. Водії всіх транспортних засобів.

Дод. 1: 3.34, 7.2.4, 15.3


6 Дана переривчаста лінія, у якої довжина штрихів утричі перевищує проміжки між ними, позначає:



1. Наближення до суцільної лінії розмітки, яка поділяє транспортні потоки протилежних або попутних напрямків.
2. Край проїзної частини на автомагістралях, де дозволено зупинку.

Дод. 2: 1.6

7 Яку інформацію закладено у даний дорожній знак?



1. Указує на початок додаткової смуги на підйомі.
2. Указує на кінець додаткової смуги або смуги розгону.
3. Указує напрямок об'їзду перешкоди на правій смузі дороги, що має дві смуги для руху.

Дод. 1: 5.21.1

8 Рух дозволено:



1. Синьо-жовтому автомобілю — прямо, червоному автомобілю — прямо і праворуч.
2. Синьо-жовтому автомобілю — ліворуч.
3. Тільки червоному автомобілю.

8.8 «А»

9 З досягненням якого мінімального віку дозволяється перевозити людей у кузові будь-якого вантажного автомобіля?

1	2	3	4	5
8 років	10 років	12 років	14 років	16 років

21.11 «В»

10 Для чого призначена смуга розгону?

1. Тільки для переходу зі звичайної дороги на дорогу для автомобілів.
2. Для в'їзду на іншу дорогу, вливаючись у транспортний потік і даючи дорогу транспортним засобам, які рухаються по цій дорозі.
3. Для розгону перед затяжним підйомом.


10.8

11 Яким способом дозволяється буксирування транспортного засобу з несправним рульовим керуванням?

1. На жорсткому зчепленні.
2. Способом часткового навантаження.
3. Обома вищезазначеними способами.
4. На жорсткому або гнучкому зчепленні.

23.4

12 Дотримуючись безпечної дистанції до транспортного засобу, який рухається попереду, водій червоного автомобіля побачив, що його обганяє інший транспортний засіб перед яким раптово з'являється зустрічний. Він повинен:



1. Негайно вжити заходів для зменшення швидкості.
2. Тільки подати попереджувальний звуковий сигнал.
3. Збільшити швидкість і подати попереджувальний звуковий сигнал.

4. Обов'язково виконати дії, зазначені у відповідях 1 і 2.


12.3

13 До вузької ділянки дороги наближається зустрічний транспортний засіб. Як Ви повинні вчинити?

1. Просигналізувати фарами і продовжити рух.
2. Рухатися посередині дороги, щоб змусити водія зустрічного транспортного засобу перестроїтися на узбіччя.
3. Дати дорогу, якщо на Вашій смузі руху є перешкода.

13.4

14 За спеціальними правилами здійснюється перевезення вантажу, якщо він виступає за задній габарит транспортного засобу більш як:



1. Один метр.
2. Два метри.

22.5


15 Чи дозволяється водію поставити на стоянку вантажний автомобіль з дозволеною максимальною масою понад 3,5 т на ділянці дороги з даним дорожнім знаком і табличкою?



1. Забороняється.
2. Дозволяється часом до 30 хвилин.
3. Дозволяється.

15.6

16 Білий автомобіль проїде перехрестя після:



1. Синього автомобіля, трамвая.
2. Трамвая, синього автомобіля.
3. Трамвая, не даючи дорогу синьому автомобілю.

16.11; 16.14

17 Як впливає гальмування «юзом» на гальмовий шлях при сухому стані дороги?

1. Гальмовий шлях не змінюється.
2. Гальмовий шлях збільшується.
3. Гальмовий шлях зменшується.


ОБР

18 Наближаючись до трамвая попутного напрямку, який стоїть на зупинці посередині дороги, водій повинен:

1. Дати дорогу пішоходам, які ідуть з боку відчинених дверей до трамвая або від нього, і продовжити рух тільки тоді, коли пішоходи залишать проїзну частину, і в трамвая зачиняться двері.
2. Дати дорогу пішоходам, які ідуть з боку відчинених дверей до трамвая або від нього, і продовжити рух тільки тоді, коли пішоходи залишать проїзну частину.
3. Проїхати трамвайну зупинку з особливою обережністю.

18.8

19 Чи дозволяється на крутих спусках гірських доріг рухатися з непрацюючим двигуном і вимкненим зчепленням або передачею?



1. Дозволяється, якщо автомобіль обладнано гідровакуумним підсилювачем гальм.
2. Забороняється.
3. Дозволяється, якщо дорога в доброму стані і проглядається на велику відстань.

28.3 «А»

20 Чи мають нерейкові транспортні засоби перевагу в русі перед трамваем, якщо сигнал світлофора дозволяє їм рух одночасно?

1. Мають, тільки якщо на даному транспортному засобі встановлено розпізнавальний знак «Автопоїзд».
2. Мають, тільки якщо перевозять небезпечні або негабаритні вантажі.
3. Мають, тільки якщо це довгомірний транспортний засіб.
4. Не мають.
5. Мають у випадках, зазначених у відповідях 1, 2 і 3.

16.7

1 Водій, що виїжджає з дороги без покриття на асфальтовану:

1. Повинен дати дорогу тільки транспортним засобам, що наближаються праворуч.
2. Повинен надати перевагу усім транспортним засобам, що рухаються по асфальтованій дорозі.
3. Повинен дати дорогу тільки при наявності знака «Дати дорогу».


1.10; 16.11

2 До Вас наближається транспортний засіб, на якому увімкнено проблісковий маячок червоного кольору. Як Ви повинні діяти, якщо рухаєтеся назустріч такому транспортному засобу по дорозі, на якій немає розділювальної смуги?

1. Узяти праворуч і рухатися з особливою обережністю до проїзду замикаючого колону транспортного засобу з увімкненим проблісковим маячком синього кольору.
2. Зупинитися біля правого краю проїзної частини (на правому узбіччі) й відновити рух після проїзду замикаючого колону транспортного засобу з увімкненими проблісковими маячками зеленого або синього та зеленого кольору.
3. Збільшити швидкість, аби скоріше розминутися з цим транспортним засобом.

3.2; 3.3

3 Яку інформацію закладено у даний дорожній знак?



1. Указує напрямок руху на перехрещуваній дорозі, якщо на ній організовано односторонній рух.
2. Указує виїзд на дорогу, на якій є спеціальна смуга для руху маршрутних транспортних засобів.
3. Указує рекомендований напрямок руху.

Дод. 1: 5.7.2

4 Даний дорожній знак з табличками:



1. Визначає зону, де дозволено стоянку транспортних засобів не менш як 30 хв з непрацюючим двигуном.
2. Визначає зону, де стоянку транспортного засобу з непрацюючим двигуном заборонено в будь-якому випадку.
3. Визначає зону, де дозволено стоянку транспортних засобів з непрацюючим двигуном не більш як 30 хв.

Дод. 1: 5.39, 7.7, 7.19

5 В якому напрямку заборонено транзитний рух через перехрестя?



1. Тільки прямо.
2. Прямо і в зворотному напрямку.
3. В усіх напрямках.
4. Ліворуч і праворуч.

Дод. 1: 3.1, 7.3.3

6 Що означають дані стрілки на проїзній частині?



1. Попереджують про наближення до звуження проїзної частини.
2. Указують напрямок небезпечного повороту дороги.
3. Попереджують водія про наближення до небезпечної ділянки дороги.

Дод. 2: 1.19

7 Даний дорожній знак:



1. Дозволяє рух тільки на велосипедах.
2. Дозволяє рух тільки пішоходам, якщо немає тротуару або пішохідної доріжки.
3. Забороняє рух велосипедистів.
4. Інформація, закладена у відповідях 1 і 2.

Дод. 1: 4.12

8 Дайте повну відповідь. Водій повинен зупинити транспортний засіб на вимогу працівника міліції, який зупиняє його за допомогою:

1. Гучномовного пристрою.
2. Жезла.
3. Руки.
4. Жезла і гучномовного пристрою.
5. Жезла, або гучномовного пристрою, або руки.

8.9 «А, В»

9 Коли і де повинні бути увімкнені денні ходові вогні на всіх механічних транспортних засобах? Дайте повну відповідь.

1. 3 1 жовтня по 1 травня на всіх транспортних засобах.
2. 3 1 грудня по 1 травня на всіх механічних транспортних засобах поза населеними пунктами.
3. 3 1 жовтня по 1 травня на всіх механічних транспортних засобах поза населеними пунктами, а в разі відсутності денних ходових вогнів у конструкції транспортного засобу - ближнє світло фар.

9.8

10 У якій відповіді найповніше перелічені вимоги Правил дорожнього руху для осіб, що навчаються водінню автомобіля? Дайте повну відповідь.

1. Зобов'язані знати й виконувати вимоги Правил дорожнього руху.
2. Повинні мати вік не менше ніж 16 років.
3. Під час керування автомобілем зобов'язані завжди мати при собі документ, що засвідчує їхній вік.
4. Повинні виконати всі вищеперелічені вимоги.

24.2; 24.3

11 Чи дозволяється стоянка з працюючим двигуном у житловій зоні?

1. Забороняється.
2. Дозволяється на час до п'яти хвилин в осінньо-зимовий період.
3. Дозволяється на час до п'яти хвилин у будь-яку пору року.


26.2 «В»

12 Що повинен урахувати водій при виборі у встановлених межах швидкості руху?

1. Тільки дорожню обстановку.
2. Тільки особливості вантажу, що перевозиться, і стан транспортного засобу.
3. Усі перелічені фактори.

12.1

13 Автомобілі проїдуть перехрестя в наступному порядку:



1. Червоний, синій, зелений.
2. Червоний і зелений, синій.
3. Зелений, синій з червоним.

16.11

14 У якій відповіді правильно названо одну з умов, в наявності якої мусить упевнитися водій, перш ніж розпочати обгін?

1. У тому, що водій транспортного засобу, який рухається попереду по тій самій смузі, не подав сигналу про намір повороту (перестроювання) ліворуч.
2. У справності свого транспортного засобу.
3. У тому, що проїзна частина має не менше двох смуг для руху в одному напрямку.

14.2 «Б»

15 На яких з перелічених ділянок доріг дозволяється ставити транспортні засоби під кутом до краю проїзної частини? Дайте повну відповідь.

1. На тих ділянках доріг, на яких є не менше двох смуг для руху в кожному напрямку.
2. В тих місцях, де це не буде перешкоджати рухові інших транспортних засобів.
3. На ділянках доріг, перелічених у відповідях 1 і 2.

15.5

16 Повертаючи на перехрещувану дорогу, на дозволяючий сигнал світлофора, водій:

1. Має перевагу в русі перед транспортними засобами і пішоходами на перехрещуваній проїзній частині, тому що рухається на дозволяючий сигнал світлофора.
2. Повинен дати дорогу транспортним засобам, які закінчують рух через перехрестя, а також пішоходам, які закінчують перехід.
3. Повинен збільшити швидкість руху, щоб уникнути зіткнення на перехресті.

16.5

17 Якщо Ви наближаєтеся до повороту дороги ліворуч, а він виявився крутішим, аніж передбачалося, Ви повинні:



1. Зменшити швидкість руху.
2. Продовжувати рух, не змінюючи швидкості й тримаючись лівого краю проїзної частини дороги.

ОБР

18 Що зобов'язаний виконати водій у даній ситуації?

1. Зупинитися, щоб дати дорогу пішоходам, які йдуть до трамвая (або від трамвая). Відновлювати рух дозволяється тільки після того, як пішоходи залишать проїзну частину і в трамвая зачиняться двері.



2. Проїхати трамвайну зупинку з особливою обережністю.

18.8

19 Що слід вчинити водієві, якщо у темну пору доби його засліплює водій зустрічного транспортного засобу?

1. Увімкнути дальнє світло фар і засліпити зустрічного водія.
2. Перемкнути декілька разів по чергово ближнє і дальнє світло фар, відвести погляд у бік.
3. Зупинитися, не змінюючи смуги руху, і увімкнути аварійну сигналізацію.

19.3

20 Дайте повну відповідь. Якщо перед залізничним переїздом немає дорожньої розмітки або дорожніх знаків, що визначають кількість смуг для руху, рух транспортних засобів через переїзд дозволяється:

1. В один ряд великогабаритним транспортним засобам.
2. В один ряд.
3. У декілька рядів на розсуд водія, залежно від ширини переїзду і габаритів транспортних засобів.


20.4

1 З Державтоінспекцією узгоджуються:

1. Маршрути та перелік доріг, на яких може проводитися навчання водінню транспортних засобів тільки у світлу пору доби.
2. Маршрути та перелік доріг, на яких може проводитися навчання водінню транспортних засобів.
3. Маршрути та перелік доріг з інтенсивним рухом, на яких може проводитися навчання водінню транспортних засобів тільки у світлу пору доби.

32.1 «Б»

2 Чорний автомобіль проїде перехрестя:



1. Останнім.
2. Першим.
3. Другим.

3.2; 16.13

3 Даний дорожній знак означає, що:



1. Забороняється рух транспортних засобів, у яких фактичне навантаження на будь-яку вісь більше ніж зазначена на знакові.
2. Забороняється рух вантажних автомобілів і составів транспортних засобів, дозволена максимальна маса яких більша ніж зазначена на знакові.
3. Забороняється рух транспортних засобів, загальна фактична маса яких більша ніж зазначена на знакові.

Дод. 1: 3.16


4 Що зазначає табличка під дорожнім знаком?



1. Протяжність вузької ділянки дороги.
2. Відстань до обїзду вузької ділянки дороги.
3. Відстань від знака до ділянки дороги, де заборонено рух транспортних засобів, габаритна ширина яких (з вантажем або без нього) більша за вказану на знакові.

Дод. 1:
7.1.1, 3.17

5 Зазначте час переставлення транспортних засобів з одного боку дороги на інший.



1. з 6.00 до 24.00.
2. з 19.00 до 24.00.
3. з 24.00 до 6.00.

Дод. 1: 3.36,
3.37

6 Суцільна жовта лінія горизонтальної розмітки в поєднанні з дорожнім знаком «Зупинку заборонено» дозволяє зупинку:

1. Автобусам, тролейбусам і автомобілям таксі.
2. Автобусам і тролейбусам.
3. Тільки маршрутним транспортним засобам і таксі, що здійснюють посадку або висадку пасажирів.
4. Усім транспортним засобам, що здійснюють висадку пасажирів.

Дод. 2: 1.4;
Дод. 1: 3.34

7 Даний дорожній знак забороняє рух транспортних засобів, що перевозять:



1. Небезпечні вантажі.
2. Контейнери.
3. Великогабаритні вантажі.
4. Металоконструкції.
5. Усі вищеперелічені вантажі.

Дод. 1: 3.12

8 Чи дозволяється працівникові міліції за допомогою тільки гучномовного пристрою зупинити транспортний засіб?

1. Забороняється.
2. Дозволяється за наявності жезла.
3. Дозволяється тільки у світлу пору доби.
4. Дозволяється.
5. Дозволяється за виконання вимог, зазначених у відповідях 2, 3 і 4.

8.9

9 Чи дозволяється перевезення пасажирів на вантажному причепі?

1. Дозволяється.
2. Забороняється.
3. Дозволяється тільки особам, що супроводжують вантаж.

21.11 «А»

10 Чи дозволяється навчати водінню на мотоциклах і мопедах без відповідного розпізнавального знака?

1. Дозволяється.
2. Забороняється.

24.8

11 Яким способом заборонено буксирування в ожеледицю? Дайте повну відповідь.

1. Способом часткового навантаження.
2. На жорсткому зчепленні.
3. На гнучкому зчепленні.
4. Усіма переліченими способами.


23.10 «Б»

12 Чи дозволяється рух по автомагістралях транспортних засобів, швидкість яких за технічною характеристикою або їхнім станом менша від 40 км/год?

1. Забороняється.
2. Дозволяється, якщо не встановлено знак «Обмеження мінімальної швидкості».
3. Дозволяється не далі другої смуги.

27.3

13 Як повинен учинити водій автобуса, якщо на смузі його руху є перешкода, а назустріч йому рухається вантажний автопоїзд?



1. Швидко об'їхати перешкоду і повернутися на свою смугу.
2. Дати дорогу автопоїзду.
3. Першим проїхати вузьку ділянку дороги, бо він перевозить пасажирів і тому має перевагу у русі.

4. Першим проїхати вузьку ділянку дороги повинен той водій, який першим наблизився до неї.

13.4

14 Що означає даний розпізнавальний знак?



1. На механічному транспортному засобі встановлено шини з шипами.
2. Попереду ділянка дороги, яка має нерівності на проїзній частині.
3. Попереду ділянка дороги з трьома смугами для руху в даному напрямку.


30.3 «Л»

15 Забороняється відчиняти двері транспортного засобу, залишати їх відчиненими і виходити з нього:

1. Якщо це загрожує безпеці і створить перешкоди іншим учасникам дорожнього руху.
2. На дорогах з інтенсивним рухом.
3. На дорогах з двостороннім рухом, якщо в кожному напрямку є по одній смузі для руху, розділених суцільною лінією дорожньої розмітки.

15.13

16 Світлофор працює в режимі миготіння сигналу жовтого кольору. Чи дозволяється Вам проїзд перехрестя без зупинки перед знаком «Проїзд без зупинки заборонено»?



1. Дозволяється за відсутності на перехрещуваній дорозі транспортних засобів.
2. Забороняється.

16.1;
дод. 1: 2.2

17 Що повинен здійснити водій задньоприводного автомобіля для запобігання небезпечним наслідкам заносу при гальмуванні на слизькій дорозі?

1. Припинити почате гальмування.
2. Збільшити зусилля натискання на педаль гальма.
3. Вимкнути зчеплення.

ОБР

18 За яких з перелічених умов забороняється експлуатація транспортних засобів? Дайте повну відповідь.

1. Забруднені габаритні вогні і сигнали гальмування.
2. Відсутній болт (гайка) кріплення або є тріщини диска і ободів коліс.
3. За умов, зазначених у відповідях 1 і 2.

31.4.5 «Є»


19 Що означає даний дорожній знак?



1. Забороняється обгін усіх транспортних засобів, крім поодиноких, що рухаються зі швидкістю менше ніж 30 км/год.
2. Забороняються випередження і обгін усіх транспортних засобів.
3. Попереду вузька ділянка дороги, випередження забороняється.

Дод. 1: 3.25

20 Зелений автомобіль проїде перехрестя:



1. Останнім.
2. Другим.
3. Третім.
4. Першим.

16.11; 16.14; 3.2

1 З Державтоінспекцією узгоджується рух колони, якщо в ній мінімальна кількість механічних транспортних засобів більш як:

- | | | | | |
|---|---|----|----|----|
| 1 | 2 | 3 | 4 | 5 |
| 4 | 5 | 10 | 15 | 20 |

32.1 «В»

2 В якому із перелічених випадках водію забороняється керувати транспортним засобом? Дайте повну відповідь.

- У якого номерний знак не відповідає вимогам стандартів.
- У якого номерний знак закріплений не в установленому для цього місці.
- У якого номерний знак не належить даному транспортному засобі.
- У випадках 1,2,3.
- У випадках 1 і 3.

2.9 «В»


3 На якій дорозі встановлюється даний дорожній знак?



- Встановлюється поза населеним пунктом на автомагістралі.
- Встановлюється на дорозі поза населеним пунктом.
- Встановлюється на дорозі в населених пунктах і поза ними.
- Встановлюється на будь-якій дорозі.

Дод. 1: 5.51

4 Які із даних дорожніх знаків не вводять будь-яких обмежень чи вимог, а тільки рекомендують водієві виконати певні дії?



- Знаки А і Б.
- Знак В.
- Знаки В і Г.
- Знак Г.
- Знаки В, Г, Д.

Дод. 1: 5.28, 5.30

5 В якій із зазначених відповідей водій виконав обгін відповідно до вимог Правил дорожнього руху в зоні дії даного дорожнього знака?



- Обігнав легковий автомобіль, що рухався зі швидкістю менше 30 км/год.
- Обігнав автопоїзд, що рухався зі швидкістю 40 км/год, після того, як його водій декілька разів жестом руки показав, що він дає дорогу для обгона.

Дод. 1: 3.25

6 Чи дозволяється перетинати широку суцільну лінію горизонтальної дорожньої розмітки?



- Забороняється в будь-якому разі.
- Дозволяється в будь-якому разі, з будь-якого боку при вимушеній зупинці.
- Дозволяється перетинати в разі вимушеної зупинки на автомагістралі, якщо цією лінією позначено край проїзної частини, суміжної з узбіччям.

Дод. 2: 1.2

7 Даний дорожній знак попереджує, що:



- Попереду ділянка дороги, яка веде в тупик.
- Попереду ділянка дороги, по краям проїзної частини якої йдуть дорожні роботи.
- Попереду ділянка дороги з крутим підйомом.
- Попереду ділянка дороги, на якій закінчується двосторонній рух.
- Попереду ділянка дороги, на якій вона звужується з обох боків.

Дод. 1: 1.5.1

8 Якщо регулювальник указує рукою на транспортний засіб, водій повинен:

- Підвищити швидкість руху.
- Взяти праворуч і зменшити швидкість руху.
- Зупинити транспортний засіб у місці, на яке вкаже регулювальник, дотримуючись правил зупинки.

8.9

9 Аварійна світлова сигналізація повинна бути ввімкнена:

- Тільки в разі засліплення водія.
- Тільки при вимушеній зупинці на дорозі.
- Тільки при дорожньо-транспортній пригоді.
- В усіх перелічених випадках.

9.9 «А», «Б», «Е»; 19.4;

10 Чи дозволяється навчання водінню транспортних засобів у житловій зоні?

- Дозволяється.
- Дозволяється тільки у світлу пору доби.
- Дозволяється в будь-якому разі з дотриманням запобіжних заходів.
- Забороняється.
- Дозволяється за виконання умов, перелічених у відповідях 2 і 3.

24.9

11 В яких випадках дозволяється користуватися крайньою лівою смугою на дорогах з двостороннім рухом, які мають по дві смуги у кожному напрямку?

1. Для руху, якщо зайнята права смуга, а також для повороту ліворуч або розвороту.
2. В будь-якому випадку, коли так вважає за потрібне водій.
3. В будь-якому випадку, якщо це не створює перешкод для руху іншим.
4. У випадках, зазначених у відповідях 1 і 3.

11.5


12 З якою максимальною швидкістю дозволяється рух мотоциклів у зоні, позначеній даним дорожнім знаком?



1. 20 км/год.
2. 15 км/год.
3. 10 км/год.
4. 5 км/год.
5. На розсуд водія, гарантуючи безпеку руху.

12.5

13 Рух заборонено:



1. Легковому й вантажному автомобілям, мотоциклу.
2. Трамваю і легковому автомобілю.
3. Вантажному автомобілю й мотоциклу.
4. Усім транспортним засобам.

8.8 «А»

14 За спеціальними правилами здійснюється рух транспортних засобів, габарит яких за довжиною мінімально перевищує (крім маршрутних транспортних засобів):

1	2	3	4	5
24 м	22 м	20 м	18 м	16 м


22.5

15 У яких місцях Правила дорожнього руху забороняють зупинку транспортних засобів? Дайте повну відповідь.

1. Поза населеними пунктами ближче 100 м від залізничних переїздів.
2. На майданах, де організовано круговий рух.
3. На залізничних переїздах, у тунелях і під естакадами, мостами і шляхопроводами.
4. В усіх перелічених місцях.

15.9 «А», «В»

16 Автомобілі проїдуть перехрестя у наступному порядку:



1. Зелений, синій, червоний.
2. Синій, червоний, зелений.
3. Синій одночасно з зеленим, червоний.

16.12

17 До чого може призвести зміщене до одного з бортів розташування вантажу у кузові автомобіля? Дайте повну відповідь.

1. Керування автомобілем стає утрудненим.
2. Положення автомобіля стає нестійким.
3. Призведе до негативних наслідків, зазначених у відповідях 1 і 2.
4. Зміщення вантажу впливає на стійкість і керованість автомобіля тільки на поворотах або на підйомах.

ОБР;
22.3 «Б»

18 Ви наближаєтесь до нерегульованого пішохідного переходу, перед яким на суміжній з Вами смузі зупинився транспортний засіб. Ви повинні:

1. Проїхати пішохідний перехід без зупинки, але з особливою обережністю.
2. Проїхати пішохідний перехід без зупинки.
3. Обов'язково зупинитися. При появі пішоходів пропустити їх.
4. Зменшити швидкість руху, а в разі потреби зупинитися; продовжити рух лише переконавшись, що перед транспортним засобом, який зупинився, немає пішоходів.


18.4

19 В яких з перелічених випадків дозволяється використовувати задні протитуманні ліхтарі?

1. Тільки при русі заднім ходом.
2. Виключно в умовах недостатньої видимості.
3. Тільки при русі по гірським дорогам.
4. У випадках, зазначених у відповідях 1, 2, 3.

19.9

20 Водій якого транспортного засобу має перевагу в русі?



1. Водій велосипеда.
2. Водій автомобіля.

16.13

1 Яким транспортним засобам дозволено рух по смузі, позначеній дорожньою розміткою «А»?



1. Будь-яким автобусам і тролейбусам.
2. Тільки автобусам і мікроавтобусам.
3. Автобусам, мікроавтобусам, тролейбусам і таксі, що рухаються за встановленим маршрутом і мають визначені місця для посадки (висадки) пасажирів.

1.10;
дод. 2: 1.24

2 Чи повинні вмикати спеціальний звуковий сигнал під час руху водії оперативних транспортних засобів, виконуючи невідкладне службове завдання?

1. Спеціальний звуковий сигнал може бути ввімкнений або вимкнений на розсуд водія, якщо безпечна оглядовість не обмежена.
2. Повинні. За відсутності необхідності додаткового привертання уваги учасників дорожнього руху спеціальний звуковий сигнал може бути вимкнений.
3. Не повинні — за умови, що ввімкнено пробіскові маячки синього та червоного кольору і гарантовано безпеку дорожнього руху.

3.1

3 Даний дорожній знак попереджує, що:



1. Попереду аеропорт — заборонна зона для в'їзду усіх транспортних засобів.
2. Попереду ділянка дороги, над якою літаки пролітають на невеликій висоті, видаючи підвищений шум, і тому цю ділянку слід об'їхати.
3. Ділянка дороги, що проходить поблизу аеродрому чи над якою літаки або вертольоти пролітають на невеликій висоті.

Дод. 1: 1.18

4 На якій відстані до початку небезпечної ділянки встановлюються дані дорожні знаки в населених пунктах?



1. 25— 50 м.
2. 50—100 м.
3. 100—150 м.
4. 150—300 м.
5. 400—500 м.

Дод. 1

5 Що означає даний дорожній знак із табличкою?



1. Забороняється стоянка вантажних автомобілів з дозволеною максимальною масою до 3,5 т.
2. Забороняється стоянка вантажних автомобілів з дозволеною максимальною масою понад 3,5 т.
3. Забороняється стоянка транспортних засобів, крім вантажних автомобілів з дозволеною максимальною масою понад 3,5 т.

Дод. 1: 3.35,
7.5.1

6 Дорожня розмітка у вигляді білих діагональних смуг позначає:



1. Межі ділянок проїзної частини, на які в'їзд заборонено.
2. Межі ділянок проїзної частини, на яких дозволяється короткочасна зупинка.
3. Межі ділянок проїзної частини, на яких дозволяється зупинка і стоянка транспортних засобів.

Дод. 2: 1.1

7 Що означає даний дорожній знак:



1. На найближчому перехрещенні проїзних частин дозволяється рух тільки ліворуч або на розворот.
2. Забороняється розворот у зворотному напрямку, поворот ліворуч дозволено.
3. Рух дозволяється в усіх напрямках, крім повороту ліворуч.
4. Рух дозволяється ліворуч тільки маршрутним транспортним засобам.
5. Рух дозволяється за умов, викладених у відповідях 2 і 4.

Дод. 1: 4.3

8 Яким транспортним засобам заборонено рух?



1. Мотоциклу, легковому автомобілю та вантажному автомобілю.
2. Легковому автомобілю і мотоциклу.
3. Вантажному автомобілю.


8.8 «Б»

9 Яким водіям дозволяється перевезення пасажирів (до 8 чоловік, крім водія) у кузові вантажного автомобіля?

1. Водіям, які мають стаж керування транспортним засобом більш ніж три роки й посвідчення водія транспорту категорії «С».
2. Найдисциплінованим і найдосвідченішим водіям, що мають посвідчення на право керування транспортним засобом категорії «С».

21.5

10 Яким шляхом із позначених стрілками водію автопоїзда дозволяється виконати поворот праворуч?



1. Тільки шляхом Б за умови, що водій автопоїзда не створить небезпеки чи перешкоди іншим учасникам руху, а при необхідності звернеться за допомогою до інших осіб.
2. Тільки шляхом А.
3. Будь-яким із зазначених шляхів.


10.5
10.6

11 Нерейкові транспортні засоби на дорогах, які мають дві і більше смуг для руху в одному напрямку повинні рухатися:

1. Як можна ближче до правого краю проїзної частини, крім випадків, коли виконується випередження, об'їзд або перестроювання перед поворотом ліворуч чи розворотом.
2. Будь-якою смугою свого напрямку, якщо дорога вільна від інших транспортних засобів.
3. В населених пунктах будь-якою смугою свого напрямку руху, якщо дорога вільна від інших транспортних засобів.

11.2

12 З якою максимальною швидкістю дозволяється рух при буксируванні вантажним автомобілем механічного транспортного засобу?



1. 80 км/год.
2. 70 км/год.
3. 60 км/год.
4. 50 км/год.
5. 30 км/год.

12.7

13 Якої дистанції повинні дотримуватись водії транспортних засобів, швидкість руху яких не перевищує 40 км/год, на дорогах поза населеними пунктами?

1. Дистанція повинна бути такою, щоб гарно було видно транспортний засіб, що рухається попереду.
2. Дистанція повинна бути такою, щоб транспортні засоби, які здійснюють обгін, мали можливість безперешкодно повернутися на раніше займану смугу руху.
3. Дистанція повинна бути не менша ніж 40 м при швидкості руху до 40 км/год.


13.2

14 Що повинен зробити водій для перевезення вантажу у світлу пору доби, якщо вантаж виступає за задню точку габариту транспортного засобу більш ніж на 2 м?

1. Позначити вантаж сигнальними щитками або прапорцями та перевозити його за спеціальними правилами.
2. Тільки позначити вантаж сигнальними щитками або прапорцями.

30.3 «3»,
22.5


15 Чи дозволяється зупинка легкового автомобіля на трамвайній колії попутного напрямку, розташованій біля правого краю проїзної частини?



1. Дозволяється часом до 5 хвилин.
2. Забороняється.
3. Дозволяється для посадки або висадки пасажирів.

15.8

16 Яку смугу для руху прямо повинен був заздалегідь зайняти водій червоного автомобіля?



1. Ліву або праву.
2. Тільки ліву.
3. Тільки праву.

16.10

17 У яких із перелічених випадків водій може недооцінити власну швидкість руху і перевищити її? Дайте повну відповідь.

1. На дорогах поза населеними пунктами, якщо водій тривалий час рухається з високою, але дозволеною швидкістю.
2. Якщо вздовж дороги, по якій він рухається, немає дерев, будинків, парканів.
3. На вулицях із багатосмуговим рухом.
4. У випадках, зазначених у відповідях 1 і 2.
5. В усіх перелічених випадках.

ОБР

18 Сумарний люфт у рульовому керуванні легкового автомобіля не повинен перевищувати:

1. 10 градусів.
2. 15 градусів.
3. 20 градусів.
4. 25 градусів.
5. 30 градусів.

31.4.2 «А»

19 Дайте повну відповідь. У темну пору доби і в умовах недостатньої видимості на механічному транспортному засобі, що рухається, повинні бути ввімкнені:

1. Тільки фари ближнього світла. Дозволяється додатково використовувати протитуманні фари і задні протитуманні ліхтарі.
2. Тільки фари дальнього світла. Дозволяється додатково використовувати протитуманні фари і задні протитуманні ліхтарі.
3. В залежності від освітлення дороги — дальнє або ближнє світло фар з додатковим використанням протитуманних фар і задніх протитуманних ліхтарів.


19.1 «А»; 19.5;
19.9

20 Сільськогосподарські, дорожні, будівельні та інші машини провозити через залізничний переїзд:

1. Дозволяється тільки в транспортному стані.
2. Дозволяється, якщо отримано дозвіл начальника дистанції колії залізниці.
3. Забороняється.
4. Дозволяється.

20.6

1 Яким транспортним засобам дозволено рух при даному сигналі світлофора?



1. Мотоциклу, легковому і вантажному автомобілям.
2. Легковому і вантажному автомобілям.
3. Трамваю і мотоциклу.
4. Усім транспортним засобам.


8.7.3 «Б»

2 Якщо автомобіль зупинився біля правого краю дороги, то з якого боку повинен вийти з автомобіля пасажир?

1. З боку, який вкаже водій.
2. Тільки з правого боку.
3. З будь-якого боку, не створюючи перешкод іншим учасникам дорожнього руху.

5.1

3 Водій наближається до ділянки дороги, перед якою встановлено заповнений снігом даний дорожній знак. Який це знак?



1. «Проїзд без зупинки заборонено».
2. «Дати дорогу».
3. «Рух заборонено».
4. «Головна дорога».
5. «Обгін заборонено».

Дод. 1: 2.2

4 Який дорожній знак вимагає дати дорогу зустрічним транспортним засобам?



1



2



3



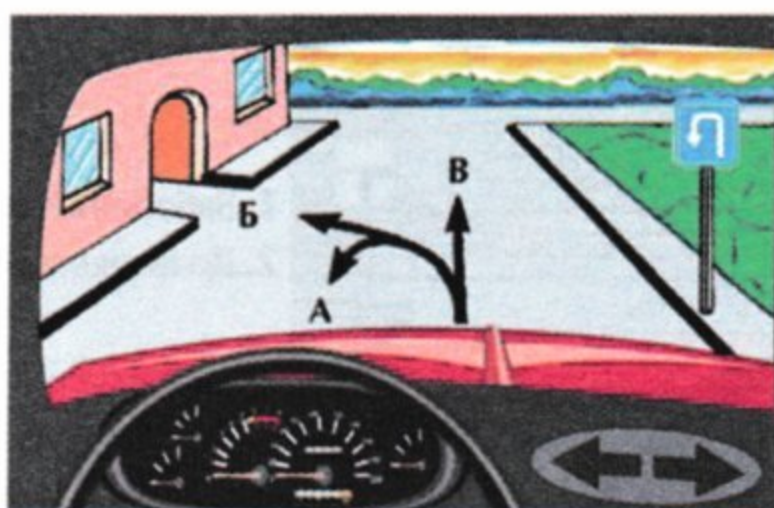
4



5

Дод. 1: 2.5

5 Даний дорожній знак забороняє Вам рух у напрямку:



1. А і В.
2. Б і В.
3. В.
4. Б.

Дод. 1: 5.26

6 Чи дозволяється перетинати переривчасту подвійну лінію дорожньої розмітки при вимкненні реверсивних світлофорів?



1. Дозволяється, якщо вона розташована праворуч від водія.
2. Дозволяється, якщо вона розташована ліворуч від водія.
3. Дозволяється з будь-якого боку.
4. Забороняється.

Дод. 2: 1.9


7 Якщо навантаження на вісь автомобіля більше зазначеного на даному дорожньому знакові, водій повинен:




1. Рухатися зі швидкістю не більше 20 км/год, не зупиняючись.
2. Завчасно змінити свій маршрут руху.
3. Рухатися по узбіччю дороги.

Дод. 1: 3.16

8 На якому малюнку показано правильний напрямок руху?



1



2

1. На обох.
2. На першому.
3. На другому.

8.2

9 Дайте повну відповідь. Аварійна світлова сигналізація повинна бути ввімкнена:

1. При дорожньо-транспортній пригоді.
2. При вимушеній зупинці на дорозі.
3. В разі засліплення водія.
4. В усіх перелічених випадках.

9.9 «А», «Б», «Е»; 19.4

10 Початкове навчання водінню транспортного засобу повинне проводитися:

1. Тільки на дорогах поза населеними пунктами.
2. Тільки на закритих майданчиках, автодромах або у місцях, де відсутні інші учасники дорожнього руху.
3. За умов, перелічених у відповідях 1 і 2.


24.4

11 В яких з перелічених випадків заборонено буксирування?

1. Мотоциклами без бокового причепа, а також мотоциклів без бокового причепа.
2. Автобусами.
3. У випадках, зазначених у відповідях 1 і 2.

23.10 «Г»


12 З якою максимальною швидкістю дозволяється рух на даній ділянці дороги за наявності на автомобілі розпізнавального знака?



1. 100 км/год.
2. 90 км/год.
3. 70 км/год.

12.9 «Б»

13 Яким транспортним засобам дозволено стоянку?



1. Тільки легковому автомобілю.
2. Тільки мотоциклу.
3. Легковому автомобілю та мотоциклу.
4. Тільки вантажному автомобілю.
5. Усім транспортним засобам.


Дод. 1: 3.35, 7.5.1

14 В яких з перелічених випадків дозволяється виконати обгін перед пішохідним переходом в населених пунктах?

1. Якщо на пішохідному переході і поруч з ним відсутні пішоходи.
2. Якщо до пішохідного переходу залишилося не менше 50 м.
3. У випадках, зазначених у відповідях 1 і 2.

14.6 «В»


15 Водій якого автомобіля порушив правила зупинки біля тротуару з пішохідним рухом?



1. Водій Б.
2. Водій А.
3. Обидва водії порушили.
4. Обидва водії не порушили.

15.5

16 Чи дозволяється рух трамваєм 1 і 2 одночасно?




1. Забороняється.
2. Дозволяється.

16.11; 16.14

17 Який прийом гальмування гарантує безпечну зупинку задньоприводного автомобіля на слизькій дорозі?

1. Гальмування з вимкненим зчепленням.
2. Різде натискання на педаль гальма без вимкнення зчеплення.



3. Багаторазове переривчасте натискання й відпускання педалі гальма без вимкнення зчеплення.

ОБР

18 Чи повинен водій пропускати сліпих пішоходів, які подають сигнал тростиною білого кольору, спрямованою вперед?

1. Повинен на регульованому пішохідному переході.
2. Повинен на нерегульованому пішохідному переході.
3. Повинен в усіх випадках, у тому числі й поза пішохідними переходами.
4. Повинен на будь-якому пішохідному переході.

18.5

19 За яких з перелічених умов забороняється експлуатація транспортних засобів? Дайте повну відповідь.

1. У рульовому керуванні застосовані робочі рідини, не передбачені для даної моделі транспортного засобу.
2. В рульовому керуванні встановлені деталі зі слідами залишкової деформації і іншими дефектами.
3. За умов, зазначених у відповідях 1 і 2.

31.4.2 «Г»

20 Чи дозволяється рух через залізничний переїзд, якщо ввімкнено заборонний сигнал світлофора?

1. Забороняється.
2. Дозволяється, якщо поїзд, що наближається, знаходиться на достатньо далекій відстані і на переїзді відсутній шлагбаум.

20.5 «В»

1 Що повинен урахувати водій при визначенні найбільшої ширини смуги руху для автопоїзда?

1. Габарити транспортного засобу за шириною, безпечні інтервали між транспортними засобами, а також виляння причепа і зміщення його до центра повороту.
2. Тільки габарити автопоїзда за шириною.

1.10; 11.1

2 Чи дозволяється установка на транспортних засобах спеціальних звукових сигнальних пристроїв?

1. Забороняється.
2. Дозволяється за наявності узгодження, виданого реєстраційним підрозділом ДАІ МВС.
3. Дозволяється за наявності дозволу, виданого ДАІ МВС.

2.1 «В»

3 Що означає вставка на синьому фоні з найменуванням населеного пункту на ній?

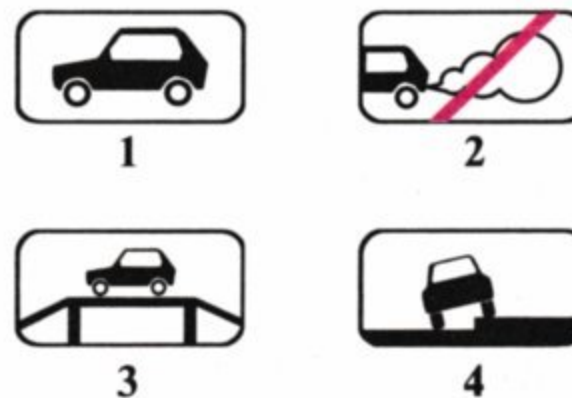


1. Зазначений об'єкт знаходиться в даному населеному пункті.
2. До зазначеного населеного пункту здійснюватиметься рух по дорозі, на якій не діють вимоги Правил, що визначають порядок руху в населених пунктах.

3. До зазначеного населеного пункту буде здійснюватися рух по автомагістралі.


Дод. 1: 5.51

4 Яка табличка вказує спосіб поставлення транспортного засобу на стоянку?



Дод. 1: 7.6.2

5 Під час руху водії яких транспортних засобів порушують Правила дорожнього руху?



1. Водії легкових автомобілів.
2. Водії туристського автобуса і вантажного автомобіля.
3. Ніхто не порушує.
4. Усі порушують.

Дод. 1: 5.8; 17.1

6 Суцільна жовта лінія горизонтальної дорожньої розмітки в поєднанні зі знаком «Зупинку заборонено» дозволяє зупинку:



1. Тільки автобусам і тролейбусам.
2. Тільки автобусам, тролейбусам і автомобілям таксі.
3. Тільки маршрутним транспортним засобам.
4. Усім транспортним засобам, з яких висаджуються пасажери.

Дод. 2: 1.4


7 В якому місці повинен зупинитися водій при в'їзді на перехрестя, якщо перед ним встановлено даний дорожній знак, а розмітка «стоп-лінія» відсутня?



1. Перед пішохідним переходом.
2. У тому місці, звідки, на розсуд водія, гарно проглядається рух по перехрещуваній дорозі.
3. Перед знаком.

Дод. 1: 2.2

8 У якій відповіді водій мотоцикла повернув ліворуч згідно з Правилами дорожнього руху?



1. Виїхав на перехрестя, пропустив вантажний автомобіль, закінчив поворот.
2. Зупинився перед перехрещуваною проїзною частиною і при дозволяючому жесті регулювальника повернув ліворуч.
3. Виїхав на перехрестя і, дочекавшись дозволяючого жесту регулювальника, закінчив поворот.

8.8 «А»

9 Повертаючи ліворуч на нерегульованому рівнозначному перехресті, водій нереєстрованого транспортного засобу:

1. Повинен дати дорогу водію автомобіля, що наближається праворуч.
2. Повинен дати дорогу водію автобуса, що наближається ліворуч.
3. Повинен дати дорогу водію зустрічного мотоцикла і водію автобуса, що наближається ліворуч.

16.12; 16.13

10 Що зобов'язаний зробити водій перед перестроюванням та іншою зміною напрямку руху?

1. Подати звуковий сигнал.
2. Упевнитися, що даний маневр буде безпечним і не створить перешкод або небезпеки іншим учасникам руху.
3. Перемкнути світло фар.
4. Виконати всі зазначені дії.

10.1

11 Нерейкові транспортні засоби на дорогах, які мають дві і більше смуг для руху в одному напрямку повинні рухатися:

1. Як можна ближче до правого краю проїзної частини, якщо транспортний засіб має дозволену максимальну масу понад 3,5 т.
2. Як можна ближче до правого краю проїзної частини, крім випадків, коли виконується випередження, об'їзд або перестроювання перед поворотом ліворуч чи розворотом.
3. Як можна ближче до правого краю проїзної частини, тільки поза населеним пунктом.
4. Як можна ближче до правого краю проїзної частини, тільки в населеному пункті.

11.2

12 Якщо на транспортному засобі встановлено розпізнавальний знак «Обмеження максимальної швидкості», то водієві цього транспортного засобу:

1. Забороняється перевищувати вказану на знакові швидкість.
2. Дозволяється перевищувати вказану на знакові швидкість тільки при обгоні.
3. Дозволяється перевищувати вказану на знакові швидкість тільки на ділянках доріг, де швидкість руху підвищена встановленням відповідного дорожнього знака.

12.9 «Б»

13 Транспортні засоби проїдуть перехрестя в наступному порядку:



1. Синій, зелений, червоний.
2. Синій, червоний, зелений.
3. Червоний, зелений, синій.

16.12

14 Власники механічних транспортних засобів і причепів до них повинні зареєструвати (перереєструвати) їх у ДАІ незалежно від технічного стану з моменту придбання (отримання), митного оформлення, а також переобладнання або ремонту, якщо необхідно внести зміни в реєстраційні документи, протягом:

1	2	3	4	5
5 діб	10 діб	15 діб	20 діб	30 діб

30.1

15 Яким чином дозволяється ставити транспортні засоби під кутом до краю проїзної частини?

1. Біля тротуарів або інших місць з пішохідним рухом дозволяється ставити тільки передньою частиною, а на підйомах — тільки задньою частиною.
2. Біля тротуарів або інших місць з пішохідним рухом дозволяється ставити передньою або задньою частиною, а на підйомах — тільки задньою частиною.
3. При постановці транспортного засобу під кутом до краю проїзної частини не має значення, яким чином воно буде поставлене відносно до тротуару.

15.5

16 Якими правилами проїзду перехрестя повинен керуватися водій у даному випадку?



1. Правилами проїзду регульованих перехрестя.
2. Правилами проїзду нерегульованих перехрестя.

16.1; 16.6

17 Що може викликати інтенсивне переміщення вперед пасажирів або незакріпленого вантажу?

1. Різкий розгін автомобіля.
2. Різке гальмування автомобіля.
3. Різкий розгін або гальмування автомобіля.

ОБР

18 Чи дозволяється експлуатація автомобіля, у якого несправна система випускання відпрацьованих газів?

1. Не дозволяється.
2. Дозволяється тільки мотоциклів без бокового причепа.
3. Забороняється тільки при випусканні з глушителя великої кількості диму.

31.4.6 «В»

19 На ділянці дороги, що позначена знаком «Крутий спуск», де зустрічний роз'їзд утруднено, необхідно дати дорогу транспортному засобу, що рухається вгору:

1. Якщо його дозволена максимальна маса більша за 3,5 т.
2. В усіх перелічених випадках
3. Якщо це дорожня машина з увімкненим оранжевим проблісковим маячком.
4. Якщо це автобус.

28.1

20 У яких із перелічених випадків необхідно обов'язково зупинити транспортний засіб перед залізничним переїздом?

1. Перед залізничним переїздом тоді, коли шлагбаума немає, але ввімкнено заборонний сигнал світлофора.
2. Перед залізничним переїздом без шлагбаума тільки за наявності перед ним знака «Багатоколійна залізниця».
3. У випадках, зазначених у відповіді 1 або 2.

20.5 «В»

1 Дайте повну відповідь.
За визначенням Правил дорожнього руху,
до маршрутних транспортних засобів належать:

1. Трамваї і тролейбуси.
2. Автобуси, мікроавтобуси, тролейбуси, трамваї і таксі, що рухаються за встановленими маршрутами та мають визначені місця на дорозі для посадки (висадки) пасажирів.
3. Автобуси і маршрутні таксі.

1.10

2 Якими переліченими транспортними засобами
дозволено керувати водію категорії «С»?
Дайте повну відповідь.

1. Автомобілями, які експлуатуються на вулично-дорожній мережі.
2. Автомобілями, які призначені для перевезення вантажів та дозволена максимальна маса яких перевищує 7500 кг.
3. Автомобілями переліченими у відповідях 1,2.

2.13

3 У якому випадку водій правильно виконав
вимогу даного дорожнього знака?



1. Дав дорогу транспортним засобам, що рухаються по перехрещуваній дорозі.
2. Дав дорогу механічним транспортним засобам, що рухаються по перехрещуваній дорозі.

Дод. 1: 2.1

4 Який з даних дорожніх знаків дозволяє
транзитний рух мотоциклів?



1



2



3




4



5

Дод. 1: 4.11

5 Чи дозволено обгін у ситуації, показаній на малюнку?



1. Дозволено — тільки поодиноких транспортних засобів, що рухаються зі швидкістю менше ніж 30 км/год.
2. Заборонено.
3. Дозволено у будь-якому випадку.

Дод. 1: 1.28,
1.31.3

6 Що позначає суцільна жовта лінія
горизонтальної дорожньої розмітки?



1. Місце, де заборонено тільки стоянку транспортних засобів.
2. Місце, де дозволено зупинку транспортних засобів для посадки (висадки) пасажирів або навантаження (розвантаження) вантажу.
3. Місце, де заборонено зупинку та стоянку транспортних засобів, або межі смуги для руху маршрутних транспортних засобів.

Дод. 2: 1.4

7 В яких з перелічених випадків слід дати дорогу
транспортному засобу, що наближається ліворуч?
Дайте повну відповідь.

1. У тому випадку, якщо встановлено дорожній знак, який зобов'язує дати дорогу.
2. У тому випадку, якщо необхідно повернути ліворуч.
3. У випадках, перелічених у відповідях 1 і 2.

Дод. 1: 2.1, 2.2,
2.5

8 Чи мають перевагу додаткові вимоги
регулювальника перед сигналами світлофорів?

1. Не мають переваги.
2. Мають перевагу тільки у світлу пору доби.
3. Водії і пішоходи повинні виконувати додаткові вимоги регулювальника, навіть якщо вони суперечать сигналам світлофорів.


8.3

9 У якій відповіді зазначено правильний варіант
ввімкнення світлових приладів на буксированому
механічному транспортному засобі?

1. Аварійна світлова сигналізація.
2. Габаритні ліхтарі в населених пунктах.
3. Ближнє світло фар у темну пору доби або в умовах туману.
4. Будь-яке освітлення на дорогах поза населеними пунктами.

9.9 «Г»

10 Водій якого транспортного засобу
не порушив правила зупинки?



1. Водій автомобіля.
2. Водій мотоцикла.
3. Обидва порушили.
4. Ніхто не порушив.

15.9 «Е»;
17.2

11 Чи дозволяється перевезення пасажирів у кузові вантажного автомобіля при буксируванні на жорсткому або гнучкому зчепленні?

1. Забороняється в кузовах обох автомобілів.
2. Дозволяється тільки в кузові буксируючого автомобіля.
3. Дозволяється тільки в кузові буксированого автомобіля.
4. Дозволяється в кузовах буксируючого й буксированого автомобілів.

23.9

12 З якою максимальною швидкістю дозволяється рух транспортних засобів, якими керують водії зі стажем до двох років, на ділянках доріг, позначених даним дорожнім знаком?



- | | | | | |
|-----------|-----------|-----------|-----------|-----------|
| 1 | 2 | 3 | 4 | 5 |
| 90 км/год | 70 км/год | 60 км/год | 50 км/год | 40 км/год |

12.6 «Б»

13 Як подати першу медичну допомогу при термічному опіку в дорозі?

1. Видалити потерпілого із зони високої температури, проколоти пухирі, що утворилися, обробити уражену поверхню вазеліном або олією і присипати порошком.
2. Видалити потерпілого із зони високої температури, накласти суху асептичну пов'язку або чисту бавовняну тканину.
3. Виконати дії, зазначені у відповіді 1 або 2.


ППМД
стор. 7

14 До чого може призвести зміщене до одного з бортів розташування вантажу у кузові автомобіля? Дайте повну відповідь.

1. Положення автомобіля стає нестійким.
2. Управління автомобілем стає утрудненим.
3. Зміщення вантажу впливає на стійкість і управління автомобілем тільки на поворотах або на підйомах.
4. Приведе до негативних наслідків, зазначених у відповідях 1 і 2.

22.3 «Б»;
ОБР


15 Від залізничних переїздів стоянка транспортних засобів забороняється на відстані ближче ніж на:



1. 80 м.
2. 50 м.
3. 100 м.
4. 150 м.

15.10 «Г»

16 Водій якого транспортного засобу повинен дати дорогу?



1. Водій вантажного автомобіля.
2. Водій легкового автомобіля.

16.12

17 Які колеса задньоприводного легкового автомобіля найбільш схильні до гальмування «юзом»?

1. Задні колеса.
2. Передні колеса.

ОБР

18 Сумарний люфт у рульовому керуванні легкових автомобілів не повинен перевищувати:

1. 5 градусів.
2. 10 градусів.
3. 15 градусів.
4. 25 градусів.
5. 30 градусів.

31.4.2. «А»


19 Яке освітлення має бути ввімкнене на автомобілі при зустрічному роз'їзді на неосвітлених ділянках дороги?



1. Дальнє світло фар.
2. Близнє світло фар.
3. Габаритні ліхтарі.

19.2

20 Як повинен вчинити водій транспортного засобу, якщо на залізничному переїзді увімкнено заборонний сигнал світлофора і звуковий сигнал, а шлагбаум ще не опущено?




1. Зупинитися перед дорожньою розміткою «стоп-лінія», дорожнім знаком «Проїзд без зупинки заборонено», шлагбаумом або світлофором.
2. Особисто впевнитися у відсутності поїзда, який наближається і проїхати через переїзд.

3. Проїхати через переїзд, керуючись положенням шлагбаума.

20.3;
20.5 «Б», «В»

1 Яким транспортним засобам дозволено рух при даному сигналі світлофора?



1. Усім транспортним засобам.
2. Трамваю, жовтому й червоному автомобілям.
3. Жовтому й червоному автомобілям.

8.7.3 «Б»

2 Чи повинні пішоходи, які не встигли закінчити перехід проїзної частини на пішохідному переході, який не регулюється, зупинитися на лінії, яка розділяє транспортні потоки?

1. Повинні зупинитися, продовжити рух слід лише після того, як звільниться проїзна частина.
2. Не повинні зупинятися, бо на нерегульованому пішохідному переході пішоходи завжди мають перевагу.

4.16 «А»; 18.1

3 Дайте повну відповідь. Даний дорожній знак попереджує, що попереду узбіччя:



1. Тільки зруйноване.
2. Тільки занижене.
3. Тільки підвищене.
4. Тільки на якому виконуються ремонтні роботи.
5. Усі зазначені небезпеки характерні для даного знака.

Дод. 1: 1.15

4 Який дорожній знак називається «Об'їзд перешкоди з лівого боку»?



1



2



3




4



5

Дод. 1: 4.8

5 Даний дорожній знак разом з табличкою дозволяють транзитний рух через перехрестя:



1. Прямо, праворуч і в зворотному напрямку.
2. Тільки праворуч.
3. Тільки прямо.
4. Тільки ліворуч.

Дод. 1: 3.1, 7.3.2

6 Чи дозволяється Вам обігнати велосипедиста?



1. Забороняється.
2. Дозволяється.

Дод. 2: 1.11

7 Чи дозволяється проїзд без зупинки через карантинний пост, перед яким встановлено даний дорожній знак?



1. Дозволяється під час дощу й туману.
2. Забороняється.
3. Дозволяється, якщо відкрито шлагбаум.
4. Дозволяється, якщо біля шлагбаума немає чергового.

Дод. 1: 3.41

8 Рух дозволено:



1. Білому, синьому й жовтому автомобілям.
2. Червоному й білому автомобілям.
3. Жовтому й червоному автомобілям.

8.8 «А»

9 Під час перевезення в автобусі, мікроавтобусі організованої групи дітей дорослих супровідників повинно бути не менше:

1. Двох. При цьому не обов'язкове встановлення розпізнавального знака «Діти».
2. Одного. При цьому спереду і ззаду на транспортному засобі обов'язково встановлюється розпізнавальний знак «Діти».
3. Відповіді 1 і 2 правильні.

21.3

10 У полі на сільськогосподарських роботах траєкторії руху вантажного автомобіля і трактора перетинаються. Хто повинен дати дорогу?

1. Водій трактора — водієві вантажного автомобіля.
2. Водій вантажного автомобіля — водієві трактора.
3. Водій, що перебуває праворуч.
4. Водій, до якого транспортний засіб наближається праворуч.

10.11

11 Чи дозволяється буксирування мопедів?

1. Дозволяється тільки у світлу пору доби.
2. Дозволяється тільки по дорогах, які не мають покриття.
3. Дозволяється у будь-якому випадку з дотриманням заходів безпеки.
4. Забороняється.

23.10 «Г»

12 З якою максимальною швидкістю дозволяється рух вантажних автомобілів з дозволеною максимальною масою понад 3,5 т на ділянках доріг, що не належать за умовами руху до «доріг для автомобілів» та позначених даним дорожнім знаком?



- | | | | | |
|------------|-----------|-----------|-----------|-----------|
| 1 | 2 | 3 | 4 | 5 |
| 110 км/год | 90 км/год | 80 км/год | 70 км/год | 60 км/год |

12.6 «Г»

13 Скроневу артерію притискають при кровотечах із рани:

1. Голови.
2. Ший.
3. Плеча.

ППМД
стор. 4

14 Які з зазначених дій повинен виконати водій перед початком обгону?

1. Упевнитися в тому, що смуга зустрічного руху, на яку він буде виїжджати, вільна від транспортних засобів на достатній для обгону відстані.
2. Декілька разів переключити дальнє світло фар на ближнє, тим самим попередити водія транспортного засобу, який обганятиме.
3. Виконати дії, зазначені у відповідях 1 і 2.

14.2 «В»


15 Зупинку заборонено, якщо відстань між суцільною білою лінією розмітки і транспортним засобом становить:



1. 2,5 м.
2. 3,5 м.
3. 4 м.
4. 5,5 м.
5. 6 м.

15.9 «Д»

16 Автомобілі проїдуть перехрестя в наступному порядку:



1. Червоний, синій, зелений.
2. Червоний вїде на перехрестя й зупиниться, щоб дати дорогу синьому; зелений, синій; червоний завершує поворот.
3. Зелений, синій, червоний.

16.12; 16.13

17 З якого боку дозволяється водію сісти в автомобіль?

1. З того боку автомобіля, який ближче до тротуару.
2. З лівого боку.
3. З правого боку.
4. З боку розташування керма, не створюючи перешкод іншим учасникам дорожнього руху.

ОБР

18 При непрацюючому манометрі пневматичного гальмового привода водій повинен:

1. Припинити подальший рух.
2. Продовжити поїздку.
3. Вжити заходів до усунення несправності, а якщо це зробити неможливо, — рухатися як можна коротшим шляхом до місця стоянки або ремонту, дотримуючись запобіжних заходів.

31.4.1 «Г»;
31.5

19 За якої несправності забороняється подальший рух транспортних засобів?

1. Не працюють в установленому режимі склоочисники з боку пасажира.
2. Не працюють передбачені конструкцією транспортних засобів склообмивачі.
3. При несправностях, зазначених у відповідях 1 і 2.
4. Не діє склоочисник з боку розміщення керма під час дощу або снігопаду.


31.6

20 Де дозволяється перетинати залізничні колії водіям транспортних засобів?

1. Не ближче 1000 м від залізничної станції.
2. У місцях, де видимість в обох напрямках не менша ніж 1000 м.
3. У місцях, найзручніших з погляду водія.
4. Тільки на залізничних переїздах.

20.1

1 У якому положенні повинен зупинитися водій легкового автомобіля, щоб виконати вимогу дорожнього знака «Дати дорогу»?



1. У положенні А.
2. У положенні Б.
3. У будь-якому з показаних.

1.10;
дод. 1: 2.1

2 Для гарантування безпеки дорожнього руху які з перелічених дій зобов'язаний виконати водій?

1. Перед виїздом перевірити та забезпечити технічно - справний стан і комплектність транспортного засобу, правильність розміщення та кріплення вантажу.
2. Перед виїздом перевірити й забезпечити тільки правильність розміщення та кріплення вантажу.

2.3 «А»

3 Даний дорожній знак попереджує, що:



1. Попереду зупинка тільки маршрутних транспортних засобів.
2. Попереду місце перехрещення дороги з трамвайною колією тільки на перехресті з обмеженою оглядовістю.
3. Попереду місце перехрещення дороги з трамвайною колією тільки поза перехрестям.
4. Інформація, закладена у відповідях 1 і 3.
5. Інформація, закладена у відповідях 2 і 3.

Дод. 1: 1.20

4 Що означає даний дорожній знак із табличкою?



1. Рух тільки мотоциклів із боковим причепом праворуч заборонено.
2. Рух мотоциклів праворуч дозволено.
3. Рух мотоциклів праворуч заборонено.

Дод. 1: 3.6,
7.3.1

5 Даний дорожній знак з табличкою попереджує водія про те, що:



1. Через 100 м починається ділянка дороги, на якій можлива поява диких тварин.
2. Попереду починається ділянка дороги довжиною в 100 м, на якій можлива поява диких тварин.

Дод. 1: 1.36,
7.2.1

6 Біла переривчаста лінія поділяє транспортні потоки протилежних напрямків. На даній ділянці дороги обгін:



1. Дозволено.
2. Заборонено.
3. Дозволено тільки поза населеним пунктом у світлу пору доби.

Дод. 2: 1.5;
14.6 «Е»


7 Перед якими ділянками доріг установлюється даний дорожній знак?



1. Перед напливами або хвилястістю на проїзній частині.
2. Перед штучно створеними буграми в місцях, де необхідно примусово обмежити швидкість руху транспортних засобів.
3. Перед вибоїнами чи просіданнями дорожнього покриття на проїзній частині.
4. Перед ділянками доріг, зазначеними у відповідях 1, 2, 3.

Дод. 1: 1.11

8 Про що інформують чорні контурні стрілки на червоному та жовтому сигналах світлофора?



1. Про дозволені напрямки руху при червоному та жовтому сигналах світлофора.
2. Про дозволені напрямки руху при ввімкненні зеленого сигналу світлофора.

8.7.3 «Ж»

9 Які з перелічених дій водію заборонені згідно з вимогами Правил дорожнього руху?

1. Вмикати аварійну світлову сигналізацію у разі зупинки на вимогу працівника міліції або внаслідок засліплення світлом фар.
2. Вмикати ближнє світло фар при русі в колоні.
3. Різко гальмувати, крім випадків, коли без цього неможливо запобігти дорожньо-транспортній пригоді.
4. Усі перелічені дії водію заборонені.

9.8 «А»; 9.9 «Б»;
12.9 «Г»

10 В яких з перелічених випадків дозволяється розворот? Дайте повну відповідь.

1. В місцях, де встановлено дорожній знак, який не забороняє розворот.
2. В місцях, де дорожня розмітка не забороняє розворот.
3. На ділянці дороги від залізничного переїзду до знака «Одноколейна залізниця».
4. В місцях, зазначених у відповідях 1, 2, 3.
5. В місцях, зазначених у відповідях 1 і 2.

10.7 «А»


11 Чи дозволяється пішоходам рухатися в житловій зоні по проїзній частині?



1. Дозволяється тільки по тротуарах.
2. Дозволяється як по тротуарах, так і по проїзній частині.

26.1


12 З якою максимальною швидкістю допускається рух легкових автомобілів з причепом на автомагістралях?



1. 70 км/год.
2. 80 км/год.
3. 90 км/год.
4. 100 км/год.
5. 110 км/год.

12.6 «А»

13 Водії яких транспортних засобів порушують Правила дорожнього руху?




1. Водії навчального автомобіля, трактора і легкового автомобіля.
2. Тільки водії навчального автомобіля і трактора.
3. Тільки водій легкового автомобіля.

4. Водії всіх транспортних засобів.

27.2 «А», «Г», «Д»;
24.9

14 Обгін нерейкових транспортних засобів забороняється:



1. На перехрестях.
2. Ближче ніж за 100 м перед перехрестями.
3. У місцях, зазначених у відповідях 1 і 2.

14.6 «А»


15 У даному місці під естакадою водію забороняється:



1. Розворот, зупинку, стоянку.
2. Рух зі швидкістю більш як 60 км/год.
3. Дії, зазначені у відповідях 1 і 2.

15.9 «В»;
10.7 «Б»


16 Водій якого транспортного засобу має перевагу на перехрестенні з круговим рухом?



1. Транспортного засобу, що наближається праворуч.
2. Транспортного засобу, що рухається по колу.
3. Транспортного засобу, що під'їхав першим.

16.12

17 Чи дозволяється на крутих спусках гірських доріг рухатися з непрацюючим двигуном і вимкненим зчепленням або передачею?



1. Дозволяється, якщо автомобіль обладнано гідروвакуумним підсилювачем гальм.
2. Забороняється.
3. Дозволяється, якщо дорога в доброму стані і проглядається на велику відстань.

28.3 «А»

18 За яких з перелічених умов забороняється експлуатація транспортних засобів? Дайте повну відповідь.

1. Не працюють склоочисники або передбачені конструкцією склоомивачі.
2. Залишкова висота малюнка протектора шин легкових автомобілів 2 мм.
3. За умов, зазначених у відповідях 1 і 2.

31.4.4 «А», «Б»

19 Які зовнішні світлові пристрої повинні бути ввімкнені на транспортному засобі, що рухається, незалежно від ступеня освітлення дороги в темну пору доби?



1. Ближнє світло фар або габаритні ліхтарі.
2. Протитуманні фари й габаритні ліхтарі.
3. Тільки дальнє світло фар.
4. Ближнє або дальнє світло фар на всіх механічних транспортних засобах і габаритні ліхтарі на причепах.

19.1

20 Дайте повну відповідь. Під'їжджаючи до залізничного переїзду, а також починаючи рух після зупинки перед ним, водій зобов'язаний керуватися:

1. Вказівками і сигналами чергового по переїзду.
2. Положенням шлагбаума, світловою і звуковою сигналізацією.
3. Дорожніми знаками і розміткою.
4. Водій повинен керуватися вимогами, викладеними у відповідях 1, 2, 3.

20.2

1 Водій моторолера перетинає перехрестя, виїжджаючи з ґрунтової дороги на асфальтовану. Він повинен:

1. Дати дорогу транспортним засобам, що наближаються тільки праворуч.
2. Дати дорогу усім транспортним засобам, що рухаються по асфальтованій дорозі.
3. Дати дорогу усім транспортним засобам, що рухаються по асфальтованій дорозі лише у тому випадку, коли перед перехрестям встановлено дорожній знак «Дати дорогу».

1.10; 16.11


2 Як повинен діяти водій легкового автомобіля в ситуації, показаній на малюнку, почувши спеціальний звуковий сигнал і побачивши транспортний засіб із синім і червоним проблисковими маячками?



1. Зменшити швидкість.
2. Продовжити рух своєю смугою проїзної частини.
3. Дати дорогу і забезпечити безперешкодний його проїзд.
4. Зупинитися біля правого краю проїзної частини (на правому узбіччі).

3.2

3 Даний дорожній знак забороняє рух:



1. Цементовозів.
2. Вантажних автомобілів-цистерн.
3. Транспортних засобів, які перевозять речовини, що забруднюють воду.
4. Усіх перелічених транспортних засобів.

Дод. 1: 3.14

4 Чи є серед даних дорожніх знаків такі, вимоги яких починаються одразу за тим місцем на дорозі, де вони встановлені? Дайте повну відповідь.

1. Цей знак 
2. Цей знак 
3. Цей знак 
4. Знаки, зазначені у відповідях 1, 2 і 3.
5. Знаки, зазначені у відповідях 1 і 2.

Дод. 1: 3.20, 3.31, 3.33, 7.2.1

5 Залізничний переїзд поза населеним пунктом. Яка відстань до нього?



1. 300 м.
2. 200 м.
3. 150 м.
4. 100 м.
5. щонайменше 50 м.

Дод. 1: 1.31.3


6 Чи повинен водій зупинитися перед стоп-лінією у даному випадку?



1. Повинен обов'язково зупинитися у тому випадку, якщо на перехрещуваній проїзній частині з'явиться транспортний засіб, якому водій повинен дати дорогу.
2. Повинен проїхати перехрестя без зупинки.
3. Повинен обов'язково зупинитися.

Дод. 2: 1.12; дод.1: 2.2; 16.1

7 Даний дорожній знак показує, що:



1. Попереду ділянка дороги, призначена для руху тільки легкових автомобілів.
2. Попереду ділянка дороги, по якій рух на мотоциклах заборонено.
3. Попереду ділянка дороги, по якій заборонено рух усіх вантажних автомобілів.
4. Інформація і вимоги, викладені у відповідях 1, 2, 3.
5. Попереду ділянка дороги, по якій дозволяється рух тільки легкових автомобілів, автобусів, мотоциклів, маршрутних транспортних засобів і вантажних автомобілів, дозволена максимальна маса яких не перевищує 3,5 т.

Дод. 1: 4.11

8 Які перелічені вимоги Правил дорожнього руху повинні виконуватися при рухові транспортних засобів у колонах?

1. Водії транспортних засобів повинні пройти спеціальну підготовку й одержати відповідний дозвіл в ДАІ.
2. На них встановлюється розпізнавальний знак «Колонна» і вмикається ближнє світло фар.
3. Транспортні засоби обов'язково обладнуються засобами зв'язку.
4. Вимоги, зазначені у відповідях 1, 2 і 3.

25.1

9 Які попереджувальні сигнали передбачені в разі вимушеної зупинки на даній ділянці дороги поза населеним пунктом при оглядовості дороги менше 100 м? Дайте повну відповідь.



1. Тільки ввімкнути аварійну світлову сигналізацію.
2. Тільки встановити знак аварійної зупинки на відстані, що забезпечує безпеку руху, але не ближче 40 м до транспортного засобу.
3. Виконати обидві дії.

9.10 «Б»

10 Водій якого транспортного засобу повинен дати дорогу при перестроюванні?



1. Водій вантажного автомобіля.
2. Водій легкового автомобіля.

10.3

11 Чи дозволяється буксирування в ожеледицю?

1. Забороняється.
2. Дозволяється буксирування тільки на жорсткому зчепленні і способом часткового навантаження.
3. Дозволяється буксирування тільки однієї одиниці з застосуванням протиковзких засобів.

23.10 «Б»

12 З якою максимальною швидкістю дозволяється рух вантажних автомобілів з дозволеною максимальною масою до 3,5 т на ділянках доріг, позначених даним дорожнім знаком?



1. 130 км/год.
2. 100 км/год.
3. 90 км/год.
4. 80 км/год.
5. 70 км/год.

12.6 «Г»

13 На якому малюнку найбільш правильно показано метод зупинки кровотечі з рани?



Мал. 1



Мал. 2

1. На малюнку 1.
2. На малюнку 2.
3. На малюнках 1 і 2.


ППМД
стор. 4

14 Яких заходів повинен вжити водій, якщо він перевозить вантаж, який піднімає пил?

1. Під час руху увімкнути аварійну світлову сигналізацію.
2. Під час руху увімкнути ближнє світло фар.
3. Закріпити ззаду на транспортному засобі знак аварійної зупинки або миготливий червоний ліхтар.
4. Вжити заходів для того, щоб під час руху вантаж не піднімав пил, не забруднював проїзну частину і навколишнє середовище.

22.3 «Г»


15 На якому малюнку водій неправильно зупинив свій автомобіль для висадки пасажирів?



1. На лівому малюнку
2. На правому малюнку.
3. На обох малюнках.

15.9 «Г», «Г»

16 Останнім проїде перехрестя:



1. Синій автомобіль.
2. Червоний автомобіль.
3. Зелений автомобіль.

16.12; 16.13

17 Чи дозволяється рух транспортних засобів по смугі, призначеній для маршрутних транспортних засобів?

1. Забороняється всім, крім маршрутних транспортних засобів.
2. Дозволяється всім транспортним засобам, якщо дана смуга вільна.
3. Дозволяється для перестроювання або для виконання обгону.
4. Дозволяється у випадках, зазначених у відповідях 2 і 3.

17.1

18 За яких із перелічених умов забороняється експлуатація автомобілів та автопоїздів?

1. Стоянкова гальмова система забезпечує нерухомий стан транспортних засобів з повним навантаженням на схилі 17%.
2. Порушено герметичність гідравлічного гальмового привода.
3. В обох випадках.

31.4.1
«В», «Д»

19 Як слід учинити, якщо у темну пору доби водій зустрічного автомобіля не перемикає дальнє світло фар на ближнє і тим самим засліплює Вас?

1. Пригальмувати, переключити свої фари на ближнє світло.
2. Зупинитися, не змінюючи смуги руху, і увімкнути аварійну світлову сигналізацію.
3. Увімкнути своє дальнє світло, щоб нагадати водієві зустрічного автомобіля про необхідність перемикання ним дальнього світла фар на ближнє.

19.3

20 Якщо до залізничного переїзду в межах видимості наближається поїзд, то водій нерейкового транспортного засобу зобов'язаний:

1. Збільшити швидкість руху, бо, на думку водія, поїзд знаходиться досить далеко.
2. Залежно від дорожньої обстановки водій самостійно приймає рішення — чи з особливою обережністю рухатися через переїзд, чи зупинитися.
3. Зупинитися. Рух через переїзд забороняється.

20.5 «Г»

1 Дайте повну відповідь. За визначенням Правил дорожнього руху «Водій»-це:

1. Особа, яка керує транспортним засобом і має відповідне посвідчення водія.
2. Особа, яка керує транспортним засобом на закритій території без посвідчення водія..
3. Особа, яка навчає водінню, та знаходиться безпосередньо у транспортному засобі.
4. Особи, вказані у відповідях 1,2,3.
5. Особи, вказані у відповідях 1 та 3.

1.10

2 У якій з відповідей за Правилами дорожнього руху зазначені найбільш характерні ознаки терміна «дорожні роботи»?

1. «Дорожні роботи» – роботи, які пов'язані тільки з ремонтом чи утриманням автомобільної дороги або вулиці.
2. «Дорожні роботи» – роботи, які пов'язані тільки з будівництвом чи реконструкцією автомобільної дороги або вулиці.
3. «Дорожні роботи» – роботи, які зазначені у відповідях 1 і (або) 2.

1.10


3 Даний дорожній знак попереджує, що попереду:



1. Обладнаний шлагбаумом переїзд через залізницю з однією колією.
2. Не обладнаний шлагбаумом переїзд через залізницю з двома коліями.
3. Не обладнаний шлагбаумом переїзд через залізницю з однією колією.

Дод. 1: 1.29


4 Даний дорожній знак показує напрямок руху транспортних засобів з розпізнавальним знаком «Знак небезпеки»:



1. Дозволений.
2. Не дозволений.
3. Не дозволений у святкові дні, і у світлий час доби.

Дод. 1: 4.18.3

5 Світлофор працює в режимі миготіння сигналу жовтого кольору. Чи дозволяється Вам проїзд перехрестя без зупинки перед знаком «Проїзд без зупинки заборонено»?



1. Забороняється.
2. Дозволяється за відсутності на перехрещуваній дорозі транспортних засобів.

Дод. 1: 2.2; 16.1

6 Чи дозволяється перетинати вузьку суцільну лінію дорожньої розмітки?



1. Забороняється у будь-якому випадку.
2. Дозволяється у будь-якому випадку.
3. Дозволяється, якщо вона білого кольору і позначає місце стоянки транспортних засобів, майданчиків для паркування або край проїзної частини, суміжний з узбіччям, або при обгоні поодиноких транспортних засобів, що рухаються із швидкістю менше 30 км/год.
4. Дозволяється, якщо вона жовтого кольору і позначає межі смуги для руху маршрутних транспортних засобів.

Дод. 2: 1.1

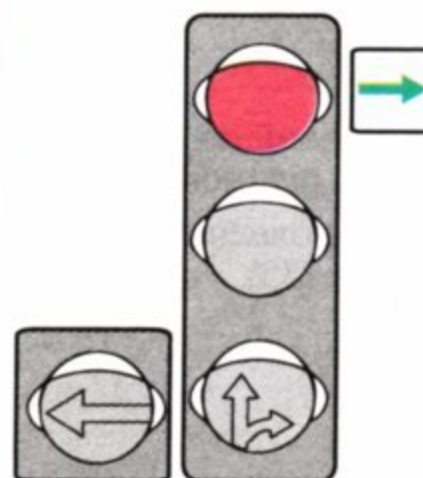
7 Даний дорожній знак:



1. Забороняє рух зі швидкістю, що перевищує зазначену на знакові.
2. Зазначає швидкість, з якою рекомендується рух на даній ділянці дороги.
3. Дозволяє рух тільки із зазначеною або більшою швидкістю.

Дод. 1: 4.16

8 Дайте повну відповідь: у яких напрямках дозволяється рух при даному сигналі світлофора?



1. Рух на всіх напрямках заборонений.
2. → При повороті направо надати перевагу в русі іншим його учасникам.

8.7.3 «Е»

9 На буксированому механічному транспортному засобі:

1. Вмикаються габаритні або стоянкові ліхтарі.
2. Вмикаються габаритні ліхтарі або аварійна світлова сигналізація.
3. Вмикається ближнє світло фар або протитуманні фари.
4. Вмикається аварійна світлова сигналізація.


9.9 «Г»

10 Яким транспортним засобам забороняється рух по дорогах для автомобілів? Дайте повну відповідь.

1. Велосипедам.
2. Транспортним засобам, на яких навчають водінню.
3. Тракторам, самохідним машинам і механізмам.
4. Транспортним засобам, зазначеним у відповідях 1, 2, 3.

27.2 «А»;
24.9; 6.6 «Б»


11 Чи дозволено водію легкового автомобіля виїзд на крайню ліву смугу на дорозі з одностороннім рухом? Мотоцикліст рухається другою смугою.



1. Заборонено.
2. Дозволено.
3. Дозволено тільки в тому випадку, якщо швидкість мотоцикла менша ніж 30 км/год.

11.5

12 Хто з водіїв порушує вимоги Правил дорожнього руху, якщо всі транспортні засоби рухаються зі швидкістю 80 км/год?



1. Ніхто не порушує.
2. Водій мотоцикла.
3. Водії мотоцикла і вантажного автомобіля.
4. Водії мотоцикла і легкового автомобіля.
5. Усі водії порушують.

12.8

13 Зазначена дорога:



1. З одностороннім рухом, що має 2 смуги для руху.
2. З двостороннім рухом, що має по одній смузі для руху в кожному напрямку.
3. Тільки для автомобілів.

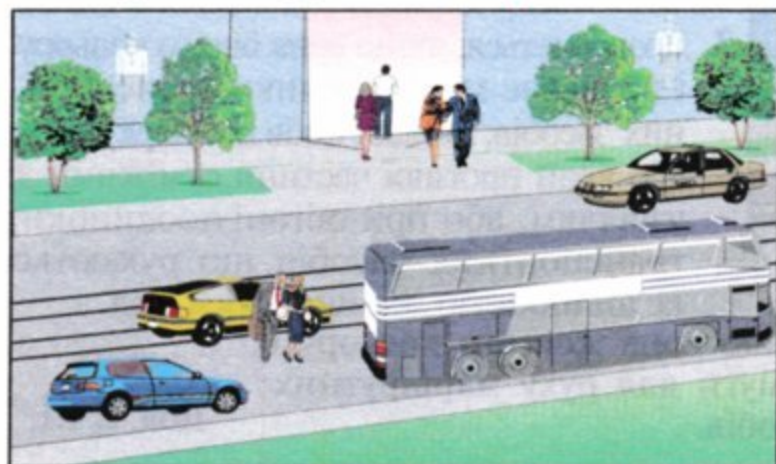
Дод. 1:5.5

14 Ви вирішили здійснити обгін. Поглянувши у дзеркало заднього виду, Ви зрозуміли, що водій, який прямує за Вами, почав Вас обганяти. Ваші подальші дії?

1. Дати можливість себе обігнати, увімкнути покажчик лівого повороту і після цього розпочати маневр.
2. Увімкнути лівий покажчик повороту і, користуючись сприятливим розташуванням на проїзній частині, розпочати маневр.

14.2

15 Єдина смуга для нерейкових транспортних засобів зайнята транспортним засобом, який стоїть. Чи дозволяється водію автомобіля зупинитися поруч на трамвайній колії попутного напрямку для висадки пасажирів?



1. Дозволяється.
2. Забороняється.
3. Дозволяється на гарно освітлених дорогах.

15.9 «Б»

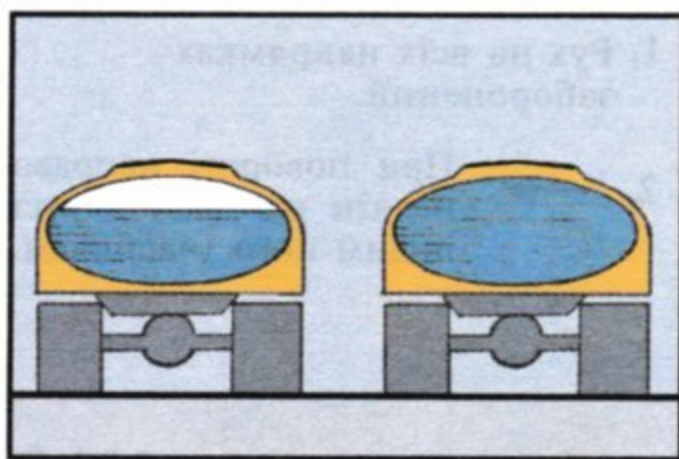
16 Чи повинен водій червоного автомобіля дати дорогу трамваю 2?



1. Повинен у всіх випадках.
2. Повинен, т.щ. трамвай 2 виїжджає на головну дорогу.
3. Не повинен.

16.11; 16.14

17 Яка з показаних автоцистерн стійкіша проти перекидання при повороті?



1. Повністю заповнена рідиною.
2. Заповнена рідиною на 75%.

ОБР

18 Чи дозволяється експлуатація транспортного засобу, який переобладнано на інший вид палива?

1. Дозволяється, якщо рівень димності у відпрацьованих газах не перевищує встановленої норми.
2. Забороняється, якщо таке переобладнання не узгоджено з ДАІ.
3. Дозволяється, за виключенням транспортних засобів, які належать індивідуальним власникам.

31.3 «А»;
32.1 «Є»

19 Які зовнішні світлові прилади повинні бути ввімкнені на механічному транспортному засобі, що рухається в умовах туману або сильного дощу?



1. Тільки фари дальнього світла.
2. Фари ближнього світла або дальнього світла. Дозволяється ввімкнути протитуманні фари.
3. Тільки фари ближнього світла разом з протитуманними фарами.

19.1

20 Яку інформацію закладено у даний дорожній знак?



1. Попереду ділянка дороги з розгалуженням прямо і ліворуч.
2. Попереду розташована смуга, спеціально підготована для аварійної зупинки транспортних засобів у разі відмови гальмової системи.
3. Попереду дорога, що не має наскрізного проїзду.
4. Попереду закінчення автомагістралі.
5. Інформація, закладена у відповідях 1 і 3.

Дод. 1: 5.25

1 За визначенням Правил дорожнього руху, термін «темна пора доби» — це:

1. Частина доби від повної темряви до сходу сонця.
2. Частина доби від заходу до сходу сонця.
3. Частина доби з 20.00 до 5.00 влітку та з 18.00 до 7.00 взимку.


1.10

2 У якій відповіді найповніше вказано місця, де пішоходи повинні чекати транспортний засіб за відсутності посадкового майданчика?

1. На тротуарі.
2. На проїзній частині або тротуарі.
3. На тротуарі або узбіччі.
4. На узбіччі або проїзній частині.

4.11

3 Даний дорожній знак означає, що:



1. Попереду ділянка дороги, на якій в'їзд заборонено тільки транспортним засобам індивідуального користування.
2. Попереду ділянка дороги, по якій немає наскрізного проїзду.
3. Попереду ділянка дороги, на якій в'їзд маршрутних транспортних засобів заборонено.
4. Забороняється в'їзд всіх транспортних засобів, крім тих, які рухаються за встановленим маршрутом.
5. Інформація і вимоги, викладені у відповідях 1 і 3.

Дод. 1: 3.21

4 Який дорожній знак попереджує про наближення до залізничного переїзду із шлагбаумом?







Дод. 1: 1.27


5 Яку інформацію закладено у даний дорожній знак?



1. Попереду ділянка дороги на якій стоянка дозволена тільки на узбіччі.
2. Попереду ділянка дороги, на якій випередження з лівого боку заборонено, а з правого боку дозволяється.
3. Попереду вузька ділянка дороги, на якій водій повинен дати дорогу зустрічним транспортним засобам.
4. Попереду вузька ділянка дороги, під час руху по якій водій має перевагу відносно зустрічних транспортних засобів.
5. Інформація, закладена у відповідях 1 і 2.

Дод. 1: 2.6

6 Дайте повну відповідь. Суцільну лінію дорожньої розмітки, яка розділяє транспортні потоки протилежних напрямків:



1. Дозволяється перетинати тільки для об'їзду нерухокої перешкоди.
2. Дозволяється перетинати тільки для обгону поодиноких транспортних засобів, що рухаються зі швидкістю менше 30 км/год.
3. Перетинати забороняється. Дозволяється, як виключення, перетинати її у випадках, зазначених у відповідях 1 і 2.

Дод. 2: 1.1

7 Даний дорожній знак попереджує, що попереду:



1. Ділянка дороги з водною перешкодою, на якій є розвідний міст.
2. Місце, де дорога виходить на набережну або берег якої-небудь водойми.
3. Ділянка дороги з водною перешкодою, яка не має мосту або поромної переправи.

Дод. 1: 1.8

8 Рух заборонено:



1. Трамваю.
2. Автомобілю.
3. Нерейковим транспортним засобам.
4. Трамваю і автомобілю.

8.8 «А»

9 Як повинен діяти водій при несправності габаритних або стоянкових ліхтарів на транспортному засобі на неосвітлених ділянках дороги в темну пору доби і в умовах недостатньої видимості?

1. Прибрати транспортний засіб за межі дороги.
2. Поставити транспортний засіб якомога правіше на узбіччі дороги.

19.4

10 Дайте повну відповідь. Особи, котрі навчаються водінню, зобов'язані мати при собі:

1. Відповідну медичну довідку.
2. Документ, що засвідчує їхній вік.
3. Дозвіл, виданий батьками особам до 18 років.
4. Довідку і документ, зазначені у відповідях 1 і 2.
5. Довідку, документ та дозвіл, зазначені у відповідях 1, 2 і 3.

24.1; 24.2

11 Чи повинні водії при виїзді з житлової та пішохідної зони давати дорогу іншим учасникам дорожнього руху?

1. Не повинні, оскільки виїзд із житлової зони дає перевагу в русі.
2. Повинні, якщо перед перехрещенням проїзних частин установлені відповідні дорожні знаки.
3. Повинні в усіх випадках.

26.4

12 З якою максимальною швидкістю дозволено рух мопедів на ділянках доріг, позначених даним дорожнім знаком?



- | | | | | |
|-----------|-----------|-----------|-----------|-----------|
| 1 | 2 | 3 | 4 | 5 |
| 90 км/год | 80 км/год | 70 км/год | 60 км/год | 50 км/год |

12.6 «В»

13 До ділянки дороги, позначеної дорожнім знаком «Крутий спуск» і яка має перешкоду, наближаються назустріч один одному два транспортних засоби. Хто повинен дати дорогу?

1. Водій легкового автомобіля — водію транспортного засобу, який перевозить важковагові вантажі.
2. Водій мікроавтобуса — водієві транспортного засобу, що перевозить небезпечні вантажі.
3. Водій транспортного засобу, що рухається на спуск.
4. Водії транспортних засобів, зазначених у відповідях 1, 2, 3.

13.4

14 Перед початком обгону водій повинен упевнитися в тому, що:

1. Водій транспортного засобу, що рухається попереду по тій же смузі, не подав сигналу про наміри повороту (перестроювання) ліворуч.
2. Він рухається значно швидше водія транспортного засобу, який обганяє.
3. Ділянка дороги, на яку він має намір виїхати, вільна на відстані 1000 м.


14.2 «Б»

15 Які заходи безпеки повинен взяти водій, перед тим як відкрити двері і вийде з транспортного засобу?

1. Переконавшись в тому, що немає загрози безпеки і своїми діями він не створить перешкоди іншим учасникам дорожнього руху.
2. Увімкнути аварійну світлову сигналізацію.
3. Подати звуковий сигнал.

15.13


16 При якому сигналі світлофора водію автомобіля можна завершити розворот?



1. При будь-якому.
2. При червоному.
3. При зеленому.

16.8

17 З якої смуги водію мотоцикла слід повертати праворуч на даному перехресті?



1. Тільки з крайньої правої смуги, позначеної дорожньою розміткою «А».
2. Тільки з другої смуги.

17.2

18 Як повинен учинити водій транспортного засобу, якщо ввімкнувся дозвільний сигнал світлофора, а на проїзній частині в напрямку руху перебувають пішоходи, які не встигли її перейти?

1. Проїхати пішохідний перехід, дотримуючись заповіжних заходів.
2. Дати дорогу пішоходам, які закінчують перехід проїзної частини відповідного напрямку руху і для яких може бути створено перешкоду чи небезпеку.
3. Подати звуковий сигнал і проїхати пішохідний перехід, не зменшуючи швидкості.
4. Зменшити швидкість, подати звуковий сигнал і проїхати пішохідний перехід на мінімальній швидкості.

18.2


19 Водій автобуса наближається до ділянки дороги, перед якою встановлено даний дорожній знак. Що повинен зробити водій з метою безпеки дорожнього руху?



1. Перейти на більш низьку передачу.
2. Заглушити двигун або перейти на нейтральну передачу.
3. У випадку необхідності зупинитися тільки на правому боці проїзної частини.
4. Під час зупинки або стоянки користуватися противідкотними упорами.
5. Виконати дії, передбачені у відповідях 3 і 4.

28.2 «Б»;
дод. 1: 1.7

20 Водій якого транспортного засобу повинен дати дорогу?



1. Водій автомобіля — водієві велосипеда.
2. Водій велосипеда.

16.13

1 Яка з перелічених доріг вважається автомагістраллю?

- 1. Дорога, позначена дорожніми знаками  
- 2. Дорога, позначена дорожніми знаками  
- 3. Дорога, позначена дорожніми знаками  

1.10

2 В якому з перелічених випадків водій зобов'язаний пристібатися ременями безпеки?

- 1. На дорогах поза населеними пунктами з 20.00 до 06.00.
- 2. На автомагістралях у будь-який час доби.
- 3. На будь-якій дорозі в будь-який час доби.

2.3 «В»

3 Яку інформацію закладено у даний дорожній знак?



- 1. Попереду ділянка дороги, на якій можлива поява диких тварин.
- 2. Попереду ділянка дороги, на якій можливий прогон худоби.
- 3. Інформація, закладена у відповідях 1 і 2.

Дод. 1: 1.35

4 Водій наближається до ділянки дороги, перед якою стоїть даний дорожній знак. Який дорожній знак установлено з протилежного боку даної ділянки?




1


2


3


4

- 5. Установка не обов'язкова, якщо на даній ділянці дороги не рухаються маршрутні транспортні засоби.

Дод. 1: 2.5; ДСТУ 4100-2002

5 На якому малюнку показано дозволені напрямки руху?





- 1. На малюнках Б і В.
- 2. На малюнку А.
- 3. На малюнку Б.
- 4. На малюнку В.

Дод. 1: 3.24


6 На дорозі з білою переривчастою лінією дорожньої розмітки, яка розділяє транспортні потоки протилежних напрямків:



- 1. Обгін транспортних засобів заборонено.
- 2. Обгін транспортних засобів дозволено, після проїзду червоного автомобіля.
- 3. Обгін заборонено тільки вантажним автомобілям, які перевозять великогабаритні, великовагові і небезпечні вантажі.

Дод. 2: 1.5

7 Даний дорожній знак:



- 1. Інформує про наближення до тристороннього перехрестя, на якому в одному з напрямків організовано односторонній рух.
- 2. Дозволяє рух транспортних засобів на найближчому перехрещенні проїзних частин тільки праворуч або ліворуч, або в зворотному напрямку.
- 3. Означає, що об'їзд перешкоди дозволяється з правого або з лівого боку.

Дод. 1: 4.6

8 Що означає зелений миготливий сигнал світлофора?

- 1. Миготіння зеленого сигналу попереджує про несправність світлофора, і тому слід керуватися вимогами знаків пріоритету.
- 2. Дозволяється рух, але незабаром буде увімкнено сигнал, що забороняє рух.
- 3. Зелений миготливий сигнал попереджує про те, що незабаром буде увімкнено зелений постійний сигнал світлофора.

8.7.3 «В»

9 Чи дає водію переважне право проїзду подавання попереджувального сигналу?

- 1. Дає в усіх випадках.
- 2. Не дає і не звільняє його від прийняття запобіжних заходів.
- 3. Дає при початку маневру.
- 4. Дає при завершенні маневру.


9.4

10 Що повинен виконати водій при русі транспортного засобу заднім ходом?

- 1. Увімкнути габаритні ліхтарі.
- 2. Увімкнути габаритні ліхтарі й подати звуковий сигнал.
- 3. Увімкнути задні протитуманні ліхтарі, якщо вони є на транспортному засобі.
- 4. Не створювати небезпеки чи перешкод іншим учасникам руху. Для забезпечення безпеки руху він, при необхідності, повинен звернутися за допомогою до інших осіб.

10.9

11 У якій відповіді зазначено всіх водіїв, які порушили правила зупинки на дорозі з одностороннім рухом поза населеним пунктом?




1. Водії всіх транспортних засобів.
2. Тільки водії червоного автомобіля і мотоцикла.
3. Тільки водій синього автомобіля, який зупинився під завантаженням.

4. Тільки водій мотоцикла.

11.6; 15.3;
дод. 1: 3.34,
7.2.4

12 Рухаючись по дорозі з максимально дозволеною швидкістю, водій побачив попереду перешкоду. Дорожніх знаків або розмітки, що регламентують порядок руху, немає. За вимогою Правил дорожнього руху він повинен:



1. Обов'язково перед перешкодою зупинитися.
2. негайно вжити заходів для зменшення швидкості, аж до зупинки транспортного засобу.
3. Не зменшуючи швидкість

об'їхати перешкоду, дотримуючись особливої обережності.

4. Виконати дії, зазначені у відповіді 1 або 2.

12.3

13 Даний дорожній знак:



1. Забороняє в'їзд на смугу зустрічного руху.
2. Забороняє в'їзд на вузьку ділянку дороги, якщо це може утруднити зустрічний рух. Водій зобов'язаний дати дорогу зустрічним транспортним засобам, що знаходяться на вузькій ділянці.

3. Надає перевагу в русі на вузькій ділянці дороги відносно до зустрічних транспортних засобів.

Дод. 1: 2.5

14 Чи завжди водій, який виконав обгін, повинен повернутися на раніше займану смугу для руху?

1. Завжди повинен повернутися після завершення обгону.
2. Може залишитися на смузі зустрічного руху, якщо вона вільна від інших транспортних засобів.
3. Може залишитися на смузі зустрічного руху, якщо після повернення на раніше займану смугу йому прийдемо знову почати обгін, — але при умові виконання заходів безпеки, обумовлених Правилами дорожнього руху.

14.5

15 Ставити транспортні засоби під кутом до краю проїзної частини:

1. Дозволяється, але тільки легкові автомобілі і мотоцикли.
2. Дозволяється, але тільки автомобілі без причепів.
3. Дозволяється, але тільки в місцях, де це не буде перешкоджати рухові інших транспортних засобів.
4. Дозволяється при умовах, зазначених у відповідях 2 і 3.

15.5

16 Автомобілі проїдуть перехрестя в наступному порядку:



1. Синій, червоний, зелений, жовтий.
2. Зелений, синій, жовтий, червоний.
3. Жовтий в'їде на перехрестя й зупиниться, щоб дати дорогу синьому; зелений; синій і червоний, жовтий.

16.12; 16.13

17 При русі на косогорах водій повинен:

1. Вести автомобіль із прискоренням, повертаючи рульове колесо у бік, протилежний схилу, а при сповзанні автомобіля — у бік схилу.
2. Вести автомобіль повільно, уникаючи різких поворотів рульовим колесом.

ОБР

18 За яких умов дозволяється експлуатація транспортних засобів?

1. Залишкова висота малюнка протектора шин вантажних автомобілів становить 1,6 мм.
2. Шини мають місцеві пошкодження, що оголюють корд.
3. На передній осі легкового автомобіля встановлено шини, відновлені за другим класом ремонту.

31.4.5 «А»

19 Які світлові прилади повинні бути ввімкнені на механічному транспортному засобі під час руху в тунелі незалежно від ступеня освітлення дороги?

1. Світлові прилади не вмикаються.
2. Габаритні ліхтарі або ближнє світло фар.
3. Ближнє або дальнє світло фар.
4. Аварійна світлова сигналізація.

19.1

20 Синій автомобіль проїде перехрестя:



1. Першим.
2. Після зеленого, червоного.
3. Після червоного, зеленого.

16.12; 16.13

1 Яку дорогу, за визначенням Правил дорожнього руху, слід вважати головною?

1. Дорогу з багатосмуговою проїзною частиною відносно дороги з однією смугою для руху в кожному напрямку.
2. Дорогу з покриттям відносно ґрунтової або ту, що позначається відповідними знаками.
3. Дорогу з продовженням в обидва боки відносно примикаючої на трьохсторонньому перехресті.

1.10

2 Чи дозволяється посадка (висадка) пасажирів з боку проїзної частини?

1. Дозволяється у випадку відсутності посадкового майданчика, тротуару або узбіччя — з крайньої смуги проїзної частини (але не з боку суміжної смуги для руху), за умови, що це буде безпечно.
2. Забороняється.
3. Дозволяється в будь-якому випадку з боку заднього борта або з крайньої смуги проїзної частини, суміжної для руху.

5.1

3 Дана табличка «Ожеледиця» з дорожнім знаком:



1. Вказує, що дія знака поширюється на весь період доби.
2. Вказує, що дія знака поширюється на зимовий період часу, коли проїзна частина може бути слизькою.
3. Вказує, що сумісно зі знаком «Інша небезпека» встановлюються в аварійно небезпечних місцях. Забороняють тимчасово в'їзд на дану ділянку дороги.

Дод. 1: 1.39, 7.12

4 Чи дозволяється водію-інваліду, що керує автомобілем, позначеним розпізнавальним знаком «Інвалід», зупинитися в зоні дії даного дорожнього знака з табличкою?



1. Дозволяється.
2. Забороняється.

Дод. 1: 3.34, 7.18; 2.8

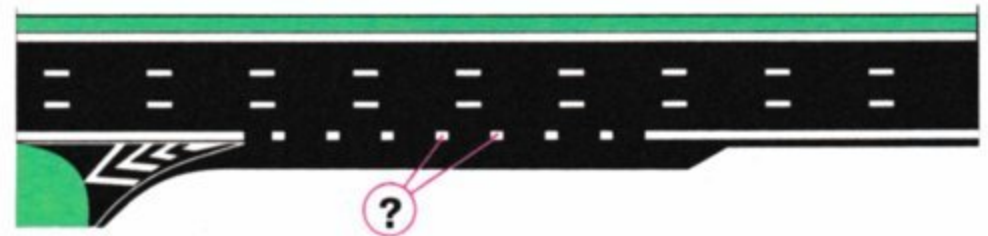
5 Даний дорожній знак:



1. Забороняє рух транспортних засобів, габаритна висота яких (з вантажем чи без нього) більше зазначеної на знакові.
2. Забороняє рух транспортних засобів з дистанцією між ними, менше зазначеної на знакові.
3. Забороняє рух транспортних засобів, габаритна довжина яких більше зазначеної на знакові.

Дод. 1: 3.18

6 Дана дорожня розмітка позначає:



1. Межу між проїзною частиною і узбіччям.
2. Межу між смугою розгону і основною смугою проїзної частини, а також у зоні автобусних зупинок.
3. Межі майданчиків, призначених для ночівлі транспортних засобів.

Дод. 2: 1.8

7 На які транспортні засоби з перелічених не поширюється дія даного дорожнього знака?



1. Тільки на транспортні засоби, що рухаються за встановленими маршрутами.
2. Тільки на транспортні засоби, що обслуговують підприємства, які розташовані в позначеній зоні.
3. На транспортні засоби, перелічені у відповідях 1 і 2.

Дод. 1: 3.2

8 Чи завжди розпізнавальний знак «Колона» встановлюється на транспортних засобах, що рухаються в колоні?

1. Може не встановлюватися, якщо колону супроводжують оперативні транспортні засоби з увімкненими спеціальними світловими і (або) звуковими сигналами.
2. Може не встановлюватися, якщо колона розділена на групи.
3. Встановлюється завжди.

25.1

9 В яких випадках дозволяється подача попереджувального сигналу рукою?

1. У випадку відсутності або несправності світлових покажчиків повороту.
2. Подача попереджувального сигналу рукою чи світловими покажчиками поворотів можлива на розсуд водія в залежності від дорожньої обстановки.
3. У випадках, передбачених у відповідях 1 і 2.

9.3

10 Навчальна їзда на дорогах дозволяється:

1. З моменту початкового навчання за наявності на автомобілі дзеркала заднього виду для того, хто навчається.
2. З моменту початкового навчання за наявності на автомобілі подвійного керування.
3. Тільки в присутності спеціаліста з підготовки водіїв і при достатніх навчальних навичках водіння у того, хто навчається.

24.5

11 Попереду утворилася група автомобілів, яка рухається з малою швидкістю. Чи дозволяється при інтенсивному русі обігнати дану групу?

1. Дозволяється при виконанні невідкладного службового завдання.
2. Забороняється. При інтенсивному русі змінювати смугу дозволяється тільки для об'їзду перешкод, повороту, розвороту або зупинки.
3. Забороняється тільки в умовах недостатньої видимості.

11.11

12 З якою максимальною швидкістю дозволяється рух автобусам (мікроавтобусам), що здійснюють перевезення організованих груп дітей, на ділянках дороги, позначених даним дорожнім знаком?



1	2	3	4
90 км/год	80 км/год	70 км/год	60 км/год

12.6 «А»

13 Автомобілі проїдуть перехрестя в наступному порядку:



1. Синій, червоний, зелений.
2. Червоний, зелений, синій.
3. Червоний, синій, зелений.


16.12

14 На дорогах, які мають дві і більше смуг для руху в одному напрямку, нерейкові транспортні засоби повинні рухатися:

1. По будь-якій смузі, якщо є не більше трьох смуг для руху.
2. Тільки по правій смузі, якщо є не більше трьох смуг для руху. Виїзд на ліву смугу дозволяється тільки для повороту наліво або розвороту.
3. Якнайближче до правого краю проїзної частини, крім випадків, коли виконується випередження, об'їзд або перестроювання перед поворотом ліворуч чи розворотом.

11.2

15 Чи дозволяється стоянка легкового автомобіля в даній ситуації?



1. Забороняється.
2. Дозволяється.


15.10 «Д»

16 На перехресті рівнозначних доріг водій транспортного засобу, що наближається ліворуч, не зменшує швидкості руху. Ви повинні:

1. Продовжити свій рух, бо перевага в русі належить Вам.
2. Намагатися в'їхати на перехрестя раніше, збільшивши швидкість руху.
3. Подати звуковий сигнал для запобігання дорожньо-транспортній пригоді і при необхідності зупинитися.

16.12; 9.5

17 Поза населеним пунктом водій автобуса починає рух від позначеної зупинки. Він:



1. Повинен дати дорогу транспортному засобу, що рухається по дорозі.
2. Має перевагу.

17.4

18 Яке з перерахованого обладнання застосовується для регулювання дорожнього руху? Дайте повну відповідь.

1. Опуклі дзеркала для розширення огляду водіям.
2. Пристрої примусового зниження швидкості транспортних засобів.
3. Шумові смуги для підвищення уваги.
4. Устаткування, перераховане у відповідях 1 і 2.
5. Устаткування, перераховане у відповідях 1, 2 і 3.

8.6 «Г», «Є», «Ж»

19 Чи дозволяється підключати задні протитуманні ліхтарі до сигналів гальмування транспортного засобу?

1. Забороняється.
2. Дозволяється тільки на вантажних автомобілях.
3. Дозволяється тільки на легкових автомобілях.
4. Дозволяється тільки на транспортних засобах, що здійснюють міжміські перевезення.
5. Дозволяється на всіх вищеперелічених транспортних засобах.

19.7

20 Водієві забороняється керувати транспортним засобом:

1. Не зареєстрованим у Державтоінспекції
2. Що не пройшли відомчу реєстрацію в разі, якщо законом встановлена обов'язковість її проведення.
3. Які пройшли відомчу реєстрацію в разі, якщо законом встановлена обов'язковість її проведення, але не зареєстрованим у Державтоінспекції.
4. У випадках, зазначених у відповідях 1, 2, 3.


2.9 «В»

1 Хто, за визначенням Правил дорожнього руху, є «учасником дорожнього руху»?

1. Будь-яка особа, що перебуває на дорозі й виконує на ній ремонтні роботи.
2. Особа, яка бере безпосередню участь у процесі руху на дорозі як пішохід, водій, пасажир, погонич тварин.
3. Обидві відповіді правильні.

1.10

2 Синій автомобіль проїде перехрестя:



1. Останнім.
2. Третім.
3. Другим.
4. Першим.

3.2;
16.11; 16.14


3 Що означає даний дорожній знак?



1. Показує закінчення ділянки дороги з одностороннім рухом.
2. Надає перевагу перед зустрічними транспортними засобами.
3. Зобов'язує водія дати дорогу зустрічним транспортним засобам.


Дод. 1: 2.5

4 Дія якого з дорожніх знаків не поширюється на маршрутні транспортні засоби?



Дод. 1: 3.23


5 Чи дозволяється обігнати автобус на даній ділянці дороги?



1. Дозволяється у будь-якому випадку.
2. Забороняється.
3. Дозволяється тільки у тому випадку, якщо автобус рухається зі швидкістю менше ніж 30 км/год.

Дод. 1:
1.27, 1.31.4;
14.6 «Б»

6 Чи дозволяється водію автомобіля перетинати суцільну лінію даної дорожньої розмітки?



1. Дозволяється.
2. Дозволяється тільки для розвороту.
3. Забороняється.

Дод. 2: 1.11

7 У яких місцях Правила дорожнього руху забороняють подачу звукового сигналу?

1. На дорозі, що проходить через населений пункт, позначений знаком «Початок населеного пункту» на синьому фоні.
2. У населеному пункті, позначеному знаком «Початок населеного пункту» на білому фоні.
3. На дорогах поза населеними пунктами.

Дод. 1: 5.45

8 Сигнали регулювальника:

1. Не мають переваги перед вимогами постійно встановлених дорожніх знаків.
2. Не мають переваги перед сигналами світлофорів.
3. Мають перевагу перед сигналами світлофорів та вимогами дорожніх знаків.
4. Не мають переваги перед вимогами дорожньої розмітки жовтого кольору.

8.3

9 В якому з зазначених випадків слід увімкнути світловий показник повороту перед поворотом на перехрещувану дорогу?

1. Тільки на нерегульованих перехрестях.
2. Тільки на дорогах з двостороннім рухом.
3. Тільки на дорогах поза населеними пунктами.
4. У випадках, зазначених у відповідях 1, 2, 3.

9.2

10 Водій якого транспортного засобу правильно виїжджає на перехрещення з круговим рухом?



1. Тільки водій автобуса.
2. Тільки водій легкового автомобіля.
3. Обидва водії.

10.4

11 Чи дозволяється буксирування двох транспортних засобів одночасно?

1. Дозволяється тільки у рівнинній місцевості.
2. Забороняється.
3. Дозволяється тільки за узгодженням з ДАІ.

23.10 «Г»

12 При виборі швидкості руху водію забороняється:

1. Тільки різко гальмувати, крім випадків, коли без цього неможливо запобігти дорожньо-транспортній пригоді.
2. Тільки перевищувати швидкість, зазначену на розпізнавальному знакові, установленому на транспортному засобі відповідно до Правил дорожнього руху.
3. Забороняються обидві перелічені дії.

12.9


13 Даний дорожній знак:



1. Забороняє рух всіх механічних транспортних засобів.
2. Забороняє рух тільки легкових автомобілів.
3. Забороняє тільки в'їзд всіх транспортних засобів.

Дод. 1: 3.2


14 Чи дозволено обгін у даному місці поза населеним пунктом?



1. Дозволено, якщо він завершиться до залізничного переїзду.
2. Дозволено при швидкості того, кого обганяють, меншій від 30 км/год.
3. Заборонено.

14.6 «Б»


15 Чи дозволяється водію автобуса зупинитися в даному місці для висадки пасажирів?



1. Дозволяється.
2. Забороняється.

15.9 «Д»

16 Який автомобіль останнім проїде перехрестя?



1. Зелений.
2. Синій.
3. Червоний.

16.11; 16.14

17 Який з перелічених прийомів гальмування на слизькій ділянці дороги найбільш ефективний і безпечний?

1. Вимкнути зчеплення і натиснути на педаль гальма.
2. Періодично натискати на педаль гальма, не вимикаючи зчеплення.
3. Натиснути на педаль гальма і не вимикати зчеплення.

ОБР

18 За яких з перелічених умов забороняється експлуатація транспортних засобів? Дайте повну відповідь.

1. Не горять протитуманні фари.
2. Розміщення і режим роботи зовнішніх світлових приладів не відповідає вимогам конструкції транспортного засобу.
3. Не горить ліхтар освітлення щитка приладів.

31.4.3 «А»

19 Сумарний люфт у рульовому керуванні автомобілів і автобусів, знятих з виробництва, не повинен перевищувати:

1. 10 градусів.
2. 15 градусів.
3. 20 градусів.
4. 25 градусів.
5. 30 градусів.

31.4.2 «А»

20 Чи зобов'язаний водій давати будь-кому дорогу, якщо він виїжджає на перехрестя на зелений сигнал світлофора?

1. Зобов'язаний дати дорогу транспортним засобам, які наближаються праворуч.
2. Має перевагу, бо рухається на зелений сигнал світлофора.
3. Зобов'язаний дати дорогу транспортним засобам, які завершують рух через перехрестя, а також пішоходам, які завершують перехід.

16.5

1 На автомобільній дорозі поза населеним пунктом максимальна швидкість руху буде більш висока:



1.



2.

1. На малюнку 1.
2. На малюнку 2.
3. Максимальна швидкість руху однакова.

12.6 «Г»

2 Як повинен діяти водій автомобіля, якщо він почув спеціальний звуковий сигнал і побачив, що його наздоганяє автомобіль з ввімкненим проблесковим маячком червоного кольору?

1. Збільшити швидкість, щоб не зіткнутися з автомобілем, який наздоганяє.
2. Подати звуковий сигнал, щоб привернути увагу інших учасників дорожнього руху.
3. Зупинитися біля правого краю проїзної частини (на правому узбіччі).
4. Виконати вимоги, зазначені у відповідях 2 і 3.

3.2

3 Даний дорожній знак:



1. Позначає кінець головної дороги.
2. Позначає кінець зони заборони зупинки і стоянки.
3. Позначає кінець усіх обмежень і заборон на даній ділянці дороги.

Дод. 1: 2.4

4 Даний дорожній знак з табличкою позначає:



1. Місце для стоянки транспортних засобів, у яких вміст шкідливих речовин у відпрацьованих газах або їх димність не перевищують установлені стандартами норми.
2. Місце для стоянки транспортних засобів з непрацюючим двигуном.
3. Місце для платної стоянки тільки легкових автомобілів.

Дод. 1: 5.38, 7.7

5 З якою швидкістю дозволяється рух легкового автомобіля в населеному пункті, позначеному даним дорожнім знаком?



1. У населеному пункті, на дорозі, на якій встановлено даний знак, — не більш ніж 90 км/год, а на всіх інших дорогах цього ж населеного пункту — не більш ніж 60 км/год.

2. На всіх дорогах даного населеного пункту — не більш ніж 90 км/год.
3. На всіх дорогах даного населеного пункту — не більш ніж 80 км/год.
4. На всіх дорогах даного населеного пункту — не більш ніж 60 км/год.

Дод. 1: 5.47;
12.6 «Г»

6 Чи дозволяється водію перетинати суцільну лінію дорожньої розмітки, що позначає місце стоянки транспортних засобів?



1. Дозволяється в будь-якому випадку.
2. Дозволяється тільки для зупинки.
3. Забороняється.

Дод. 2: 1.1

7 Даний дорожній знак:



1. Інформує про наближення до перехрестя, на якому є небезпека, не передбачені іншими дорожніми знаками.
2. Позначає місце перехрещення рівних за значенням доріг.
3. Зобов'язує дати дорогу транспортним засобам, що під'їжджають до нерегульованого перехрестя по головній дорозі.

Дод. 1: 2.1

8 Рух дозволено:



1. Мотоциклу.
2. Автомобілю і мотоциклу.
3. Усім транспортним засобам.

8.8 «А»

9 В яких випадках водій повинен подавати попереджувальний сигнал перед зупинкою світловими покажчиками повороту відповідного напрямку?

1. У тому випадку, якщо позаду рухається інший транспортний засіб.
2. У населених пунктах.
3. У будь-яких випадках.

9.2 «А»

10 На дорозі з одностороннім рухом є зона стоянки. Чи дозволяється водію рух заднім ходом до місця в'їзду на стоянку?

1. Дозволяється, якщо немає можливості під'їхати до стоянки іншим способом.
2. Забороняється, бо дорога з одностороннім рухом.
3. Дозволяється, якщо перед зоною стоянки встановлено дорожній знак «Зона стоянки».

10.10

11 Ви повертаєте на дорогу з реверсивним рухом. Якою смугою після повороту Ви маєте право рухатися?

1. Поза населеними пунктами якомога ближче до правого краю проїзної частини.
2. У населених пунктах рух дозволяється будь-якою смугою.
3. Крайньою правою смугою. Перестроюватися на смугу реверсивного руху дозволяється тільки після проїзду реверсивного світлофора з сигналом, що дозволяє рух.

11.12

12 У яких місцях дозволено зупинку транспортних засобів на автомагістралях?

1. На смузі розгону.
2. На першій смузі, якщо число смуг руху більше чотирьох.
3. Біля краю проїзної частини.
4. На спеціальних майданчиках для стоянки, позначених дорожніми знаками «Місце для стоянки» або «Місце відпочинку».
5. В усіх перелічених місцях.

27.2 «В»


13 На які транспортні засоби дія даного дорожнього знака не поширюється? Дайте повну відповідь.



1. Маршрутні транспортні засоби.
2. Автомобіль, керований інвалідом, який позначено розпізнавальним знаком «Інвалід».
3. Таксі з увімкненим таксометром.
4. Транспортні засоби, зазначені у відповідях 2 і 3.
5. Маршрутне таксі.

Дод. 1: 3.35;
2.8

14 Чи дозволяється водію автомобіля виконати обгін?



1. Дозволяється.
2. Дозволяється тільки тому, що він обганяє гужовий віз.
3. Забороняється.


14.6 «А»

15 Дайте повну відповідь. У темну пору доби і в умовах недостатньої видимості стоянка поза населеними пунктами дозволяється:

1. На майданчиках для стоянки.
2. За межами дороги.
3. У місцях, зазначених у відповідях 1 і 2.
4. Як можна правіше на узбіччі.
5. Біля краю проїзної частини.

15.11

16 Транспортні засоби проїдуть перехрестя в наступному порядку:



1. Трамвай, білий, синій, зелений автомобілі.
2. Трамвай, білий, зелений, синій автомобілі.
3. Білий автомобіль, трамвай, зелений, синій автомобілі.

16.11; 16.14

17 Яку передачу рекомендується ввімкнути при стоянці на спусках, щоб не допустити вільного руху транспортного засобу?

1. Передачу для руху назад разом зі стоянковими гальмами.
2. Першу передачу разом зі стоянковими гальмами.
3. Нейтральну передачу разом зі стоянковими гальмами.

ОБР

18 За яких з перелічених умов забороняється експлуатація транспортних засобів? Дайте повну відповідь.

1. Не працює привід керування дверима.
2. На одну вісь транспортного засобу встановлено шини різних конструкцій.
3. За умов, зазначених у відповідях 1 і 2.

31.4.5 «Г»;
31.4.7 «Г»

19 При засліпленні водій повинен:



1. Зупинитися, не змінюючи смуги руху, і увімкнути аварійну сигналізацію.
2. Узяти якомога правіше до краю проїзної частини і зупинитися.


19.3

20 В якому з перелічених випадків слід зупинитися перед залізничним переїздом?

1. За наявності стоп-лінії.
2. Якщо за переїздом утворився затор, який змусить водія зупинитися на переїзді.
3. У випадках, зазначених у відповідях 1 і 2.

20.5 «Г»

1 Водій якого транспортного засобу має перевагу?



1. Велосипеда.
2. Легкового автомобіля.

16.11

2 Чи дозволяється водію-інваліду, що керує автомобілем, позначеним розпізнавальним знаком «Інвалід», зупинитися в зоні дії даного дорожнього знака з табличкою?



1. Забороняється.
2. Дозволяється.

2.8;
 дод. 1: 3.34, 7.18

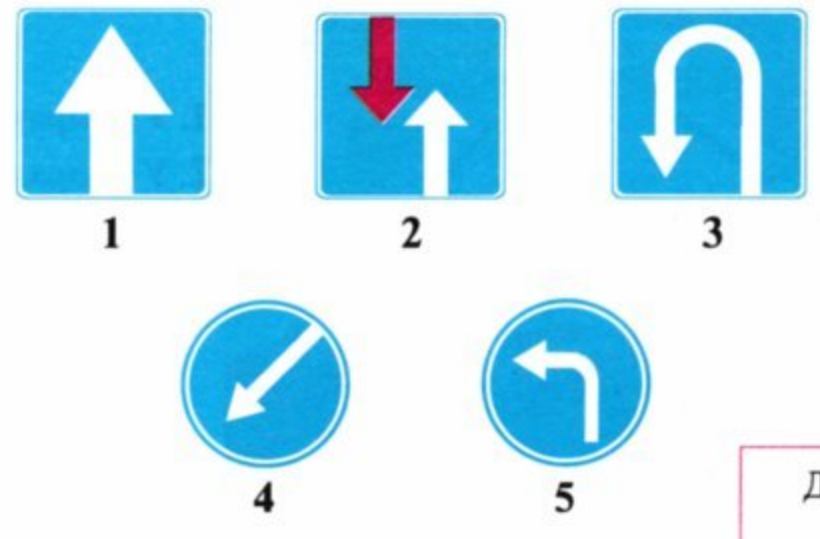
3 Чи дозволяється буксирування мотоцикла з боковим причепом по дорозі, на якій встановлено даний дорожній знак?



1. Дозволяється буксирування не більше однієї одиниці.
2. Дозволяється буксирування тільки на жорсткому зчепленні.
3. Забороняється буксирування тільки під час ожеледиці.
4. Забороняється буксирування при будь-яких умовах.


Дод. 1: 3.4

4 Який дорожній знак указує обов'язковий напрямок руху на перехресті?



Дод. 1: 4.3

5 Водій якого транспортного засобу порушив правила стоянки?



1. Водії всіх транспортних засобів.
2. Водій легкового автомобіля.
3. Водій мотоцикла.
4. Водій вантажного автомобіля.

Дод. 1: 7.5.1,
 3.35

6 Чи дозволяється велосипедисту їздити по тротуарах?

1. Забороняється, крім дітей до 7 років на дитячих велосипедах під наглядом дорослих.
2. Дозволяється.
3. Дозволяється коли відсутні пішоходи.

6.6 «В»

7 Даний дорожній знак позначає:



1. Рух пішоходів і велосипедистів заборонено.
2. Попереду ділянка дороги, на якій ідуть змагання з велосипедного спорту.
3. Знак дозволяє рух усім учасникам дорожнього руху.
4. Знак позначає доріжку, призначену для руху пішоходів і велосипедистів.

Дод. 1: 4.14

8 Дорожні знаки повинні:

1. Розміщуватися не вище 6 м над рівнем проїзної частини.
2. Бути видимими на відстані не менш як 100 м за напрямком руху.
3. Бути видимими на відстані не більш 50 м за напрямком руху, якщо вони частково закриті будь-якими перешкодами.
4. Повинні розміщатися, як вказано у відповідях 1 і 2.

8.2'

9 В яких випадках при перевезенні організованих груп дітей в автобусах (мікроавтобусах) повинне бути ввімкнене ближнє світло фар у світлу пору доби?

1. В усіх випадках, коли здійснюється перевезення організованих груп дітей.
2. Тільки в умовах недостатньої видимості.
3. Тільки при інтенсивному русі.
4. На розсуд водія.

9.8 «В»

10 Розворот забороняється:

1. Тільки при видимості дороги менше 100 м хоча б в одному напрямку.
2. Тільки на автомагістралях, а також на дорогах для автомобілів, за виключенням перехресть і місць, позначених дорожніми знаками «Місце для розвороту» або «Зона для розвороту».
3. У місцях, перелічених у відповідях 1 і 2.

10.7 «Г», «Д»

11 Якою смугою дозволяється рух вантажних автомобілів з дозволеною максимальною масою більш як 3,5 т в населених пунктах?

1. Будь-якою смугою якнайближче до правого краю проїзної частини, однак, якщо для руху нерейкових транспортних засобів в одному напрямку є три смуги і більше, то на крайню ліву смугу дозволяється виїжджати тільки для повороту ліворуч, розвороту й зупинки на вулицях з одностороннім рухом для завантаження чи розвантаження.
2. Тільки крайньою правою смугою.
3. Відповіді 1 і 2 правильні.


11.2; 11.6

12 Чи дозволяється водію міжміського автобуса поза населеними пунктами перевищувати швидкість 70 км/год?

1. Забороняється.
2. Дозволяється до 90 км/год.
3. Дозволяється до 80 км/год.
4. Дозволяється тільки при русі по дорозі, яка має дві і більше смуг для руху в даному напрямку.

12.6 «Г»


13 Даний дорожній знак дозволяє рух автомобіля:



1. У напрямках А і В
2. У напрямках Б і В.
3. В усіх напрямках.

Дод. 1: 5.26


14 На дорогах, що мають дві і більше смуг для руху в одному напрямку, виїзд з правих смуг:



1. Дозволяється для виконання обгону.
2. Дозволяється в будь-якому випадку.
3. Дозволяється, якщо вони зайняті.

14.6 «Е»;
11.2
11.5

15 Хто з водіїв правильно поставив свій транспортний засіб на стоянку на дорозі з одностороннім рухом?



1. Водій легкового автомобіля.
2. Водій вантажного автомобіля.
3. Обидва неправильно.
4. Обидва правильно.

15.3, 15.9 «Г»;
дод. 1: 5.5


16 Першим проїде перехрестя:



1. Зелений автомобіль.
2. Червоний автомобіль.
3. Синій автомобіль.

16.12; 16.13

17 Водій якого транспортного засобу не порушив правила зупинки?



1. Тільки водій мотоцикла.
2. Ніхто не порушив.
3. Тільки водій автомобіля.
4. Обидва порушили.

17.2;
15.9 «Е»

18 Чи дозволяється встановлення шин, відновлених за другим класом ремонту, на легкових автомобілях?

1. Дозволяється тільки на задній осі.
2. Забороняється.
3. Дозволяється на обох осях автомобіля.

31.4.5 «Е»

19 Фарою-прожектором можуть користуватися тільки водії оперативних транспортних засобів:

1. На неосвітлених ділянках доріг.
2. Якщо під час руху відмовило дальнє світло фар.
3. Під час виконання службових завдань, вживши заходів до того, щоб не засліплювати інших учасників дорожнього руху.
4. У випадках, зазначених у відповідях 1, 2, 3.

19.6

20 Сигналом загальної тривоги на залізничному переїзді слугують серії з:

1. Двох довгих і двох коротких звукових сигналів.
2. Трьох довгих і трьох коротких звукових сигналів.
3. Трьох довгих і одного короткого звукових сигналів.
4. Одного довгого і трьох коротких звукових сигналів.

20.9

1 Чи вважається перехрестям виїзд на дорогу з автозаправної станції?

1. Вважається.
2. Не вважається.

1.10

2 Право на керування автобусами, трамваями та тролейбусами (категорії D1, D, D1E, DE, T) надається:

1. З 18-річного віку.
2. Автобусами, трамваями та тролейбусами — з 21-річного віку.
3. Трамваями та тролейбусами — з 18-річного віку, а автобусами — з 21-річного віку.

2.13

3 На ділянці дороги, де встановлено даний дорожній знак:



1. Дозволяється розворот та поворот ліворуч усім транспортним засобам.
2. Дозволяється поворот ліворуч усім транспортним засобам.
3. Дозволяється розворот всім транспортним засобам, поворот ліворуч забороняється.
4. Дозволяється розворот і поворот ліворуч тільки легковим автомобілям.

Дод. 1: 5.26

4 Як визначити дорогу з одностороннім рухом?



1. Дорога, яка має одну смугу для руху.
2. Дорога, на якій посередині проїзної частини нанесено розмітку у вигляді двох суцільних білих ліній.
3. Дорога, зазначена у відповідях 1,2.
4. Дорога в населеному пункті, позначена знаком Б.
5. Дорога або відокремлена проїзна частина, по якій рух транспортних засобів за всією шириною здійснюється в одному напрямку. Позначена знаком А.

Дод. 1: 5.5;
дод. 2: 1.3

5 Водіям яких транспортних засобів дозволено рух?



1. Водіям автомобіля і мотоцикла.
2. Тільки водію автомобіля.
3. Тільки водію мотоцикла.

Дод. 1: 4.11,
7.3.2

6 Чи дозволяється перетинати вузьку суцільну лінію дорожньої розмітки?



1. Забороняється у будь-якому випадку.
2. Дозволяється у будь-якому випадку.
3. Дозволяється, якщо вона білого кольору і позначає місце стоянки транспортних засобів, майданчиків для паркування або край проїзної частини, суміжний з узбіччям, або при обгоні поодиноких транспортних засобів, що рухаються із швидкістю менше 30 км/год.
4. Дозволяється, якщо вона жовтого кольору і позначає межі смуги для руху маршрутних транспортних засобів.

Дод. 2: 1.1

7 Даний дорожній знак позначає, що:



1. Попереду починається додаткова смуга на підйомі або спускові.
2. Попереду перешкода, об'їхати яку дозволяється тільки з правого боку.
3. Попереду ділянка дороги з поперечним нахилом проїзної частини.
4. Інформація, закладена у відповідях 2 і 3.

Дод. 1: 4.7

8 Що означає зелений миготливий сигнал світлофора?

1. В'їзд на перехрестя заборонено.
2. Швидкість руху треба збільшити.
3. До перехрестя наближається спеціальний транспортний засіб.
4. Дозволяє рух, але інформує про те, що незабаром буде ввімкнено сигнал, який забороняє рух.


8.7.3 «В»

9 На будь-якому нерегульованому перехресті трамвай, незалежно від напрямку його подальшого руху:

1. Не має переваги перед автобусами, які виконують міжнародні пасажирські перевезення.
2. Має перевагу перед водієм мотоцикла, який наближається до нього по головній дорозі.
3. Має перевагу перед нерейковими транспортними засобами, які наближаються до нього по рівнозначній дорозі.
4. Має перевагу перед нерейковими транспортними засобами в будь-якому випадку.

16.12

10 Водій якого транспортного засобу порушує правила повороту з дороги, що має смугу гальмування?



1. Обидва водії.
2. Обидва водії повертають правильно.
3. Водій жовтого автомобіля.

10.8

11 В якому з перелічених випадків транспортний засіб повинен рухатися тільки якомога ближче до правого краю проїзної частини, крім випадків, передбачених Правилами дорожнього руху?

1. Тільки тоді, коли швидкість руху його не повинна перевищувати 40 км/год.
2. Тільки тоді, коли за технічних причин він не може розвинути швидкість більше ніж 40 км/год.
3. Тільки тоді, коли за технічних причин він не може розвинути швидкість більше ніж 50 км/год.
4. У випадках, зазначених у відповідях 1 і 2.


11.7

12 По якій смузі автомагістралі або дороги для автомобілів дозволено рух вантажних автомобілів, дозволена максимальна маса яких понад 3,5 т?

1. По першій і другій смугах.
2. По будь-якій.
3. По будь-якій, крім крайньої лівої.

27.2 «Б»

13 Транспортні засоби проїдуть перехрестя в наступному порядку:



1. Автобус, автомобіль, трамвай.
2. Автобус, трамвай, автомобіль.
3. Трамвай, автомобіль і автобус.

16.11

14 Чи дозволяється обгін у даному місці?



1. Дозволяється на дорогах поза населеними пунктами.
2. Дозволяється.
3. Забороняється тільки на дорогах поза населеними пунктами.
4. Забороняється.

14.6 «Г»


15 В умовах недостатньої видимості стоянка поза населеним пунктом дозволяється:



1. На майданчиках для стоянки або за межами дороги.
2. Як можна правіше на узбіччі.
3. В місцях, зазначених у відповідях 1 і 2.

15.11

16 У якому порядку проїдуть перехрестя транспортні засоби?



1. Трамвай 2, синій автомобіль, трамвай 1, червоний автомобіль.
2. Трамвай 2, трамвай 1, синій автомобіль, червоний автомобіль.

16.11; 16.14

17 Як впливає алкоголь на час реакції водія?

1. Не впливає на реакцію водія.
2. Час реакції збільшується.
3. Час реакції зменшується.


ОБР

18 Де слід зберігати медичну аптечку в автомобілі?

1. В обох нижче перелічених місцях.
2. Тільки у багажнику легкового автомобіля.
3. Тільки у закріпленому стані в місцях, визначених підприємством-виробником.

31.4.7 «Є», прим. 2

19 В яких з перелічених випадків повинно бути ввімкнене дальнє світло фар у темну пору доби? Дайте повну відповідь.




1. На дорозі з двостороннім рухом, на якому проїзні частини розділені розділювальною смугою.
2. На автомагістралі.
3. В населених пунктах на звичайній дорозі.

4. У випадках, зазначених у відповідях 1, 2, 3.

19.1 «А»

20 Чи дозволяється водію жовтого автобуса виїхати на перехрестя?



1. Забороняється.
2. Дозволяється.
3. Дозволяється, якщо він рухається за встановленим маршрутом.

16.4

1 Чи дозволяється виконати випередження з правого боку?

1. Дозволяється лише у тому випадку, якщо транспортний засіб, який рухається попереду, виконує випередження з лівого боку.
2. Забороняється за різних умов.
3. Дозволяється в будь-якому випадку з дотриманням заходів безпеки.

1.10

«випередження»

2 Водії яких транспортних засобів завжди мають перевагу в русі? Дайте повну відповідь.

1. Водії транспортних засобів з увімкненими проблісковими маячками червоного кольору.
2. Водії транспортних засобів з увімкненими проблісковими маячками синього, зеленого та червоного кольору.
3. Водії транспортних засобів з увімкненими проблісковими маячками оранжевого кольору.
4. Водії транспортних засобів, зазначених у відповідях 2 і 3.

3.1—3.6

3 Яким вантажним автомобілям дозволяється продовжувати рух при даному дорожньому знакові?



1. Автомобілям з надписом «Зв'язок».
2. Автомобілям з пасажирами в спеціально обладнаному кузові.
3. Автомобілям, що перевозять продукти у кузові-фургоні.

Дод. 1: 3.3

4 Який з даних дорожніх знаків попереджує про наближення до звуження дороги?



1



2



3

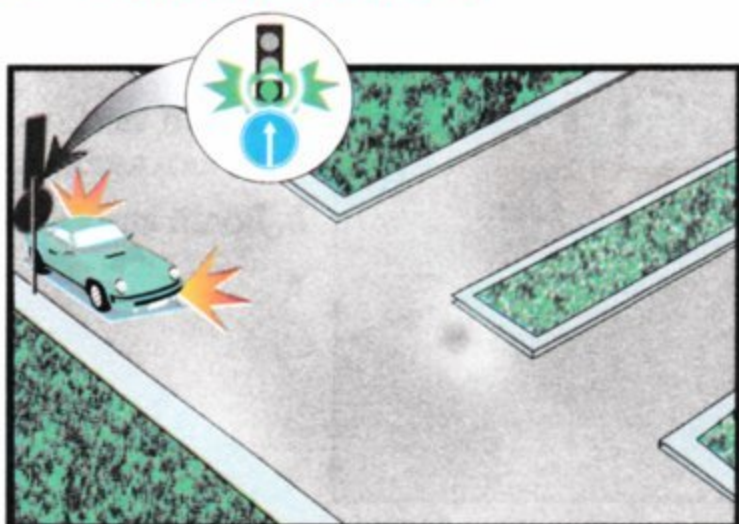


4

5. Знаки, показані у відповідях 1 і 4.

Дод. 1: 1.5.1

5 Чи дозволяється на даному перехресті повернути ліворуч?



1. Забороняється.
2. Дозволяється у другий проїзд.

Дод. 1: 4.1

6 Що позначає дана дорожня розмітка?



1. Ділянка дороги, призначена для короткочасної зупинки.
2. Напрямний острівець у місці поділу транспортних потоків.
3. Через 300 м буде перехрещення з автомагістраллю.


Дод. 2: 1.16.2

7 Які попереджувальні дорожні знаки з перелічених мають іншу форму, ніж знаки цієї групи?

1. «Напрямок повороту» і «Декілька поворотів».
2. «Одноколійна залізниця» і «Багатокілійна залізниця».
3. «Наближення до залізничного переїзду», «Залізничний переїзд без шлагбаума».
4. Усі вищеперелічені знаки у відповідях 1, 2, 3.
5. Усі вищеперелічені знаки у відповідях 1 і 3.

Дод. 1: 1.29,
1.30

8 На даний сигнал регулювальника водію легкового автомобіля дозволяється рух:



1. Прямо, ліворуч, на розворот.
2. В усіх напрямках.
3. Тільки прямо.
4. Тільки праворуч.

8.8 «Б»;
дод. 1: 3.22

9 Під час зупинки на дорозі на всіх механічних транспортних засобах колони вмикається:

1. Ближнє світло фар.
2. Аварійна світлова сигналізація.
3. Ближнє світло фар або аварійна світлова сигналізація.

9.9 «Д»

10 В якому з перелічених випадків забороняється виконати розворот?

1. На ділянках доріг, позначених дорожнім знаком «Крутий підйом».
2. На ділянках доріг, на яких відсутній дорожній знак «Місце для розвороту».
3. В тунелях.
4. У випадках, зазначених у відповідях 1, 2, 3.

10.7 «В»

11 У яких випадках при буксируванні механічних транспортних засобів водій може або повинен не перебувати за кермом буксированого транспортного засобу? Дайте повну відповідь.

1. При буксируванні на жорсткому зчепленні, коли його конструкція забезпечує буксированому транспортному засобу повторення траєкторії руху буксируючого транспортного засобу незалежно від величини поворотів.
2. При буксируванні з частковим навантаженням буксированого транспортного засобу на платформу або спеціальний опорний пристрій.
3. У випадках, зазначених у відповідях 1 і 2.
4. В усіх випадках при буксируванні на жорсткому зчепленні.

23.5

12 Чи дозволяється буксирування на автомагістралі?

1. Дозволяється тільки на гнучкому зчепленні зі швидкістю від 40 км/год до 50 км/год.
2. Дозволяється тільки на жорсткому зчепленні зі швидкістю від 40 км/год до 50 км/год.
3. Дозволяється будь-яке буксирування зі швидкістю від 40 км/год до 50 км/год.

12.7; 27.3

13 Автомобілі проїдуть перехрестя в наступному порядку:



1. Жовтий, зелений, синій.
2. Синій, зелений, жовтий.
3. Синій, жовтий, зелений.

16.12

14 Біла переривчаста лінія поділяє транспортні потоки протилежних напрямків. На даній ділянці дороги обгін:

1. Заборонено.
2. Дозволено тільки поза населеним пунктом.
3. Дозволено.

14.6 «Е»;
дод.2: 1.5

15 Чи дозволяється водію червоного автомобіля відчиняти двері в показаній ситуації?



1. Дозволяється, якщо це не загрожує безпеці і не створює перешкоди іншим учасникам руху.
2. Забороняється, бо дана дорога з дуже інтенсивним рухом.

15.13

16 Водій якого транспортного засобу повинен дати дорогу?



1. Водій легкового автомобіля.
2. Водій автобуса.

16.12

17 Що називається «зупинковим шляхом»?

1. Відстань, пройдена автомобілем з моменту виявлення водієм небезпеки до зупинки.
2. Відстань, пройдена автомобілем з моменту виявлення водієм небезпеки до початку гальмування.

ОБР

18 За яких з перелічених умов забороняється експлуатація транспортних засобів? Дайте повну відповідь.

1. Не працюють передбачені конструкцією замки дверей кузова або кабіни.
2. Підтікає рідина з системи охолодження двигуна.
3. За умов, зазначених у відповідях 1 і 2.

31.4.7 «Г»


19 Яку інформацію закладено у даний дорожній знак?



1. Попереду дорога, на якій рух транспортних засобів здійснюється за встановленим маршрутом і по спеціально відведеній смузі назустріч загальному потоку транспортних засобів.
2. Попереду дорога, на якій діють вимоги Правил дорожнього руху, які встановлюють порядок руху по автомагістралям.
3. Попереду дорога для руху всіх транспортних засобів, крім автобусів.

Дод. 1: 5.8

20 У якій відповіді правильно вказано черговість проїзду?



1. Автобус, вантажний автомобіль, мотоцикл.
2. Автобус, мотоцикл, вантажний автомобіль.
3. Мотоцикл, автобус, вантажний автомобіль.

16.12

1 З Державтоінспекцією узгоджуються:

1. Умови та порядок руху колон у складі більш як 5 механічних транспортних засобів.
2. Умови та порядок руху колон у складі більш як 4 вантажних автомобілів.
3. Умови та порядок руху колон у складі яких вантажні та легкові автомобілі.

32.1 «В»

2 У якому випадку водій повинен надати вантажний автомобіль працівнику міліції для транспортування пошкодженого транспортного засобу?

1. У випадку, якщо буксирування здійснюється в попутному напрямку.
2. На розсуд водія.
3. У будь-якому випадку.

2.7 «Б»

3 Чи дозволяється зупинитися водіям звичайних транспортних засобів для посадки або висадки пасажирів на смузі руху, позначеній даним дорожнім знаком?



1. Забороняється.
2. Дозволяється.
3. Дозволяється, якщо смуга розташована біля правого краю проїзної частини і відокремлена від неї переривчастою жовтою лінією дорожньої розмітки.

Дод. 1: 5.11;
17.2

4 При встановленні якої таблички з дорожнім знаком «Місце для стоянки» дозволяється поставити вантажний автомобіль на стоянку?



1. Обидві таблички забороняють стоянку вантажного автомобіля.
2. Таблички А і Б.
3. Табличка А.
4. Табличка Б.

Дод. 1: 7.6.1,
7.6.2


5 З якою швидкістю дозволяє рухатися даний дорожній знак?



1. Зі швидкістю не більше ніж 50 км/год.
2. Зі швидкістю більше ніж 50 км/год.
3. З будь-якою дозволеною Правилами дорожнього руху швидкістю в залежності від умов руху.

Дод. 1: 4.17

6 Хто з учасників дорожнього руху порушує Правила?



1. Порушують водії всіх транспортних засобів.
2. Ніхто не порушує.
3. Порушують водії червоного легкового автомобіля, який здійснив зупинку, пішоходи і велосипедист.
4. Порушують водії вантажного автомобіля і велосипедист.

6.6«Б»;
4.14 «Д»;
27.2 «Б»

7 Даний дорожній знак:



1. Позначає кінець зони дії знака «Обгін заборонено».
2. Позначає кінець зони заборони обгону тільки для легкових автомобілів.
3. Позначає початок ділянки дороги, на якій обгін вантажним автомобілям буде дозволено.

Дод. 1: 3.26


8 На якому малюнку водій повертає правильно?



1. На правому малюнку.
2. На лівому малюнку.

8.8 «Б»

9 З якого віку дозволяється перевозити дітей на передньому сидінні легкового автомобіля, необладнаному спеціальним засобом, яке дає змогу пристебнути дитину за допомогою ременів безпеки?



1. З шести років.
2. З восьми років.
3. З десяти років.
4. З дванадцяти років.

21.11 «Б»

10 Як обладнати автомобілі при навчанні водінню, які систематично використовуються?

1. Дзеркалом заднього виду для спеціаліста з підготовки водіїв.
2. Додатковою педаллю зчеплення, у разі коли конструкція транспортного засобу передбачає цю педаль.
3. Додатковою педаллю гальма.
4. Розпізнавальними знаками «Учбовий транспортний засіб» відповідно до вимог Правил дорожнього руху.
5. Усім переліченим обладнанням.

24.8

11 Дайте повну відповідь.
У пішохідну зону в їзд дозволяється:

1. Транспортним засобам, що належать громадянам, які проживають або працюють у цій зоні.
2. Транспортним засобам, що рухаються транзитом через пішохідну зону.
3. Транспортним засобам, що обслуговують громадян і підприємства, які розташовані у позначеній зоні.
4. Транспортним засобам, переліченим у відповідях 1 і 3.
5. Транспортним засобам дорожньо-комунальної служби для виконання роботи на дорозі в сусідній зоні.

26.3

12 Чи дозволяється в їзд у технологічні розриви розділювальної смуги на ділянках доріг, позначених даним дорожнім знаком?



1. Дозволяється в будь-якому випадку.
2. Дозволяється при виконанні невідкладного службового завдання.
3. Забороняється.


27.2 «Г»

13 З якою максимальною швидкістю дозволяється здійснити обгін?

1. Зі швидкістю, яка перевищує швидкість транспортного засобу, який обганяють.
2. З будь-якою швидкістю, яка забезпечує безпеку дорожнього руху.
3. Зі швидкістю, яка не перевищує максимальну, встановлену для даної ділянки дороги Правилами дорожнього руху.

12.1


14 Чи дозволяється обганяти автопоїзд у даній ситуації, якщо він рухається зі швидкістю менш як 30 км/год?



1. Дозволяється.
2. Забороняється.

14.6 «А»

15 Дайте повну відповідь.
Де повинен водій зупинити транспортний засіб на дорозі?



1. У спеціально відведених місцях чи на узбіччі.
2. У спеціально відведених місцях.
3. На узбіччі.

15.1

16 Автомобілі проїдуть перехрестя у наступному порядку:



1. Червоний, зелений, синій.
2. Синій, червоний, зелений.

16.12
16.13

17 Чи дозволяється водію автобуса рухатися по смугі, позначеній даним дорожнім знаком, якщо ця смуга відокремлена суцільною жовтою лінією дорожньої розмітки?



1. Дозволяється.
2. Забороняється.
3. Дозволяється водію тільки того автобуса, який рухається за встановленим маршрутом.

17.1;
дод. 1: 5.11

18 Шини мотоцикла повинні мати залишкову висоту малюнка протектора не менше ніж:

1	2	3	4	5
0,5 мм	0,8 мм	1,0 мм	1,6 мм	2,0 мм


31.4.5 «А»

19 На ділянках доріг, позначених дорожніми знаками «Крутий підйом» або «Крутий спуск», якщо спосіб поставлення не регламентується засобами регулювання руху, водій автобуса зобов'язаний ?

1. Тільки користуватися противідкотними упорами.
2. Тільки поставити транспортний засіб під кутом до краю проїзної частини так, щоб не створювати перешкод іншим учасникам руху та виключити можливість самовільного руху цього засобу.
3. Виконати вищезазначені дії.

28.2 «Б»;
15.7

20 Другим проїде перехрестя:



1. Зелений автомобіль.
2. Червоний автомобіль.
3. Синій автомобіль.

16.12

1 В якому порядку проїдуть перехрестя транспортні засоби?



1. Жовтий, зелений, червоний, синій.
2. Червоний, зелений, синій, жовтий.
3. Червоний, синій, жовтий, зелений.

16.11; 16.13

2 Чи повинен водій надавати транспортний засіб працівникам охорони здоров'я?

1. Повинен, але тільки лікарям для подання першої медичної допомоги.
2. Повинен, але тільки при рухові в попутному напрямку.
3. Повинен, але тільки для доставки до найближчого лікувального закладу осіб, які потребують невідкладної медичної допомоги.
4. Повинен у випадках, зазначених у відповідях 1, 2, 3.

2.7 «А»

3 Якщо встановлено даний дорожній знак, то хто з водіїв має перевагу в русі?



1. Водій, перед яким даний дорожній знак встановлено.
2. Водій зустрічного транспортного засобу.
3. Водій транспортного засобу, що наближається праворуч.
4. Водій транспортного засобу, що рухається швидше.

Дод. 1: 2.6

4 Який дорожній знак забороняє рух транспортних засобів з дистанцією між ними меншою ніж зазначена на знакові?



Дод. 1: 3.20

5 Чи дозволяється водію мотоцикла повернути праворуч на перехресті, перед яким встановлені даний дорожній знак і табличка?



1. Дозволяється у період доби з 20.00 до 06.00.
2. Забороняється.
3. Дозволяється.
4. Дозволяється тільки водіям мотоциклів без бокового причепа.

Дод. 1: 4.2, 7.5.1

6 Як повинен вчинити водій, наближаючись до перехрестя, перед яким є розмітка «стоп-лінія», а надпис «STOP» відсутній?

1. В будь-якому випадку зупинитися перед стоп-лінією.
2. Зупинитися перед стоп-лінією тільки у тому випадку, якщо сигнал світлофора або регулювальника забороняє подальший рух.
3. У зв'язку з відсутністю надпису «STOP», зупинка перед стоп-лінією необов'язкова. Водію слід підвищити увагу.

Дод. 2: 1.12, 1.21

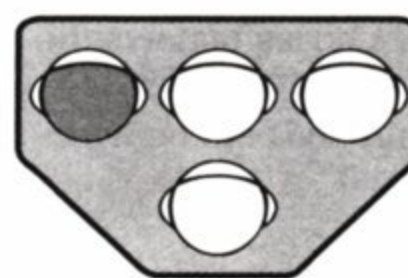
7 Даний дорожній знак попереджує, що:



1. Попереду ділянка дороги, яка має нерівності проїзної частини.
2. Попереду ділянка дороги з двома і більше розташованими один за одним небезпечними поворотами, з першим поворотом ліворуч.
3. Попереду ділянка дороги, на якій випередження транспортних засобів з правого боку заборонено.
4. Попереду ділянка дороги, яка веде у тупик.
5. Інформація, закладена у відповідях 1 і 3.

Дод. 1: 1.3.2

8 Даний сигнал світлофора забороняє рух трамвая:



1. Прямо і ліворуч.
2. Прямо і праворуч.
3. Тільки ліворуч.
4. Тільки праворуч.

8.7.5

9 Подання сигналу покажчиком повороту або рукою припиняється:

1. Під час виконання маневру.
2. На розсуд водія в залежності від дорожньої обстановки.
3. Світловими покажчиками повороту — негайно після завершення маневру, а рукою — безпосередньо перед початком виконання маневру.

9.4

10 Вийжджаючи з двору, чи повинні Ви дати дорогу пішоходам, які рухаються по тротуару?



1. Не повинен, бо пішохід мене бачить і тому мусить дати дорогу мені.
2. Повинен.

10.2

11 Не більш ніж якої відстані між транспортними засобами повинно забезпечувати жорстке зчеплення при буксируванні механічного транспортного засобу?

1	2	3	4
2,0 м	2,5 м	3,0 м	4,0 м

23.3

12 Чи дозволено буксирування механічних транспортних засобів вантажними автомобілями на автомагістралях?

1. Дозволено тільки способом часткового навантаження або на жорсткому зчепленні.
2. Дозволено на гнучкому зчепленні.
3. Заборонено.
4. Дозволено зі швидкістю 60 км/год.
5. Дозволено будь-яким способом зі швидкістю від 40 до 50 км/год.

27.3; 12.7

13 Як повинен учинити водій, якщо перед нерегульованим перехрестям встановлено даний дорожній знак?



1. При проїзді через перехрестя бути особливо уважним.
2. Зупинитися перед стоп-лінією, а якщо її немає — перед знаком і дати дорогу транспортним засобам, що рухаються дорогою, яка перетинається.
3. За відсутності транспортних засобів на перехрещуваній дорозі проїхати перехрестя без зупинки.

Дод. 1: 2.2

14 Якого кольору повинні бути світлоповертачі, які встановлюються на крайніх зовнішніх частинах вантажу, що виступає за габарити транспортного засобу?

1. Усі світлоповертачі повинні бути червоного кольору.
2. Посередині світлоповертачі повинні бути червоного кольору, бокові — білого, а задні — оранжевого.
3. Передні світлоповертачі повинні бути білого кольору, задні — червоного, бокові — оранжевого.


30.3 «3»

15 На якій відстані від перехрестя забороняються зупинка і стоянка транспортних засобів?

1. Зупинка і стоянка заборонені на самих перехрестях і ближче 10 м від краю перехрещуваної проїзної частини за відсутності на них пішохідного переходу.
2. Зупинка і стоянка заборонені на самих перехрестях і ближче 15 м від краю перехрещуваної проїзної частини за відсутності на них пішохідного переходу.
3. Зупинка і стоянка заборонені на самих перехрестях і ближче 20 м від краю перехрещуваної проїзної частини за відсутності на них пішохідного переходу.

15.9 «Г»

16 Транспортні засоби проїдуть перехрестя в наступному порядку:



1. Зелений, жовтий автомобілі, трамвай.
2. Трамвай, жовтий, зелений автомобілі.
3. Трамвай, зелений автомобіль, жовтий автомобіль.

16.12

17 Що розуміється під часом реакції?

1. Час від моменту, коли водій почав гальмувати, до повної зупинки транспортного засобу.
2. Час від моменту, коли водій побачив небезпеку, до початку конкретних дій.

ОБР

18 В яких з перелічених випадків забороняється експлуатація транспортних засобів згідно з законодавством?

1. У випадку їх виготовлення або переобладнання з порушенням вимог стандартів, правил і нормативів, що стосуються безпеки дорожнього руху.
2. Якщо номерні знаки не відповідають вимогам відповідних стандартів.
3. У випадках, зазначених у відповідях 1 і 2.

31.3 «А», «В»

19 За яких з перелічених умов забороняється експлуатація транспортних засобів? Дайте повну відповідь.

1. Відсутній знак аварійної зупинки (миготливий червоний ліхтар), який відповідає вимогам стандарту, на мотоциклі без бокового причепа.
2. Відсутній знак аварійної зупинки, який відповідає вимогам стандарту, на колісному тракторі.
3. За умов, зазначених у відповідях 1 і 2.

31.4.7 «Є»

20 Автомобілі проїдуть перехрестя у наступному порядку:




1. Синій, зелений, червоний автомобілі.
2. Синій автомобіль дасть дорогу червоному, а потім закінчить поворот; зелений автомобіль.
3. Червоний, синій, зелений автомобілі.

4. Зелений, червоний, синій автомобілі.

16.11; 16.14


1 Чи може водій червоного автомобіля виконати обгін на цій ділянці дороги?



1. Не може.
2. Може, якщо білий автомобіль зміститься до правого краю проїзної частини.
3. Може у будь-якому випадку.

1.10

2 Синій автомобіль проїде перехрестя:



1. Першим.
2. Третім.
3. Другим.

3.2; 16.12; 16.13

3 На дорозі встановлено даний дорожній знак. Водій якого транспортного засобу має перевагу в русі?



1. Водій, перед яким встановлено даний знак.
2. Водій, який наближається по дорозі праворуч від знака.
3. Водій, який підїхав до місця перехрещення доріг першим.

Дод. 1: 1.23.1


4 Безпосередньо на якій ділянці дороги починається дія даного дорожнього знака з табличкою?



1. За знаком безпосередньо у місці його установки.
2. За знаком, але через 300 м від місця його установки.
3. За знаком безпосередньо у місці його установки на протязі 300 м.

Дод. 1: 3.29, 7.1.1

5 Водії яких транспортних засобів порушили правила стоянки поза населеними пунктами?



1. Водій легкового автомобіля.
2. Водій вантажного автомобіля.
3. Обидва водії.

Дод. 1: 3.35; 15.3


6 Чи дозволяється заїжджати на острівця, розмічений широкими білими лініями?



1. Дозволяється тільки для зупинки.
2. Забороняється.
3. Дозволяється при рухові заднім ходом.

Дод. 2: 1.1


7 Чи дозволяються звичайним транспортним засобам зупинка і стоянка на посадкових майданчиках, призначених для маршрутних транспортних засобів?



1. Дозволяються для посадки і висадки пасажирів.
2. Забороняються.
3. Забороняються тільки в години пік або у світлу пору доби.

15.9 «Е»

8 Рух дозволено:



1. Прямо.
2. Праворуч в перший проїзд.
3. Праворуч у другий проїзд.
4. Праворуч у перший і другий проїзди.

8.8 «Б»

9 Дайте повну відповідь. Попереджувальними сигналами є:

1. Увімкнення ближнього світла фар у світлу пору доби, увімкнення аварійної сигналізації.
2. Увімкнення сигналів гальмування, ліхтаря заднього ходу, розпізнавального знака автопоїзда, пробліскового маячка оранжевого кольору.
3. Сигнали, що подаються світловими покажчиками повороту або рукою, звуковий сигнал, перемикання світла фар.
4. Усі перелічені сигнали.
5. Усі сигнали, перелічені у відповідях 1 і 3.

9.1

10 Як обладнуються автомобілі навчальних закладів при навчанні водінню? Дайте повну відповідь.

1. Додатковими педалями зчеплення, гальмування та акселератора (у разі коли конструкція транспортного засобу передбачає ці педалі).
2. Дзеркалом заднього виду для спеціаліста з підготовки водіїв.
3. Розпізнавальними знаками «Учбовий транспортний засіб» відповідно до вимог Правил дорожнього руху.
4. Усім переліченим обладнанням і позначеннями.


24.8

11 Якщо ширина проїзної частини недостатня, чи дозволяється рух нереєстрованих транспортних засобів по трамвайних коліях при випередженні?

1. Дозволяється тільки тоді, коли рух здійснюється по трамвайних коліях попутного напрямку, та за умови, що не створюються перешкоди для руху трамваїв.
2. Забороняється.

11.8

12 З якою максимальною швидкістю дозволено рух міжміських автобусів на автомагістралях?



1. 70 км/год.
2. 80 км/год.
3. 110 км/год.
4. 90 км/год.
5. 100 км/год.

12.6 «Г»

13 Дані дорожні знаки попереджають, що:



1. Попереду через 100 м залізничний переїзд із шлагбаумом.
2. Попереду залізничний переїзд без шлагбаума через залізницю з трьома коліями.
3. Попереду через 150—300 м залізничний переїзд без шлагбаума.

Дод. 1: 1.28, 1.31.4

14 В яких з перелічених випадків забороняється обгін?

1. Тільки в тунелях.
2. Забороняється обганяти тільки колону транспортних засобів, позаду якої рухається транспортний засіб з увімкненим проблісковим маячком зеленого кольору.
3. У випадках, зазначених у відповідях 1 і 2.
4. На дорогах поза населеними пунктами перед в'їздом в населений пункт.
5. У випадках, зазначених у відповідях 1, 2, 4.

14.6 «Д», «Є»


15 Водії яких транспортних засобів неправильно зупинилися для висадки пасажирів? Дайте повну відповідь.



1. Водій легкового автомобіля.
2. Водій мотоцикла.
3. Водій мікроавтобуса.
4. Водії всіх транспортних засобів порушили Правила дорожнього руху.

15.9 «Г»

16 Автомобілі проїдуть перехрестя в наступному порядку:



1. Зелений, синій, червоний.
2. Зелений, червоний, синій.
3. Червоний, синій, зелений.


16.12; 16.13

17 Для припинення заносу автомобіля, що почався при гальмуванні, водій повинен:

1. Вимкнути зчеплення.
2. Натиснути на педаль гальма до упору.
3. Вимкнути зчеплення й гальмувати стоянковим гальмом.
4. Припинити почате гальмування.

ОБР

18 Як Ви повинні вчинити, повертаючи праворуч у показаній ситуації?



1. Користуючись переважним правом, подати звуковий сигнал і продовжувати рух у наміченому напрямку.
2. Дати дорогу пішоходам, які переходять проїзну частину.
3. Зменшити швидкість руху і рухатися з особливою обережністю.


18.2

19 Протитуманні фари можна використовувати в умовах недостатньої видимості:

1. З ближнім або дальнім світлом фар.
2. Як окремо, так і з ближнім або дальнім світлом фар.
3. Окремо від ближнього або дальнього світла фар.

19.5

20 Другим проїде перехрестя:



1. Червоний автомобіль.
2. Синій автомобіль.
3. Зелений автомобіль.

16.12

1 Чи дозволяється рух пішоходів по розділювальній смузі?

1. Дозволяється при наявності тротуару на розділювальній смузі.
2. Дозволяється при будь-яких умовах.
3. Забороняється при будь-яких умовах.

1.10

2 Чи зобов'язаний водій повідомити дорожно-експлуатаційним організаціям або Державтоінспекції про виявлені факти створення перешкод для дорожнього руху?



1. Не зобов'язаний. Повідомити може за власним бажанням.
2. Зобов'язаний повідомити.

2.3 «Е»

3 Яким вантажним автомобілям з перелічених даних дорожній знак не забороняє рух?



1. Вантажним автомобілям вантажопідйомністю більше ніж 3,5 т.
2. Вантажним автомобілям з дозволеною максимальною масою більше ніж 3,5 т.
3. Вантажним автомобілям, що перевозять небезпечні вантажі.
4. Вантажним автомобілям, що мають похилу білу смугу на зовнішній боковій поверхні.

дод. 1: 3.3

4 Який дорожній знак позначає промислову зону?



1 2 3 4

Дод. 1: 5.69

5 У якому напрямку дозволяється рух? Дайте повну відповідь.



1. Прямо.
2. Праворуч або ліворуч.
3. Прямо, ліворуч і розворот.
4. Ліворуч.

Дод. 1: 5.10.2

6 Чи зобов'язані бути в застібнутих мотошлемах водій мопеда і його пасажир під час руху по дорозі?

1. У застібнутому мотошлемі повинен бути тільки водій.
2. У застібнутих мотошлемах водій і пасажир повинні бути тільки при русі поза населеним пунктом.
3. При русі на мопеді водій і його пасажир можуть бути без мотошлемів.
4. При русі у будь-якому випадку водій і пасажир повинні бути в застібнутих мотошлемах.

2.3 «Г»

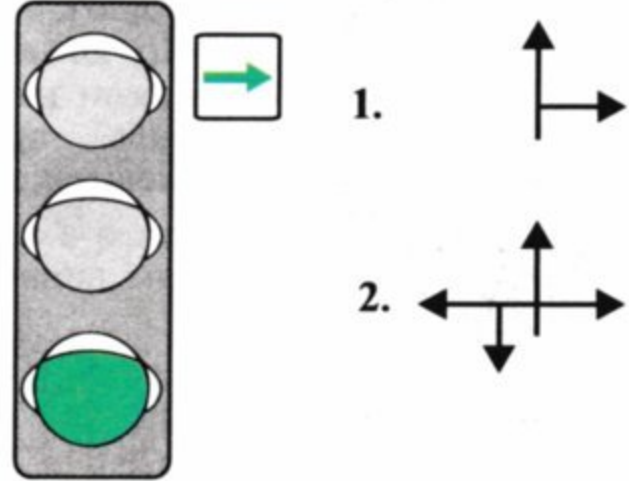
7 Даний дорожній знак попереджує, що:



1. Попереду ділянка дороги з зустрічним рухом, якій передувала ділянка дороги з одностороннім рухом.
2. Попереду ділянка, на якій дорога звужується.
3. Попереду слизька ділянка дороги.

Дод. 1: 1.5.1

8 Дайте повну відповідь: у яких напрямках дозволяється рух при даному сигналі світлофора?



8.7.3 «А», «Б»

9 На механічному транспортному засобі, що рухається з технічними несправностями до місця ремонту у світлу пору доби, вмикається:

1. Тільки габаритні ліхтарі.
2. Тільки аварійна світлова сигналізація.
3. Ближнє світло фар або аварійна світлова сигналізація.
4. Ближнє світло фар або протитуманні фари.

9.9 «В»

10 Чи дозволяється водієві виконати розворот на даній ділянці дороги, якщо, подивившись в дзеркало заднього огляду, він побачив, що позаду нього інші транспортні засоби відсутні?



1. Дозволяється, якщо він зможе виконати розворот лише одним маневром.
2. Дозволяється, якщо він зможе виконати розворот, зробивши не більше 2-х маневрів.
3. Дозволяється.

10.4

11 Чи дозволяється виїжджати на смугу зустрічного руху на дорозі з двостороннім рухом, яка має по дві смуги для руху в кожному напрямку?

1. Забороняється.
2. Дозволяється на проїзній частині там, де відсутня дорожня розмітка.
3. Дозволяється у будь-якому випадку для виконання обгону.

11.4

12 Чи дозволяються зупинка і стоянка на дорогах, позначених даним дорожнім знаком?



1. Дозволяються на час до 30 хв.
2. Дозволяються тільки в місцях, позначених дорожніми знаками «Місце для стоянки» або «Місце відпочинку».
3. Дозволяються тільки на правій стороні біля краю проїзної частини.
4. Дозволяються в місцях, зазначених у відповідях 2 і 3.


27.2 «В»

13 З якою максимальною швидкістю дозволяється рух легкового автомобіля поза населеними пунктами на автомобільній дорозі з окремими проїзними частинами, що відокремлені одна від іншої розділювальною смугою?

1. 130 км/год
2. 120 км/год
3. 110 км/год
4. 100 км/год
5. 90 км/год

12.6 «Г»

14 Чи дозволяється обігнати автобус на даній ділянці дороги?



1. Дозволяється тільки у тому випадку, якщо автобус рухається зі швидкістю менше ніж 30 км/год.
2. Дозволяється у будь-якому випадку.
3. Забороняється.


14.6 «Б»; дод. 1: 1.27, 1.31.4

15 Зупинку транспортного засобу заборонено:

1. Тільки на залізничних переїздах і ближче 50 м від них.
2. Тільки на залізничних переїздах і ближче 50 м перед ними.
3. Тільки на залізничних переїздах і ближче 50 м за ними.
4. Тільки на залізничних переїздах.

15.9 «А»

16 Велосипедист проїде перехрестя:



1. Після автобуса, автомобіля.
2. Після автомобіля, автобуса.
3. Першим.

16.12; 16.13

17 Для гарантування безпеки руху після подолання глибоких калюж водію рекомендується:



1. На короткій дистанції пробігу кількома натисканнями на гальмову педаль просушити гальмові накладки.
2. Рухатися з прискоренням на вищих передачах.

ОБР

18 Шини автобусів повинні мати залишкову висоту малюнка протектора не менше ніж:

1	2	3	4	5
0,8 мм	1,0 мм	1,6 мм	2,0 мм	2,5 мм


31.4.5 «А»

19 За яких з перелічених умов забороняється експлуатація транспортних засобів? Дайте повну відповідь.

1. Різьбові з'єднання рульового керування не затягнуті або не надійно зафіксовані.
2. Негерметична паливна система.
3. За умов, зазначених у відповідях 1 і 2.

31.4.2 «Б»; 31.4.6 «Б»

20 Транспортні засоби проїдуть перехрестя в наступному порядку:



1. Автобус, велосипед, легковий автомобіль.
2. Велосипед, автобус, легковий автомобіль.
3. Легковий автомобіль, автобус, велосипед.
4. Автобус, легковий автомобіль, велосипед.

16.11; 16.13

1 Дайте повну відповідь. Відповідно до Правил дорожнього руху «маневрування» (маневр) це:

1. Початок руху, з'їзд з проїзної частини, рух заднім ходом.
2. Перестроювання транспортного засобу в русі з однієї смуги на іншу.
3. Поворот праворуч чи ліворуч, розворот.
4. Всі дії, вказані у відповідях 1, 2, 3.
5. Дії, вказані у відповідях 2 і 3.

1.10

2 Кому можуть належати автомобілі, якими керують водії категорії «В»? Дайте повну відповідь.

1. Належать юридичним особам.
2. Належать фізичним особам.
3. Належать юридичним або фізичним особам.

2.13

3 Водій автобуса наближається до ділянки дороги, перед якою встановлено даний дорожній знак. Що повинен вчинити водій з метою безпеки дорожнього руху?



1. Під час зупинки або стоянки користуватися противідкотними упорами.
2. Перейти на більш низьку передачу.
3. Заглушити двигун або перейти на нейтральну передачу.
4. У випадку необхідності зупинитися тільки на правому краї проїзної частини.
5. Виконати дії, передбачені у відповідях 1 і 4.

Дод. 1: 1.7;
15.1 і 15.2
28.2 «Б»

4 Який дорожній знак забороняє рух зі швидкістю меншою ніж 50 км/год?



1



2



3




4



5

Дод. 1: 4.16

5 У якій відповіді зазначені всі водії, які порушили правила зупинки на дорозі з одностороннім рухом поза населеним пунктом? Дайте повну відповідь.



1. Водії червоного автомобіля та мотоцикла.
2. Водій синього автомобіля, що зупинився під розвантаженням.
3. Водії всіх транспортних засобів.

4. Водій мотоцикла.

Дод. 1: 3.34,
7.2.4; 11.6; 15.3

6 Яка з даних ліній позначає зупинку маршрутних транспортних засобів?



A

B

B

1. А і Б.
2. Б і В.
3. А.
4. Б.
5. В.

Дод. 2: 1.17

7 Як повинен вчинити водій, який наближається до перехрестя, на якому світлофор не ввімкнено, а на дорозі перед перехрестям встановлено даний дорожній знак?



1. Зупинитися тільки у тому випадку, якщо він буде повертати на перехрестя.
2. Зупинитися у будь-якому випадку і дати дорогу транспортним засобам, що рухаються дорогою, яка перетинається.
3. Не зупинятися, якщо перехрестя вільне від інших транспортних засобів.

Дод. 1: 2.2

8 Рух дозволено:



1. Синьому автомобілю.
2. Мотоциклу.
3. Трамваю.
4. Трамваю і червоному автомобілю.
5. Червоному автомобілю.

8.8 «Б»

9 Дайте найповнішу відповідь: чи завжди повинен водій подавати світловий сигнал покажчиками повороту?

1. Зобов'язаний завжди перед початком руху, зупинкою, перестроюванням, поворотом або розворотом.
2. Сигнал забороняється подавати, якщо він може ввести в оману інших учасників руху.
3. Відповіді 1 і 2 вірні.

9.2; 9.4

10 Чи повинен водій дати дорогу іншим транспортним засобам при перестроюванні?

1. Повинен у всіх випадках при взаємному перестроюванні.
2. Повинен — транспортному засобу, що рухається попутно по тій смугі, на яку він має намір перестроїтися.
3. Не повинен.

10.3

11 Чи дозволяється буксирування мотоциклів?

1. Дозволяється мотоцикли без бокового причепа.
2. Дозволяється у рівнинній місцевості.
3. Дозволяється мотоцикли з боковим причепом.
4. Забороняється.

23.10 «Г»


12 З якою швидкістю дозволяється рух легкового автомобіля в населеному пункті, позначеному даним дорожнім знаком?

РУДНЯ

1. На всіх дорогах даного населеного пункту не більше 80 км/год.
2. На всіх дорогах даного населеного пункту не більше 60 км/год.
3. В населеному пункті, на дорозі, на якій встановлено дорожній знак, — не більше 90 км/год, а на усіх інших дорогах того ж населеного пункту — не більше 60 км/год.
4. На всіх дорогах даного населеного пункту не більше 90 км/год.

12.6 «Г»;
дод. 1: 5.47

13 Дана дорожня розмітка позначає:



1. Забороняється зупинка і стоянка легкових автомобілів.
2. Забороняється стоянка легкових автомобілів з 20-00 до 08-00.
3. Забороняється стоянка.
4. Дозволена стоянка з 20-00 до 08-00.


Дод.2:1.10.2

14 Яким чином регламентується максимальна маса вантажу, що перевозиться, і розподіл навантаження на осі транспортного засобу?

1. Дозволом, виданим ДАІ.
2. Технічною характеристикою даного транспортного засобу.
3. Наказом адміністрації підприємства.
4. Документами, вказаними у відповідях 1, 2, 3.

22.1


15 Хто з водіїв порушує правила зупинки, якщо водій вантажного автомобіля зупинився для завантаження вантажу, а водій автобуса зупинився для відпочинку?



1. Обидва порушують.
2. Обидва не порушують.
3. Водій вантажного автомобіля.
4. Водій автобуса.

15.9 «И»;
11.6

16 Червоний автомобіль:



1. Повинен дати дорогу синьому, що наблизився до перехрестя праворуч.
2. Має перевагу перед синім, бо їде по дорозі з круговим рухом.
3. Має перевагу перед синім, бо їде по головній дорозі.

16.11

17 Які небезпечні наслідки може спричинити різке рушення з місця?

1. Бічний занос автомобіля.
2. Припинення роботи двигуна.

ОБР

18 Чи дозволяється подальший рух автомобіля, у якого є несправність гальмової системи, але яка дозволяє водієві зупинити його?

1. Дозволяється зі швидкістю не більше 10 км/год за наявності справної гальмової системи.
2. Забороняється.
3. Дозволяється рух якомога коротшим шляхом до місця стоянки або ремонту, дотримуючись запобіжних заходів.

31.5; 31.6 «А»

19 За яких з перелічених умов забороняється експлуатація транспортних засобів? Дайте повну відповідь.

1. На транспортному засобі відсутні світлоповертальні елементи.
2. На транспортному засобі відсутні розпізнавальні знаки, передбачені Правилами дорожнього руху.
3. За умов, зазначених у відповідях 1 і 2.


31.4.7 «Ї»

20 Водій, який виїжджає з дороги без покриття на асфальтовану дорогу:

1. Повинен дати дорогу тільки при наявності знака «Дати дорогу».
2. Повинен надати перевагу всім транспортним засобам, що рухаються по асфальтованій дорозі.
3. Повинен дати дорогу тільки транспортним засобам, що наближаються праворуч.

16.11; 1.10


1 Чи повинен водій зупинитися перед стоп-лінією у даному випадку?



1. Повинен обов'язково зупинитися.
2. Повинен проїхати перехрестя без зупинки.
3. Повинен обов'язково зупинитися у тому випадку, якщо на перехрещуваній проїзній частині з'явиться транспортний засіб, якому водій повинен дати дорогу.

16.1;
дод. 1: 2.2;
дод. 2: 1.12.

2 Синій автомобіль проїде перехрестя:



1. Першим.
2. Другим.
3. Третім.
4. Четвертим.
5. Останнім.

3.2;
16.11; 16.13


3 Якими є вимоги даного дорожнього знака, якщо його встановлено перед нерегульованим перехрестям?



1. Зупинитися тільки у тому випадку, якщо праворуч наближається інший транспортний засіб.
2. Зупинитися у будь-якому випадку і дати дорогу транспортним засобам, що рухаються дорогою, яка перетинається.
3. Зупинитися тільки у тому випадку, якщо необхідно проїхати перехрестя в прямому напрямку.
4. Зупинитися у випадках, зазначених у відповідях 1 і 3.

Дод. 1: 2.2


4 Як визначити дорогу з одностороннім рухом?



1. Дорога, зазначена у відповідях 3, 4 і 5.
2. Дорога, яка має одну смугу для руху.
3. Дорога в населеному пункті, позначена знаком Б.
4. Дорога, на якій посередині проїзної частини нанесено розмітку у вигляді двох суцільних білих ліній.
5. Дорога або відокремлена проїзна частина, по якій рух транспортних засобів за всією шириною здійснюється в одному напрямку. Позначена знаком А.

Дод. 2: 1.3;
сод. 1: 5.5


5 У якому напрямку дозволяється рух водію вантажного автомобіля, якщо він не обслуговує підприємства, розташовані за знаком «Рух вантажних автомобілів заборонено», або громадян, які там проживають?



1. Тільки праворуч.
2. Тільки ліворуч.
3. Праворуч, ліворуч і у зворотному напрямку.

Дод. 1: 5.28.2

6 Чи дозволено зупинку в даному місці?



1. Заборонено.
2. Дозволено.

Дод. 2: 1.4

7 Даний дорожній знак попереджує, що попереду:



1. Закруглення дороги з підвищеною слизькістю проїзної частини.
2. Ділянка дороги з двома і більше розташованими один за одним небезпечними поворотами, з першим поворотом праворуч.
3. Ділянка дороги, на якій ширина проїзної частини зменшується на одну смугу.

Дод. 1: 1.3.1

8 При червоному сигналі даного світлофора рух забороняється:



1. На смугі для маршрутних транспортних засобів.
2. По усій ширині проїзної частини.
3. По смугі проїзної частини, напрямок руху на якій може змінюватися на протилежний.

8.7.4

9 Які з перелічених дій забороняються водію при виборі швидкості руху? Дайте повну відповідь.

1. Перевищувати максимальну швидкість руху, яка зазначена на розпізнавальному знакові «Обмеження максимальної швидкості».
2. Різко гальмувати, крім випадків, коли без цього неможливо запобігти дорожньо-транспортній пригоді.
3. Дії, перелічені у відповідях 1 і 2, заборонені.

12.9 «Б», «Г»

10 В якому з перелічених випадків дозволяється рух заднім ходом?

1. На автомагістралях.
2. На дорогах для автомобілів.
3. На звичайних дорогах.
4. На дорогах, зазначених у відповідях 1, 2, 3.

10.10

11 Як визначається кількість смуг на дорозі для руху нерейкових транспортних засобів?
Дайте повну відповідь.

1. Дорожніми знаками «Напрямок руху по смугах» або «Напрямок руху по смузі».
2. Дорожньою розміткою.
3. За відсутності розмітки й знаків — самим водієм з урахуванням ширини проїзної частини, габаритів транспортних засобів і безпечних інтервалів між ними.
4. Усіма переліченими способами.

11.1

12 З якою максимальною швидкістю дозволяється рух мотоциклів на ділянках доріг, позначених даним дорожнім знаком?



1. 60 км/год.
2. 70 км/год.
3. 80 км/год.
4. 90 км/год.
5. 100 км/год.

12.6 «А»

13 Як подати першу медичну допомогу потерпілому при пошкодженні шкіряних покривів і м'язової тканини?

1. Рану промити, витягнути інородні тіла, накласти пов'язку.
2. Обробити шкіру навкруги рани розчином йоду, покрити рану стерильним матеріалом, накласти пов'язку.
3. Залити рану розчином йоду і накласти пов'язку.

ППМД
стор. 8

14 У якому з наведених випадків вантаж, що перевозиться, повинен бути позначений сигнальними щитками або прапорцями, а в темну пору доби і в умовах недостатньої видимості — світлоповертачами або ліхтарями?

1. Якщо вантаж виступає за габарити транспортного засобу ззаду на 0,8 м.
2. Якщо вантаж виступає за габарити транспортного засобу спереду або ззаду більш як на 1 м.

22.4

15 На ділянках доріг, позначених дорожніми знаками «Крутий підйом», або «Крутий спуск», якщо спосіб поставлення не регламентується засобами регулювання руху, водій автобусу зобов'язаний?

1. Тільки користуватися противідкотними упорами.
2. Тільки поставити транспортний засіб під кутом до краю проїзної частини так, щоб не створювати перешкод іншим учасникам руху та виключити можливість самовільного руху цього засобу.
3. Виконати вищезазначені дії.

15.7;
28.2 «Б»

16 В якому з перелічених випадків, наближаючись до нерегульованого перехрестя, водій має переважне право руху?
Дайте повну відповідь.

1. Якщо на перехрещуваній дорозі встановлено знак «Дати дорогу».
2. Якщо перехрестя рівнозначне і з правого боку на перехрещуваній дорозі відсутні транспортні засоби.
3. В будь-якому випадку, якщо водій під'їхав до перехрестя першим.
4. У випадках, зазначених у відповідях 1, 2.
5. У випадках, зазначених у відповідях 1, 2, 3.

16.12;
дод. 1: 2.1

17 Чим може бути спричинене бокове ковзання автомобіля на слизькій дорозі?

1. Різким розгоном і різким гальмуванням.
2. Тільки різким розгоном.
3. Тільки різким гальмуванням.

ОБР

18 В яких випадках не забороняється експлуатація транспортних засобів?

1. Відсутні передбачені конструкцією грязезахисні фартухи і бризковики.
2. На легковому автомобілі встановлені додатково два немигтливі сигнали гальмування червоного кольору.
3. Не працює передбачений конструкцією прилад для підігрівання та обдування скла.

31.4.3, прим. 4;
31.4.7 «Г», «Е»


19 Даний дорожній знак:



1. Забороняє рух усіх механічних транспортних засобів, за виключенням мотоциклів без бокового причепа.
2. Забороняє рух усіх транспортних засобів.
3. Позначає дорогу, що веде у тупик.

Дод. 1: 3.1

20 В якому місці біля залізничного переїзду повинен зупинити водій свій транспортний засіб, якщо він побачив поїзд, що наближається?



1. Не менше 10 м до найближчої рейки.
2. Не менше 20 м до найближчої рейки.
3. Як можна ближче до залізничної колії.

20.3

1 Чи дозволяється рух або стоянка транспортних засобів на розділювальній смузі?

1. Дозволяється при інтенсивному рухові на проїзній частині дороги.
2. Забороняється.
3. Рух транспортних засобів заборонено, стоянка з 18.00 до 06.00 дозволяється.

1.10

2 В яких з перелічених випадків пасажиром забороняється під час руху стояти в кузові вантажного автомобіля?

1. Тоді, коли борти вантажної платформи не нарощені.
2. Тоді, коли швидкість руху автомобіля перевищує 40 км/год.
3. У випадках, зазначених у відповідях 1 і 2.
4. В будь-якому випадку при перевезенні пасажирів.

5.3 «Г»

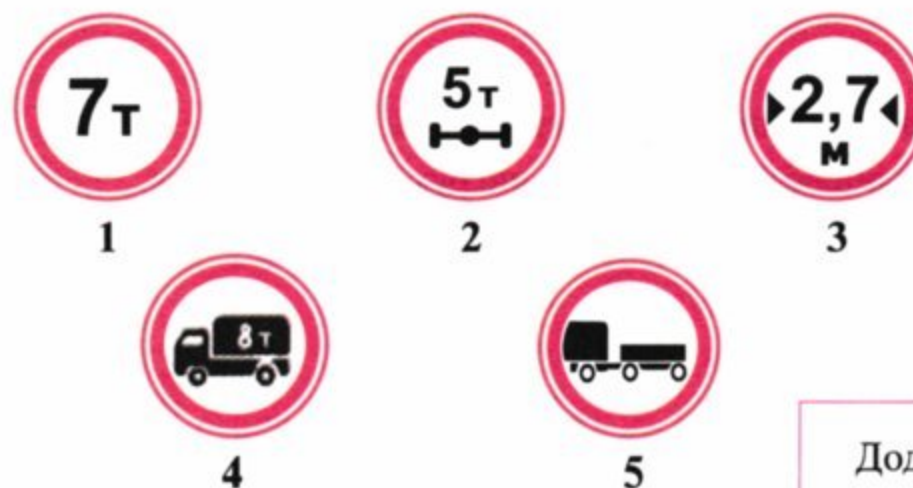
3 На які вантажні автомобілі поширюється дія даної таблички?



1. На вантажні автомобілі (в тому числі з причепом) з дозволеною максимальною масою понад 3,5 т.
2. На всі вантажні автомобілі без причепа.
3. На всі вантажні автомобілі (в тому числі з причепом).

Дод. 1: 7.5.1

4 Який із даних дорожніх знаків забороняє рух автомобіля з причепом, якщо дозволена максимальна маса состава транспортних засобів дорівнює 7 т?



Дод. 1: 3.4

5 В якому з перелічених випадків забороняється обгін на підйомі? Дайте повну відповідь.

1. У кінці підйому. Не забороняється обгін протягом всього підйому.
2. В умовах недостатньої видимості.
3. Якщо на початку підйому встановлено дорожній знак «Обгін заборонено».
4. У місцях і за умов, зазначених у відповідях 2 і 3.
5. У місцях і за умов, зазначених у відповідях 1, 2 і 3.

Дод. 1: 3.25;
14.6 «Г»

6 Водій наближається до ділянки дороги, на проїзній частині якої нанесені літери з цифрами. Що вони позначають?



1. Відстань до найближчого населеного пункту.
2. Номер дороги (маршруту).
3. Відстань до найближчого обласного центру.


Дод. 2: 1.23

7 Перед перехрестям ввімкнено зелений сигнал світлофора і встановлено знак «Місце зупинки». Водій повинен:

1. Дати дорогу транспортним засобам, що рухаються з інших напрямків.
2. Обов'язково зупинитися перед знаком, а потім продовжити рух.
3. Продовжити рух без зупинки.

Дод. 1: 5.62

8 Яким транспортним засобам заборонено рух?



1. Усім транспортним засобам.
2. Трамваю і мотоциклу.
3. Легковому автомобілю і мотоциклу.
4. Трамваю, вантажному автомобілю і мотоциклу.

8.7.3 «Б»

9 У яких випадках на автобусі (мікроавтобусі) вмикається ближнє світло фар у світлу пору доби? Дайте повну відповідь.

1. У будь-якому випадку при русі автобуса.
2. На автобусах (мікроавтобусах), що здійснюють перевезення організованих груп дітей.
3. На автобусах — маршрутних транспортних засобах, які рухаються по спеціально позначеній смузі назустріч за гальному потоку транспортних засобів.
4. У випадках, зазначених у відповідях 2 і 3.

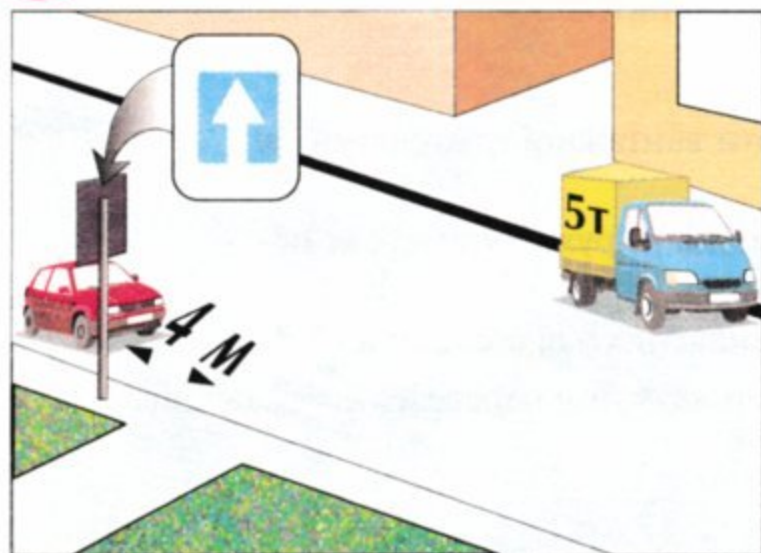
9.8 «Б» и «В»

10 Розворот забороняється:

1. Тільки на залізничних переїздах.
2. Тільки на пішохідних переходах і в тунелях.
3. Тільки на мостах, шляхопроводах, естакадах і під ними.
4. Тільки при видимості дороги менше ніж 100 м хоча б в одному напрямку.
5. В усіх перелічених випадках.

10.7

11 Який автомобіль правильно поставлено на стоянку?



1. Обидва правильно.
2. Обидва неправильно.
3. Жовто-синій.
4. Червоний.

11.6;
15.9 «Г»

12 З якою максимальною швидкістю дозволяється рух автобусам (мікроавтобусам), що здійснюють перевезення організованих груп дітей на ділянках дороги, позначених даним дорожнім знаком?



- | | | | |
|-----------|-----------|-----------|-----------|
| 1 | 2 | 3 | 4 |
| 60 км/год | 70 км/год | 80 км/год | 90 км/год |

12.6 «А»

13 На ділянках доріг, позначених знаками «Крутий підйом» і «Крутий спуск», за наявності перешкоди, дати дорогу повинен водій:

1. Великогабового транспортного засобу.
2. Транспортного засобу, що рухається на спуск.
3. Транспортного засобу, що рухається на підйом.

13.4

14 На яких транспортних засобах установлюється розпізнавальний знак «Обмеження максимальної швидкості»?

1. Тільки на вантажних автомобілях при перевезенні пасажирів або великогабових чи великогабаритних транспортних засобах.
2. Тільки на автомобілях, керованих водіями, що мають водійський стаж до 2 років.
3. На всіх перелічених транспортних засобах.

30.3 «И»


15 Чи дозволяється буксирування легкового автомобіля на ділянці дороги, перед якою встановлено даний дорожній знак?



1. Дозволяється.
2. Забороняється.

Дод. 1:3.4

16 Синій автомобіль проїде перехрестя:



1. Першим.
2. Другим.

16.6; 8.3

17 Ви виїхали для обгону і несподівано побачили зустрічний автомобіль. Якщо Ви не впевнені, що зумієте завершити обгін, Ви повинні:



1. Зменшити швидкість і повернутися на раніше займану смугу.
2. Трохи збільшити швидкість і скоріше завершити обгін, подаючи звуковий сигнал та ввімкнувши фари.

ОБР

18 Яке з перерахованого обладнання застосовується для регулювання дорожнього руху? Дайте повну відповідь.

1. Шумові смуги для підвищення уваги учасників дорожнього руху на небезпечних ділянках дороги.
2. Світлове сигнальне обладнання в місцях реконструкції дороги.
3. Устаткування, перераховане у відповідях 1 і 2.

8.6 «А», «Ж»

19 За яких з перелічених умов забороняється експлуатація транспортних засобів? Дайте повну відповідь.

1. Ремені безпеки не в робочому стані або мають видимі надриви на лямках.
2. На сидлі мопедів немає передбачених конструкцією поперечних рукояток для пасажирів.
3. За умов, зазначених у відповідях 1 і 2.

31.4.7 «3», «1»

20 Чи дозволяється перетинати широку суцільну лінію горизонтальної дорожньої розмітки?



1. Забороняється в будь-якому разі.
2. Дозволяється в будь-якому разі, з будь-якого боку при вимушеній зупинці.
3. Дозволяється перетинати в разі вимушеної зупинки на автомагістралі, якщо цією лінією позначено край проїзної частини, суміжної з узбіччям.

Дод. 2: 1.2

1 Чи повинен водій обов'язково зупинити транспортний засіб, якщо, згідно з Правилами дорожнього руху, він повинен виконати вимогу «дати дорогу»?

1. Зупинка обов'язкова.
2. Зупинка необов'язкова. Достатньо зменшити швидкість і тим самим не змушувати інших учасників дорожнього руху, що мають перевагу, змінити свій напрямок руху або швидкість.

1.10

2 Синій автомобіль проїде перехрестя:



1. Другим.
2. Третім.
3. Останнім.
4. Першим.

3.2;
16.11; 16.14

3 Даний дорожній знак позначає:



1. Кінець додаткової смуги на підйомі або смуги розгону.
2. Дорогу, яка не має наскрізного проїзду.
3. Напрямок руху до об'єкта в населеному пункті.

Дод. 1: 5.29.1


4 Дія якого дорожнього знака не поширюється на маршрутні транспортні засоби?



- 1
- 2
- 3
- 4
- 5

Дод. 1: 3.34

5 Водій легкового автомобіля наближається до ділянки дороги, на якій встановлено даний дорожній знак. Попереду рухається транспортний засіб з більш низькою швидкістю. Чи дозволяється водію легкового автомобіля виконати обгін?



1. Дозволяється у будь-якому випадку.
2. Дозволяється, якщо транспортний засіб попереду рухається зі швидкістю до 30 км/год.
3. Обгін заборонено у будь-якому випадку.
4. Дозволяється, якщо обгін буде завершено не менше, ніж за 50 м до місця установки знака.
5. Дозволяється при виконанні умов, викладених у відповідях 1 або 2.

Дод. 1: 1.31.3;
14.6 «Б»

6 В якому з перелічених випадків дозволяється перетинати суцільну лінію дорожньої розмітки, що поділяє транспортні потоки протилежних напрямків?



1. Якщо з лівого боку від неї є переривчаста лінія.
2. Якщо з правого боку від неї є переривчаста лінія.

Дод. 2: 1.11

7 Чи дозволяються зупинка і стоянка у місцях, де відстань між транспортним засобом, що зупинився, і протилежним краєм проїзної частини менше трьох метрів?

1. Дозволяються на дорогах з неінтенсивним рухом.
2. Дозволяються тільки у світлу пору доби, якщо водій не кидає своє місце в автомобілі.
3. Забороняються.

15.9 «Д»

8 Дорожні знаки повинні:

1. Розміщуватися не вище 6 м над рівнем проїзної частини.
2. Бути видимими на відстані не менш як 100 м за напрямком руху.
3. Бути видимими на відстані не більш 50 м за напрямком руху, якщо вони частково закриті будь-якими перешкодами.
4. Повинні розміщатися, як вказано у відповідях 1 і 2.

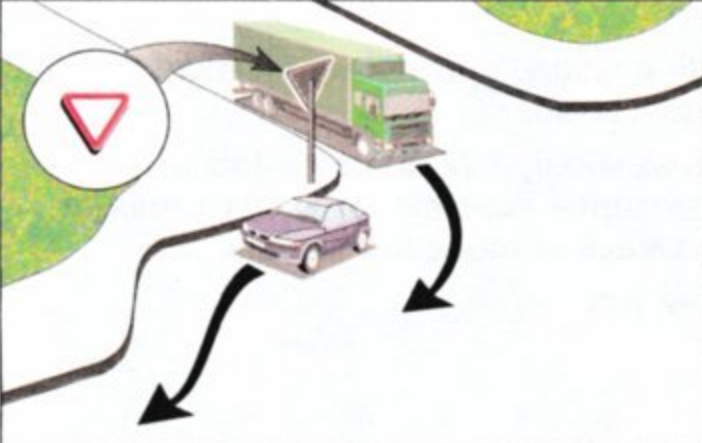
8.2¹

9 Чи допускається перемикання світла фар і застосування звукового сигналу для привернення уваги водія, якого обганяють, на дорозі поза населеним пунктом?

1. Допускається за умов, коли це не може призвести до засліплення інших водіїв, у тому числі через дзеркало заднього виду.
2. Не допускається.

9.6; 9.7

10 Водії яких транспортних засобів порушують правила в'їзду на дорогу за наявності на ній смуги розгону?



1. Обидва водії.
2. Водій вантажного автомобіля.
3. Водій легкового автомобіля.
4. Обидва водії виїжджають правильно.

10.8

11 При дотриманні яких умов дозволяється експлуатація складів транспортних засобів, що складаються з автомобіля, трактора або іншого тягача і причепа?

1. За наявності можливості приєднання електрообладнання причепа до системи електрообладнання тягача.
2. За умови, що вантажопідйомність причепа не перевищує половини вантажопідйомності вантажного автомобіля-тягача.
3. За умови відповідності причепа тягачу та виконання вимог щодо їх експлуатації.
4. За дотримання всіх умов, перелічених у відповідях 1, 2, 3.

23.11

12 З якою максимальною швидкістю дозволяється рух легкового автомобіля на цій ділянці дороги? Дайте повну відповідь.



1. 110 км/год.
2. 130 км/год. — якщо ця дорога позначена дорожнім знаком «Дорога для автомобілів».
3. 90 км/год.

4. Зі швидкістю, зазначеною в відповідях 1 і 2.

12.6 «Г»

13 Водій якого транспортного засобу повинен дати дорогу при зустрічному роз'їзді на ділянках доріг, позначених знаком «Крутий спуск»?

1. Водій легкового автомобіля — водієві автобуса.
2. Водій транспортного засобу, який рухається на підйом.
3. Водій транспортного засобу, який рухається на спуск.

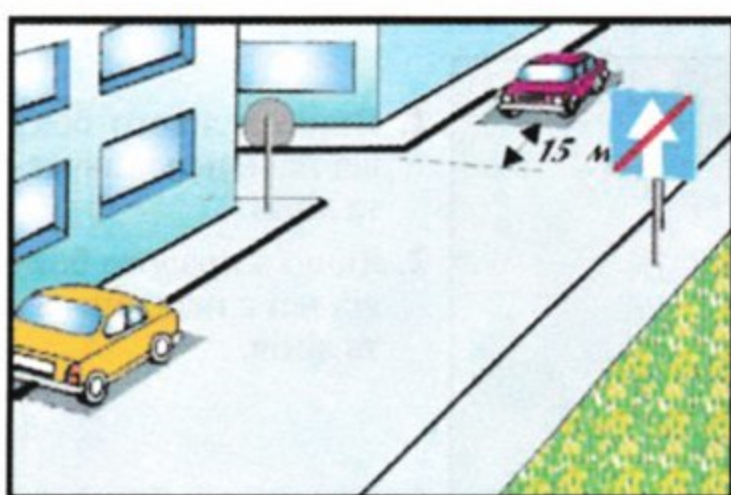
13.4

14 Дайте повну відповідь. Відповідно до Правил дорожнього руху розпізнавальний знак «Автопоїзд» устанавлюється :

1. На вантажних автомобілях з причепами.
2. На колісних тракторах класу 1,4 т. і вище з причепом.
3. На зчленованих автобусах і тролейбусах.
4. На транспортних засобах, вказаних у відповідях 1 і 2.
5. На транспортних засобах, вказаних у відповідях 1,2,3.

30.3 «А»


15 Водій якого автомобіля не порушив правила стоянки?



1. Обидва порушили.
2. Ніхто не порушив.
3. Червоного.
4. Жовтого.

15.3;
15.9 «Г»

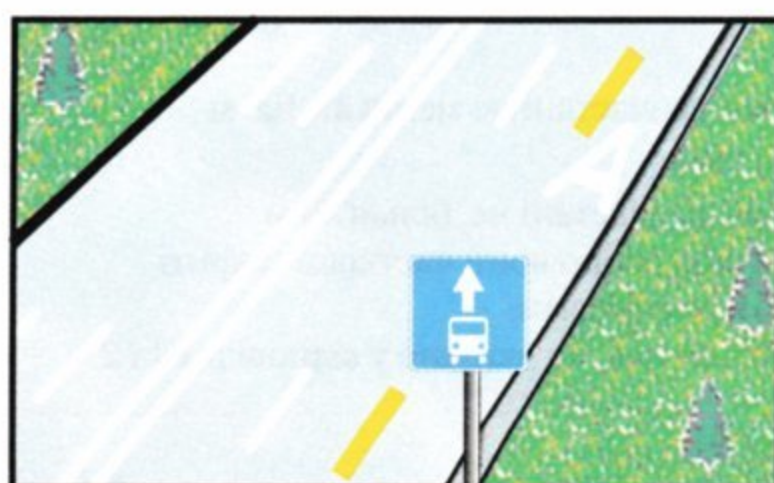
16 Чи повинен водій зупинитися перед стоп-лінією у даному випадку?



1. Повинен обов'язково зупинитися.
2. Повинен проїхати перехрестя без зупинки.
3. Повинен обов'язково зупинитися у тому випадку, якщо на перехрещуваній проїзній частині з'явиться транспортний засіб, якому водій повинен дати дорогу.

16.1;
дод. 1: 2.2;
дод. 2: 1.12.

17 Чи дозволяється водію легкового автомобіля зупинитися для висадки пасажирів на смузі, позначеній даним дорожнім знаком?



1. Забороняється.
2. Дозволяється.

17.2

18 Чи повинні пішоходи, які не встигли закінчити перехід проїзної частини на нерегульованому пішохідному переході, зупинитися на лінії, яка розділяє транспортні потоки?

1. Не повинні зупинятися, бо на нерегульованому пішохідному переході пішоходи завжди мають перевагу.
2. Повинні зупинитися, продовжити рух слід лише після того, як звільниться проїзна частина.

18.1;
4.16 «А»

19 Якщо ефективність гальмування робочої гальмової системи транспортних засобів не відповідає вимогам Правил дорожнього руху, то Ви повинні:

1. Продовжити намічену поїздку, при цьому у світлу пору доби увімкнути ближнє світло.
2. Усунути несправність на місці, а якщо це неможливо, — рухатися якомога коротшим шляхом до місця стоянки або ремонту, дотримуючись запобіжних заходів.
3. Припинити подальший рух.

31.5

20 Ви повертаєте ліворуч на нерегульованому перехресті. Яким транспортним засобам слід дати дорогу?

1. На будь-якому перехресті — транспортним засобам, які наближаються праворуч, а також тим, що рухаються у зустрічному напрямку прямо і праворуч.
2. Тільки на рівнозначному перехресті — тим, що рухаються з зустрічного напрямку прямо або повертають праворуч, а також тим, що наближаються праворуч.
3. Транспортним засобам, зазначеним у відповідях 1 і 2.

16.13

1 За визначенням Правил дорожнього руху, яка з цих доріг може вважатися головною?

1. Дорога на малюнку 1.
2. Дороги на малюнку 2 і 3.
3. Дорога на малюнку 2.
4. Дороги, зображені на всіх малюнках, не можуть вважатися головними.

1.10

2 Як повинен вчинити водій транспортного засобу, якщо робітник міліції вимагає від нього зупинитися?

1. Зупинитися, з дотриманням вимог цих Правил, а також пред'явити для перевірки документи, які зазначені в п.2.1 Правил дорожнього руху.
2. Зупинитися, з дотриманням вимог нинішніх Правил, а також передати для перевірки документи, які зазначені у п.2.1 Правил дорожнього руху.
3. Зупинитися не обов'язково, на розсуд водія, в залежності від конкретних обставин.

2.4 «А»

3 Даний дорожній знак з табличкою попереджує водія про те, що:

1. Через 100 м починається ділянка дороги, на якій можлива поява диких тварин.
2. Попереду починається ділянка дороги довжиною в 100 м, на якій можлива поява диких тварин.

Дод. 1: 1.36, 7.2.1

4 Що означає табличка під дорожнім знаком?

1. Відстань від першого повороту до початку другого повороту.
2. Протяжність ділянки дороги з небезпечними поворотами.
3. Відстань від знака до початку першого повороту.

Дод. 1: 7.2.1

5 Чи є серед даних дорожніх знаків такий, який би не поширював свою дію на маршрутні транспортні засоби?

1. Тільки знак
2. Тільки знак
3. Тільки знак
4. Тільки знак
5. Свою дію не поширюють на маршрутні транспортні засоби всі перелічені знаки.

Дод. 1: 3.1, 3.2, 3.34, 4.1

6 Вказівні стріли, нанесені на проїзну частину перед перехрестям:

1. Забороняють рух в напрямках, вказаних стрілами.
2. Допомагають водію своєчасно знайти відповідну смугу і інформують про обов'язкові напрямки руху.
3. Інформують про необхідність негайно перестроїтися на іншу смугу руху.

Дод. 2: 1.18

7 З якою максимальною швидкістю дозволяється рух вантажного автомобіля з дозволеною максимальною масою не більш 3,5 т поза населеними пунктами на автомобільній дорозі з окремими проїзними частинами, відокремлені одна від іншої розділювальною смугою?

1. 130 км/год
2. 120 км/год
3. 110 км/год
4. 100 км/год
5. 90 км/год

12.6 «Г»

8 Рух заборонено:

1. Легковому й вантажному автомобілям, мотоциклу.
2. Трамваю і легковому автомобілю.
3. Вантажному автомобілю й мотоциклу.
4. Усім транспортним засобам.

8.8 «А»

9 За яких перерахованих умов здійснюється перевезення автобусом або мікроавтобусом організованих груп дітей?

1. Якщо водій, котрий здійснює перевезення, має посвідчення водія категорії «D» і стаж не менше 5 років.
2. Якщо перевезення здійснюється тільки в світлий час доби.
3. При виконанні умов, вказаних у відповідях 1 і 2.

21.3, 21.11 «Г»

10 Перевагу в русі має:

1. Синій автомобіль, бо червоний змінює напрямок руху ліворуч.
2. Синій автомобіль, бо при взаємному перестроюванні він знаходиться ліворуч.
3. Червоний автомобіль, бо при взаємному перестроюванні він знаходиться праворуч.


10.3

11 Чи дозволяється перевозити пасажирів у буксированому автомобілі при буксируванні на гнучкому або жорсткому зчепленні?

1. Дозволяється в легковому автомобілі.
2. Дозволяється в кузові вантажного автомобіля при буксируванні на жорсткому зчепленні.
3. Дозволяється в автобусі.

23.9

12 З якою максимальною швидкістю дозволяється рух мотоциклів на ділянці дороги, позначеній даним дорожнім знаком?



1. 60 км/год.
2. 70 км/год.
3. 80 км/год.
4. 90 км/год.
5. 100 км/год.

12.6 «А»

13 Якої дистанції на дорогах поза населеними пунктами повинні дотримуватись водії транспортних засобів, швидкість руху яких не перевищує 40 км/год?

1. Дистанція повинна бути такою, щоб транспортні засоби, які здійснюють обгін, мали можливість безперешкодно повернутися на раніше займану смугу руху. Ця вимога не діє, якщо водій тиххідного транспортного засобу готується до виконання обгону чи об'їзду та подає попереджувальний сигнал.
2. Дистанція повинна бути не менша ніж 50 м.
3. Дистанція повинна бути не менша ніж 100 м.

13.2

14 В якому з перелічених випадків забороняється обгін на підйомі? Дайте повну відповідь.

1. Якщо на початку підйому встановлено знак «Обгін заборонено».
2. У кінці підйому. Не забороняється обгін протягом усього підйому.
3. В умовах недостатньої видимості.
4. У випадках, зазначених у відповідях 1 і 3.
5. У випадках, зазначених у відповідях 1, 2 і 3.


14.6 «Г»;
дод. 1: 3.25

15 Дайте повну відповідь. Відповідно до Правил дорожнього руху забороняється експлуатація транспортних засобів, при відсутності:

1. Сигнального жилета оранжевого кольору, який відповідає держстандарту, на якому відсутні які не будь написи та розпізнавальні знаки.
2. Пробліскових маячків оранжевого кольору на великовагових та великогабаритних транспортних засобах.
3. Відсутні елементи, вказані у відповідях 1 і 2.

31.4.7 «Є»


16 Транспортні засоби проїдуть перехрестя в наступному порядку:



1. Автобус, автомобіль, трамвай.
2. Автобус, трамвай, автомобіль.
3. Трамвай, автомобіль і автобус.

16.11

17 У якому випадку стійкість автомобіля проти перекидання підвищується?



1. Центр ваги розташований високо.
2. Центр ваги зміщений ліворуч.
3. Центр ваги розташований низько.

ОБР

18 Як повинен учинити водій транспортного засобу, що наближається до пішоходів, які змушено знаходяться на проїзній частині?

1. Об'їхати пішоходів з лівого боку.
2. Дотримуватись безпечного інтервалу, проїжджаючи повз пішоходів, які не встигли закінчити перехід проїзної частини.
3. Зупинитися перед пішоходами.

18.3

19 Даний дорожній знак забороняє рух:



1. Усіх механічних транспортних засобів, за винятком маршрутних транспортних засобів, тих що обслуговують підприємства, які знаходяться в позначеній зоні, а також обслуговують громадян чи належать громадянам, що проживають або працюють у позначеній зоні.
2. Легкових автомобілів.
3. Всіх механічних транспортних засобів, за винятком мотоциклів без бокового причепа.

Дод. 1: 3.2

20 Транспортні засоби проїдуть перехрестя в наступному порядку:



1. Синій, зелений, червоний.
2. Синій, червоний, зелений.
3. Червоний, зелений, синій.

16.12

1 Чи дозволяється учню не пристібатися ременями безпеки під час навчальної їзди?

1. Дозволяється, якщо це ускладнює керування автомобілем.
2. Дозволяється, якщо дозволить той, хто навчає.
3. Дозволяється.
4. Забороняється.


2.3 «В»

2 Транспортний засіб повинен бути тимчасово зареєстрований у ДАІ, якщо він перебуває в міжнародному русі на території України понад:

1. Два місяці.
2. Один місяць.
3. В обох випадках.

29.2

3 Даний дорожній знак позначає:



1. Дорогу або відокремлену проїзну частину, по якій рух транспортних засобів за всією шириною здійснюється тільки в одному напрямку.
2. Дорогу, по якій рух заднім ходом заборонено, але якщо до об'єкта неможливо підїхати іншим способом і будуть дотримані правила безпеки, то рух заднім ходом дозволяється.
3. Указує дозволений напрямок руху по смузі.
4. Інформація, закладена у відповідях 1 і 2.


Дод. 1: 5.5
10.10

4 На який з даних дорожніх знаків забороняється рух повністю завантаженому автопоїзду, дозволена максимальна маса якого 8 т?

1. Тільки на знак 
2. Тільки на знак 
3. Тільки на знак 
4. На знаки, зазначені у відповідях 1 і 2.

Дод. 1: 3.15

5 Що означає даний дорожній знак?



1. Забороняється рух транспортних засобів, маса яких у спорядженому стані більша за 7 т.
2. Забороняється рух транспортних засобів, у тому числі составів транспортних засобів, загальна фактична маса яких більша за 7 т.
3. Забороняється рух транспортних засобів вантажопідйомністю 7 т.

Дод. 1: 3.15

6 Якщо велосипедна доріжка перетинає дорогу поза перехрестям велосипедисти:



1. Зобов'язані дати дорогу транспортним засобам, що рухаються по дорозі.
2. Зобов'язані дати дорогу транспортним засобам, що наближаються праворуч.
3. Мають перевагу в русі.

6.5

7 На які транспортні засоби дія даного дорожнього знака не поширюється? Дайте повну відповідь.



1. Маршрутні транспортні засоби.
2. Автомобіль, керований інвалідом, який позначено розпізнавальним знаком «Інвалід».
3. Таксі з увімкненим таксометром.
4. Транспортні засоби, зазначені у відповідях 2 і 3.
5. Маршрутне таксі.

Дод. 1: 3.35;
2.8

8 Що означає зелений миготливий сигнал світлофора?



1. Дозволяє рух, але інформує про те, що незабаром буде ввімкнено сигнал, який забороняє рух.
2. Світлофор несправний, слід виконувати вимоги дорожніх знаків пріоритету.
3. Забороняє рух, бо через три секунди буде увімкнено червоний сигнал.

8.7.3 «В»

9 Коли і де повинні бути ввімкнені денні ходові вогні на всіх механічних транспортних засобах? Дайте повну відповідь.

1. З 1 жовтня по 1 травня на всіх транспортних засобах.
2. З 1 грудня по 1 травня на всіх механічних транспортних засобах поза населеними пунктами.
3. З 1 жовтня по 1 травня на всіх механічних транспортних засобах поза населеними пунктами, а в разі відсутності денних ходових вогнів у конструкції транспортного засобу - ближнє світло фар.

9.8

10 З якої смуги дозволяється рух у прямому напрямку на найближчому перехресті?



1. Тільки з 2,3 та 4, тому що з 1 та 5 дозволяється поворот тільки праворуч та ліворуч.
2. З усіх п'яти смуг.


10.4

11 Чи дозволяється водію транспортного засобу виїхати на трамвайну колію зустрічного напрямку?

1. Дозволяється тільки водію легкового автомобіля.
2. Дозволяється водіям усіх транспортних засобів, якщо попереду по ходу руху утворився затор.
3. Забороняється у всіх випадках.

11.9

12 З якою максимальною швидкістю дозволяється рух вантажного автомобіля на звичайних дорогах поза населеними пунктами?



1. 90 км/год.
2. 80 км/год.
3. 60 км/год.
4. 50 км/год.
5. 40 км/год.


12.6 «Г»

13 Дайте повну відповідь. Щоб не створювати небезпеку для дорожнього руху, безпечний інтервал слід вибирати:

1. Під час стоянки на майданчику, позначеному табличкою «Спосіб постановки транспортного засобу на стоянку».
2. При обгоні, випередженні, об'їзді перешкоди.
3. При зустрічному роз'їзді.
4. У випадках, перелічених у відповідях 2 і 3.

13.3

14 Автомобілі проїдуть перехрестя в наступному порядку:



1. Червоний, синій, зелений.
2. Синій, зелений, червоний.
3. Червоний в'їде на перехрестя й зупиниться, щоб дати дорогу синьому; зелений, синій; червоний закінчить розворот.

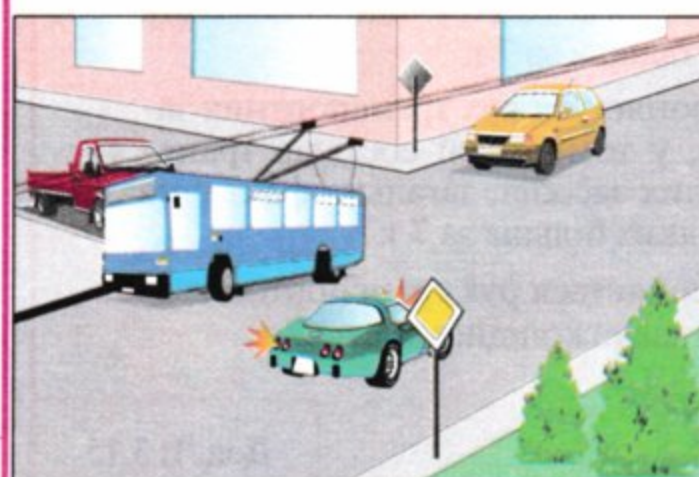
16.12; 16.13

15 У яких із перелічених місць забороняється зупинка транспортних засобів?

1. Ближче як за 15 м від краю перехрещуваної проїзної частини.
2. Під естакадами, мостами і шляхопроводами.
3. Біля універсамів та інших великих магазинів.
4. Біля залізничних вокзалів.
5. В усіх зазначених місцях.

15.9 «В»

16 Як повинен учинити водій, якщо на перехресті, на якому він має перевагу в русі, утворився затор?



1. В'їхати на перехрестя, дотримуючись заходів безпеки.
2. Забороняється в'їжджати на перехрестя.
3. В'їхати на перехрестя, подаючи переривчастий звуковий сигнал.

16.4

17 У скільки разів збільшується гальмовий шлях при збільшенні швидкості вдвічі на асфальтованому покритті?

1. Величина гальмового шляху не залежить від швидкості руху.
2. Удвічі.
3. Утричі.
4. У чотири рази.

ОБР

18 За яких з перелічених умов забороняється експлуатація транспортних засобів? Дайте повну відповідь.

1. На одну вісь транспортного засобу встановлено шини морозостійкі і неморозостійкі.
2. Не працює тахограф.
3. За умов, зазначених у відповідях 1 і 2.

31.4.5 «Г»;
31.4.7 «Г»

19 Які зовнішні світлові прилади повинні бути ввімкнені на транспортному засобі при вимушеній зупинці на неосвітлених ділянках доріг у темну пору доби і в умовах недостатньої видимості?

1. Задні габаритні ліхтарі.
2. Ближнє світло фар та освітлення номерного знака.
3. Габаритні або стоянкові ліхтарі та аварійна світлова сигналізація (дозволяється увімкнути ближнє світло фар або протитуманні фари та задні протитуманні ліхтарі).

19.4

20 На залізничному переїзді сигналом загальної тривоги є серія звукових сигналів транспортного засобу, що складаються з:

1. Трьох довгих і одного короткого звукових сигналів.
2. Одного довгого і двох коротких звукових сигналів.
3. Одного довгого і трьох коротких звукових сигналів.

20.9

1 Чи дозволяється установка на транспортних засобах спеціальних звукових сигналів?

1. Дозволяється, якщо звук не різкий.
2. Дозволяється за узгодженням з ДАІ МВС.
3. Дозволяється, якщо вони використовуються тільки при виконанні невідкладного службового завдання.

32.1 «Е»

2 За визначенням Правил дорожнього руху «Автопоїзд» (транспортний состав) це:

1. Транспортний засіб, призначений для перевезення вантажів.
2. Механічний транспортний засіб, що з'єднаний з одним або кількома причепами за допомогою зчіпного пристрою.
3. Механічний транспортний засіб, призначений для перевезення виключно великогабових та великогабаритних вантажів.

1.10

3 Яким знаком позначаються тільки газові заправні станції?




1

2

3

Дод. 1:6.7.2

4 Який дорожній знак попереджує про наближення до небезпечного повороту дороги?



1

2

3

4

5

Дод. 1: 1.2

5 З яким дорожнім знаком розміщується дана табличка?



1

2


3

4

5

Дод. 1:1.39

6 Яка з даних ліній дорожньої розмітки використовується для позначення меж смуг руху, на яких здійснюється реверсивне регулювання?



1

2

3

4

1. Лінії 2 і 3.
2. Лінії 3 і 4.
3. Лінія 1.
4. Лінія 2.
5. Лінія 3.

Дод. 2: 1.9

7 Чи дозволяється буксирування механічних транспортних засобів, якщо на дорозі встановлено даний дорожній знак?



1. Дозволяється на будь-якому зчепленні.
2. Дозволяється тільки легковим автомобілям.
3. Дозволяється на жорсткому зчепленні.
4. Забороняється.

Дод. 1: 3.4

8 Водію рекомендується:

1. Під час вимушеної зупинки на дорозі у темну пору доби та в умовах з недостатньою видимістю знаходитися на проїзній частині у сигнальному жилеті.
2. У разі постійної експлуатації транспортного засобу на дорогах, на яких проїзна частина слизька, використовувати шини, що відповідають стану проїзної частини.
3. Виконувати рекомендації, зазначені у відповідях 1 або 2.

31.4.5 «Прим.»

9 Аварійна світлова сигналізація на буксированому механічному транспортному засобі повинна бути ввімкнена:

1. У будь-яку пору доби.
2. Тільки в темну пору доби.
3. Тільки за умов недостатньої видимості.

9.9 «Г»

10 З якої смуги дозволяється рух у прямому напрямку на найближчому перехресті?



1. Тільки з 2,3 та 4, тому що з 1 та 5 дозволяється поворот тільки праворуч та ліворуч.
2. З усіх п'яти смуг.

10.4

11 Водій автопоїзда рухається в прямому напрямку. Чи правильно він вибрав смугу для руху?



1. Неправильно.
2. Правильно.

11.2, 11.5

12 Чи дозволяється розворот у технологічних розривах розділювальної смуги на ділянках доріг, позначених даним дорожнім знаком?



1. Дозволяється всім транспортним засобам.
2. Забороняється.
3. Дозволяється тільки транспортним засобам з дозволеною максимальною масою до 3,5 т.

27.2 «Г»


13 Водій якого транспортного засобу повинен дати дорогу?



1. Водій зеленого автомобіля, якщо він виконує невідкладне службове завдання.
2. Водій зустрічного автомобіля.
3. Водій зеленого автомобіля.

13.4

14 Чи дозволяється обгін у даному місці?



1. Дозволяється.
2. Дозволяється на дорогах поза населеними пунктами.
3. Забороняється.
4. Забороняється тільки на дорогах поза населеними пунктами.


14.6 «Г»

15 З якою максимальною швидкістю дозволяється рух легкового автомобіля поза населеними пунктами на автомобільній дорозі з окремими проїзними частинами, що відокремлені одна від іншої розділювальною смугою?

1. 130 км/год
2. 120 км/год
3. 110 км/год
4. 100 км/год
5. 90 км/год

12.6 «Г»

16 Автомобілі проїдуть перехрестя в наступному порядку:



1. Червоний, синій, зелений.
2. Червоний і зелений, синій.
3. Зелений, синій з червоним.

16.11

17 Швидкість руху на такому повороті виявилася занадтою. Що має зробити водій для безпеки дорожнього руху?



1. Знизити швидкість руху і за необхідності притормувати.
2. Не знижуючи швидкості, виїхати на смугу зустрічного руху, якщо вона вільна від інших транспортних засобів.
3. Виконуючи невідкладне службове завдання, дозволяється виїхати на смугу зустрічного руху, не знижуючи швидкості.

ОБР

18 Сумарний люфт у рульовому керуванні вантажного автомобіля з дозволеною максимальною масою до 3,5 т не повинен перевищувати:

1. 10 градусів.
2. 15 градусів.
3. 20 градусів.
4. 25 градусів.
5. 30 градусів.


31.4.2 «А»

19 За визначенням Правил дорожнього руху термін «Газон» це :

1. Ділянка однорідної території із дерновим покривом, який штучно створюється.
2. Елемент дороги, призначений для короткочасної стоянки автомобіля.
3. Елемент дороги, на якому дозволяється стоянка автомобілів з 20-00 до 6-00 год.
4. Елемент дороги, призначений для зелених насаджень, на якому дозволяється стоянка автомобілів з 20-00 до 6-00 год.

1.10

20 Автомобілі проїдуть перехрестя в наступному порядку:



1. Жовтий, зелений, синій.
2. Синій, зелений, жовтий.
3. Синій, жовтий, зелений.

16.12

1 «Безпечна швидкість», за визначенням Правил дорожнього руху, це:

1. Швидкість, за якої водій має змогу безпечно керувати транспортним засобом та контролювати його рух у конкретних дорожніх умовах.
2. Тільки максимальна швидкість, встановлена Правилами дорожнього руху для конкретного транспортного засобу на певній ділянці дороги.
3. Швидкість, зазначена у відповідях 1 і 2.

1.10

2 Чи може власник транспортного засобу, передавати транспортний засіб у користування іншій особі? Дайте повну відповідь.

1. Може, якщо ця особа має посвідчення водія на право керування транспортним засобом відповідної категорії.
2. Може, якщо власник передав іншій особі реєстраційний документ на даний транспортний засіб.
3. Може, якщо власник видав іншій особі доручення, засвідчене нотаріусом.
4. Може при здійсненні вимог 1 і 2.
5. Може при здійсненні вимог 1,2 або 3.

2.2


3 Яку інформацію закладено у даний дорожній знак?



1. Указує напрямок руху до вказаних на знакові об'єктів.
2. Указує напрямок руху транспортних засобів, що рухаються за встановленими маршрутами.
3. Указує напрямок руху за смугами.

Дод. 1: 5.51

4 Який з вказаних знаків використовується для позначення місць і майданчиків для стоянки транспортних засобів?



1 2 3

Дод. 1: 5.38

5 Даний дорожній знак дозволяє рух автомобіля:



1. У напрямках А і В
2. У напрямках Б і В.
3. В усіх напрямках.

Дод. 1: 5.26


6 Чи дозволяється повернути у двір на даній ділянці дороги?



1. Забороняється.
2. Дозволяється.

Дод. 2: 1.2

7 Для чого застосовується даний дорожній знак?



1. Знак застосовується для зазначення того, що доріжка, на початку якої він встановлений, призначена для вершників.
2. За наявності даного знака вершник має право рухатися не тільки по доріжці для вершників, але й по всій ширині проїзної частини.
3. За наявності даного знака вершник має право рухатися тільки по доріжці для вершників або по узбіччю, маючи перевагу перед пішоходами.

Дод. 1: 4.15

8 Водій, наближаючись до перехрестя двох асфальтованих доріг, перед яким не установлені знаки пріоритету:

1. Має перевагу, бо наближається до перехрестя швидше інших транспортних засобів.
2. Має перевагу, тому що, водій транспортного засобу, що наближається ліворуч, повинен дати йому дорогу.
3. Має перевагу у будь-якому випадку перед усіма механічними транспортними засобами, які рухаються на перехрещуваній дорозі.

16.12

9 Подавання звукового сигналу в населених пунктах дозволяється:

1. Для запобігання дорожньо-транспортних пригод.
2. Під час руху в умовах недостатньої видимості.
3. Під час здійснення обгону.
4. В усіх перелічених випадках.

9.5

10 Забороняється навчання водінню транспортних засобів: Дайте повну відповідь.

1. На дорогах для автомобілів.
2. В житловій зоні і на автомагістралях.
3. На дорогах, зазначених у відповідях 1 і 2.
4. На дорогах із трамвайними коліями.
5. На всіх вищеперелічених дорогах.

24.9

11 На транспортному засобі з розпізнавальним знаком «Діти» під час посадки (висадки) до (з) нього пасажирів повинні бути увімкнені:

1. Проблискові маячки оранжевого кольору.
2. Аварійна світова сигналізація.
3. Протитуманні фари та задні протитуманні фари.
4. Прилади, вказані у відповідях 1 або 2.


21.3

12 Дайте повну відповідь. На автомагістралях забороняється:

1. Навчальна їзда.
2. Рух заднім ходом.
3. Випередження з правого боку.
4. Дії, зазначені у відповідях 1 і 2.
5. Дії, зазначені у відповідях 1, 2, 3.

27.2 «Г», «Д»


13 Рух заборонено:



1. Мотоциклу.
2. Автомобілю і трамваю.
3. Всім транспортним засобам.

8.8 «А»

14 На якій найменшій відстані перед залізничним переїздом забороняється обгін?



1. 200 м.
2. 150 м.
3. 100 м.
4. 50 м.

14.6 «Б»

15 Дайте повну відповідь. На проїзній частині забороняється встановлення предметів, що перешкоджають проїзду чи паркуванню транспортних засобів, за винятком випадків:

1. Обмеження або заборони руху транспортних засобів та пішоходів у випадках, передбачених законодавством.
2. Виконання дорожніх робіт або робіт, пов'язаних із зайняттям проїзної частини.
3. Оформлення дорожньо-транспортної пригоди.
4. У випадках, зазначених у відповідях 2 і 3.
5. У випадках, зазначених у відповідях 1, 2 і 3.

15.15

16 Автомобілі проїдуть перехрестя в наступному порядку:



1. Синій, червоний, зелений.
2. Червоний, зелений, синій.
3. Червоний, синій, зелений.

16.12

17 Які небезпечні наслідки можуть виникнути при гальмуванні автомобіля з різним зносом шин правих та лівих коліс?

1. Відшарування протектора.
2. Занос із можливим перекиданням автомобіля.
3. Перегрів гальмових механізмів.

ОБР

18 Чи дозволяється експлуатація автомобіля, у якого несправна система випускання відпрацьованих газів?

1. Не дозволяється.
2. Дозволяється тільки мотоциклів без бокового причепа.
3. Забороняється тільки при випусканні з глушителя великої кількості диму.

31.4.6 «В»


19 Яку інформацію закладено у даний дорожній знак?



1. Рух легкових автомобілів не рекомендується.
2. Рух легкових автомобілів і мотоциклів заборонено.
3. Кінець автомагістралі.
4. Кінець дороги для автомобілів.

Дод. 1: 5.4

20 В якому порядку проїдуть перехрестя транспортні засоби?



1. Жовтий, зелений, червоний, синій.
2. Червоний, зелений, синій, жовтий.
3. Червоний, синій, жовтий, зелений.

16.11; 16.13

1 Яким транспортним засобам дозволено рух?



1. Мотоциклу, легковому та вантажному автомобілям.
2. Легковому автомобілю й мотоциклу.
3. Легковому та вантажному автомобілям.

8.8 «Б»

2 Хто з перелічених осіб, згідно терміна «регулювальник», прирівнюються до осіб, які виконують регулювання дорожнього руху? Дайте повну відповідь.

1. Працівник міліції, що виконує регулювання дорожнього руху.
2. Чергові на залізничному переїзді, паромній переправі.
3. Робітники дорожньо-експлуатаційної служби.
4. Особи, вказані у відповідях 1, 2, 3.
5. Особи, вказані у відповідях 1 і 3.

1.10

3 Який з вказаних знаків інформує водіїв про перехід дороги з удосконаленим покриттям у гравійну чи ґрунтову дорогу?



- 1
- 2
- 3
- 4
- 5

Дод. 1: 1.40


4 Який дорожній знак попереджує про наближення до перехрестя рівнозначних доріг?



- 1
- 2
- 3
- 4
- 5

Дод. 1: 1.21


5 Чи дозволяється водію автобуса рухатися по смугі, позначеній даним дорожнім знаком, якщо ця смуга відокремлена суцільною жовтою лінією дорожньої розмітки?



1. Забороняється.
2. Дозволяється водієві тільки того автобуса, який рухається за встановленим маршрутом.
3. Дозволяється.

Дод. 1: 5.11; 17.1


6 Чи дозволяється перетинати переривчасту подвійну лінію дорожньої розмітки при ввімкненні сигналів зеленого кольору в реверсивних світлофорах?



1. Дозволяється, якщо вона знаходиться праворуч від водія.
2. Дозволяється перетинати з будь-якого боку, якщо вона поділяє смуги, по яких рух дозволено в одному напрямку.
3. Дозволяється, якщо вона знаходиться ліворуч від водія.

Дод. 2: 1.9

7 Водій вантажного автомобіля, дозволена максимальна маса якого перевищує 3,5 т, наближається до ділянки дороги, перед якою встановлено даний дорожній знак. Чи повинен водій на цьому спуску користуватися спеціальними гірськими гальмами, якщо вони встановлені на транспортному засобі підприємством-виробником?



1. Повинен у всіх випадках.
2. Повинен тільки на дорогах поза населеними пунктами.
3. Повинен тільки у темну пору доби.
4. Повинен обов'язково користуватися у випадках, зазначених у відповідях 2 і 3.

Дод. 1: 1.7

8 Дайте повну відповідь. Дорожня розмітка повинна бути видимою учасникам дорожнього руху:

1. Як у світлу, так і в темну пору доби на відстані, що забезпечує безпеку руху.
2. На засніжених або брудних ділянках доріг, на яких є труднощі для видимості, на відстані не менш як 100м.
3. На відстанях, вказаних у відповідях 1 і 2.

8.5¹

9 Яким чином повинен бути позначений буксирований механічний транспортний засіб при несправності аварійної світової сигналізації?

1. Сигнальними прапорцями.
2. Знаком аварійної зупинки, закріпленим на ньому ззаду, або миготливий червоний ліхтар.
3. Спереду — ліхтарями білого кольору, а ззаду — червоного кольору.

9.11 «А»; 19.4

10 За яких перелічених умов дозволяється навчальна їзда на автомобілі? Дайте повну відповідь.

1. Дозволяється тільки в присутності спеціаліста з підготовки водіїв при наявності розпізнавального знаку «Учбовий транспортний засіб».
2. Дозволяється тільки в присутності спеціаліста з підготовки водіїв і за достатніх початкових навичок водіння у того, хто навчається.
3. Дозволяється при відсутності спеціаліста з підготовки водіїв, але при наявності розпізнавального знаку «Учбовий транспортний засіб».
4. За умов, зазначених у відповідях 1, 2, 3.
5. За умов, зазначених у відповідях 1, 2.

24.5; 24.8

11 В яких з перелічених випадків заборонено буксирування?

1. Під час ожеледиці.
2. Автобусами.
3. У випадках, зазначених у відповідях 1 і 2.

23.10 «Д»

12 З якою максимальною швидкістю дозволяється здійснити обгін?

1. Зі швидкістю, яка перевищує швидкість транспортного засобу, який обганяють.
2. З будь-якою швидкістю, яка забезпечує безпеку дорожнього руху.
3. Зі швидкістю, яка не перевищує максимальну, встановлену для даної ділянки дороги Правилами дорожнього руху.

12.1

13 Дана дорожня розмітка позначає:



1. Острівці безпеки руху.
2. Острівці в місцях злиття транспортних потоків.
3. Острівці в місцях поділу транспортних потоків.
4. Острівці в місцях поділу або злиття транспортних потоків.

Дод.2:1.16.4


14 Даним розпізнавальним знаком позначаються транспортні засоби:



1. Керовані інвалідами.
2. Керовані особами, котрі навчаються водінню.
3. Керовані глухими або глухоніми водіями.

30.3 «Г»


15 Чи дозволяються зупинка і стоянка на мостах або в тунелях?



1. Забороняються у будь-якому випадку.
2. Забороняються, тільки якщо транспортний засіб, який зупинився, робить неможливим рух інших транспортних засобів.
3. Дозволяються.

15.9 «В»

16 Водій якого транспортного засобу має перевагу?



1. Велосипеда.
2. Легкового автомобіля.

16.11

17 Як впливає зношений протектор шин на коефіцієнт зчеплення колеса з дорогою?

1. Коефіцієнт зчеплення підвищується.
2. Коефіцієнт зчеплення не змінюється.
3. Коефіцієнт зчеплення зменшується.

ОБР

18 Які транспортні засоби обов'язково повинні мати дзеркала заднього виду?

1. Тільки маршрутні транспортні засоби.
2. Тільки механічні транспортні засоби.
3. Усі транспортні засоби, конструкція яких передбачає наявність дзеркал заднього виду.
4. Усі механічні транспортні засоби, конструкція яких передбачає наявність дзеркал заднього виду.

31.4.7 «А»


19 Дана табличка під дорожнім знаком «Місце для стоянки» інформує:

300 м

1. Про відстань від знака до місця стоянки.
2. Про протяжність майданчика, відведеного для стоянки.

Дод. 1: 7.1.1

20 При русі в освітленому тунелі чи повинні бути ввімкнені на транспортному засобі світові прилади?



1. Не повинні, тому що ввімкнено освітлення тунеля.
2. Повинні у будь-якому випадку.
3. Світові пристрої вмикаються на розсуд водія.

19.1

1 Що означає, за Правилами дорожнього руху, термін «зупинка»?

1. Тільки припинення руху транспортного засобу для посадки (висадки) пасажирів або завантаження (розвантаження) вантажу, а також для виконання вимог Правил.
2. Припинення руху транспортного засобу на час до 5 хвилин або більше, якщо це необхідно для посадки (висадки) пасажирів чи завантаження (розвантаження) вантажу, виконання вимог Правил.
3. Обидві відповіді доповнюють одна одну і тому правильні.

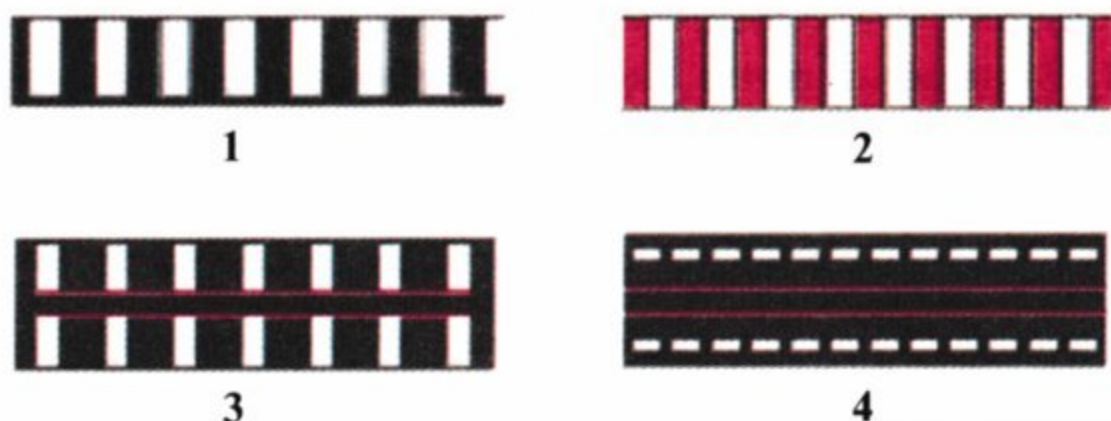
1.10

2 Чи може власник транспортного засобу, а також особа, яка використовує такий транспортний засіб на законних підставах, передавати керування транспортним засобом іншій особі?

1. Не може.
2. Може, якщо ця особа має при собі посвідчення водія на право керування транспортним засобом відповідної категорії, а також реєстраційний документ на цей транспортний засіб.
3. Може в будь-якому випадку.


2.2

3 Яка з перелічених розміток позначає місце переходу сліпих пішоходів на нерегульованому перехресті?



Дод.2:1.14.4

4 Який із даних дорожніх знаків установлюється безпосередньо перед небезпечною ділянкою дороги?



Дод. 1: 1.29

5 Чи дозволяється повернути праворуч на даному перехресті?



1. Забороняється. Дозволяється тільки водіям легкових автомобілів, що виконують невідкладне службове завдання.
2. Забороняється. Дозволяється тільки водіям маршрутних транспортних засобів.

3. Забороняється в будь-якому випадку.

Дод. 1: 4.5

6 Де водій повинен зупинити транспортний засіб за наявності даної дорожньої розмітки?



1. Не ближче 10 м перед даною розміткою.
2. Не ближче 5 м перед даною розміткою.
3. Перед даною розміткою.

Дод. 2: 1.13

7 Дайте повну відповідь. Відповідно до Правил дорожнього руху «Регулювальник» це:

1. Працівник міліції, що виконує регулювання дорожнього руху у форменому одязі підвищеної видимості з елементами із світлоповертального матеріалу за допомогою жезлу, свистка.
2. Працівник військової інспекції безпеки дорожнього руху.
3. Робітник дорожньо-експлуатаційної служби.
4. Черговий на залізничному переїзді, паромній переправі.
5. Всі перелічені працівники.

1.10

8 Як повинен учинити водій, якщо регулювальник на перехресті підняв руку вгору, а зупинити транспортний засіб у місці, передбаченому Правилами дорожнього руху, без екстреного гальмування неможливо?

1. Застосувати екстрене гальмування й зупинитися обов'язково у будь-якому місці.
2. Продовжити рух через перехрестя за умови забезпечення безпеки дорожнього руху.

8.11

9 Чи обов'язково проводити інструктаж дітей і осіб, які їх супроводжують, при перевезенні автобусом (мікроавтобусом) організованих груп дітей? Дайте повну відповідь.

1. Обов'язково проводити інструктаж щодо правил безпечної поведінки під час руху.
2. Обов'язково проводити інструктаж щодо дій у разі виникнення аварійно небезпечних ситуацій або здійснення дорожньо-транспортної події.
3. Обов'язково проводити інструктажі, перераховані у відповідях 1 і 2.

21.3

10 Розворот забороняється:

1. На проїзній частині з трамвайними коліями.
2. На проїзній частині з односмуговим рухом.
3. На пішохідних переходах.
4. В усіх перелічених місцях.

10.7 «Г»

11 Чи дозволяється знаходитися пасажирам у буксированому автомобілі під час буксирування?

1. Забороняється в усіх вантажних і легкових автомобілях.
2. Дозволяється тільки в легкових автомобілях.
3. Дозволяється в легкових автомобілях, які буксируються тільки на жорсткому зчепленні.

23.9

12 У разі виникнення небезпеки для руху або перешкоди, яку водій об'єктивно спроможний виявити, він повинен:

1. негайно вжити заходів для зменшення швидкості аж до зупинки транспортного засобу.
2. Уважніше поставитися до дорожньої обстановки, і тільки у випадку крайньої необхідності зменшити швидкість на 20 км/год.
3. Зменшити швидкість до 20 км/год.

12.3

13 Рух дозволено:



1. Усім транспортним засобам.
2. Трамваю, легковому автомобілю.
3. Легковому і вантажному автомобілям, мотоциклу.
4. Вантажному автомобілю і мотоциклу.

8.8 «А»

14 Чи позначається при буксируванні транспортних засобів сполучна ланка?

1. Позначається гнучке або жорстке зчеплення прапорцями або щитками, але тільки при буксируванні в населених пунктах.
2. Позначається тільки гнучке зчеплення прапорцями або щитками розміром 200 x 200 мм з нанесеними на них по діагоналі червоними і білими смугами, що чергуються, із світлоповертального матеріалу завширшки 50 мм (за винятком використання гнучкого зчеплення з покриттям із світлоповертального матеріалу)


30.5

15 Чи дозволяється стоянка транспортних засобів на тротуарі?

1. Дозволяється усім транспортним засобам на краю тротуару, що прилягає безпосередньо до проїзної частини, з повним або частковим заїздом на нього.
2. Дозволяється легковим автомобілям і мотоциклам на краю тротуару, де для руху пішоходів залишається щонайменше 2 м.
3. Забороняється.
4. Дозволяється вантажним автомобілям з дозволеною максимальною вагою до 3,5 т при оформленні документів на доставлений вантаж.

15.10 «В»

16 Червоний автомобіль проїде перехрестя:



1. Останнім.
2. Третім.
3. Другим.
4. Першим.


16.6; 16.7

17 Як слід виїжджати з глибокої колії в зимовий час на задньоприводному автомобілі?

1. Почати виїжджати з колії якнайшвидше, спочатку повернути рульове колесо в бік виїзду, а потім — у протилежний.
2. Виїжджати на невеликій швидкості, спочатку енергійно повернути рульове колесо в бік, протилежний виїздові, а потім — у бік виїзду.

ОБР

18 Чи дозволяється в даній обстановці водію червоного автомобіля продовжувати рух через пішохідний перехід?



1. Забороняється.
2. Дозволяється.


18.4

19 Сумарний люфт у рульовому керуванні автобуса з дозволеною максимальною масою понад 5 т не повинен перевищувати:

1. 10 градусів.
2. 15 градусів.
3. 20 градусів.
4. 25 градусів.
5. 30 градусів.

31.4.2 «А»

20 Транспортні засоби проїдуть перехрестя в наступному порядку:



1. Трамвай, автомобіль, мотоцикл.
2. Трамвай, мотоцикл, автомобіль.
3. Мотоцикл, автомобіль, трамвай.

16.11; 16.14

1 Даний дорожній знак використовується виключно:



1. В межах населених пунктів, початок яких позначений знаком 5.47 («Початок населеного пункту» на синьому фоні.) Означає обмеження максимально дозволеної швидкості до 60 км/год.
2. В межах населених пунктів, початок яких позначений знаком 5.45 («Початок населеного пункту» на білому фоні). Означає обмеження максимально дозволеної швидкості до 60 км/год.

Дод. 1: 5.63.1

2 З якого віку надається право на керування автомобілями з причепами або напівпричепами, а також тими, що призначені для перевезення великогабаритних, великовагових і небезпечних вантажів?

1. З 21-річного віку.
2. З 19-річного віку.
3. З 18-річного віку.

2.13

3 Наближаючись до регульованого залізничного переїзду, перед яким встановлено даний дорожній знак, водій нерейкового транспортного засобу повинен:



1. Зупинитися у будь-якому випадку.
2. Зменшити швидкість і у випадку відсутності поїзда продовжити рух через переїзд.
3. Продовжити рух без зменшення швидкості і зупинки, якщо водій зумів впевнитися у тому, що поїзд не наближається.

Дод. 1: 2.2; 20.2

4 Який з зазначених дорожніх знаків означає, що водій рухається по дорозі, на якій він має перевагу в русі?



Дод. 1: 1.22

5 В яких напрямках дозволено рух? (Напрямки А і В — в'їзди у двори).



1. Тільки Б.
2. Тільки А.
3. А, Б і В.
4. А і Б.
5. А, Б, В і Г.

Дод. 1: 4.1


6 Чи дозволяється здійснити обгін у даній обстановці?



1. Дозволяється, якщо транспортний засіб, який обганяють, рухається зі швидкістю менш як 10 км/год.
2. Дозволяється.
3. Дозволяється, якщо транспортний засіб, який обганяють, рухається зі швидкістю менш як 30 км/год.
4. Забороняється.

Дод. 2: 1.3; 14.6 «Е»

7 Даний дорожній знак:



1. Позначає кінець зони обмеження максимальної швидкості руху.
2. Позначає кінець зони з предписаною мінімальною швидкістю руху.
3. Позначає кінець зони з рекомендованою швидкістю руху.

Дод. 1: 3.32

8 У яких напрямках дозволено рух транспортних засобів? Дайте повну відповідь.



1. Трамваю ліворуч.
2. Автомобілю ліворуч.
3. Трамваю ліворуч або прямо.
4. Трамваю ліворуч, автомобілю ліворуч або у зворотному напрямку.
5. Трамваю ліворуч або прямо, автомобілю після трамвая.

8.8 «Б»

9 Яку максимальну кількість пасажирів дозволяється перевозити у кузові вантажного автомобіля?

1. В залежності від вантажопідйомності автомобіля — від 10 до 25 чоловік.
2. Кількість пасажирів не повинна перевищувати кількості обладнаних для сидіння місць.
3. На розсуд водія — в залежності від технічного стану автомобіля.
4. В залежності від умов, зазначених у відповідях 1 і 3.

21.7

10 Водій зеленого автомобіля при перестроюванні:



1. Має перевагу перед синім автомобілем, бо рухається по смугі, призначеній для обгону.
2. Зобов'язаний дати дорогу синьому автомобілю, що рухається попутно у прямому напрямку.
3. Має перевагу, бо увімкнув сигнал повороту.

10.3

- 11** На дорогах, проїзна частина яких поділена на смуги руху лініями дорожньої розмітки, рухатися, займаючи одночасно дві смуги:



1. Дозволяється у будь-якому випадку.
2. Забороняється.
3. Дозволяється тільки в світлий час доби.

11.10

- 12** З якою максимальною швидкістю дозволяється рух легкових автомобілів з причепом на ділянках доріг, позначених даним дорожнім знаком?



1	2	3	4	5
110 км/год	100 км/год	90 км/год	80 км/год	60 км/год

12.6 «А»

- 13** Як повинен учинити водій автобуса, якщо на смузі його руху є перешкода, а назустріч йому рухається вантажний автопоїзд?



1. Швидко об'їхати перешкоду і повернутися на свою смугу.
2. Дати дорогу автопоїзду.
3. Першим проїхати вузьку ділянку дороги, бо він перевозить пасажирів і тому має перевагу у русі.

4. Першим проїхати вузьку ділянку дороги повинен той водій, який першим наблизився до неї.


13.4

- 14** Рекомендується використовувати шини, що відповідають стану проїзної частини:

1. У випадках постійної експлуатації транспортного засобу на дорогах, на яких проїзна частина слизька.
2. У випадках постійної експлуатації транспортного засобу на гірських дорогах.
3. У випадках постійної експлуатації транспортного засобу на дорогах, на яких проводяться спортивні змагання.
4. У випадках, зазначених у відповідях 1,2,3.

31.4.5,
«Примітка»

- 15** Чи дозволяється зупинка в даному місці на проїзній частині з одностороннім рухом?



1. Забороняється.
2. Дозволяється.

15.3

- 16** Червоний автомобіль:


1. Повинен дати дорогу синьому автомобілю, що рухається по дорозі з круговим рухом.



2. Має перевагу в русі, бо наблизився до перехрестя рівнозначних доріг праворуч від синього автомобіля.

16.12

- 17** Водій автобуса, трактора і вантажного автомобіля з дозволеною максимальною масою понад 3,5 т на гірських дорогах і крутих спусках повинен:



1. Користуватися спеціальними гірськими гальмами, якщо вони установлені на транспортному засобі підприємством-виробником.
2. Гальмувати за допомогою стоянкового гальма.
3. Зменшити швидкість і ввімкнути понижену передачу.

4. Продовжити рух у звичайному режимі.

28.2 «А»

- 18** Чи дозволяється експлуатація автомобіля, якщо не працює звуковий сигнал?

1. Забороняється.
2. Дозволяється в населених пунктах.
3. Дозволяється у світлу пору доби.

31.4.7 «Б»

- 19** У яких з перелічених випадків можуть бути ввімкнені протитуманні фари?

1. Тільки при русі в колоні в умовах недостатньої видимості додатково до ближнього світла фар.
2. Тільки в умовах недостатньої видимості.
3. У випадках, зазначених у відповідях 1 і 2.

19.5; 9.8

- 20** Якщо головна дорога на перехресті змінює напрям, водії транспортних засобів, що рухаються по ній, повинні:

1. Керуватися між собою правилами проїзду перехрестя рівнозначних доріг.
2. Мати перевагу в русі перед усіма транспортними засобами, крім тих, які перевозять пасажирів.
3. Давати дорогу водіям тих транспортних засобів, які продовжують рух по головній дорозі.

16.14

1 За визначенням Правил дорожнього руху, «Автопоїзд» (транспортний состав)це :

1. З'єднання автомобіля (тягача) з одним причепом на жорсткому або гнучкому зчепленні.
2. З'єднання автомобіля тільки з одним причепом на жорсткому зчепленні .
3. Механічний транспортний засіб, що з'єднаний з одним або кількома причепами за допомогою зчпного пристрою.
4. Транспортні засоби, зазначені у відповідях 2 і 3.


1.10

2 На вимогу працівника міліції водій повинен зупинитися з дотриманням вимог цих Правил дорожнього руху, а також дати можливість перевірити:

1. Тільки технічний стан транспортного засобу.
2. Тільки номери агрегатів і комплектність транспортного засобу, або оглянути його відповідно до законодавства при наявності на те законних підстав.
3. Виконати дії, зазначені у відповідях 1 і (або) 2.

2.4 «Б»

3 Якому автомобілю дозволено рух при даному дорожньому знакові?




1. Тривісному вантажному автомобілю, фактична маса якого 12 т.
2. Двовісному вантажному автомобілю, фактична маса якого 10 т.


Дод. 1: 3.16

4 Чи розрізняються між собою вимоги даних табличок?

A



Б



1. Розрізняються лише тим, що зазначають різний спосіб поставлення будь-якого транспортного засобу на стоянку.
2. Розрізняються тим, що дія таблички А поширюється на всі транспортні засоби, а таблички Б — тільки на легкові автомобілі та мотоцикли.
3. Нічим не розрізняються, бо обидві називаються «Спосіб поставлення транспортного засобу на стоянку».

Дод. 1: 7.6.1, 7.6.2

5 Водії яких транспортних засобів порушили правила стоянки?



1. Б, В і Г.
2. А і Б.
3. Б і Г.
4. Тільки Г.

Дод. 1: 7.6.2


6 В яких з перелічених випадків дозволяється перетинати суцільну лінію дорожньої розмітки, яка поділяє транспортні потоки протилежних напрямків?



1. Для виконання обгону на дорогах з двостороннім рухом, що мають по одній смозі для руху в кожному напрямку.
2. Для обїзду нерухокої перешкоди, розміри якої не дають змогу здійснити її безпечний обїзд, не перетинаючи цю лінію.
3. У випадках, зазначених у відповідях 1 і 2.

Дод. 2: 1.1

7 Даний дорожній знак попереджує,що:





1. Поворот праворуч заборонено всім транспортним засобам.
2. Знак попереджує про закруглення дороги з обмеженою оглядовістю праворуч.
3. Знак не рекомендує повертати праворуч.
4. Праворуч дозволяється рух тільки маршрутних транспортних засобів.
5. Інформація, закладена у відповідях 1 і 4.

Дод. 1: 1.1

8 Дайте повну відповідь: у яких напрямках дозволяється рух при даному сигналі світлофора?



1.  При повороті направо надати перевагу в русі іншим його учасникам.
2. 
3. 

8.7.3 «А», «Б»

9 Чи зобов'язаний водій подавати попереджувальний сигнал перед перестроюванням?



1. В усіх випадках необхідно завчасно до початку маневру, але не менш як за 50—100 м у населених пунктах і за 150—200 м поза ними.
2. Тільки в населеному пункті, якщо поза нього рухається інший транспортний засіб.


9.2 «Б»; 9.4

10 Які з перелічених дій водію заборонені згідно з вимогами Правил дорожнього руху?

1. Вмикати аварійну світлову сигналізацію у разі зупинки на вимогу працівника міліції або внаслідок засліплення світлом фар.
2. Вмикати ближнє світло фар при русі в колоні.
3. Різко гальмувати, крім випадків, коли без цього неможливо запобігти дорожньо-транспортній пригоді.
4. Усі перелічені дії водію заборонені.

9.8 «А»; 9.9 «Б»; 12.9 «Г»

11 Хто з водіїв порушує правила зупинки, якщо водій вантажного автомобіля зупинився для завантаження вантажу, а водій автобуса зупинився для відпочинку?



1. Обидва порушують.
2. Обидва не порушують.
3. Водій вантажного автомобіля.
4. Водій автобуса.


11.6;
15.9 «И»

12 Чи дозволено зупинку на автомагістралях і дорогах для автомобілів?

1. Дозволено, якщо є три смуги для руху в одному напрямку.
2. Дозволено на спеціальних майданчиках для стоянки, позначених дорожніми знаками «Місце для стоянки» або «Місце відпочинку».
3. Дозволено в місцях, де автомагістраль або дорога для автомобілів добре проглядається.
4. Заборонено.

27.2 «В»

13 У якій відповіді названо транспортні засоби, яким заборонено рух?



1. Легковому й вантажному автомобілям.
2. Автобусу, мотоциклу й вантажному автомобілю.
3. Тільки мотоциклу.
4. Тільки вантажному автомобілю.
5. Легковому автомобілю.

8.8 «А»


14 У чому, за Правилами дорожнього руху, повинен упевнитися водій, перш ніж почати обгін автопоїзда?



1. У тому, що ділянка дороги, на яку він має намір виїхати, вільна на відстані 200 м.
2. У тому, що водій транспортного засобу, який рухається попереду по тій самій смузі, не подав сигналу про намір повороту (перестроювання) ліворуч.

14.2 «Б»


15 Чи дозволяється стоянка автомобіля в даному місці?



1. Забороняється.
2. Дозволяється.

15.3

16 Зазначте черговість проїзду перехрестя:



1. Автобус і гужовий віз, вантажний автомобіль.
2. Автобус, вантажний автомобіль, гужовий віз.

16.12

17 По дорозі рухається автомобіль, водій якого ввімкнув покажчик повороту ліворуч і довгий час його не вимикає. Як повинен вчинити водій, який рухається за ним?

1. Обігнати автомобіль, що рухається попереду.
2. Не змінювати режим свого руху.
3. Не обганяти автомобіль, що рухається попереду. За наявності безпечної можливості — випередити його з правого боку.

ОБР

18 В якому з перелічених випадків водій зобов'язаний зменшити швидкість або зупинитися перед пішохідним переходом?

1. Тільки в населених пунктах.
2. Тільки перед регульованими пішохідними переходами.
3. Перед будь-якими пішохідними переходами, щоб дати дорогу пішоходам, для яких може бути створено перешкоди або небезпеку.


18.1; 18.2

19 За яких з перелічених умов забороняється експлуатація транспортних засобів? Дайте повну відповідь.

1. Шини за розміром або допустимим навантаженням не відповідають моделі транспортного засобу.
2. Не горить задній протитуманний ліхтар.
3. За умов, зазначених у відповідях 1 і 2.

31.4.5 «В»

20 Ви на зеленому автомобілі:



1. Повинні дати дорогу.
2. Маєте перевагу в русі.

16.12

1 «Безпечний інтервал» — це відстань:

1. Між боковими частинами транспортних засобів, що рухаються, або між ними та іншими об'єктами, при якій гарантована безпека дорожнього руху.
2. До транспортного засобу, що рухається попереду, при якій гарантована безпека дорожнього руху.

1.10

2 Чи дозволяється рух пішоходів по дорозі, позначеній знаком «Автомагістраль»? Дайте повну відповідь.

1. Дозволяється йти тільки поза населеними пунктами назустріч рухові транспортних засобів.
2. Забороняється, за виключенням пішохідних доріжок, місць для стоянки та відпочинку.
3. Дозволяється йти поза населеними пунктами за ходом руху транспортних засобів.

4.14 «Д»; 27.4

3 Даний дорожній знак:



1. Позначає зону за довжиною для розвороту транспортних засобів. Поворот ліворуч забороняється.
2. Дозволяє рух транспортних засобів тільки у зазначеному стрілками напрямку.
3. Позначає закруглення дороги з обмеженою видимістю.

Дод. 1: 5.27

4 Який дорожній знак називається «Виїзд велосипедистів»?



Дод. 1: 1.34

5 Чи дозволяється водію вантажного автомобіля з дозволеною максимальною масою понад 3,5 т обганяти автомобілі, що рухаються попереду зі швидкістю меншою ніж 30 км/год, в зоні дії даного дорожнього знака?



1. Забороняється.
2. Дозволяється.

Дод. 1: 3.27


6 Дана дорожня розмітка має наступне призначення:



1. Позначення місць, де заборонено зупинку механічних транспортних засобів.
2. Позначення зупинок маршрутних транспортних засобів і таксі.
3. Позначення стоянкових місць, де вказано способи поставлення механічних транспортних засобів на стоянку біля тротуару.

Дод. 2: 1.17

7 Даний дорожній знак позначає, що:



1. Попереду ділянка дороги, по якій дозволяється рух тільки пішоходів.
2. Попереду ділянка дороги, по якій забороняється вести велосипед або мопед.
3. Попереду ділянка дороги, по якій заборонено рух пішоходів.
4. Інформація, закладена у відповідях 1 і 2.

Дод. 1: 4.13

8 Тимчасові дорожні знаки:

1. Мають перевагу тільки перед постійними дорожніми знаками.
2. Мають перевагу тільки перед дорожньою розміткою.
3. Мають перевагу тільки на три години з моменту їх установки.
4. Не мають переваг.
5. Мають переваги перед постійними дорожніми знаками і дорожньою розміткою.

8.2

9 Що повинен зробити водій при вимушеній зупинці поза населеним пунктом з обмеженою оглядовістю дороги менше 100 м?

1. Увімкнути тільки ближнє світло фар або протитуманні фари.
2. Увімкнути тільки аварійну світлову сигналізацію.
3. Установити тільки знак аварійної зупинки або червоний миготливий ліхтар на відстані не ближче 40 м.
4. Виконати дії, зазначені у відповідях 2 і 3.

9.9 «А»; 9.10 «Б»

10 Розворот забороняється:

1. На естакадах.
2. На проїзній частині з трамвайними коліями.
3. В усіх перелічених місцях.

10.7 «Б»

11 Які транспортні засоби повинні рухатися тільки якнайближче до правого краю проїзної частини, крім випадків, передбачених Правилами дорожнього руху?

1. Тільки вантажні автомобілі з дозволеною максимальною масою понад 3,5 т.
2. Тільки транспортні засоби, швидкість руху яких не повинна перевищувати 40 км/год.
3. Тільки транспортні засоби, які за технічними причинами не можуть розвивати швидкість 40 км/год.
4. Транспортні засоби, зазначені у відповідях 1, 2, 3.
5. Транспортні засоби, зазначені у відповідях 2 і 3.

11.7

12 З якою швидкістю дозволяється рух на легковому автомобілі по засніженій дорозі за умови, що на ньому встановлені «зимові» шини?

1. 30 км/год в населеному пункті.
2. Зі швидкістю, яка забезпечує безпеку руху.
3. 80 км/год поза населеним пунктом.
4. Зі швидкістю, зазначеною у відповідях 1 і 2.

12.1; ОБР


13 Рух дозволено:



1. Мотоциклу.
2. Автомобілю і мотоциклу.
3. Усім транспортним засобам.

8.8 «А»

14 Чи дозволяється водію червоного автомобіля виконати обгін у даній ситуації?



1. Дозволяється за умови, що швидкість того, кого обганяють, менше 30 км/год.
2. Дозволяється.
3. Забороняється.


14.6 «А»

15 Чи в усіх перелічених місцях заборонено зупинку?

1. На дорогах із трамвайними коліями.
2. На майданах.
3. Ближче ніж за 15 м від краю перехрещуваної проїзної частини.
4. На залізничних переїздах.
5. В усіх перелічених місцях.

15.10 «А»


16 Водій якого транспортного засобу має перевагу в русі?



1. Водій трамвая.
2. Водій автомобіля.

16.7

17 Під час руху водії яких транспортних засобів порушують Правила дорожнього руху?



1. Ніхто не порушує.
2. Усі порушують.
3. Водії легкових автомобілів.
4. Водії туристичного автобуса і вантажного автомобіля.

17.1;
Дод. 1: 5.8

18 За яких умов, за Правилами дорожнього руху, забороняється експлуатація транспортних засобів?

1. Збільшений шум розподільних шестерень.
2. Установлено на скло додаткові предмети або нанесено покриття, які обмежують оглядовість з місця водія і погіршують його прозорість.
3. Стукає амортизатор підвіски.

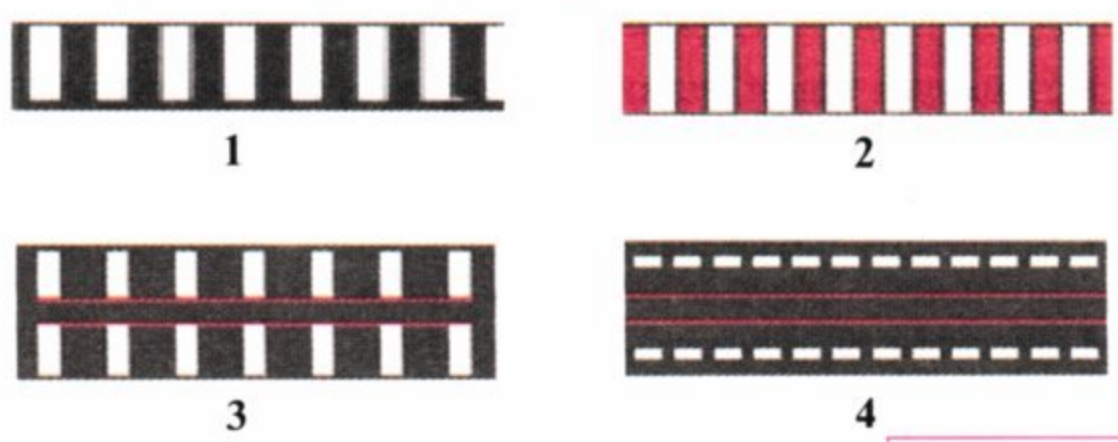
31.4.7 «В»

19 Фарою-прожектором дозволяється користуватися:

1. У темну пору доби на всіх ділянках доріг.
2. У будь-яких місцях, якщо в цьому є необхідність.
3. Тільки в умовах недостатньої видимості.
4. Тільки водіям оперативних транспортних засобів під час виконання службових завдань з ужиттям заходів для того, щоб не засліплювати інших учасників дорожнього руху.
5. В усіх перелічених випадках.

19.6

20 Яка з перелічених розміток позначає пішохідний перехід з підвищеною вірогідністю виникнення дорожньо-транспортних пригод?



Дод. 2:1.14.3

1 «Безпечна дистанція» — це відстань:

1. Між боковими частинами транспортних засобів, що рухаються, при якій гарантована безпека дорожнього руху.
2. До транспортного засобу, що рухається попереду по тій же смужі, яка, у разі його раптового гальмування або зупинки, дасть можливість водію транспортного засобу, що рухається позаду, запобігти зіткненню без здійснення будь-якого маневру.
3. До транспортного засобу, що рухається попереду, яка дорівнює 30 — 50 м.

1.10

2 Чи повинен пасажир транспортного засобу, причетний до пригоди, перебувати на місці до прибуття працівників міліції?

1. Повинен.
2. На розсуд пасажирів, залежно від конкретних обставин.
3. Не повинен, якщо він надав допомогу потерпілим.
4. Не повинен, якщо він повідомив про пригоду органи міліції.

5.4

3 Яку інформацію закладено у даний дорожній знак?



1. Кінець автомагістралі.
2. На ділянці дороги за знаком рух автопоїздів заборонено.
3. На ділянці дороги за знаком забороняється рух усіх транспортних засобів.

Дод. 1: 5.2

4 Чи дозволяється водію легкового таксі доставити громадянина, який працює у зоні дії даного дорожнього знака з табличкою?



1. Дозволяється в усі дні тижня цілодобово.
2. Дозволяється тільки у суботні, недільні і святкові дні.
3. Дозволяється тільки у неробочі дні тижня.
4. Забороняється у неробочі дні тижня з 8.00 до 20.00.

Дод. 1: 3.2, 7.4.1

5 Водій мопеда наближається до ділянки дороги, перед якою встановлено даний дорожній знак. Чи дозволяється йому рух на даній ділянці?



1. Забороняється у будь-якому випадку.
2. Дозволяється, якщо водій обслуговує підприємство, яке розташоване у позначеній зоні.
3. Дозволяється, якщо водію від 16 до 18 років.
4. Дозволяється, якщо водій має посвідчення на право керування транспортним засобом.
5. Дозволяється, якщо виконані вимоги, викладені у відповідях 3 і 4.

Дод. 1: 3.7

6 Чи дозволяється висадка пасажирів у місці, де по верху бордюру тротуару нанесено суцільну жовту лінію в поєднанні зі знаком «Зупинку заборонено»?



1. Дозволяється тільки маршрутним транспортним засобам.
2. Дозволяється за відсутності маршрутних транспортних засобів.
3. Дозволяється.
4. Забороняється.


Дод. 2: 1.4

7 Де починається і де закінчується у населеному пункті зона дії дорожнього знака «Обгін заборонено»? Дайте повну відповідь.

1. Від місця установки до найближчого перехрестя за ним.
2. Від місця установки до знака «Кінець заборони обгону».
3. Зона дії знака починається і закінчується у місцях, зазначених у відповідях 1, 2.

Дод. 1: 3.25, 3.26

8 В яких напрямках дозволено рух при даному сигналі світлофора?



1. Прямо і праворуч.
2. В усіх напрямках.
3. Тільки ліворуч.
4. Ліворуч і на розворот.

8.7.3 «Б»

9 Чи дозволяється перевозити дітей, які не досягли 12-річного віку, на передньому сидінні легкового автомобіля?

1. Забороняється.
2. Дозволяється.
3. Дозволяється тільки у спеціальному дитячому сидінні.

21.11 «Б»

10 На дорогах для автомобілів навчання водінню транспортних засобів:

1. Дозволяється при неінтенсивному русі.
2. Дозволяється при неінтенсивному русі з 8.00 до 17.00.
3. Дозволяється з 8.00 до 17.00.
4. Забороняється.

24.9

11 Скільки легкових автомобілів одночасно можна буксирувати легковим автомобілем?

1. Тільки один автомобіль.
2. Один автомобіль або один автомобіль з причепом.
3. Буксирування легковим автомобілем заборонено.


23.1;
23.10 «Г»

12 Дайте повну відповідь.
У разі вимушеної зупинки на проїзній частині автомагістралі водій повинен:

1. Увімкнути аварійну світлову сигналізацію.
2. Установити знак аварійної зупинки або миготливий червоний ліхтар.
3. Виконати дії, зазначені у відповідях 1 або 2.

27.5

13 У якій відповіді названо транспортні засоби, яким дозволено рух?



1. Легковий автомобіль.
2. Вантажний автомобіль.
3. Мотоцикл.
4. Легковий і вантажний автомобілі.
5. Автобус.

8.8 «А»

14 Даним розпізнавальним знаком позначається транспортний засіб:



1. Той, що перевозить небезпечні вантажі.
2. Той, що перевозить великогабові і великогабаритні вантажі.
3. Той, на якому проводиться навчання водінню транспортних засобів у навчальних закладах.


30.3 «Д»

15 Дайте повну відповідь.
Стоянка забороняється:

1. На газонах.
2. Ближче 5 метрів від контейнерних майданчиків та(або) контейнерів для побутових відходів, місце розміщення або облаштування яких відповідає вимогам законодавства.
3. В місцях, зазначених у відповідях 1 і 2.

15.10 «Е»;
15.10 «Є»

16 Останнім проїде перехрестя:



1. Червоний автомобіль.
2. Зелений автомобіль.
3. Синій автомобіль.

16.12

17 Який автомобіль стійкіший до перекидання?

1. Завантажений вантажний автомобіль.
2. Незавантажений вантажний автомобіль.

ОБР

18 За якої несправності забороняється подальший рух транспортних засобів?

1. Не працюють у встановленому режимі або забруднені зовнішні світлові прилади або світлоповертачі.
2. Не працює склоочисник з боку розміщення керма під час дощу або снігопаду.
3. Не працюють передбачені конструкцією транспортних засобів склообмивачі.


31.6

19 Які транспортні засоби забороняється експлуатувати, якщо в них відсутня медична аптечка?
Дайте повну відповідь.

1. Автобуси.
2. Вантажні автомобілі та колісні трактори.
3. Легкові автомобілі.
4. Усі перелічені транспортні засоби.

31.4.7 «Є»

20 Повертаючи ліворуч або розвертаючись на нерегульованому перехресті, водій нерейкового транспортного засобу повинен дати дорогу:



1. Тільки трамваю попутного напрямку.
2. Тільки транспортним засобам, що рухаються по рівнозначній дорозі у зустрічному напрямку прямо або праворуч.
3. Транспортним засобам, зазначеним у відповідях 1 і 2.

16.13

1 Чи дозволяється експлуатація транспортного засобу, який переобладнано на інший вид палива?

1. Дозволяється, за виключенням транспортних засобів, які належать індивідуальним власникам.
2. Забороняється, якщо таке переобладнання не узгоджено з ДАІ.
3. Дозволяється, якщо рівень димності у відпрацьованих газах не перевищує встановленої норми.

32.1 «Є»;
31.3 «А»

2 Чи дозволяється водію легкового автомобіля рухатися по суміжній смузі з колоною, яку супроводжують транспортні засоби з увімкненими проблісковими маячками?

1. Забороняється рух зі швидкістю колони тільки тоді, коли увімкнені пробліскові маячки синього і червоного кольору.
2. Забороняється рух зі швидкістю колони тільки тоді, коли увімкнені пробліскові маячки червоного кольору.
3. Забороняється рух зі швидкістю колони тільки тоді, коли увімкнені пробліскові маячки оранжевого кольору.
4. Дозволяється рух зі швидкістю, яка не перевищує швидкість колони.
5. Забороняється у випадках, зазначених у відповідях 1 і 2.

3.4

3 Водій наближається поза населеним пунктом до ділянки дороги, перед якою встановлено даний дорожній знак. Яку інформацію закладено у даний дорожній знак?



1. Через 150 — 300 м залізничний переїзд.
2. Через 150 — 300 м розвідний міст.
3. Попереду перехрестя, пішохідний перехід або ділянка дороги, рух на якій регулюється світлофором.
4. Інформація, закладена у відповідях 1 і 2.
5. Інформація, закладена у відповідях 1, 2 і 3.

Дод. 1: 1.24

4 Який з даних дорожніх знаків встановлюється на початку дороги з реверсивним рухом?



1



2



3




4



5

Дод. 1: 5.13

5 Водій якого транспортного засобу повинен дати дорогу?



1. Водій автобуса.
2. Водій трактора.

Дод. 1: 2.6

6 Чи дозволяється перетинати для зупинки жовту суцільну лінію дорожньої розмітки, нанесену біля краю проїзної частини за знаком «Зупинку заборонено»?

1. Дозволяється тільки водіям маршрутних транспортних засобів.
2. Дозволяється тільки водіям таксі, що здійснюють посадку або висадку пасажирів (навантаження або розвантаження вантажу).
3. Дозволяється всім водіям для посадки або висадки пасажирів.
4. Дозволяється водіям у випадках, зазначених у відповідях 1 і 2.
5. Дозволяється водіям у випадках, зазначених у відповідях 1, 2, 3.

Дод. 2: 1.4

7 Даний дорожній знак:



1. Дозволяє рух тільки легкових автомобілів і маршрутних транспортних засобів.
2. Дозволяє рух тільки легкових автомобілів.
3. Дозволяє рух тільки легкових автомобілів, автобусів, мотоциклів, маршрутних транспортних засобів і вантажних автомобілів, дозволена максимальна маса яких не перевищує 3,5 т.

Дод. 1: 4.11

8 З якою максимальною швидкістю дозволено рух колони транспортних засобів?

1. Поза населеними пунктами — 60 км/год.
2. У населених пунктах — 40 км/год.
3. Швидкість руху встановлюється тільки за режимом руху головної машини, але не більш як 40 км/год у населених пунктах і 60 км/год поза ними.
4. Швидкість руху та дистанція між транспортними засобами встановлюються старшим колони або за режимом руху головної машини відповідно до вимог Правил.

25.3

9 При перевезенні пасажирів водіям маршрутних транспортних засобів забороняється:

1. Перевозити пасажирів і вантаж у кабіні, якщо вона відокремлена від салону.
2. Їсти, пити, палити.
3. Забороняються всі вищеперелічені дії.

21.2

10 На дорозі з двостороннім рухом є три смуги для руху в кожному напрямку. З якої смуги слід виконувати поворот ліворуч?

1. Тільки з третьої смуги.
2. З будь-якої смуги, якщо проїзна частина вільна від транспортних засобів.
3. Тільки з другої або третьої смуги, якщо це дозволено дорожніми знаками або дорожньою розміткою.
4. Поворот слід виконувати зі смуг, зазначених у відповідях 1 і 3.

10.4

11 Коли транспортний засіб повинен рухатися крайньою правою смугою?

1. Коли транспортний засіб з технічних причин не може перевищувати швидкість 40 км/год.
2. При перевезенні великовагових і великогабаритних вантажів.
3. Якщо під час руху ослабло кріплення вантажу.
4. Якщо водій відчув хворобливий стан.

11.7

12 У разі вимушеної зупинки на проїзній частині автомагістралі або дороги для автомобілів водій повинен позначити транспортний засіб таким чином:

1. Увімкнути тільки аварійну світлову сигналізацію.
2. Увімкнути фари дальнього світла та фару-прожектор
3. Тільки ужити заходів для того, щоб прибрати транспортний засіб за межі проїзної частини праворуч.
4. Виконати дії, зазначені у відповідях 1 та 3.


27.5

13 Як повинен вчинити водій, якщо на вузькій ділянці дороги назустріч йому рухається інший транспортний засіб?

1. Водій, який підїхав до вузької ділянки першим, повинен прийняти правіше і дати дорогу зустрічному.
2. Водій, який підїхав до вузької ділянки першим, повинен проїхати першим.
3. Водій, на смузі руху якого є перешкода, повинен дати дорогу.

13.4

14 За спеціальними правилами здійснюється рух транспортних засобів і їх складів, якщо їх габарит за висотою від поверхні дороги перевищує:



1. 3 м, а для контейнеровозів на встановлених маршрутах — 4 м.
2. 3,5 м, а для контейнеровозів на встановлених маршрутах — 4,5 м.
3. 4 м, а для контейнеровозів на встановлених маршрутах — 4,35 м.

22.5

15 Чи дозволяються зупинка і стоянка напроти зупинки маршрутних транспортних засобів?

1. Забороняються, якщо буде неможливим зустрічний розїзд або обїзд транспортного засобу, що зупинився.
2. Дозволяються тільки легковим автомобілям.
3. Дозволяються тільки у світлу пору доби.

15.9 «Ж»

16 Повертаючи праворуч, чи повинен водій автомобіля дати дорогу велосипедисту?



1. Не повинен, бо за ним може утворитися затор.
2. Не повинен, бо механічний транспортний засіб має перевагу.
3. Повинен.

16.2

17 У дощову погоду слід дотримуватись дистанції:

1. Більшої за звичайну.
2. Меншої за звичайну.
3. Звичайної, але вести транспортний засіб слід з підвищеною увагою.

ОБР

18 Наближаючись до автобуса з розпізнавальним знаком «Діти», що зупинився з увімкненою аварійною світловою сигналізацією, водій легкового автомобіля повинен:



1. Зменшити швидкість, а в разі потреби зупинитися, щоб уникнути наїзду на дітей.
2. Подати звуковий сигнал та обїхати автобус.
3. Швидко проїхати дану ділянку, підвищив увагу.

18.9

19 Залишкова висота малюнка протектора шин легкового автомобіля повинна бути не менше ніж:

1	2	3	4	5
0,8 мм	1,0 мм	1,6 мм	2,0 мм	2,5 мм

31.4.5 «А»

20 Чи дозволяється обїжджати транспортні засоби, що стоять перед закритим шлагбаумом?

1. Дозволяється тільки мотоциклам без бокового причепа.
2. Дозволяється, якщо немає зустрічних транспортних засобів.
3. Забороняється.
4. Забороняється, якщо швидкість обїжджаючого транспортного засобу менша від 8 км/год.

20.7

1 Чи дозволяється без попереднього погодження з Державтоінспекцією внесення змін у номерні таблички кузова чи шасі (рамі) та двигуна транспортного засобу?

1. Дозволяється в умовах спеціалізованих підприємств, які займаються ремонтом і технічним обслуговуванням транспортних засобів.
2. Забороняється.
3. Дозволяється тільки на транспортних засобах, які пошкоджені у дорожньо-транспортних пригодах.

32.2

2 З якого боку повинен вийти пасажир з автомобіля, якщо автомобіль зупинений біля лівого краю дороги?

1. З правого боку.
2. З лівого або правого боку.
3. З боку посадкового майданчика, а у випадку його відсутності, — з боку тротуара або узбіччя.

5.1

3 Даний дорожній знак попереджає, що:



1. Попереду місце перехрещення рівнозначних доріг.
2. Попереду перехрестя, на якому дорога має продовження ліворуч і праворуч.
3. Попереду перехрестя, на якому рух дозволяється тільки прямо.
4. Попереду перехрестя, на якому водій має перевагу перед водіями транспортних засобів, що наближаються по перехрещуваній дорозі.

Дод. 1: 1.22

4 Який дорожній знак забороняє проїзд без обов'язкової зупинки?






Дод. 1: 3.40

5 Згідно з Правилами дорожнього руху, водій синього автомобіля повинен:



1. Не очікуючи дозвольного сигналу світлофора, продовжити рух, виконуючи вимогу знака «Дати дорогу».
2. Дочекатися дозвольного сигналу світлофора і після цього продовжити рух.

Дод. 1: 2.1


6 Що позначає дана дорожня розмітка?



1. Місце, де велосипедна доріжка перетинає проїзну частину.
2. Місце перегону худоби.
3. Пішохідний перехід.

Дод. 2: 1.15

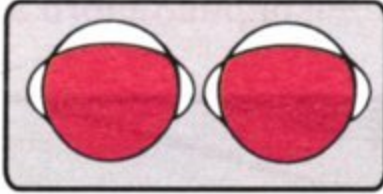
7 Даний дорожній знак позначає, що:



1. Дія знака поширюється на перехрещення проїзних частин, перед якими його встановлено.
2. Дія знака не поширюється на транспортні засоби, що рухаються за встановленими маршрутами.
3. Знак застосовується для дозволу руху транспортних засобів тільки праворуч на найближчому перехрещенні проїзних частин.
4. Дія знака не поширюється на мотоцикли, мопеди, велосипеди.
5. Інформація, закладена у відповідях 1, 2 і 3.

Дод. 1: 4.2

8 Даний світлофор застосовується для регулювання руху:



1. Через залізничні переїзди.
2. Трамваїв і тролейбусів.
3. Пішоходів.
4. В усіх випадках, перелічених у відповідях 1, 2 і 3.

8.7.6

9 Чи забороняється подача звукового сигналу?

1. Забороняється на усіх дорогах без потреби.
2. Забороняється подавати звукові сигнали у населених пунктах, крім випадків, коли без цього неможливо запобігти дорожньо-транспортній пригоді.
3. Забороняється на дорозі, яка проходить в населеному пункті, позначеному знаком «Початок населеного пункту» на синьому фоні.

9.5

10 На якому малюнку водій повертає правильно?



1. На правому малюнку.
2. На лівому малюнку.

8.8 «Б»

11 Чи дозволяється перевозити пасажирів при буксируванні на гнучкому або жорсткому зчепленні в буксированому механічному транспортному засобі?

1. Забороняється.
2. Дозволяється в легковому і вантажному автомобілях.
3. Дозволяється тільки в легковому автомобілі.
4. Дозволяється в автобусі і тролейбусі.
5. Дозволяється в кабіні вантажного автомобіля і в легковому автомобілі.

23.9

12 У яких місцях дозволено навмисну зупинку транспортних засобів на автомагістралях?

1. На спеціальних майданчиках для стоянки, позначених дорожніми знаками «Місце для стоянки» або «Місце відпочинку».
2. На крайній правій смугі проїзної частини дороги.
3. У місцях, де видимість більша ніж 300 м і кількість смуг руху більша чотирьох.

27.2 «В»

13 Щоб запобігти наїзду на транспортний засіб, який рухається попереду, водій повинен:

1. Тримати ногу на педалі гальмування і бути готовим до негайної зупинки.
2. Обігнати транспортний засіб, що рухається попереду.
3. Дотримувати безпечної дистанції.
4. Виконати дії, зазначені у відповідях 1, 2, 3.

13.1

14 Чи дозволяється обгін транспортних засобів на перехресті на дорозі, що є головною відносно до перехрещуваної?

1. Дозволяється.
2. Забороняється.


14.6 «А»

15 Зупинити транспортний засіб дозволяється від тротуару (краю проїзної частини) на відстані:

1. Не більш як 0,3 м.
2. Не більш як 0,5 м.
3. Відстань не має значення.
4. Біля правого краю проїзної частини.

15.2


16 Другим проїде перехрестя:



1. Червоний автомобіль.
2. Зелений автомобіль.
3. Синій автомобіль.

16.12

17 Що повинен робити водій автомобіля для припинення заносу, який розпочався, задньої осі задньоприводного автомобіля?



1. Повернути рульове колесо у бік заносу, який розпочався.
2. Повернути рульове колесо у бік, проти лежний заносові.

ОБР

18 За яких умов, за Правилами дорожнього руху, забороняється подальший рух транспортних засобів навіть до місця ремонту?

1. Компресор не забезпечує встановленого тиску в системі пневматичного привода гальм.
2. Підтікає рідина з системи гідравлічного привода гальм.
3. Робоча гальмова система не дає змоги водієві зупинити транспортний засіб під час руху з мінімальною швидкістю.
4. За всіх зазначених умов.

31.6

19 При русі в тунелях Правила дорожнього руху зобов'язують водія механічного транспортного засобу:

1. Рухатися зі швидкістю не більш як 40 км/год.
2. Подавати звуковий сигнал.
3. Увімкнути ближнє (дальнє) світло фар.
4. Увімкнути аварійну світлову сигналізацію.

19.1

20 Чи має водій мотоцикла перевагу в русі перед водієм трамвая?



1. Не має.
2. Має.

16.11; 16.14

1 На якій відстані від оперативних транспортних засобів повинні рухатися водії звичайних транспортних засобів?



1. На звичайній відстані, дотримуючись безпечної дистанції і інтервалу.
2. Дистанція повинна бути не менше як 30 м, а інтервал не менше як 5 м.
3. Дистанція повинна бути не менше як 40 м, а інтервал не менше як 1 м.

1.10


2 Жовтий автомобіль проїде перехрестя:



1. Першим.
2. Другим.
3. Третім.
4. Останнім.

3.2; 16.11


3 Яку інформацію закладено у даний дорожній знак з табличкою?



1. Попереду ділянка дороги, на якій є крутий спуск.
2. Попереду перехрестя, перед яким встановлено дорожній знак «Прізд без зупинки заборонено».
3. Попереду вузька ділянка дороги, на якій зустрічний рух утруднено.
4. Попереду ділянка дороги, небезпечна для руху.
5. Інформація, закладена у відповідях 3 і 4.

Дод. 1: 2.2

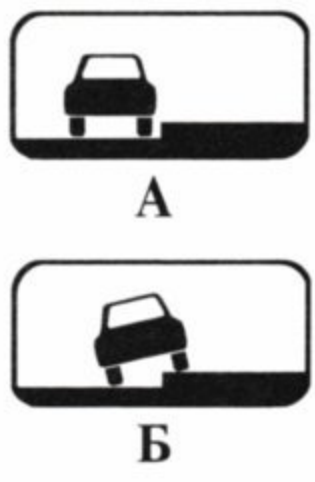
4 За скільки метрів до залізничного переїзду встановлюються дані дорожні знаки?



1. Не менше ніж за 100 метрів.
2. Не менше ніж за 50 метрів.
3. Не менше ніж за 25 метрів.
4. Знаки встановлюються безпосередньо біля першої рейки.

Дод. 1: 1.31.3, 1.31.6

5 Чи розрізняються між собою вимоги даних табличок?



1. Розрізняються лише тим, що зазначають різний спосіб поставлення будь-якого транспортного засобу на стоянку.
2. Розрізняються тим, що дія таблички поширюється на всі транспортні засоби, а таблички Б — тільки на легкові автомобілі та мотоцикли.
3. Нічим не розрізняються, бо обидві називаються «Спосіб поставлення транспортного засобу на стоянку».

Дод. 1: 7.6.1, 7.6.2

6 Дайте повну відповідь. Яка з перелічених розміток позначає нерегульований пішохідний перехід?



- 1.
- 2.
- 3.
- 4.

5. Дорожня розмітка, зазначена у відповідях 1, 2 і 3.

Прил. 2: 1.14.1

7 Чи дозволяється стоянка транспортних засобів на ділянці дороги за даним дорожнім знаком?



1. Дозволяється на час до п'яти хвилин.
2. Дозволяється.
3. Дозволяється тільки для навантаження або розвантаження вантажу.
4. Забороняється.

Дод. 1: 3.39

8 Чи дозволено рух трамвая?



1. Дозволено.
2. Заборонено.

8.8 «Б»

9 У якому випадку Правила дорожнього руху не вимагають подавання попереджувального сигналу?

1. Перед заокругленням дороги, позначеним знаком «Небезпечний поворот праворуч».
2. Перед зупинкою біля краю проїзної частини.
3. Перед перестроюванням на сусідню смугу руху.

9.2

10 Рух у прямому напрямку дозволяється:



1. Водіям усіх транспортних засобів.
2. Тільки водію вантажного автомобіля.
3. Тільки водіям вантажного автомобіля і мотоцикла.

10.4

11 Чи дозволяється буксирування транспортним засобом із причепом?

1. Забороняється.
2. Дозволяється тільки на жорсткому зчепленні.

23.10 «Г»

12 З якою максимальною швидкістю дозволено рух автобуса на ділянках доріг, позначених даним дорожнім знаком?



1. 80 км/год.
2. 90 км/год.
3. 100 км/год.
4. 110 км/год.
5. 130 км/год.

12.6 «Г»

13 Як правильно вибрати місце накладання кровоспинного джгута на кінцівки?

1. Вище місця кровотечі, ближче до рани.
2. Безпосередньо на рану.
3. Нижче рани на 10—15 см.

ППМД
стор. 4

14 На дорозі з двостороннім рухом по крайній лівій смузі рухається попереду Вас транспортний засіб із тривало ввімкненим покажчиком лівого повороту. Які Ваші дії?

1. Дозволяється обгін, бо очевидно, що водій забув вимкнути покажчик повороту.
2. Випередження заборонено.
3. Дозволяється виконати безпечно випередження з правого боку.


14.2 «Б»

15 Зупинку заборонено:

1. Тільки на естакадах та шляхопроводах.
2. Тільки на мостах.
3. В усіх перелічених місцях.
4. Тільки на мостах і естакадах.

15.9 «В»

16 Жовтий автомобіль проїде перехрестя:



1. Останнім.
2. Третім.
3. Другим.
4. Першим.

16.11; 16.14

17 Якщо, починаючи рух, різко натиснути на педаль «газу», то до яких наслідків це може призвести?

1. Ведучі колеса будуть пробуксовувати, в результаті чого автомобіль занесе у бік.
2. Збільшиться знос зчеплення і деталей ходової частини.
3. Двигун припинить роботу.

ОБР

18 Чи дозволяється рух без зупинки через пішохідний перехід, перед яким зупинився транспортний засіб?

1. Рух забороняється, зупинка перед пішохідним переходом обов'язкова.
2. Дозволяється тільки на дорозі, що має не менше двох смуг для руху в кожному напрямку.
3. Дозволяється, якщо перед пішохідним переходом не встановлено знак «Проїзд без зупинки заборонено».
4. Дозволяється, якщо водій впевнився, що на пішохідному переході немає пішоходів, для яких може бути створено перешкоду або небезпеку.

18.4


19 Даний дорожній знак:



1. Забороняє рух вантажних автомобілів або составів транспортних засобів (вантажних автомобілів з причепами) вантажопідйомністю більше, зазначеної на знакові.
2. Забороняє рух транспортних засобів, у тому числі їх составів, загальна фактична маса яких перевищує зазначену на знакові.

Дод. 1: 3.15


20 Автомобілі проїдуть перехрестя в наступному порядку:



1. Синій, червоний, зелений, жовтий.
2. Зелений, синій і червоний, жовтий.
3. Жовтий в'їде на перехрестя й зупиниться, щоб дати дорогу зеленому; синій, червоний.

16.12

1 Рух дозволено:



1. Білому, синьому й жовтому автомобілям.
2. Червоному й білому автомобілям.
3. Жовтому й червоному автомобілям.

8.8 «А»

2 Що додатково повинні зробити пішоходи при русові по дорозі в темну пору доби та в умовах недостатньої видимості?

1. Вжити заходів для того, щоб виділити себе на проїзній частині або узбіччі, а за можливості мати на зовнішньому одязі світлоповертальні елементи.
2. Іти, по змозі дотримуючись правої сторони, за ходом руху транспортних засобів.
3. Виконати обидві дії.

4.4


3 Даний дорожній знак позначає:



1. Смугу, призначену тільки для руху вантажних автомобілів.
2. Рекомендований напрямок руху для вантажних автомобілів і самохідних машин.
3. Вулицю з одностороннім рухом, на якій дозволено рух тільки вантажних автомобілів.

Дод. 1: 5.28

4 Який дорожній знак зобов'язує дати дорогу транспортним засобам, що рухаються по перехрещуваній дорозі?



Дод. 1: 2.1


5 Чи розрізняються між собою вимоги даного дорожнього знака і даної таблички?



1. Вимоги знака не відрізняються від вимог таблички.
2. Розрізняються, бо знак дозволяє рух тільки легкових автомобілів, автобусів, мотоциклів, маршрутних транспортних засобів і вантажних автомобілів, дозволена максимальна маса яких не перевищує 3,5 т, а табличка діє тільки на легкові автомобілі і вантажні автомобілі з дозволеною максимальною масою до 3,5 т.

Дод. 1: 4.11, 7.5.3

6 Чи дозволяється при обгоні перетинати суцільну розділювальну лінію дорожньої розмітки?



1. Дозволяється на дорозі, вільній від інших транспортних засобів.
2. Дозволяється, тільки якщо поряд із суцільною лінією нанесено переривчасту і тільки з боку переривчастої.
3. Дозволяється тільки як виняток, якщо швидкість поодинокого транспортного засобу, який обганяють, менша від 30 км/год, за умови забезпечення безпеки дорожнього руху.

4. Дозволяється у випадках, зазначених у відповідях 2 і 3.
5. Дозволяється в будь-якому випадку при дотриманні заходів безпеки.

Дод. 2: 1.1, 1.11

7 Даний дорожній знак позначає, що:



1. Попереду дорога, яка не має наскрізного проїзду, і перед місцем установки знака слід повернути ліворуч або праворуч.
2. Попереду дорога звужується, і перед місцем установки знака слід повернути ліворуч або праворуч.
3. На дорозі є перешкода, і об'їхати її слід з правого або з лівого боку.
4. Відповіді 1, 2 і 3 вірні.

Дод. 1: 4.9

8 У разі зупинки колони на дорозі:

1. Водії всіх транспортних засобів повинні вийти з кабін.
2. Водії всіх транспортних засобів повинні ввімкнути аварійну світлову сигналізацію.
3. Водії всіх транспортних засобів повинні виконати обидві дії.

25.5

9 При вимушеній зупинці у місцях з обмеженою оглядовістю дороги, при несправності аварійної світлової сигналізації знак аварійної зупинки або миготливий червоний ліхтар слід встановити:



1. Ззаду на транспортному засобі.
2. З боку гіршої видимості для інших учасників дорожнього руху.

9.11 «Б»

10 З якого мінімального віку дозволяється навчатися водінню автомобіля?

1	2	3	4
з 18 років	з 16 років	з 15 років	з 14 років

24.2

11 Як повинні рухатися транспортні засоби на дорогах, проїзна частина яких поділена на смуги руху лініями дорожньої розмітки?

1. Не чітко по смугах, якщо габарити транспортних засобів за шириною невеликі.
2. Не чітко по смугах, якщо на проїзній частині відсутні автомобілі з причепами, і при цьому інтервал руху можна дотримувати набагато менший.
3. Не чітко по смугах, якщо проїзна частина вільна від транспортних засобів.
4. Чітко по смугах. Наїжджати на переривчасті лінії розмітки дозволяється лише при перестроюванні.

11.10

12 На автомагістралях заборонено:

1. Рух велосипедів, тракторів, самохідних машин і механізмів.
2. Випередження транспортних засобів, що рухаються зі швидкістю 90 км/год.
3. Усі перелічені дії.

27.2 «А»;
6.6 «Б»

13 Водій якого транспортного засобу повинен дати дорогу?



1. Водій зеленого автомобіля, якщо він виконує невідкладне службове завдання.
2. Водій зустрічного автомобіля.
3. Водій зеленого автомобіля

13.4

14 Чи дозволяється виконати обгін у даному місці населеного пункту?



1. Дозволяється при швидкості того, кого обганяють, менше ніж 30 км/год.
2. Забороняється.
3. Дозволяється, якщо обгін завершиться до залізничного переїзду.


14.6 «Б»;
дод. 1: 1.28

15 Дайте повну відповідь. Стоянку транспортних засобів заборонено:

1. Тільки поза населеними пунктами в зоні небезпечних поворотів та випуклих переломів поздовжнього профілю дороги з її видимістю або оглядовістю менш як 100 м хоча б в одному напрямку руху.
2. Тільки на тротуарах, окрім місць, позначених відповідними дорожніми знаками, встановленими з табличками.
3. Стоянку заборонено у місцях, перелічених у відповідях 1 і 2.

15.10 «Б», «Г»


16 Другим проїде перехрестя:



1. Червоний автомобіль.
2. Зелений автомобіль.
3. Жовтий автомобіль.
4. Синій автомобіль.

16.11; 16.14

17 Що повинен зробити водій, якщо він побачив тварину, яка раптово з'явилася на проїзній частині?



1. Увімкнути звуковий сигнал.
2. Намагатися швидше об'їхати тварину, подаючи короткі переривчасті звукові сигнали.
3. Зменшити швидкість, а у випадку необхідності — зупинитися.

ОБР

18 За яких із перелічених умов забороняється експлуатація транспортних засобів? Дайте повну відповідь.

1. На задню вісь мікроавтобуса установлені радіальні шини.
2. Змінено конструкцію гальмових систем.
3. За умов, зазначених у відповідях 1 і 2.


31.4.1 «А»

19 Дайте повну відповідь: що з переліченого повинно обов'язково знаходитися в автомобілі?

1. Медична аптечка і працездатний вогнегасник.
2. Запасні щітки склоочисника і ремінь привода генератора.
3. Усе перелічене у відповідях 1 і 2.

31.4.7 «Є»

20 Першим проїде перехрестя:



1. Зелений автомобіль.
2. Синій автомобіль.
3. Червоний автомобіль.

16.12

1 Що, за Правилами дорожнього руху, означає термін «обгін»?

1. Випередження одного або кількох транспортних засобів, що рухаються сусідньою смугою з меншою швидкістю.
2. Випередження одного або кількох транспортних засобів, пов'язане з виїздом на смугу зустрічного руху.
3. Випередження одного або кількох транспортних засобів, пов'язане з виїздом із займаної смуги руху і наступним поверненням на раніше займану смугу. Обгін може бути як із виїздом на смугу зустрічного руху, так і без виїзду.

1.10

2 Чи дозволяється пішоходам затримуватися і зупинятися на проїзній частині?

1. Дозволяється, тому що дорога призначена для всіх учасників дорожнього руху.
2. Дозволяється, якщо дорога не має тротуару або узбіччя.
3. Дозволяється тільки на дорогах в населених пунктах.
4. Забороняється, якщо це не пов'язано з забезпеченням безпеки дорожнього руху.

4.14 «Г»

3 Чи дозволяється водію вантажного таксі доставити вантаж громадянину, який проживає в зоні дії даного дорожнього знака з табличкою?



1. Дозволяється тільки у суботні, недільні і святкові дні.
2. Дозволяється тільки у неробочі дні тижня.
3. Забороняється у неробочі дні тижня з 8.00 до 20.00.
4. Дозволяється цілодобово в усі дні тижня.

Дод. 1: 3.3, 7.4.2

4 Який дорожній знак указує ділянку дороги з одностороннім рухом?



1



2



3



4



5

Дод. 1: 5.5


5 Даний дорожній знак:



1. Забороняє рух на мотоциклах.
2. Забороняє рух на велосипедах.
3. Забороняє рух тільки на велосипедах з підвісним двигуном.
4. Забороняє рух на мопедах і на велосипедах з підвісним двигуном.
5. Забороняє рух на транспортних засобах, зазначених у відповідях 1, 2 і 3.

Дод. 1: 3.7

6 Дана дорожня розмітка позначає:



1. Забороняється зупинка і стоянка легкових автомобілів.
2. Забороняється стоянка легкових автомобілів з 20-00 до 08-00.
3. Забороняється стоянка.
4. Дозволена стоянка з 20-00 до 08-00.

Прил.2:1.10.2

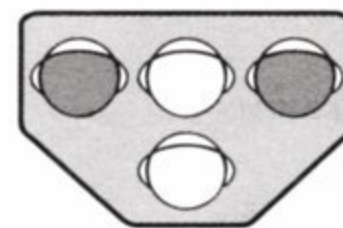
7 Даний дорожній знак:



1. Попереджує про подальший напрямок праворуч головної дороги.
2. Попереджує про ділянку дороги, на якій проїзна частина звужується праворуч.
3. Попереджує про закруглення дороги з обмеженою оглядовістю праворуч.
4. Інформація, закладена у відповідях 1 і 3.

Дод. 1: 1.1

8 Даний світлофор застосовується для регулювання руху:



1. Трамваїв і тролейбусів.
2. Трамваїв, а також маршрутних мікроавтобусів, автобусів і тролейбусів, що рухаються по спеціально відведеній смузі.
3. Тільки трамваїв.

8.7.5

9 На якій мінімальній відстані від транспортного засобу повинен бути виставлений знак аварійної зупинки або червоний миготливий ліхтар у населеному пункті?

1	2	3	4
40 м	25—30 м	20 м	10—15 м

9.10

10 В незнайомому місті, перетинаючи перехрестя в прямому напрямку по другій смузі, водій раптом зрозумів, що тут йому необхідно було повернути праворуч. Як він повинен вчинити?

1. Зменшити швидкість руху, дати дорогу транспортному засобу, який рухається праворуч, потім повернути праворуч.
2. Змінити смугу для руху в необхідному напрямку і, ввімкнувши покажчик повороту, повернути праворуч.
3. Проїхати перехрестя в прямому напрямку і тільки після цього змінити напрямок руху, дотримуючись правил маневрування.

10.3, 10.4

11 З якої смуги виконується поворот ліворуч на дорозі з двостороннім рухом, яка має три смуги для руху в кожному напрямку?

1. Тільки з крайньої лівої смуги для руху.
2. Дозволяється виконати поворот з середньої смуги, якщо крайня ліва смуга вільна від інших транспортних засобів.
3. Легковим автомобілям і мотоциклам дозволяється виконати поворот з будь-якої смуги, якщо ліві смуги для руху вільні від інших транспортних засобів.

11.5

12 Чи дозволяється в'їзд у технологічні розриви розділювальної смуги на автомагістралях?

1. Дозволяється.
2. Дозволяється маршрутним транспортним засобам.
3. Дозволяється тільки для розвороту, крім вантажних автомобілів з дозволеною максимальною масою понад 3,5 т.
4. Забороняється.

27.2 «Г»

13 За вимогою Правил дорожнього руху, якої дистанції повинен дотримуватись водій у дощову погоду?

1. Дотримуватись звичайної дистанції, але підвищити увагу.
2. Дотримуватись безпечної дистанції залежно від швидкості руху, дорожньої обстановки, особливостей вантажу, що перевозиться, і стану транспортного засобу.
3. Дотримуватись дистанції більшої за звичайну.

13.1

14 Дайте повну відповідь. Виконати обгін нерейкових транспортних засобів дозволяється:

1. Ліворуч або праворуч.
2. Праворуч тільки в тому випадку, якщо ліва смуга, призначена для зустрічного руху, зайнята.
3. Тільки ліворуч по смузі зустрічного руху.
4. У випадках, зазначених у відповідях 1 і 2.


14; 1.10

15 У яких місцях із перелічених забороняється зупинка транспортних засобів? Дайте повну відповідь.

1. На шляхопроводах.
2. На мостах.
3. Під естакадами, мостами та шляхопроводами.
4. На перехрестях та ближче 10 м від краю перехрещуваної проїзної частини за відсутності на них пішохідного переходу.
5. В усіх зазначених місцях.

15.9 «В», «Г»

16 Водій якого транспортного засобу повинен дати дорогу?



1. Водій трамвая.
2. Водій автомобіля.

16.9

17 Для припинення заносу автомобіля, що розпочався, треба повернути рульове колесо в бік заносу. Відразу ж по припиненні заносу необхідно:

1. Вимкнути зчеплення й рухатися накатом.
2. Почати екстрене гальмування.
3. Повернути рульове колесо у зворотний бік.

ОБР

18 За яких з перелічених умов забороняється експлуатація транспортних засобів? Дайте повну відповідь.

1. Вільний хід педалі зчеплення менше встановленої норми.
2. Шини мають місцеві пошкодження (порізи, розриви тощо), що оголюють корд.
3. За умов, зазначених у відповідях 1 і 2.

31.4.5 «Б»

19 Яку інформацію закладено у даний дорожній знак?



1. Ділянка автомагістралі, перед якою встановлено даний дорожній знак, тимчасово зачинена на ремонт.
2. Кінець дороги для автомобілів.
3. Кінець автомагістралі. Починається дорога для автомобілів.
4. Кінець автомагістралі.

Дод. 1: 5.2

20 Транспортні засоби проїдуть перехрестя в наступному порядку:



1. Трамвай 1 і 2; зелений, синій, жовтий, червоний автомобілі.
2. Зелений автомобіль; трамвай 2; трамвай 1; синій, жовтий, червоний автомобілі.

16.11; 16.13

1 Здійснити випередження нерейкового транспортного засобу дозволяється:

1. Тільки ліворуч.
2. Ліворуч і праворуч, дотримуючись правил безпеки.
3. Тільки праворуч, якщо транспортний засіб, який випереджають, рухається зі швидкістю менше як 30 км/год.


1.10

2 Як повинен учинити водій автомобіля, якщо він, наближаючись до перехрестя, почув спеціальний звуковий сигнал і побачив, що його наздоганяє автомобіль з увімкненим проблісковим маячком червоного кольору?

1. В'їхати на тротуар і зупинитися.
2. Швидко проїхати перехрестя і потім зупинитися.
3. Зупинитися біля правого краю проїзної частини перед перехрестям.
4. Виконати вимоги, зазначені у відповідях 1 або 3.

3.2



3 В яких умовах і з яким дорожнім знаком установлюється дана табличка?



1. В населених пунктах — зі знаком «Проїзд без зупинки заборонено» перед карантинним постом.
2. Перед залізничним переїздом — зі знаком «Проїзд без зупинки заборонено».
3. Поза населеними пунктами — зі знаком «Дати дорогу», якщо перед перехрестям установлено знак «Проїзд без зупинки заборонено».
4. У випадках, зазначених у відповідях 1 і 2.

Дод. 1: 7.1.2

4 Чим розрізняються між собою дорожні знаки «Дати дорогу» і «Проїзд без зупинки заборонено»?

1. Знак А вимагає обов'язкової зупинки перед виїздом на головну дорогу з прилеглих до неї територій.
2. При знакові А водій повинен дати дорогу транспортним засобам, що рухаються по головній дорозі, а при знакові Б забороняється проїзд без зупинки.
3. Нічим не розрізняються, оскільки обидва вимагають обов'язкової зупинки перед перехрестям.

Дод. 1: 2.1, 2.2

5 Чи дозволено обгін у даному місці?



1. Дозволено, адже здійснюється обгін трактора.
2. Дозволено.
3. Заборонено.

Дод. 1: 3.25, 7.1.1


6 Про що попереджує дана дорожня розмітка?





1. Указує місце, де транспортний засіб повинен дати дорогу пішоходам.
2. Про наближення до місця зупинки маршрутних транспортних засобів.
3. Про наближення транспортних засобів до «стоп-лінії», коли вона застосовується в поєднанні зі знаком «Проїзд без зупинки заборонено».

Дод. 2: 1.21

7 Дайте повну відповідь. Яка з вказаних табличок інформує про можливий вид дорожньо-транспортної пригоди?



- 1
- 2
- 3
- 4

5. Всі вказані таблички.

Дод. 1: 7.21.1 – 7.21.4

8 Рух заборонено:



1. Мотоциклу.
2. Автомобілю і трамваю.
3. Всім транспортним засобам.

8.8 «А»

9 На перехресті рівнозначних доріг водій транспортного засобу, що наближається ліворуч, не зменшує швидкості руху. Ви повинні:

1. Продовжити свій рух, бо перевага у русі належить Вам.
2. Постаратися в'їхати на перехрестя раніше, збільшивши швидкість руху.
3. Подати звуковий сигнал для запобігання дорожньо-транспортній пригоді і при необхідності зупинитися.

9.5; 16.12

10 Водію забороняється:

1. Керувати транспортним засобом перебуваючи під впливом лікарських препаратів, що знижують швидкість реакції і увагу.
2. У разі вимушеної зупинки знаходитися на проїжджій частині дороги без сигнального жилета у темну пору доби або в умовах недостатньої видимості.
3. Дії, вказані у відповідях 1 і 2.

2.9 «Б»

11 Чи дозволяється рух транспортних засобів тротуарами та пішохідними доріжками, якщо немає інших під'їздів?

1. Забороняється, бо це створить небезпеку пішоходам.
2. Дозволяється, якщо це не ускладнює рух пішоходів.
3. Дозволяється для об'їзду іншого транспортного засобу, що стоїть біля тротуару.
4. Дозволяється при обслуговуванні торговельних та інших підприємств, розташованих безпосередньо біля цих тротуарів або пішохідних доріжок.

11.13

12 На яких дорогах у населених пунктах допускається швидкість руху більш як 60 км/год?

1. На дорогах, позначених відповідними знаками.
2. На дорогах, вільних від транспортних засобів.
3. На дорогах з одностороннім рухом.
4. На всіх вищеперелічених дорогах.

12.8


13 Які транспортні засоби забороняє обганяти даний дорожній знак? Дайте повну відповідь.



1. Легкові автомобілі, мотоцикли й вантажні автомобілі з дозволеною максимальною масою меншою від 3,5 т.
2. Вантажні автомобілі з дозволеною максимальною масою меншою від 3,5 т.
3. Усі, крім поодиноких, що рухаються зі швидкістю менш як 30 км/год.
4. Усі.

Дод. 1: 3.25

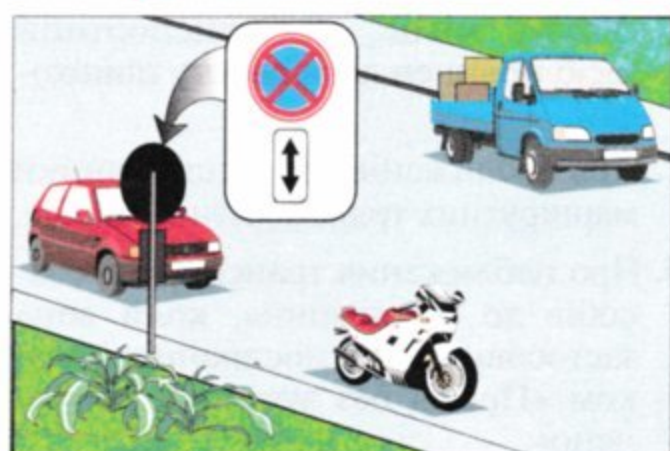
14 Чи дозволяється водію зеленого автомобіля виконати обгін? Червоний автомобіль здійснює об'їзд.



1. Дозволяється, тільки якщо червоний автомобіль рухається зі швидкістю менш як 30 км/год.
2. Забороняється.
3. Дозволяється.

14.6 «Г»

15 В якій відповіді зазначені усі водії, які порушили правила зупинки на дорозі з одностороннім рухом поза населеним пунктом?



4. Тільки водій мотоцикла.

1. Тільки водій синього автомобіля, що зупинився під розвантаження.
2. Водії всіх транспортних засобів.
3. Тільки водії червоного автомобіля і мотоцикла.

15.3; 11.6;
дод. 1: 3.34,
7.2.4

16 Водій якого транспортного засобу повинен дати дорогу?



1. Водій автомобіля.
2. Водій мотоцикла.

16.11; 16.14

17 Що необхідно зробити водію у разі несподіваного розриву шини під час руху автомобіля?

1. Утримуючи рульове колесо, зберегти прямолінійний рух, зменшити швидкість і зупинитися.
2. Різко загальмувати робочим гальмом до повної зупинки.
3. Зупинити автомобіль за допомогою стоянкового гальма.


ОБР

18 Чи дозволяється прямувати до місця стоянки або ремонту у темну пору доби по дорогах без штучного освітлення або в умовах недостатньої видимості, коли не горять задні габаритні ліхтарі?

1. Забороняється.
2. Дозволяється з особливою обережністю.

31.6

19 Водій автобуса, трактора і вантажного автомобіля з дозволеною максимальною масою понад 3,5 т на гірських дорогах і крутих спусках повинен:




4. Продовжити рух у звичайному режимі.

1. Користуватися спеціальними гірськими гальмами, якщо вони установлені на транспортному засобі підприємством-виробником.
2. Гальмувати за допомогою стоянкового гальма.
3. Зменшити швидкість і ввімкнути понижену передачу.

28.2 «А»

20 Червоний автомобіль проїде перехрестя:



1. Першим.
2. Другим.

16.6; 8.3

1 Чи дозволяється водієві коричневого автомобіля випередити білий автомобіль так, як це показано на малюнку?



1. Не дозволяється, тому що він здійснює його з правої сторони.
2. Дозволяється, обов'язково ввімкнувши фари ближнього світла.
3. Дозволяється.


1.10

2 Чи дає перевагу в русі ввімкнений пробісковий маячок оранжевого кольору?

1. Не дає.
2. Дає.

3.6


3 Якому з перелічених транспортних засобів не заборонено рух при даному дорожньому знакові?



1. Автокрану, фактична маса якого 7 т.
2. Тягачу масою 8 т з причепом масою 4 т.
3. Автобусу, фактична маса якого 12 т.
4. Транспортним засобам, зазначеним у відповідях 1, 3.

Дод. 1: 3.15

4 Чи розрізняються між собою вимоги даних дорожніх знаків?



1. Розрізняються тим, що синій знак установлюється на дорогах поза населеними пунктами, а інший знак установлюється тільки в населених пунктах.
2. Розрізняються тим, що синій знак дозволяє рух тільки велосипедистів, а інший знак забороняє їх рух.
3. Розрізняються тим, що синій знак дозволяє рух на велосипедах і мопедах, а інший знак забороняє рух на велосипедах.

Дод. 1: 3.8, 4.12

5 Яким транспортним засобам дозволено стоянку?



1. Тільки легковому автомобілю.
2. Тільки мотоциклу.
3. Легковому автомобілю та мотоциклу.
4. Тільки вантажному автомобілю.
5. Усім транспортним засобам.

Дод. 1: 3.35, 7.5.1

6 В яких з перелічених випадків дозволяється перетинати суцільну лінію дорожньої розмітки, яка поділяє транспортні потоки протилежних напрямків?



1. Для виконання обгону на дорогах з двостороннім рухом, що мають по одній смузі для руху в кожному напрямку.
2. Для об'їзду нерухокої перешкоди, розміри якої не дають змогу здійснити її безпечний об'їзд, не перетинаючи цю лінію.
3. У випадках, зазначених у відповідях 1 і 2.

Дод. 2: 1.1

7 Що з перелічених дій зобов'язаний виконати водій перед виїздом з місця постійної стоянки і початком руху? Дайте повну відповідь.

1. Подати сигнал світловими покажчиками повороту відповідного напрямку.
2. Перевірити й забезпечити технічно справний стан і комплектність транспортного засобу, правильність розміщення та кріплення вантажу.
3. Переконавшись, що початок руху буде безпечним і він не створить перешкод або небезпеки іншим учасникам руху.
4. Виконати всі перелічені дії.

10.1; 9.2; 2.3 «А»

8 Яким транспортним засобам дозволяється повернути праворуч?



1. Червоному та зеленому автомобілям.
2. Тільки червоному автомобілю.
3. Усім транспортним засобам.

8.8 «Б»

9 Перевозити організовані групи дітей у темну пору доби:

1. Дозволяється в автобусах і обладнаних для перевезення людей вантажних автомобілях за наявності не менше двох дорослих супровідників.
2. Забороняється.
3. Дозволяється тільки в автобусах за наявності не менш ніж двох дорослих супровідників.
4. Дозволяється тільки у вантажних автомобілях за наявності не менш ніж двох дорослих супровідників.

21.11 «Г»

10 У якому з перелічених випадків дозволяється розворот від правого краю проїзної частини?

1. Тільки на регульованому перехресті.
2. На нерегульованому перехресті, якщо транспортний засіб, що здійснює розворот, знаходиться на головній дорозі.
3. Якщо ширина перехрестя, габарити транспортного засобу не дають змоги виконати цей маневр із відповідного крайнього положення на проїзній частині і при забезпеченні безпеки руху.

10.6

11 Механічний транспортний засіб із несправною робочою гальмовою системою дозволяється буксирувати:
Дайте повну відповідь.

1. На жорсткому зчепленні.
2. Способом його часткового навантаження.
3. На жорсткому зчепленні, якщо фактична маса буксируючого транспортного засобу буде як мінімум удвічі перевищувати фактичну масу буксированого, або способом його часткового навантаження.
4. Будь-яким способом, якщо за кермом буксированого транспортного засобу перебуває водій.

23.4; 23.10 «А»

12 Чи дозволяється рух пішоходів по дорозі, позначеній дорожнім знаком «Автомагістраль»?

1. Забороняється, за винятком пішохідних доріжок, місць стоянки і відпочинку.
2. Дозволяється йти тільки поза населеними пунктами назустріч рухові транспортних засобів.
3. Дозволяється йти поза населеними пунктами за напрямком руху транспортних засобів.

27.4;
4.14 «Д»

13 На ділянці дороги, де встановлено даний дорожній знак:



1. Дозволяється розворот та поворот ліворуч усім транспортним засобам.
2. Дозволяється поворот ліворуч усім транспортним засобам.
3. Дозволяється розворот всім транспортним засобам, поворот ліворуч забороняється.
4. Дозволяється розворот і поворот ліворуч тільки легковим автомобілям.

Дод. 1: 5.26

14 З увімкненим проблісковим маячком оранжевого кольору повинен рухатися транспортний засіб, що здійснює перевезення:

1. Тільки дітей старших 16-річного віку в кузові вантажного автомобіля.
2. Тільки великогабаритних вантажів.
3. Тільки великовагових вантажів.
4. Вантажів, зазначених у відповідях 2 або 3.
5. Вантажів та пасажирів, зазначених у відповідях 1, або 2, або 3.

22.6

15 Ставити транспортні засоби під кутом до краю проїзної частини:

1. Дозволяється, але тільки легкові автомобілі і мотоцикли.
2. Дозволяється тільки в місцях, позначених відповідною дорожньою розміткою.
3. Дозволяється тільки в місцях, де це не буде перешкоджати рухові інших транспортних засобів.
4. Дозволяється в місцях, зазначених у відповідях 2 і 3.

15.5

16 Чи мають нерейкові транспортні засоби перевагу в русі перед трамваєм, якщо сигнал регулювальника дозволяє їм рух одночасно?

1. Мають, тільки якщо транспортний засіб позначено розпізнавальним знаком «Глухий водій».
2. Мають, тільки якщо транспортний засіб позначено розпізнавальним знаком «Діти».
3. Не мають.
4. Мають у випадках, зазначених у відповідях 1 і 2.

16.7

17 Дайте повну відповідь: яка безпечна дистанція між транспортними засобами рекомендується при русі у міських умовах?

1. При сухому стані покриття проїзної частини — з розрахунку 0,5 м дистанція на 1 км/год швидкості руху.
2. При мокрому або слизькому стані покриття проїзної частини — з розрахунку 1 м дистанції на 1 км/год швидкості руху.
3. Безпечна дистанція, зазначена у відповідях 1 і 2.

ОБР

18 Чи дозволяється експлуатувати автомобіль, якщо відсутні передбачені конструкцією транспортного засобу дзеркала заднього виду?

1. Дозволяється, якщо є хоча б одне дзеркало.
2. Дозволяється, якщо заднє скло не закрито шторками.
3. Забороняється.


31.4.7 «А»

19 При вимушеній зупинці в темну пору доби на неосвітлених ділянках доріг у разі несправності габаритних або стоянкових ліхтарів необхідно:

1. Прибрати транспортний засіб за межі дороги, а якщо це неможливо, його необхідно позначити відповідно до вимог Правил.
2. Увімкнути ближнє світло фар.
3. Узяти правіше й увімкнути ближнє світло фар.

19.4

20 Водій якого транспортного засобу повинен дати дорогу?



1. Водій вантажного автомобіля.
2. Водій мотоцикла.

16.12

1 Якщо водій транспортного засобу, що рухається попереду, увімкнув покажчик повороту з лівого боку, то його:

1. Обганяти і випереджати заборонено.
2. Можна обігнати, подавши короткочасний звуковий сигнал.
3. Можна випередити з правого боку, якщо це безпечно.

ОБР; 1.10

2 Під час руху на мотоциклі і мопеді чи повинен водій та його пасажир бути в застібнутому мотошоломі? Дайте повну відповідь.

1. Повинен бути у застібнутому мотошоломі водій мотоцикла та його пасажир.
2. Повинен бути у застібнутому мотошоломі водій мотоцикла.
3. Повинен бути у застібнутому мотошоломі водій мопеда та його пасажир.
4. Повинні бути у застібнутому мотошоломі водії мотоцикла, мопеда та їх пасажир.

2.3 «Г»

3 Даний дорожній знак попереджує, що:



1. Попереду перехрещення з круговим рухом, на якому водію надається перевага в русі.
2. Попереду ділянка дороги, на якій водій має право на рух тільки у зворотному напрямку.
3. Попереду перехрещення з круговим рухом, на якому установлені знаки «Круговий рух».

Дод. 1: 1.19

4 Яку інформацію закладено у дану табличку з дорожнім знаком?



1. Вказує дату (день, місяць, рік), з якої набувають чинності вимоги дорожнього знака.
2. Вказує дату, з якої закінчує свою дію дорожній знак.
3. Вказує дату, з якої тимчасово припиняє свою дію дорожній знак.

Дод. 1: 7.20


5 Як повинен учинити водій нерейкового транспортного засобу, якщо перед перехрестям, до якого він наближається, установлено даний дорожній знак?



1. Зупинитися тільки у тому випадку, якщо по перехрещуваній дорозі рухаються транспортні засоби.
2. Зупинитися, якщо він буде повертати ліворуч.
3. Зупинитися у будь-якому випадку і дати дорогу транспортним засобам, що рухаються дорогою, яка перетинається.

Дод. 1: 2.2

6 Біла переривчаста лінія поділяє транспортні потоки протилежних напрямків. На даній ділянці дороги обгін:



1. Заборонено.
2. Дозволено.
3. Дозволено тільки поза населеним пунктом.

Дод. 2: 1.5;
14.6 «Е»

7 Даний дорожній знак позначає, що:



1. Попереду є перехрестя, на якому рух прямо і праворуч заборонено.
2. Попереду ділянка дороги з одностороннім рухом. На найближчому перехрещенні дозволяється поворот ліворуч.
3. Попереду на найближчому перехрещенні тільки механічним транспортним засобам слід рухатися прямо або праворуч.
4. Попереду на найближчому перехрещенні всім транспортним засобам, крім маршрутних, дозволяється рух тільки прямо або праворуч.

Дод. 1: 4.4

8 Чи слід зупинити автомобіль перед пішохідним переходом, на якому знаходяться пішоходи?

1. Слід зупинити, тільки якщо переходять дорогу двоє і більше людей.
2. Слід зупинити, тільки якщо пішохідний перехід регулюється, і для водія ввімкнений забороняючий сигнал.
3. Слід зупинити, тільки якщо пішохідний перехід знаходиться у населеному пункті.
4. Слід зупинити в усіх перелічених випадках.

8.7.3 «Е»;
4.9

9 Яку кількість пасажирів дозволяється перевозити на транспортному засобі обладнаному місцями для сидіння?

1. До 2 чоловік.
2. На розсуд водія.
3. Кількість пасажирів повинна відповідати технічній характеристиці транспортного засобу.


21.1

10 На території двора траєкторії руху транспортних засобів перетинаються. Хто повинен дати дорогу?

1. Водій, до якого транспортний засіб наближається по вужчій смузі руху.
2. Водій легкового автомобіля — водію вантажного автомобіля, що перевозить молоко.
3. Водій мотоцикла — водію легкового автомобіля.
4. Водій, до якого транспортний засіб наближається праворуч.

10.11

11 Чи дозволяється водію червоного автомобіля рухатися по трамвайних коліях?



1. Забороняється.
2. Дозволяється.

11.8

12 Чи дозволяється зупинити транспортний засіб на узбіччі автомагістралі?

1. Дозволяється, якщо рух на автомагістралі у цей час не інтенсивний.
2. Дозволяється у випадку вимушеної зупинки.
3. Дозволяється у випадках, зазначених у відповідях 1 і 2.


27.5

13 Автомобіль, що рухається попереду Вас, почав збільшувати швидкість. Якої дистанції Ви повинні дотримуватись?

1. Дистанція повинна бути безпечною.
2. Дистанція повинна бути збільшена у два рази.
3. Дистанція повинна залишитися незмінною.

13.1

14 Чи дозволяється водієві жовтого автомобіля виконати обгін?



1. Забороняється.
2. Дозволяється.
3. Дозволяється у світлу пору доби.

14.6 «А»

15 Які транспортні засоби допускається ставити на стоянку у два ряди на проїзній частині?

1. Легкові автомобілі, позначені розпізнавальним знаком «Інвалід».
2. Вантажні автомобілі з дозволеною максимальною масою до 3,5 т, що обслуговують торговельні та інші підприємства, розташовані безпосередньо біля тротуарів.
3. Мотоцикли з боковим причепом.
4. Мотоцикли без бокового причепа, мопеди й велосипеди.

15.4

16 Першим проїде перехрестя:



1. Зелений автомобіль.
2. Синій автомобіль.
3. Червоний автомобіль.
4. Жовтий автомобіль.

16.12; 16.13

17 Яких правил гальмування автопоїзда повинен дотримуватись водій?

1. Завчасно зменшити швидкість, гальмувати плавно, не вимикаючи зчеплення.
2. Гальмувати різким переривчастим натисканням на педаль гальма, вимкнувши при цьому зчеплення.

ОБР

18 За яких з перелічених умов забороняється експлуатація транспортних засобів? Дайте повну відповідь.

1. Не працює пристрій для обдування та обігрівання скла.
2. На одну вісь транспортного засобу встановлено шини з різними малюнками протектора для легкових автомобілів.
3. За умов, зазначених у відповідях 1 і 2.


31.4.5 «Г»;
31.4.7 «Г»

19 Водії яких транспортних засобів можуть користуватися фарами-прожектором?

1. Водії всіх транспортних засобів при виконанні службових завдань, вживши заходів для того, щоб не засліплювати інших водіїв.
2. Водії оперативних транспортних засобів під час виконання службових завдань, вживши заходів для того, щоб не засліплювати інших учасників дорожнього руху.

19.6

20 Водій якого транспортного засобу повинен дати дорогу?



1. Водій мотоцикла.
2. Водій автобуса.

16.12

1 Водій якого транспортного засобу виконує обгін?
 На малюнку зліва дорога з одностороннім рухом.

1. Водії зеленого і синього автомобілів виконують випередження, а не обгін.
 2. Водій зеленого автомобіля.
 3. Водій синього автомобіля.
 4. Обидва водії виконують обгін.

1.10

2 Чи дозволяється пішоходам переходити проїзну частину поза пішохідним переходом при наявності розділювальної смуги на дорозі?

1. Забороняється.
 2. Дозволяється у місцях, де дорога проглядається в обидва боки.
 3. Дозволяється тільки поза населеними пунктами.
 4. Дозволяється тільки в населених пунктах.

4.14 «Г»

3 Даний дорожній знак позначає, що:

1. Попереду ділянка дороги, на якій знаходиться пішохідна доріжка.
 2. Попереду є шляхопровід з пішохідною доріжкою.
 3. Попереду ділянка дороги, на проїзній частині якої в небезпечній близькості від транспортних засобів, що рухаються, знаходяться люди.
 4. Попереду ділянка дороги, на якій заборонено рух пішоходів.
 5. Інформація, закладена у відповідях 2 і 4.

Дод. 1: 3.9

4 Дані дорожній знак і табличка, за Правилами дорожнього руху, забороняють зупинку транспортних засобів:

1. Тільки крім водіїв-інвалідів, що керують мотоциклом або автомобілем, позначеним розпізнавальним знаком «Інвалід».
 2. Тільки крім водіїв таксі, які здійснюють посадку або висадку пасажирів (розвантаження або завантаження вантажу).
 3. Забороняються зупинка та стоянка водіям усіх транспортних засобів, у тому числі й водіям-інвалідам.
 4. Забороняється зупинка транспортних засобів, крім тих, що зазначені у відповідях 1 і 2.

Дод. 1: 3.34, 7.18; 2.8

5 У якому напрямку з числа позначених на малюнку дозволено рух?

1. Прямо і праворуч.
 2. Тільки прямо.
 3. Тільки праворуч.
 4. Тільки ліворуч.

Дод. 1: 3.21

6 Що означає дана дорожня розмітка?

1. Указує відстань до найближчого населеного пункту.
 2. Указує відстань до найближчого поста ДАІ.
 3. Дублює «Кілометровий знак».
 4. Указує номер дороги (маршруту).

Дод. 2: 1.23

7 Даний дорожній знак:

1. Дозволяє рух тільки в напрямку, вказаному стрілками.
 2. Якщо він установлений перед вїздом на майдан, дає право на першочерговий рух транспортним засобам, що рухаються по ньому.
 3. Відповідає вимогам, зазначеним в обох відповідях.

Дод. 1: 4.10

8 Чи дозволено рух червоному автомобілю?

1. Дозволено разом з мікроавтобусом.
 2. Заборонено.
 3. Дозволено.

8.8 «А»

9 Чи забороняється перевезення дітей на передньому сидінні легкового автомобіля?

1. Забороняється перевозити дітей, зріст яких менше 145 см або тих, які не досягли 12-річного віку, за відсутності спеціального засоба, що дає змогу пристебнути дитину за допомогою ременів безпеки.
 2. Дозволяється незалежно од віку за наявності дорослого пасажирів.
 3. Дозволяється перевезення дітей віком не менш як 10 років.

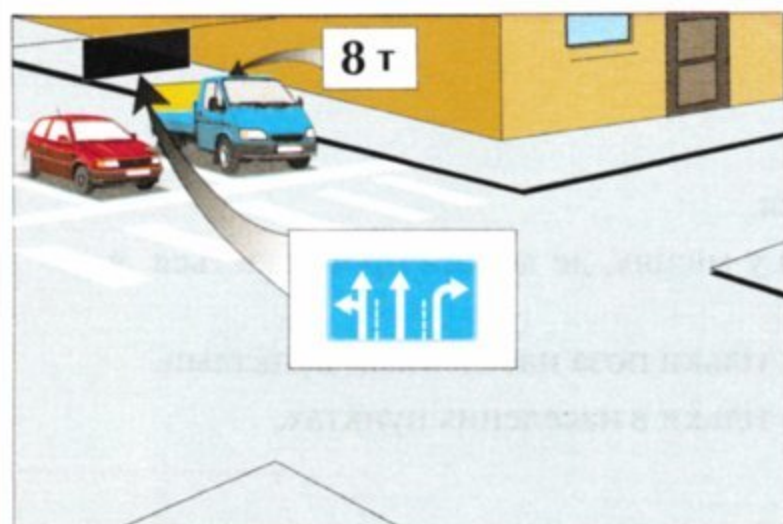
21.11 «Б»

10 Дайте повну відповідь, де забороняється розворот:

1. В тунелях.
 2. На залізничних переїздах.
 3. На мостах, шляхопроводах, естакадах і під ними.
 4. На пішохідних переходах і ближче ніж за 10 м від них з обох боків, крім випадку дозволеного розвороту на перехресті.
 5. В усіх перелічених місцях.

10.7


11 Хто з водіїв правильно зайняв смугу для руху прямо?



1. Обидва водії.
2. Водій синього автомобіля.
3. Водій червоного автомобіля.

11.6


12 З якою максимальною швидкістю дозволяється рух автокранів у населеному пункті, позначеному даним дорожнім знаком?



1. 30 км/год.
2. 40 км/год.
3. 50 км/год.
4. 60 км/год.

12.4

13 Дана дорожня розмітка:



1. Позначає початок пункту зупинки маршрутних транспортних засобів.
2. Попереджає про нерівності.
3. Попереджає про наближення до місця, де встановлено пристрій примусового зниження швидкості руху.


Дод.2: 1.22

14 Чи дозволяється обігнати колону транспортних засобів, позаду якої рухається транспортний засіб з увімкненим проблісковим маячком синього і зеленого кольору?

1. Забороняється.
2. Дозволяється.
3. Дозволяється тільки у світлу пору доби.
4. Забороняється тільки в умовах недостатньої видимості.

14.6 «Є»

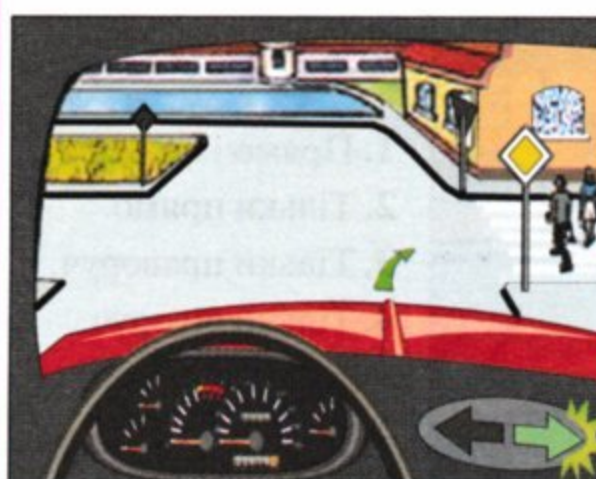
15 Водії яких транспортних засобів не порушили правила стоянки в населеному пункті?



1. Водій вантажного автомобіля.
2. Водій легкового автомобіля.
3. Обидва водії порушили.

15.3

16 Як Ви повинні учинити в даній ситуації?



1. Подати звуковий сигнал для запобігання дорожньо-транспортній пригоді і, не даючи дорогу пішоходам, проїхати перехід, адже Ви знаходитесь на головній дорозі.
2. Дати дорогу пішоходам, що закінчують перехід проїзної частини відповідного напрямку руху.

16.2

17 Чим загрожує безпеці руху різке відкриття дросельної заслінки карбюратора при русі на слизькій дорозі?

1. Може виникнути бічний занос автомобіля.
2. Двигун заглухне.
3. Двигун перевищить максимальну частоту обертання колінчастого вала.
4. Значно зросте витрата пального.

ОБР

18 Якщо група дітей у супроводі дорослих осіб переходить проїзну частину дороги, то водії транспортних засобів повинні:

1. Дати дорогу дітям.
2. Дати дорогу дітям лише у тому випадку, якщо для них ввімкнено дозволяючий сигнал світлофора.
3. Дати дорогу дітям лише у тому випадку, якщо регулювальник підняв руку догори.
4. Виконати дії, зазначені у відповідях 1 і 3.

18.7

19 Як повинен учинити водій, якщо у темну пору доби на неосвітлених ділянках доріг на автомобілі не вмикається ближнє світло лівої фари?

1. Продовжити рух, увімкнувши протитуманні фари.
2. Продовжити рух, увімкнувши габаритні ліхтарі.
3. Вжити заходів до усунення несправностей, а якщо це зробити неможливо, — рухатися якомога коротшим шляхом до місця стоянки або ремонту, дотримуючись заходів обережності.

19.5; 31.5

20 Жовтий автомобіль проїде перехрестя:



1. Останнім.
2. Третім.
3. Другим.
4. Першим.

16.11; 3.2

1 Дайте повну відповідь. По визначенню Правил дорожнього руху «Мопед» -це двоколісний транспортний засіб, який має двигун з робочим об'ємом:

1. До 50 куб.см. або електродвигун потужністю до 4 квт.
2. 50 куб.см. і більше.
3. З робочим об'ємом, вказаним у відповідях 1 і 2.

1.10

2 Водій – громадянин України, який виїжджає за кордон, повинен мати:
Дайте повну відповідь.

1. Реєстраційний номерний знак на транспортному засобі.
2. Реєстраційні документи на транспортний засіб.
3. Посвідчення водія, що відповідає вимогам Конвенції «Про дорожній рух».
4. Все перелічене у відповідях 1, 2 і 3.
5. Попередньо отриманий документ Державної митної служби.

29.1

3 Даний дорожній знак:



1. Застосовується для позначення місць, спеціально виділених для організованого переходу пішоходами проїзної частини дороги.
2. Попереджує про наявність попереду надземного пішохідного переходу.
3. Попереджує про ділянку дороги, на якій є не позначений дорожньою розміткою і регульований світлофором пішохідний перехід.

Дод. 1: 5.35.1

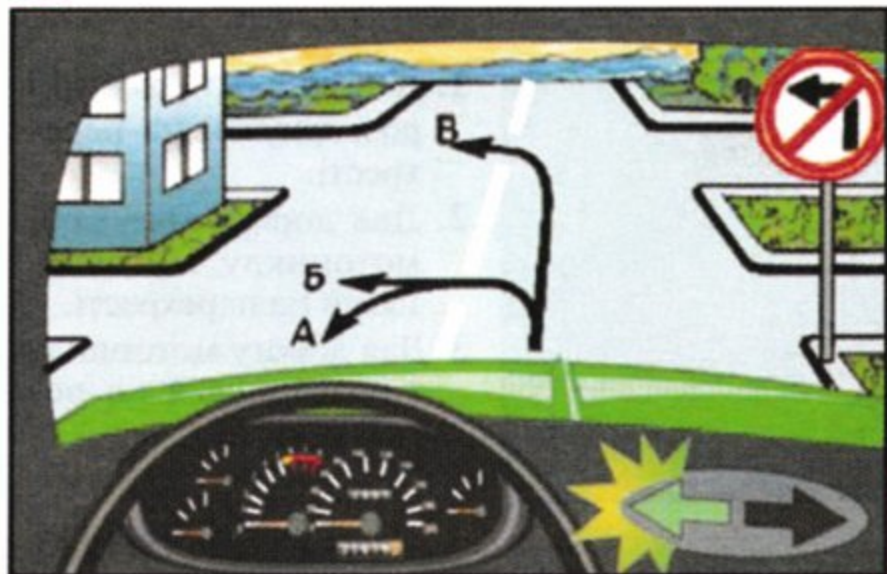
4 Даний дорожній знак з табличкою позначають:



1. Місце і спосіб постановки легкових автомобілів і мотоциклів на стоянку.
2. Місце для стоянки вантажних автомобілів з дозволеною максимальною масою понад 3,5 т. Табличка вказує, що біля краю проїзної частини високі бордюрний камінь.
3. Місце для стоянки транспортних засобів; спосіб постановки автомобіля, зазначений на табличці, забороняється.

Дод. 1: 5.38, 7.6.2

5 Яким шляхом з числа позначених стрілками дозволено рух?



1. А і В.
2. Б і В.
3. А і Б.

Дод. 1: 3.23

6 Коли забороняється виїжджати на сторону дороги, призначену для зустрічного руху?

1. Тільки на дорогах з двостороннім рухом, які мають не менше двох смуг для руху в одному напрямку.
2. Тільки на дорогах з двостороннім рухом, які мають чотири смуги для руху, за наявності дорожньої розмітки у вигляді двох суцільних ліній, яка поділяє транспортні потоки протилежних напрямків.
3. В усіх перелічених випадках.

Дод. 2: 1.3; 11.4


7 З якою швидкістю дозволяється рух легкового автомобіля в населеному пункті, позначеному даним дорожнім знаком?

РУДНЯ

1. На всіх дорогах даного населеного пункту — не більш ніж 60 км/год.
2. На всіх дорогах даного населеного пункту — не більш ніж 80 км/год.
3. У населеному пункті, на дорозі, на якій встановлено даний знак, — не більш ніж 90 км/год, а на всіх інших дорогах цього ж населеного пункту — не більш ніж 60 км/год.
4. На всіх дорогах даного населеного пункту — не більш ніж 90 км/год.

Дод. 1: 5.47; 12.6 «Г»

8 На якому малюнку водій правильно повертає праворуч?



1

2

8.7.3 «3»

9 Під час зупинки на неосвітленому узбіччі дороги у темну пору доби на транспортному засобі повинні бути ввімкнені:

1. Аварійна світлова сигналізація.
2. Ближнє або дальнє світло фар.
3. Габаритні або стоянкові ліхтарі.
4. Усі зовнішні світлові прилади.


19.4

10 Навчати водінню транспортних засобів дозволяється лише тих осіб:

1. Які не мають для цього медичних протипоказань.
2. Які мають як мінімум середню освіту.
3. Які пройшли теоретичний курс навчання з Правил і безпеки дорожнього руху в одному з навчальних закладів.
4. За умов, перелічених у відповідях 1, 2 і 3.

24.1


11 В яких напрямках дозволяється рух легкового та грузового автомобіля з дозволеною максимальною масою 5т.?



1. Вантажному автомобілю — ліворуч, легковому — прямо.
2. Вантажному автомобілю — прямо, легковому — прямо і праворуч.
3. Вантажному і легковому автомобілям — прямо.

11.6

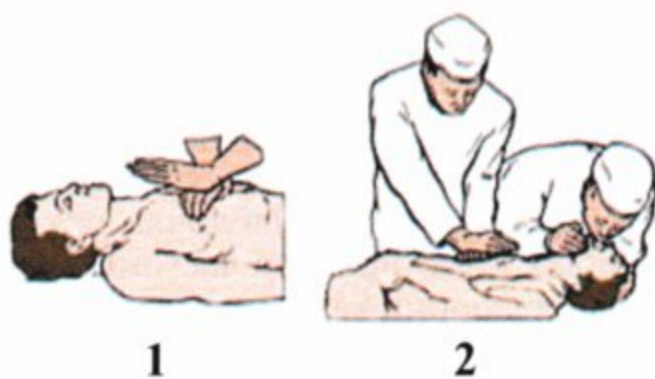
12 З якою мінімальною швидкістю дозволяється рух механічних транспортних засобів на автомагістралі?



1. 40 км/год.
2. 45 км/год.
3. 50 км/год.
4. 60 км/год.

27.3

13 На якому малюнку правильно показано метод відновлення дихання і кровообігу у потерпілого?



1. На малюнку 1.
2. На малюнках 1 і 2.
3. На малюнку 2.

Подавайте допомогу доти, доки в потерпілого не з'явиться дихання або пульс!!!

ППМД
стор. 5

22.4

14 Чи дозволяється перевозити вантаж, який за шириною виступає за зовнішні краї габаритних ліхтарів транспортного засобу?

1. Дозволяється, якщо не порушено стійкість транспортного засобу.
2. Дозволяється на автомобілях зі спеціальними кузовами.
3. Забороняється.
4. Дозволяється, але якщо вантаж виступає за шириною більше як на 0,4 м, — він повинен бути позначений відповідно до Правил дорожнього руху.

15 Чи дозволяється зупинка або стоянка транспортних засобів біля правого краю проїзної частини за наявності узбіччя на дорозі?

1. Забороняються тільки усім вантажним автомобілям.
2. Забороняються тільки тим вантажним автомобілям, які перевозять небезпечні вантажі.
3. Дозволяються усім транспортним засобам, якщо зупинка на узбіччі неможлива.

15.2

16 У якій відповіді правильно вказано дії водія автомобіля?



1. Дав дорогу трамваю і розвернувся на перехресті.
2. Дав дорогу трамваю, мотоциклу і розвернувся на перехресті.
3. Дав дорогу мотоциклу і розвернувся на перехресті.

16.12; 16.13

17 Зміщення центра ваги вгору при завантаженні вантажного автомобіля:

1. Знижує стійкість проти перекидання.
2. Не змінює її.
3. Підвищує стійкість.

ОБР

18 Чи дозволяється застосування шин, відновлених за першим класом ремонту, на автобусах, які виконують міжміські перевезення?

1. Дозволяється.
2. Забороняється на передній осі автобуса, дозволяється на других осях.
3. Забороняється.

31.4.5 «Д»


19 Чи повинні водії автобуса і трактора користуватися противідкотними упорами під час стоянки на підйомах і спусках?



1. Повинні обов'язково на всіх підйомах і спусках, позначених знаками «Крутий підйом», «Крутий спуск».
2. Не обов'язково повинні користуватися на всіх підйомах та спусках, які позначені дорожніми знаками «Крутий підйом» або «Крутий спуск».

28.2 «Б»

20 Транспортні засоби проїдуть перехрестя в наступному порядку:



1. Трамвай 1, червоний автомобіль, зелений автомобіль і трамвай 2, синій автомобіль.
2. Трамваї 1 і 2; зелений автомобіль; червоний, синій автомобілі.

16.11; 16.13;
16.14

1 Яка з перелічених розміток позначає пішохідний перехід, де рух регулюється світлофором?

1
2
3
4

Дод.2:1.14.5

2 Чи повинен водій механічного транспортного засобу мати при собі реєстраційний документ на транспортний засіб у випадку відсутності в транспортному засобі його власника?

1. Повинен.
 2. Повинен мати свідоцтво про право спільної власності.
 3. Повинен мати доручення.

2.1 «Б»

3 Даний дорожній знак попереджає, що:

1. Попереду ділянка дороги, на якій розташований аеропорт.
 2. Попереду розташована гідрометеорологічна станція.
 3. Попереду ділянка дороги, на якій можливий сильний боковий вітер або його раптові пориви.

Дод. 1: 1.17

4 Чи розрізняються між собою вимоги даних табличок?

1. Розрізняються тим, що вимоги першої таблички поширюються на всі вантажні автомобілі, а другої таблички — тільки на вантажні автомобілі, які перевозять небезпечні вантажі.
 2. Розрізняються тим, що вимоги першої таблички поширюються на вантажні автомобілі, в тому числі з причепами, з дозволеною максимальною масою понад 3,5 т, а другої таблички — на всі транспортні засоби, що здійснюють перевезення небезпечних вантажів.

Дод. 1: 7.5.1, 7.5.8

5 Чи дозволено обгін у даному місці?

1. Заборонено.
 2. Дозволено, тільки за умови, що швидкість того, кого обганяють менше ніж 30 км/год.
 3. Дозволено.

Дод. 1: 3.25, 7.1.1

6 Дана дорожня розмітка:

1. Позначає бокові поверхні огорожень поза небезпечними ділянками.
 2. Позначає бокові поверхні огорожень доріг на закругленнях малого радіуса, крутих спусках, інших небезпечних ділянок.
 3. Позначає бордюри на небезпечних ділянках.

Дод. 2: 2.5, 2.6

7 Чи дозволяється вантажному автомобілю рух по дорозі, на якій встановлено даний дорожній знак?

1. Забороняється.
 2. Дозволяється тільки автомобілю, дозволена максимальна маса якого не більша ніж 3,5 т.
 3. Дозволяється.

Дод. 1: 5.3

8 Чи повинен водій трамвая, коли рухається на даний сигнал світлофора, дати дорогу транспортним засобам, які рухаються з інших напрямків?

1. Не повинен.
 2. Повинен.

8.7.3 «Е»

9 Подавання звукового сигналу в населених пунктах дозволяється:

1. При здійсненні обгону.
 2. Для попередження дорожньо-транспортних пригод.
 3. При рухові в умовах недостатньої видимості.
 4. При наближенні до нерегульованого пішохідного переходу, на якому знаходяться пішоходи.

9.5

10 Хто має право навчати водінню транспортного засобу?

1. Спеціаліст з підготовки водіїв.
 2. Досвідчений водій зі стажем не менше п'яти років, який має при собі документ на право навчання водінню і посвідчення на право керування транспортним засобом відповідної категорії.
 3. Водії, зазначені у відповідях 1 або 2.

24.5

11 Чи мають пішоходи перевагу в русі перед транспортними засобами в житловій та пішохідній зоні?

1. Мають перевагу в усіх випадках.
2. Не мають.
3. Мають перевагу тільки у темну пору доби.
4. Мають перевагу тільки в умовах недостатньої видимості.
5. Мають перевагу тільки у випадках, зазначених у відповідях 3 і 4.

26.1

12 З якою максимальною швидкістю дозволяється рух мікроавтобусів на дорогах, позначених даним дорожнім знаком?



1. 130 км/год.
2. 110 км/год.
3. 100 км/год.
4. 90 км/год.
5. 80 км/год.

12.6 «Г»

13 Як надати першу медичну допомогу при забитті? Дайте повну відповідь.

1. Наявні садна промити перекисом водню й обробити розчином брильянтового зеленого.
2. Накласти тугу пов'язку на місце забиття.
3. Накласти холодний компрес на місце забиття, забезпечити забитому органу спокій.
4. Виконати дії вказані у відповідях 1, 2 і 3.

НПМД
стор.8

14 За спеціальними правилами здійснюється рух транспортних засобів, коли хоч один з їх габаритів за шириною мінімально перевищує:

1	2	3	4	5
5,0 м	4,0 м	3,8 м	2,5 м	2,6 м

22.5

15 Зупинка транспортних засобів забороняється у місцях, де мінімальна відстань між суцільною лінією поздовжньої розмітки і транспортним засобом, що зупинився, менша від:



1. 6,0 м.
2. 5,0 м.
3. 4,0 м.
4. 3,0 м.
5. 2,0 м.

15.9 «Д»

16 Останнім проїде перехрестя:



1. Зелений автомобіль.
2. Червоний автомобіль.
3. Синій автомобіль.

16.11; 16.13

17 При русі в умовах туману відстань до предметів уявляється:

1. Менш віддаленою, ніж у дійсності.
2. Більш віддаленою, ніж у дійсності.
3. Відповідною дійсності.

ОБР

18 Чи дозволяється рух до місця стоянки або ремонту з недіючим рульовим керуванням?

1. Забороняється.
2. Дозволяється з дотриманням запобіжних заходів.
3. Дозволяється на мінімальній швидкості з дотриманням особливих заходів обережності.


31.6 «А»

19 Яким чином повинен бути позначений буксирований механічний транспортний засіб при несправності аварійної світлової сигналізації?

1. Спереду — ліхтарями білого кольору, а ззаду — червоного кольору.
2. Знаком аварійної зупинки, закріпленим на ньому ззаду, або червоним миготливим ліхтарем.
3. Сигнальними прапорцями.

19.4;
9.11«А»


20 Останнім проїде перехрестя:



1. Синій автомобіль.
2. Червоний автомобіль.
3. Зелений автомобіль.

16.12

1 Чи розрізняються між собою вимоги даних дорожніх знаків?



1. Розрізняються тим, що в зоні дії знака А дозволяється виконати розворот для руху у зворотному напрямку, а на дорогах, позначених знаком Б, розворот заборонено.
2. Розрізняються тим, що при знакові А дозволено рух тільки прямо, а також поворот праворуч у двори й на інші прилеглі до дороги території, тоді як при знакові Б повороти в зазначені місця дозволені праворуч і ліворуч.
3. Не розрізняються, бо в зоні дії обох знаків дозволяється рух прямо, а також повороти ліворуч і праворуч у будь-який проїзд.

Дод. 1: 4.1,
5.5

2 Чи дозволяється пішоходам переходити дорогу, якщо в зоні видимості немає переходу або перехрестя?

1. Дозволяється переходити дорогу, яка має не більше трьох смуг для руху в обох напрямках, під прямим кутом до краю проїзної частини в місцях, де дорогу добре видно в обидва боки, і тільки після того, як пішохід упевниться у відсутності небезпеки.
2. Забороняється.

4.8

3 Даний дорожній знак попереджає, що:



1. Попереду ділянка дороги, на якій можливе розбризкування води і грязюки.
2. Попереду ділянка дороги, на якій можливе викидання гравію, щебеню тощо з-під коліс транспортних засобів.
3. Попереду ділянка дороги з ґрунтовим покриттям.

Дод. 1: 1.14

4 Які з перелічених дорожніх знаків зобов'язують водіїв обов'язково зупинитися перед нерегульованим залізничним переїздом?



1



2



3




4



5

Дод. 1: 2.2

5 У яких напрямках із числа позначених стрілками дозволяється рух? Дайте повну відповідь.



1. В напрямку А
2. В напрямку Б
3. В напрямку В
4. В напрямку Г
5. В напрямках А і Г.

Дод. 1: 4.1

6 Що позначає широка жовта суцільна лінія дорожньої розмітки?

1. Край проїзної частини на автомагістралях.
2. Поділ транспортних потоків протилежних напрямків на дорогах, що мають чотири й більше смуг для руху.
3. Межу смуги для руху маршрутних транспортних засобів.


Дод. 2: 1.2

7 Що в першу чергу зобов'язаний зробити водій, причетний до дорожньо-транспортної пригоди?

1. Зупинитися на місці пригоди, записати прізвища й адреси свідків, повідомити про подію міліцію, вжити заходів для подання долікарської медичної допомоги потерпілим.
2. Негайно зупинити транспортний засіб та залишатися на місці пригоди, увімкнути аварійну світлову сигналізацію та встановити знак аварійної зупинки.
3. Зупинитися й ужити усіх можливих заходів щодо збереження слідів пригоди, огороження їх і організації об'їзду місця пригоди, повідомити про подію міліцію та вжити заходів для подання долікарської медичної допомоги потерпілим.

9.10;
2.10 «А», «Б»

8 У якій відповіді названо транспортні засоби, яким заборонено рух?



1. Легковому й вантажному автомобілям.
2. Автобусу, мотоциклу й вантажному автомобілю.
3. Тільки мотоциклу.
4. Тільки вантажному автомобілю.
5. Легковому автомобілю.

8.8 «А»

9 Якщо Ви виїхали для обгону автомобіля, що рухається попереду, то в якій з перелічених ситуацій найдоцільніше подати звуковий сигнал для запобігання дорожньо-транспортній пригоді?

1. Водій автомобіля, який обганяють, увімкнув покажчик поворота праворуч.
2. Водій автомобіля, який обганяють, увімкнув покажчик поворота ліворуч.
3. Обгін здійснюється в нічний час.
4. Водій автомобіля, який обганяють, почав пригальмовувати.

9.5


10 З якого мінімального віку дозволяється навчатися водінню мотоцикла чи мопеда?

1 2 3 4

з 18 років з 16 років з 14 років з 12 років

24.2

11 На якому зчепленні повинне здійснюватися буксирування немеханічного транспортного засобу?



1. Тільки на жорсткому зчепленні при виконанні відповідних Правил дорожнього руху.
2. Тільки способом часткового навантаження на спеціальне опорне пристосування.
3. Способами, зазначеними у відповідях 1 і 2.


23.6

12 З якою максимальною швидкістю дозволяється рух при перевезенні пасажирів у кузові вантажного автомобіля?

- | | | | | |
|-----------|-----------|-----------|-----------|-----------|
| 1 | 2 | 3 | 4 | 5 |
| 50 км/год | 60 км/год | 70 км/год | 80 км/год | 90 км/год |

12.6 «В»


13 Водій якого транспортного засобу має перевагу в русі?



1. Водій трамвая.
2. Водій автомобіля.

16.7

14 На якому малюнку водій правильно виконує обгін?



1. На малюнках А і Б, якщо обгін здійснюється поза населеним пунктом.
2. На малюнку А, якщо обгін здійснюється поза населеним пунктом.
3. Тільки на малюнку Б, якщо обгін здійснюється поза населеним пунктом.
4. Тільки на малюнку Б.


14.2 «Г»

15 На якій відстані від бордюру тротуару дозволяється зупинити транспортний засіб?

1. Біля правого краю проїзної частини як можна правіше, щоб не перешкоджати іншим учасникам дорожнього руху.
2. До 0,5 м.
3. До 1 м.

15.2

16 Транспортні засоби проїдуть перехрестя в наступному порядку:



1. Автобус, легковий автомобіль, трамвай.
2. Легковий автомобіль, трамвай, автобус.
3. Трамвай, автобус, легковий автомобіль.

16.12; 16.13

17 У зоні відпочинку, позначеній даним дорожнім знаком:



1. Забороняється транзитний рух транспортних засобів.
2. Забороняється стоянка транспортних засобів більш ніж 50 хв.
3. Дозволяється рух транспортних засобів зі швидкістю, яка не перевищує 50 км/год.

Дод. 1: 3.31

18 За яких із перелічених умов забороняється експлуатація транспортних засобів? Дайте повну відповідь.

1. Не працює манометр пневматичного або пневмогідролічного гальмового привода.
2. Залишкова висота малюнка протектора шини автобуса менша ніж 2,5 мм.
3. За умов, зазначених у відповідях 1 і 2.

31.4.1 «Г»

19 Чи дозволяється експлуатація транспортного засобу без підголівників, якщо їх установлення передбачено конструкцією?

1. Дозволяється, якщо підголівники перебувають у ремонті.
2. Дозволяється в будь-якому випадку.
3. Забороняється.


31.4.7 «Ж»

20 Наближаючись до нерегульованого перехрестя рівнозначних доріг, перед яким встановлено знак «Обмеження максимальної швидкості», водій автомобіля зобов'язаний:

1. Зменшити швидкість руху і повільно в'їхати на перехрестя.
2. Зменшити швидкість руху і дати дорогу транспортному засобу, що наближається праворуч.
3. Зменшити швидкість руху майже до зупинки і дати дорогу транспортним засобам, що рухаються по перехрещуваній дорозі.

16.12

1 На якому з малюнків показано обгін на дорозі з двостороннім рухом? (Водії жовтого й білого автомобілів виїхали з раніше займаної смуги руху).



1. А і Б. 2. Б. 3. А.

1.10

2 З якого віку надається право на керування мототранспортними засобами і мотоциклами категорії «А1,А»?

1. З 14-річного віку.
2. З 16-річного віку.
3. З 18-річного віку.

2.13

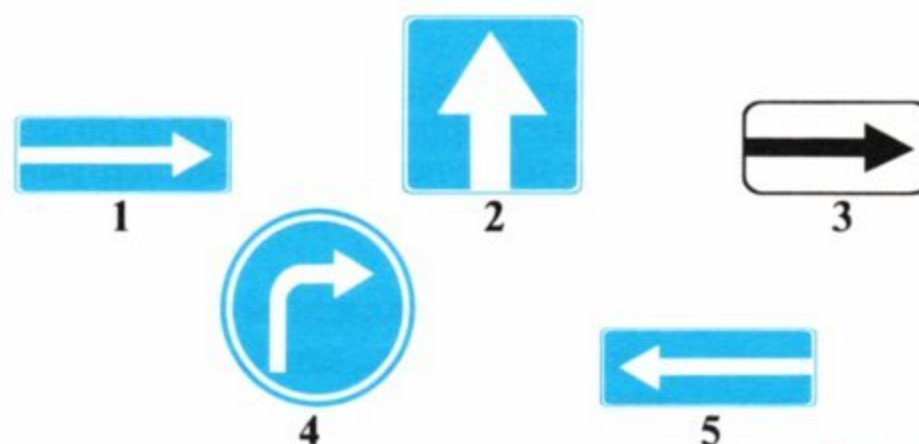
3 Даний дорожній знак інформує, що:



1. За знаком починається пішохідна зона, на всій території якої проїзд транспортних засобів заборонено.
2. У пішохідній зоні рух транспортних засобів дозволяється зі швидкістю до 5 км/год.
3. У пішохідній зоні дозволяється тільки рух пішоходів і проїзд на велосипедах.

Дод. 1: 5.33

4 Які з даних дорожніх знаків називаються «Виїзд на дорогу з одностороннім рухом»?



1. Другий і четвертий.
2. Третій і п'ятий.
3. Перший і п'ятий.

Дод. 1: 5.7

5 Дана табличка з дорожнім знаком:



1. Забороняє рух усіх транспортних засобів в умовах недостатньої видимості.
2. Забороняє рух усіх транспортних засобів, крім суботніх, недільних і святкових днів.
3. Забороняє рух усіх транспортних засобів у суботні, недільні і святкові дні.

Дод. 1: 3.1,
7.4.1

6 Чи дозволяється велосипедистам рухатися по тротуарах і пішохідних доріжках?

1. Дозволяється на дорогах з однією смугою для руху в кожному напрямку.
2. Забороняється, крім дітей до 7 років на дитячих велосипедах під наглядом дорослих.
3. Забороняється водіям мопедів, а водіям велосипедів дозволяється.

6.6 «В»

7 Даний дорожній знак позначає, що:



1. Попереду ділянка дороги, на якій рух транспортних засобів по всій ширині здійснюється в одному напрямку.
2. Рух транспортних засобів (крім маршрутних) дозволено тільки прямо, а також праворуч у двори і на інші прилягаючі території, що розташовані праворуч від дороги.
3. Дозволений напрямок руху по смузі — прямо.

Дод. 1: 4.1

8 Застосування регулювальником сигналу, що подається свистком, служить:

1. Для привертання уваги учасників дорожнього руху.
2. Для заміни в необхідних випадках сигналу «рука піднята догори».
3. Сигналом дозволу для руху пішоходів.

8.8 «В»

9 Які зовнішні світлові прилади повинні бути ввімкнені на буксированому механічному транспортному засобі при буксируванні?

1. Габаритні ліхтарі тільки у темну пору доби.
2. Габаритні ліхтарі тільки у темну пору доби і в умовах недостатньої видимості.
3. Аварійна світлова сигналізація.
4. Прилади, зазначені у відповідях 2 і 3.


9.9 «Г»

10 В яких з перелічених місць заборонено рух заднім ходом?

1. На мостах, шляхопроводах, естакадах.
2. Під мостами, шляхопроводами, естакадами.
3. На гірських дорогах.
4. В місцях, перелічених у відповідях 1, 2, 3.

10.10

- 11** Чи правильно зупинився перед перехрестям на заборонний сигнал світлофора водій вантажного автомобіля, якщо на перехресті він повинен повернути ліворуч?



1. Не правильно.
2. Правильно.

11.6

- 12** Якою повинна бути швидкість руху транспортного засобу в темну пору доби та в умовах недостатньої видимості?

1. Такою, щоб водій мав змогу зупинити транспортний засіб у межах видимості дороги.
2. Не більш як 50 км/год в населених пунктах і не більш як 100 км/год поза ними.
3. Відповіді 1 та 2 правильні.

12.2


- 13** Унаслідок ДТП у мотоцикліста на правій гомілиці є видима рана, з якої стирчать уламки кістки. Яка перша медична допомога?



1. На рану накласти стерильну пов'язку, здійснити фіксацію суглобів вище і нижче місця перелому, транспортувати потерпілого у зручному для нього положенні.
2. Потерпілого покласти на спину, підклавши під ногу валик, дати випити таблетку анальгін.

ППМД
стор. 8

- 14** Що повинен зробити водій тягача?



1. Зробити жест рукою, щоб його обганяли по зустрічній смузі.
2. Зупинитися на узбіччі і пропустити транспортні засоби, що рухаються за ним.
3. Продовжувати рух із тією ж швидкістю.

14.4

- 15** Чи дозволяється водію вантажного автомобіля зупинитися у даному місці?



1. Забороняється.
2. Дозволяється.

15.9 «3»

- 16** Першим проїде перехрестя:



1. Зелений автомобіль.
2. Синій автомобіль.
3. Червоний автомобіль.

16.11; 16.14

- 17** Даний дорожній знак:



1. Забороняє рух зі швидкістю, яка перевищує величину, вказану на знакові.
2. Забороняє рух зі швидкістю, яка перевищує величину, вказану на знакові, тільки маршрутним транспортним засобам.
3. На автомагістралі швидкість руху обмежена до 50 км/год, тільки для вантажних автомобілів.
4. Забороняє рух зі швидкістю нижче, вказаної на знакові.


Дод. 1: 3.29

- 18** Протитуманні фари в умовах недостатньої видимості використовуються:

1. Тільки разом із габаритними ліхтарями й освітленням номерного знака.
2. Тільки разом (окремо) із ближнім або дальнім світлом фар.
3. В усіх перелічених випадках.

31.4.3,
прим 3;
19.5

- 19** Водій якого транспортного засобу повинен дати дорогу?



1. Водій автомобіля.
2. Водій автобуса.

28.1


- 20** Дана дорожня розмітка проїзної частини:



1. Указує, що дорога попереду повертає ліворуч.
2. Дає водієві перевагу при перестроюванні на ліву смугу для руху.
3. Попереджує про наближення до звуження проїзної частини або до лінії розмітки, яка поділяє транспортні потоки протилежних напрямків.

Дод. 2: 1.19

1 Водії яких транспортних засобів проїдуть перехрестя першими?



1. Водій трамвая.
2. Водії автомобіля й автобуса.

16.9

2 Дайте повну відповідь. Дані дорожні знак і табличка забороняють зупинку:



1. Транспортних засобів, крім таксі, що здійснюють посадку або висадку пасажирів (розвантаження чи завантаження вантажу).
2. Транспортних засобів, крім мотоциколясок і автомобілів, на яких встановлено розпізнавальний знак «Інвалід».
3. Транспортних засобів, крім тих, що зазначені у відповідях 1 і 2.
4. Всім транспортним засобам в тому числі водіям-інвалідам.

2.8;
 дод. 1: 3.34,
 7.18

3 Даний дорожній знак:



1. Дозволяє об'їзд перешкоди з боку, вказаного стрілкою.
2. Дозволяє рух тільки в напрямку, вказаному стрілкою, а також розворот.
3. Позначає в'їзд на дорогу з одностороннім рухом.


Дод. 1: 4.3

4 Який з даних дорожніх знаків попереджує про наближення до небезпечного повороту?



Дод. 1: 1.1

5 У якій відповіді правильно зазначено всі дозволені напрямки руху?



1. А і В.
2. А і Б.
3. А.
4. Б.
5. В.

Дод. 1: 3.22

6 Що означає дана дорожня розмітка?



1. Попереджує про наближення до розмітки, де водій повинен при необхідності зупинитися і дати дорогу транспортним засобам, що рухаються по перехрещуваній дорозі.
2. Позначає напрямні островці в місцях розгалуження транспортних потоків.
3. Попереджує про наближення до розвилки доріг.

Дод. 2: 1.20

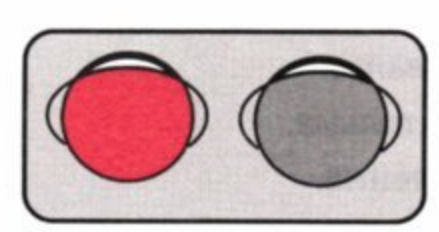
7 Перед яким місцем на дорозі встановлюється даний дорожній знак?



1. Перед місцем зупинки трамвая.
2. Перед нерегульованим перехрестям, на перехресній дорозі якого здійснюється рух трамваїв.
3. Перед місцем перехрещення дороги з трамвайною колією на перехресті з обмеженою оглядовістю чи поза ним.

Дод. 1: 1.20

8 Два по чергово миготливі червоні сигнали мають таке значення:



1. Дозволяють рух з особливою обережністю.
2. Інформують інших водіїв про вїзд на проїзну частину спеціальних транспортних засобів.
3. Забороняють рух.

8.7.3 «Е»

9 Чи дозволяється перевозити дітей, які не досягли 12-річного віку, в кабіні вантажного автомобіля?

1. Забороняється.
2. Дозволяється, гарантувавши їхню безпеку.
3. Дозволяється тільки в супроводі дорослого пасажера.

21.11 «Б»

10 Навчальну їзду на автомагістралях і дорогах для автомобілів:

1. Дозволено в будь-яких випадках.
2. Дозволено зі швидкістю не більш як 60 км/год при достатніх навичках керування в учня у присутності спеціаліста з підготовки водіїв.
3. Дозволено зі швидкістю не більш як 70 км/год.
4. Дозволено, якщо механічний транспортний засіб, на якому проводиться навчання, позначений розпізнавальними знаками.
5. Заборонено.

24.9

11 Власники механічних транспортних засобів і причепів до них повинні:

1. Зареєструвати (перереєструвати) їх у Державтоінспекції.
2. Провести відомчу реєстрацію в разі, якщо законом встановлена обов'язковість проведення такої реєстрації.
3. Виконати дії, вказані у відповідях 1 або 2.


30.1

12 Чи дозволено буксирування механічних транспортних засобів вантажними автомобілями на автомагістралях?

1. Заборонено.
2. Дозволено будь-яким способом зі швидкістю від 40 до 50 км/год.
3. Дозволено на гнучкому зчепленні.
4. Дозволено тільки способом часткового завантаження або на жорсткому зчепленні.
5. Дозволено зі швидкістю 60 км/год.

12.7; 27.3

13 Водій якого транспортного засобу повинен дати дорогу?



1. Водій автомобіля — водію мотоцикла.
2. Водій мотоцикла.

16.9

14 Чи дозволяється перевозити вантаж, який виступає за габарити транспортного засобу спереду або ззаду?

1. Дозволяється, якщо не порушено стійкість транспортного засобу.
2. Дозволяється на автомобілях зі спеціальними кузовами.
3. Забороняється.
4. Дозволяється, але якщо вантаж виступає спереду або ззаду більше як на 1 м, — він повинен бути позначений відповідно до Правил дорожнього руху.


22.4
22.5

15 Близьче якої відстані від залізничних переїздів заборонено стоянку транспортних засобів?

1. У зоні дії дорожніх знаків, якими позначається залізничний переїзд.
2. 50 м.
3. 100 м.
4. 150 м.
5. 300 м.

15.10 «Г»

16 Другим проїде перехрестя:



1. Білий автомобіль.
2. Синій автомобіль.
3. Трамвай.

16.11; 16.14

17 Для запобігання небезпечних наслідків заносу задньоприводного автомобіля водій повинен:

1. Припинити почате гальмування.
2. Різко натиснути на педаль гальма.
3. Натиснути на педаль зчеплення.

ОБР

18 У якому випадку Правила дорожнього руху забороняють подальший рух транспортних засобів?

1. Є значні зовнішні пошкодження деталей кузова (кабіни) і пофарбування.
2. Зіпсований тягово-зчіпний пристрій автопоїзда.
3. Зруйнований корінний лист або центральний болт ресори.

31.6 «Г»


19 Які зовнішні світлові пристрої повинні бути ввімкнені на транспортному засобі, що рухається, незалежно від ступеня освітлення дороги в темну пору доби?



1. Близьке світло фар або габаритні ліхтарі.
2. Протитуманні фари й габаритні ліхтарі.
3. Тільки дальнє світло фар.
4. Близьке або дальнє світло фар на всіх механічних транспортних засобах і габаритні ліхтарі на причепах.

19.1

20 На залізничному переїзді шлагбаум відчинено, світлова і звукова сигналізація вимкнені.



1. Збільшити швидкість руху і якомога швидше проїхати переїзд.
2. Переконавшись в тому, що не наближається поїзд, локомотив або дрезина, керуватися вказівками і сигналами чергового по переїзду.
3. Проїхати переїзд зі швидкістю до 20 км/год.

20.2

1 З якою швидкістю дозволяється рух легкового автомобіля в населеному пункті, позначеному даним дорожнім знаком?

РУДНЯ

- У населеному пункті, на дорозі, на якій встановлено даний знак, — не більш ніж 90 км/год, а на всіх інших дорогах цього ж населеного пункту — не більш ніж 60 км/год.
- На всіх дорогах даного населеного пункту — не більш ніж 90 км/год.
- На всіх дорогах даного населеного пункту — не більш ніж 80 км/год.
- На всіх дорогах даного населеного пункту — не більш ніж 60 км/год.

Дод. 1: 5.47;
12.6 «Г»


2 Водій якого транспортного засобу має перевагу в русі?



- Водій на легковому автомобілі.
- Водій дорожньої машини.

3.6

3 Даний дорожній знак попереджує, що:



- Попереду ділянка дороги, на якій можливі обвали або зсуви.
- Попереду ділянка дороги з підвищеною слизькістю проїзної частини.
- Попереду ділянка дороги, на якій виконуються дорожні роботи.
- Інформація, закладена у відповідях 1 і 2.

Дод. 1: 1.37

4 Який дорожній знак встановлюється безпосередньо перед перехрещенням проїзних частин?



- 1
- 2
- 3
- 4
- 5

Дод. 1: 3.22

5 Чи повинен водій зупинитися перед стоп-лінією у даному випадку?



- Повинен обов'язково зупинитися у тому випадку, якщо на перехрещуваній проїзній частині з'явиться транспортний засіб, якому водій повинен дати дорогу.
- Повинен обов'язково зупинитися.
- Повинен проїхати перехрестя без зупинки.

Дод. 1: 2.2;
дод. 2: 1.12;
16.1

6 Чи дозволяється здійснити обгін у зоні дії знака, якщо буксируючий автомобіль рухається зі швидкістю меншою ніж 30 км/год?



- Дозволяється.
- Забороняється.

Дод. 2: 1.11;
дод. 1: 3.25

7 Які транспортні засоби забороняє обганяти даний дорожній знак? Дайте повну відповідь.



- Легкові автомобілі, мотоцикли й вантажні автомобілі з дозволеною максимальною масою меншою від 3,5 т.
- Вантажні автомобілі з дозволеною максимальною масою меншою від 3,5 т.
- Усі, крім поодиноких, що рухаються зі швидкістю менш як 30 км/год.
- Усі.

Дод. 1: 3.25

8 Знаки круглої форми на синьому фоні:

- Вводять чи відмінюють конкретний режим руху.
- Вводять чи відмінюють конкретні обмеження у русі.
- Показують обов'язкові напрямки руху або дозволяють деяким категоріям учасників руху на проїзній частині або окремих її ділянках, а також вводять чи відмінюють деякі обмеження.

8.4 «Г»

9 Які світлові прилади повинні бути ввімкнені на маршрутному транспортному засобі під час руху по спеціально виділеній смозі назустріч загальному потоку транспортних засобів у світлу пору доби?

- Габаритні ліхтарі.
- Аварійна світлова сигналізація.
- Ближнє світло фар.
- Дальнє світло фар.

9.8 «Б»

10 Чи дозволяється початкове навчання водінню автомобіля в місцях, де відсутні інші учасники дорожнього руху?

- Дозволяється, при наявності розпізнавального знаку «Учебний транспортний засіб».
- Забороняється.

24.4; 24.8

11 Дайте повну відповідь. Водій, який використовує транспортний засіб на законних підставах може:

1. Передавати керування транспортним засобом іншій особі, що має при собі посвідчення водія на право керування транспортним засобом відповідної категорії, передавши їй реєстраційний документ на цей транспортний засіб.
2. Довіряти в установленому порядку розпорядження транспортним засобом іншій особі.
3. Передавати транспортний засіб у користування іншій особі.
4. Вчинити відповідно відповідям 1,2,3.
5. Вчинити відповідно відповідям 1,2.

2.2; 2.12 «А»

12 З якою максимальною швидкістю дозволяється рух вантажних автомобілів з дозволеною максимальною масою понад 3,5 т на автомагістралях?

- | | | | | |
|-----------|-----------|------------|------------|------------|
| 1 | 2 | 3 | 4 | 5 |
| 80 км/год | 90 км/год | 110 км/год | 120 км/год | 130 км/год |

12.6 «Г»

13 Як подати першу медичну допомогу при стенокардії (болю в серці) у дорозі?

1. Обличчя і груди хворого змочити холодною водою, дати йому понюхати ватку, змочену нашатирним спиртом.
2. Забезпечити доступ повітря до хворого, дати йому таблетку нітрогліцерину (валідолу) під язик.
3. Виконати дії, зазначені у відповідях 1 і 2.

Зміст Вашої аптечки в дуже потрібний момент збереже життя Вам і Вашим пасажиром!!!

ППМД
стор. 5

14 Здійснити обгін нерейкових транспортних засобів дозволяється:

1. Ліворуч або праворуч.
2. Праворуч тільки у тому випадку, якщо ліва смуга, що призначена для зустрічного руху, зайнята.
3. Тільки ліворуч, по смугі зустрічного руху.
4. У випадках, зазначених у відповідях 1 і 2.


14;1.10

15 Чи дозволяються зупинка і стоянка в зоні виконання дорожніх робіт?

1. Забороняються тільки під час виконання даних робіт.
2. Забороняються тільки в самій зоні виконання робіт.
3. Забороняються ближче 10 м від позначеного місця виконання дорожніх робіт і в зоні їх виконання, де це створить перешкоди працюючим технологічним транспортним засобам.

15.9 «Є»

16 Повертаючи ліворуч або розвертаючись при зеленому сигналі основного світлофора, водій нерейкового транспортного засобу зобов'язаний дати дорогу:



1. Тільки трамваю попутного напрямку.
2. Тільки транспортним засобам, що рухаються у зустрічному напрямку прямо або повертають праворуч.
3. Транспортним засобам, зазначеним у відповідях 1 і 2.


16.6

17 Як користуватися гальмами на слизькій дорозі?

1. Гальмувати різкими, переривчастими натисканнями на педаль гальма.
2. Вимкнути зчеплення і плавно гальмувати.
3. Плавно гальмувати, не вимикаючи зчеплення, і різко не повертати рульове колесо.

ОБР


18 Чи повинні водії маршрутних транспортних засобів пропускати поза пішохідним переходом сліпих пішоходів, які подають сигнал тростиною білого кольору, направленою уперед?



1. Повинні в будь-якому місці.
2. Не повинні.

18.5


19 Чи дозволяється рухатися з вимкненим зчепленням або передачею («накатом») на гірських дорогах?



1. Дозволяється, якщо автомобіль обладнаний гідروвакуумним підсилювачем гальм.
2. Дозволяється, якщо дорога у гарному стані і продиляється на далеку відстань.
3. Забороняється.

28.3 «А»


20 Другим проїде перехрестя:



1. Синій автомобіль.
2. Зелений автомобіль.
3. Червоний автомобіль.

16.11; 16.13

1 Чи дозволено рух трамвая?



1. Дозволено.
2. Заборонено.

8.8 «Б»

2 Коли на трамвайних зупинках, які не обладнані посадковими майданчиками, пішоходам дозволяється виходити на проїзну частину для посадки у трамвай?

1. Тільки після зупинки трамвая і лише з боку його дверей.
2. При наближенні трамвая, якщо на проїзній частині відсутні транспортні засоби, що рухаються.
3. В будь-якому випадку, дотримуючись заходів безпеки.

4.12

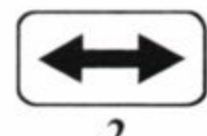
3 Даний дорожній знак:



1. Застосовується для позначення швидкості, з якою рекомендується рух на даній ділянці дороги.
2. Застосовується для позначення швидкості руху, з якою рух заборонено у темну пору доби.
3. Застосовується для позначення кінця зони, в якій обмежувалася максимальна швидкість руху в населених пунктах.


Дод. 1: 5.30

4 Який дорожній знак зобов'язує дати дорогу транспортним засобам, що рухаються перехрещуваною дорогою?



Дод. 1: 2.1

5 В яких напрямках заборонено рух? (Напрямки А і В — в'їзди у двори). Дайте повну відповідь.



1. Г.
2. В.
3. А, В і Г.
4. А і В.
5. В і Г.

Дод. 1: 4.1

6 Яким транспортним засобам дозволено рух по смугі, позначеній дорожньою розміткою «А»?



1. Тільки автобусам і мікроавтобусам.
2. Автобусам, мікроавтобусам, тролейбусам і таксі, що рухаються за встановленими маршрутами і мають визначені місця на дорозі для посадки (висадки) пасажирів.
3. Будь-яким автобусам і тролейбусам.

Дод. 2: 1.24; 1.10

7 В якій відповіді зазначено всі дорожні знаки, що мають прямокутну форму, згідно з Державним стандартом України?

1. Знаки сервісу.
2. Інформаційно-вказівні знаки.
3. Таблички до дорожніх знаків.
4. Знаки, зазначені у відповідях 1 і 3.
5. Знаки, зазначені у відповідях 1, 2 і 3.

ДСТУ 4100-2002

8 Чи мають перевагу сигнали регулювальника перед сигналами світлофорів?

1. Регулювальник не має права подавати сигнали, які суперечать сигналам світлофора, і тому його сигнали не мають перевагу.
2. Сигнали регулювальника не мають перевагу у темну пору доби.
3. Сигнали регулювальника мають перевагу перед сигналами світлофорів і є обов'язковими для виконання.

8.3

9 Чи дозволяється перевезення пасажирів у кузовах-фургонах?

1. Дозволяється тільки в тому випадку, коли їх конструкція призначена для подібних перевезень.
2. Дозволяється.
3. Забороняється.

21.11 «А»

10 В яких місцях заборонено рух заднім ходом?

1. На мостах, шляхопроводах, естакадах.
2. На гірських дорогах.
3. В усіх перелічених місцях.

10.10

11 На дорогах, які мають дві і більше смуг для руху в одному напрямку, нерейкові транспортні засоби повинні рухатися:

1. По будь-якій смузі, якщо є не більше трьох смуг для руху.
2. Тільки по правій смузі, якщо є не більше трьох смуг для руху. Виїзд на ліву смугу дозволяється тільки для повороту наліво або розвороту.
3. Якнайближче до правого краю проїзної частини, крім випадків, коли виконується випередження, об'їзд або перестроювання перед поворотом ліворуч чи розворотом.

11.2

12 Дайте повну відповідь.
Даний дорожній знак дозволяє зупинити транспортний засіб:



1. Для посадки (висадки) пасажирів.
2. Для навантаження (розвантаження) вантажу.
3. На час до 5 хв.
4. Для виконання дій, зазначених у відповідях 1 і 2.
5. Для виконання всіх вищезазначених дій.

Дод. 1: 3.35

13 При встановленні якої таблички з дорожнім знаком «Місце для стоянки» дозволяється поставити вантажний автомобіль на стоянку?



1. Обидві таблички забороняють стоянку вантажного автомобіля.
2. Таблички А і Б.
3. Табличка А.
4. Табличка Б.


Дод. 1: 7.6.1, 7.6.2

14 В яких із зазначених місць заборонено обгін?

1. На залізничних переїздах і ближче ніж за 100 м від них поза населеними пунктами, а також за 50 м у населених пунктах.
2. На залізничних переїздах і ближче ніж за 100 м перед ними.
3. На залізничних переїздах і ближче ніж за 100 м від них.

14.6 «Б»


15 Чи дозволяється зупинка в даному місці на узбіччі?



1. Забороняється.
2. Дозволяється.

15.3

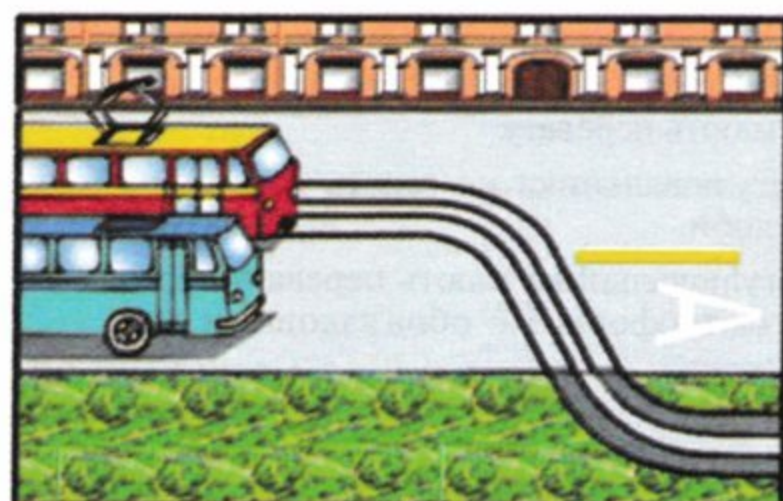
16 Автомобілі проїдуть перехрестя у наступному порядку:



1. Червоний, синій, зелений.
2. Синій, зелений, червоний.
3. Зелений, червоний, синій.

16.11; 16.14

17 Чи повинен водій автобуса, що рухається за встановленим маршрутом, дати дорогу в даній ситуації?



1. Не повинен.
2. Не повинен, бо він рухається прямо.
3. Повинен.

17.3

18 На яких з перелічених транспортних засобів обов'язково повинна бути медична аптечка? Дайте повну відповідь.

1. На автомобілях, автобусах і мікроавтобусах.
2. На тролейбусах і мотоциклах з боковим причепом.
3. На транспортних засобах, перелічених у відповідях 1 і 2.
4. На транспортних засобах, перелічених у відповідях 1 і 2, а також на колісних тракторах.

31.4.7 «Є»

19 Водій наближається до нерегульованого перехрестя рівнозначних доріг. Ліворуч наближається інший нерейковий транспортний засіб. Водій повинен:

1. Виконати вимогу Правил дорожнього руху «дати дорогу».
2. Проїхати перехрестя першим, бо Ви рухаєтесь по дорозі, де є три смуги для руху в одному напрямку.
3. Проїхати перехрестя першим, бо маєте перевагу.
4. Виконати вимоги Правил дорожнього руху згідно з відповіддю 2 або 3.

16.12

20 Автомобілі проїдуть перехрестя в наступному порядку:



1. Синій, червоний, зелений, жовтий.
2. Зелений, синій, червоний, жовтий.
3. Жовтий вїде на перехрестя й зупиниться, щоб дати дорогу зеленому; зелений, синій, червоний, жовтий.

16.12

1 Зупинка вважається «вимушеною», якщо припиняється рух транспортного засобу у зв'язку:

- З бажанням водія уточнити напрямок руху при відсутності інформаційно-вказівного знака «Попередній покажчик напрямків».
- З його технічною несправністю чи небезпекою, яка спричинена вантажем, який перевозиться, станом учасника дорожнього руху, появою перешкоди для руху
- З зупинкою його працівниками міліції.
- З усіма причинами, зазначеними у відповідях 1, 2, 3.

1.10

2 Організовані групи дітей дозволяється водити тільки по тротуарах і пішохідних доріжках, а якщо їх немає, — по узбіччю дороги:

- У напрямку руху транспортних засобів колоною, але тільки у світлу пору доби і лише в супроводі дорослих.
- У світлу пору доби або в сутінках, але тільки в супроводі дорослих.
- У темну пору доби, але при гарному освітленні доріг, вулиць, і тільки в супроводі дорослих.
- За умов, зазначених у відповідях 2 і 3.

4.6

3 Якщо перед нерегульованим залізничним переїздом встановлено даний дорожній знак, то водій повинен:



- Зупинитися перед розміткою «стоп-лінія», а якщо вона відсутня — перед знаком, впевнитися у тому, що не наближається поїзд, і лише після цього продовжити рух.
- Зупинитися перед переїздом і заглушити двигун.
- Пригальмувати, озирнутися і, впевнившись у відсутності поїзда, продовжити рух без зупинки.

Дод. 1: 2.2; 20.2; 20.3;

4 Який з перелічених дорожніх знаків дозволяє розворот?



Дод. 1: 3.23

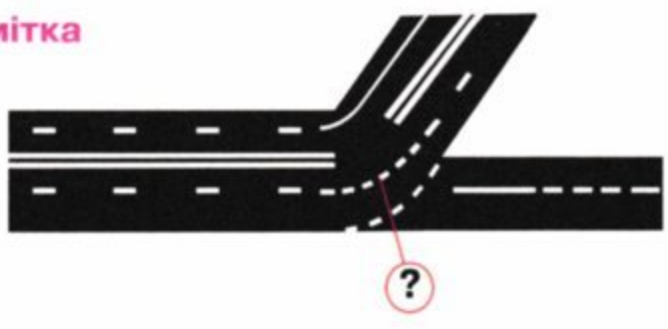
5 У якому напрямку заборонено транзитний рух через перехрестя?



- В усіх напрямках.
- Прямо і ліворуч.
- Тільки праворуч.
- Тільки ліворуч.

Дод. 1: 3.1, 7.3.1

6 Дана дорожня розмітка позначає, що:



- Смуги руху в межах перехрестя.
- Що водій має перевагу перед транспортними засобами, що рухаються з інших напрямків.

Дод. 2: 1.7

7 Даний дорожній знак:



- Забороняє вантажним автомобілям з дозволеною максимальною масою понад 3,5 т обганяти всі транспортні засоби (крім поодиноких, що рухаються зі швидкістю менше ніж 30 км/год). Тракторам забороняється обгін усіх транспортних засобів, крім поодиноких велосипедів, гужових візків (саней).
- Забороняє обганяти всі транспортні засоби, крім гужових автомобілів, самохідних машин і механізмів, дозволена максимальна маса яких понад 3,5 т.
- Забороняє обганяти всі механічні транспортні засоби, крім поодиноких, що рухаються зі швидкістю менше ніж 30 км/год, а також мотоциклів без бокового причепа і велосипедів.

Дод. 1: 3.27

8 Дайте повну відповідь, як транспортні засоби повинні рухатися в колоні:

- Якнайближче до правого краю проїзної частини.
- В один ряд.
- По смузі руху, встановленій старшим колони.
- При дотриманні умов, перелічених у відповідях 1 і 2, за винятком випадків, коли вони супроводжуються оперативними транспортними засобами.

25.2

9 Під час посадки дітей в автобус, який позначено розпізнавальним знаком «Діти», вмикається:

- Ближнє світло фар або протитуманні фари.
- Аварійна світлова сигналізація.
- Габаритні ліхтарі.
- Будь-які прилади зовнішнього освітлення.


9.9 «Г»

10 Розворот забороняється:

- Ближче як за 15 м перед перехрестями.
- На перехрестях і ближче як за 15 м від них.
- На ділянках із видимістю дороги хоча б в одному напрямку менше 100 м.
- На дорогах із двостороннім рухом, що мають не більше двох смуг для руху.

10.7 «Г»


11 Яка максимальна загальна довжина зчеплених транспортних засобів, крім маршрутних, дозволяється Правилами дорожнього руху?



1. 18 м.
2. 20 м.
3. 22 м.
4. 24 м.
5. 26 м.

23.10 «В»

12 З якою максимальною швидкістю може здійснюватися буксирування за даних умов?



1. 80 км/год.
2. 70 км/год.
3. 50 км/год.
4. 30 км/год.


12.7

13 На який максимальний строк може бути накладено кровоспинний джгут у літку?

1. Не більше як на 1 годину.
2. Не більше як на 3 години.
3. Не більше як на 2 години.

ППМД
стор. 4

14 Чи дозволяється виконати обгін у даній ситуації?



1. Дозволяється, якщо склоочисник з боку розташування керма справний.
2. Дозволяється в будь-якому випадку з дотриманням заходів безпеки.
3. Забороняється, бо дана ділянка дороги з недостатньою видимістю.


14.6 «Г»

15 Біля правого краю проїзної частини розташована трамвайна колія. В якому місці повинен зупинити водій транспортний засіб для того, щоб висадити пасажирів?

1. На відстані не більше 0,5 м від трамвайної колії.
2. На трамвайній колії як можна правіше.
3. У таких місцях зупинку заборонено.

15.8

16 Водій якого транспортного засобу повинен дати дорогу?



1. Водій мотоцикла.
2. Водій автомобіля.

16.11

17 Різде гальмування транспортного засобу при інтенсивному русі:

1. Позначається тільки на технічному стані автомобіля.
2. Є звичайним прийомом керування при інтенсивному русі.
3. Може сприяти наїздові ззаду.

ОБР

18 В якому з перелічених випадків забороняється подальший рух транспортних засобів?

1. Негерметична паливна система.
2. Пошкоджено тягово-зчпний пристрій автопоїзда.
3. За умов, зазначених у відповідях 1 і 2.

31.6 «Г»

19 У яких з перелічених випадків дозволяється користуватися протитуманними фарами?

1. При інтенсивному русі в населених пунктах.
2. При несправності ближнього світла фар.
3. В умовах туману, дощу, снігопаду.
4. У випадках, зазначених у відповідях 2 і 3.

19.5

20 Автомобілі проїдуть перехрестя в наступному порядку:



1. Червоний автомобіль виїде на перехрестя й зупиниться, щоб дати дорогу синьому; зелений; синій; червоний закінчує розворот.
2. Червоний, синій, зелений.
3. Синій, зелений, червоний.

16.12; 16.13

1 Що слід розуміти під визначенням «недостатня видимість»?



1. Видимість дороги в напрямку руху менше 300 м у сутінках, в умовах туману, дощу, снігопаду тощо.
2. Видимість менше 400 м.
3. Дощ, снігопад, сутінки.

1.10

2 З якого віку надається право на керування автобусами, трамваями та тролейбусами?

1. З 21-річного віку.
2. З 19-річного віку.
3. З 18-річного віку.

2.13

3 Даний дорожній знак попереджає, що:



1. Попереду ділянка дороги, на узбіччі якої заборонені зупинка і стоянка у зв'язку з проведенням ремонтних робіт.
2. Попереду ділянка дороги, на узбіччі якої заборонена тільки стоянка у зв'язку з проведенням ремонтних робіт.
3. Попереду ділянка дороги, на якій виконуються дорожні роботи.
4. Інформація, закладена у відповідях 2 і 3.

Дод. 1: 1.37


4 Чи дозволяється водію таксі в зоні дії даних дорожніх знаків виконати розвантаження або завантаження вантажу.



1. Дозволяється при знаках «Зупинку заборонено» і «Стоянку заборонено».
2. Дозволяється тільки при знакові «Стоянку заборонено».
3. Забороняється в усіх випадках.

Дод. 1: 3.34

5 Чи дозволяється водію зупинити транспортний засіб на даній ділянці дороги?



1. Забороняється з лівої і з правої сторони.
2. Дозволяється тільки з лівої сторони.

Дод. 1: 3.34

6 Чи дозволяється в даному місці виконати розворот?



1. Забороняється.
2. Дозволяється.


Дод. 2: 1.11

7 Які дорожні знаки мають тільки круглу форму?

1. Заборонні знаки.
2. Наказові знаки.
3. Знаки пріоритету.
4. Знаки, зазначені у відповідях 1 і 2.

ДСТУ 4100-2002

8 Як повинен учинити водій, якщо регулювальник спрямовує його в бік дороги, поворот на яку заборонено дорожнім знаком?



1. Тільки розвернутися у зворотному напрямку.
2. Зупинити автомобіль і уточнити у регулювальника його вимогу.
3. Тільки виконати вимогу регулювальника.

4. Виконати дії, зазначені у відповідях 1 або 3.

8.3

9 Як позначити транспортні засоби, які є учасниками дорожньо-транспортної пригоди?

1. Тільки ввімкненням аварійної світлової сигналізації.
2. Увімкненням аварійної світлової сигналізації і установкою знака аварійної зупинки або миготливого червоного ліхтаря.
3. Увімкненням усіх освітлюючих приладів, які є на транспортному засобі.

9.10 «А»

10 При перестроюванні на смугу гальмування Ви повинні зменшувати швидкість:

1. На автомагістралі і на смугі гальмування.
2. На автомагістралі перед перестроюванням на смугу гальмування.
3. На смугі гальмування.

10.8

11 В яких з перелічених випадків дозволяється виїзд на смугу зустрічного руху на дорозі з двостороннім рухом, яка має по одній смузі для руху в кожному напрямку?

1. Дозволяється тільки для об'їзду перешкод.
2. Дозволяється для об'їзду перешкод і для обгону.
3. Дозволяється для руху, якщо по правій смузі здійснюється інтенсивних рух.
4. Дозволяється у випадках, зазначених у відповідях 2 і 3.

11.3

12 З якою максимальною швидкістю дозволяється рух легковим автомобілям у зоні, позначеній даним дорожнім знаком?



1. 30 км/год.
2. 20 км/год.
3. 15 км/год.
4. 10 км/год.
5. На розсуд водія, гарантуючи безпеку руху.

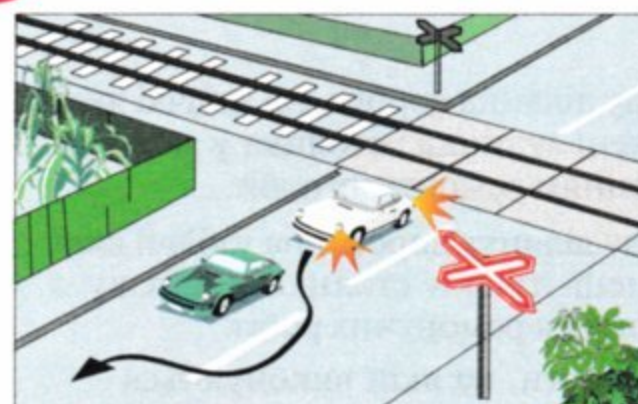
12.5

13 Як повинні вчинити водії транспортних засобів, наближаючись до ділянки дороги, яка позначена дорожнім знаком «Крутий підйом» і на якому є перешкода?

1. Дати дорогу повинен водій транспортного засобу, що рухається на спуск.
2. Дати дорогу повинен водій транспортного засобу, що рухається на підйом.
3. Дати дорогу повинен водій більш тихохідного транспортного засобу.

13.4

14 Чи дозволяється обгін у даній ситуації?



1. Забороняється.
2. Дозволяється.
3. Дозволяється, тільки якщо швидкість того транспортного засобу, який обганяють, менша від 30 км/год.
4. Дозволяється, якщо водій транспортного засобу, що рухається попереду тією ж смугою, не збільшить швидкість руху.

14.6 «Б»

15 Дайте повну відповідь, де заборонено зупинку?

1. Тільки на мостах, естакадах і шляхопроводах.
2. Тільки під мостами, естакадами і шляхопроводами.
3. В усіх перелічених місцях.

15.9 «В»


16 Автомобілі проїдуть перехрестя в наступному порядку:



1. Червоний, синій, зелений.
2. Синій, зелений, червоний.
3. Червоний в'їде на перехрестя й зупиниться, щоб дати дорогу синьому; зелений, синій; червоний закінчить розворот.

16.12; 16.13

17 Який із показаних транспортних засобів найстійкіший проти перекидання?



1. Порожній вантажний автомобіль.
2. Автокран.
3. Автобус за наявності в ньому пасажирів, які стоять.

ОБР

18 Чи дозволяється обігнати транспортний засіб, який перед перехрестям почав зменшувати швидкість?

1. Забороняється.
2. Дозволяється, якщо відсутні пішоходи, які переходять проїзну частину.
3. Дозволяється, якщо дозволяє оглядовість перехрестя.

18.4; 14.6 «А»

19 Чи дозволяється рух механічного транспортного засобу в темну пору доби тільки з габаритними ліхтарями?

1. Забороняється.
2. Дозволяється.

19.1 «А»

20 Якому з перелічених водіїв транспортних засобів надається перевага в русі?

1. На перехресті нерівнозначних доріг — водію транспортного засобу, що наближається ліворуч.
2. На перехресті рівнозначних доріг — водію транспортного засобу, що наближається праворуч.
3. Водіям, зазначеним у відповідях 1 і 2.

16.12

1 Якої безпечної дистанції повинен дотримуватись водій в залежності від швидкості руху?

1. При швидкості руху 40 км/год на дорозі з сухим асфальтно-бетонним покриттям дистанція повинна бути не менш як 20 м.
2. При швидкості руху 40 км/год на дорозі з вологим асфальтно-бетонним покриттям дистанція повинна бути не менш як 40 м.
3. Усі вищезазначені методи вибору дистанції є вірними.
4. Безпечна дистанція повинна бути такою, щоб у випадку раптового гальмування або зупинки транспортного засобу, що рухається попереду, можна було уникнути зіткнення з ним без виконання будь-яких маневрів.


1.10

2 У разі наближення транспортного засобу з увімкненим проблисківим маячком синього кольору водії інших транспортних засобів зобов'язані:

1. Дати йому дорогу і забезпечити безперешкодний проїзд.
2. Дати йому дорогу лише у тому випадку, коли він рухається по тій же смузі проїзної частини.
3. Негайно зупинитися.

3.2

3 Даний дорожній знак попереджає, що:



1. Попереду залізничний переїзд без шлагбаума.
2. Попереду ділянка дороги, на якій проводяться ремонтні роботи.
3. Попереду залізничний переїзд із шлагбаумом.
4. Попереду ділянка дороги, на якій ведуться підземні роботи.
5. Інформація, закладена у відповідях 2 і 4.

Дод. 1: 1.27

4 Чи розрізняються між собою вимоги даних дорожніх знаків?

А  Б 

1. Обидва знаки називаються «Початок населеного пункту» й тому нічим не розрізняються.
2. Розрізняються тим, що при знакові А діють вимоги Правил, що визначають порядок руху в населених пунктах, а на дорозі, на якій встановлено знак Б, не діють вимоги Правил, що визначають порядок руху в населених пунктах.
3. Розрізняються тим, що знак А встановлюється перед обласними й районними центрами, а знак Б — перед населеними пунктами, що не належать до обласних і районних центрів.

Дод. 1: 5.45, 5.47

5 На якому малюнку водій здійснив маневр, не порушуючи вимог Правил дорожнього руху?



1 2 3


Дод. 1: 4.1, 5.5

6 У якому місці водій повинен зупинити транспортний засіб за наявності розмітки «стоп-лінія»?

1. У тому місці, де добре проглядається перехрещувана проїзна частина.
2. Перед уявною лінією тротуару.
3. Місце зупинки вибирається довільно.
4. Безпосередньо перед розміткою.

Дод. 2: 1.12

7 Що означає даний дорожній знак?



1. Дозволяється рух праворуч, або ліворуч, або на розворот.
2. Забороняється рух праворуч, або ліворуч, або на розворот.
3. Попереду Т-подібне перехрестя.

Дод. 1: 4.6

8 Даний світлофор застосовується для регулювання руху:



1. Тільки на смузі для маршрутних транспортних засобів.
2. По усій ширині проїзної частини.
3. На вулицях, дорогах або по смугах проїзної частини, напрямку руху на яких може змінюватися на протилежний.

8.7.4

9 У разі вимушеної зупинки в місці, де зупинку заборонено, і при неможливості прибрати транспортний засіб з даного місця при обмеженій оглядовості дороги хоча б в одному напрямку менше 100 м, водій повинен:

1. Тільки увімкнути аварійну світлову сигналізацію.
2. Тільки установити знак аварійної зупинки.
3. Крім дій, зазначених у відповідях 1 і 2, увімкнути дальнє світло фар та задні протитуманні ліхтарі.
4. Виконати дії, зазначені у відповідях 1 і 2.

9.9 «А»; 9.10 «Б»; 15.14

10 Розворот забороняється:

1. За 15 м до залізничних переїздів.
2. Не менше 15 м за залізничними переїздами.
3. На залізничних переїздах.
4. В місцях, зазначених у відповідях 1, 2, 3.

10.7 «А»

11 Що повинен ураховувати водій при визначенні найбільшої ширини смуги руху для автопоїзда? Дайте повну відповідь.

1. Габарити транспортного засобу за шириною, безпечні інтервали між транспортними засобами, а також виляння причепа і зміщення його до центра повороту.
2. Тільки безпечні інтервали між транспортними засобами.
3. Тільки габарити автопоїзда за шириною.
4. Фактори, зазначені у відповідях 2 і 3.

11.1; 1.10

12 З якою максимальною швидкістю дозволяється рух усіх транспортних засобів у зоні, позначеній даним дорожнім знаком?



1. 5 км/год.
2. 10 км/год.
3. 20 км/год.
4. 30 км/год.
5. Зі швидкістю, яка забезпечує безпеку руху.

12.5

13 Як правильно одягнути на потерпілого сорочку або піджак при пораненні руки?

1. Одяг одягають на обидві руки одночасно.
2. Одяг одягають спочатку на хвору руку, а потім на здорову.
3. Одяг одягають спочатку на здорову руку, а потім на хвору.

ППМД

14 За спеціальними правилами здійснюється рух транспортних засобів, габарит яких за висотою від поверхні дороги мінімально перевищує (крім контейнеровозів на встановлених маршрутах):

1	2	3	4	5
5,5 м	5,0 м	4,5 м	4,0 м	3,8 м


22.5

15 Зупинку транспортних засобів заборонено:

1. На залізничних переїздах.
2. На пішохідних переходах і ближче 15 м перед ними.
3. Ближче 40 м від посадкових майданчиків для зупинки маршрутних транспортних засобів.
4. Зупинка забороняється у місцях, зазначених у відповідях 1, 2, 3.

15.9 «А», «Г», «Е»


16 Транспортні засоби проїдуть перехрестя в наступному порядку:



1. Легковий автомобіль, трамвай, автобус.
2. Трамвай, автобус, легковий автомобіль.
3. Трамвай, легковий автомобіль, автобус.

16.9


17 Як зупинити автомобіль у разі раптові відмови робочого гальма?



1. Вимкнути зчеплення і різко гальмувати стоянковим гальмом.
2. Перейти на нижчу передачу, загальмувати стоянковим гальмом. При необхідності використати яку-небудь перешкоду.

ОБР

18 Хто з водіїв зобов'язаний зупинитися?



1. Водій автобуса.
2. Обидва водії.
3. Водій легкового автомобіля.


18.1

19 Протитуманні фари в умовах недостатньої видимості використовуються:

1. Тільки разом (окремо) із ближнім або дальнім світлом фар.
2. Тільки разом із габаритними ліхтарями й освітленням номерного знака.
3. В усіх перелічених випадках.

19.5;
31.4.3,
прим. 3


20 Третім проїде перехрестя:



1. Червоний автомобіль.
2. Зелений автомобіль.
3. Синій автомобіль.
4. Жовтий автомобіль.

16.11; 16.13

1 Рух дозволено:



1. Синьо-жовтому автомобілю — прямо, червоному автомобілю — прямо і праворуч.
2. Синьо-жовтому автомобілю — ліворуч.
3. Тільки червоному автомобілю.

8.8 «А»

2 Автомобіль обладнано ременями безпеки. В яких випадках дозволяється не пристібитися ними?

1. Якщо автомобіль рухається зі швидкістю не більше як 40 км/год.
2. Дозволяється при перевезенні працівників міліції.
3. Дозволяється не пристібитися особі, яка навчає водінню, якщо за кермом учень, а в населених пунктах, крім того, водіям-інвалідам, водіям і пасажиром оперативних та спеціальних транспортних засобів і таксі.
4. Дозволяється у випадках, зазначених у відповідях 2 і 3.

2.3 «В»

3 Даний дорожній знак:



1. Визначає зону, де в суботні, недільні та святкові дні дозволяються ігри на проїзній частині.
2. Інформує водіїв про вїзд на територію, де діють особливі умови, передбачені Правилами дорожнього руху.
3. Забороняє грати з м'ячем дітям і дорослим у зоні його дії.

Дод. 1: 5.31

4 Чи розрізняються між собою вимоги щодо установки даних дорожніх знаків?




1. Розрізняються тим, що зелений знак установлюється на дорогах поза населеними пунктами, а синій установлюється в населених пунктах.

2. При максимальній швидкості руху до 90 км/год установлюється зелений знак, а при максимальній швидкості руху до 60 км/год установлюється синій знак.
3. Розрізняються тим, що зелений знак установлюється на автомагістралях, а синій знак установлюється на звичайних дорогах поза населеними пунктами.

Дод. 1: інф.-вказ. знаки

5 У якому напрямку дозволяється рух легкового автомобіля?



1. Тільки прямо.
2. В усіх напрямках рух дозволено.
3. Тільки ліворуч і праворуч.

Дод. 1: 4.11, 7.3.3

6 Якщо на дорозі нанесено переривчасту розділювальну лінію:



1. Дозволяється рух по смузі зустрічного руху до найближчого перехрестя.
2. Забороняється розворот водієві вантажного авто-мобіля.
3. Дозволяється виконати об'їзд, обгін, розворот.

Дод. 2: 1.5

7 Як визначити дорогу або проїзну частину дороги з одностороннім рухом?

1. Дорога, що має як мінімум дві смуги для руху.
2. Тільки та дорога або відокремлена проїзна частина, по якій рух транспортних засобів за всією шириною здійснюється тільки в одному напрямку.
3. Тільки та дорога, яку позначено дорожнім знаком «Дорога з одностороннім рухом».
4. Дорога, визначення якої дано у відповідях 2 і 3.

Дод. 1: 5.5

8 Якщо у світлофорі одночасно ввімкнені два сигнали — червоний і жовтий, то водій нерейкового транспортного засобу повинен:

1. Керуватися вимогами дорожніх знаків пріоритету, бо світлофор несправний.
2. Зменшити швидкість і бути готовим до зупинки, бо незабаром буде ввімкнено червоний сигнал світлофора.
3. Приготуватися до руху, бо незабаром буде ввімкнено зелений сигнал світлофора.

8.7.3 «Є»

9 Якщо в автобусі двері відчинені, то водію:

1. Дозволяється тільки починати рух на дуже малій швидкості, уважно спостерігаючи за обстановкою з дзеркала заднього виду.
2. Забороняється починати рух до повного зачинення дверей.
3. Дозволяється рух з відчиненими передніми дверима з метою кращої вентиляції автобуса при високій температурі повітря.

21.4

10 Чи дозволяється в даному місці рух заднім ходом?



1. Забороняється на ділянках доріг з обмеженою оглядовістю або недостатньою видимістю.
2. Дозволяється.

10.10

11 Чи дозволяється водію червоного автомобіля рухатися, займаючи одночасно дві смуги?



1. Забороняється. Наїжджати на переривчасті лінії розмітки дозволяється тільки при перестроюванні.
2. Дозволяється, якщо обидві смуги вільні.


11.10

12 З якою максимальною швидкістю дозволяється рух на велосипеді або мопеді у житловій або пішохідній зоні?

1. 40 км/год.
2. 20 км/год.
3. Зі швидкістю понад 30 км/год за відсутності людей.
4. 30 км/год.

12.5

13 У якій відповіді водій мотоцикла повернув ліворуч згідно з Правилами дорожнього руху?



1. Виїхав на перехрестя, пропустив вантажний автомобіль, закінчив поворот.
2. Зупинився перед перехрещуваною проїзною частиною і при дозволяючому жесті регулювальника повернув ліворуч.
3. Виїхав на перехрестя і, дочекавшись дозволяючого жесту регулювальника, закінчив поворот.

8.8 «А»

14 В яких випадках дозволяється обгін на перехресті?

1. Обгін на перехресті заборонено.
2. Обгін дозволяється, якщо є дві і більше смуг для руху в кожному напрямку.
3. Дозволяється, якщо водій транспортного засобу, який обганяють, не увімкнув світловий покажчик повороту ліворуч і продовжить рух через перехрестя в прямому напрямку.

14.6 «А»


15 Чи дозволяється зупинка в даному місці?



1. Забороняється.
2. Дозволяється.

15.9 «Г»

16 Транспортні засоби проїдуть перехрестя в наступному порядку:



1. Червоний, зелений, синій автомобілі.
2. Зелений, синій, червоний автомобілі.
3. Зелений, червоний, синій автомобілі.
4. Синій, червоний, зелений автомобілі.

16.11; 16.14

17 Яку передачу рекомендується ввімкнути при стоянці на підйомах, щоб не допустити вільного руху транспортного засобу?

1. Передачу для руху назад разом зі стоянковими гальмами.
2. Першу передачу разом зі стоянковими гальмами.
3. Нейтральну передачу разом зі стоянковими гальмами.


ОБР

18 За яких з перелічених умов забороняється експлуатація транспортних засобів? Дайте повну відповідь.

1. Відсутні підголівники в транспортних засобах, де їх установлення передбачено конструкцією.
2. Використовуються розсіювачі і лампи, які не відповідають типу даного світлового приладу.
3. За умов, зазначених у відповідях 1 і 2.

31.4.3 «Г»;
31.4.7 «Ж»

19 При русі в темну пору доби на освітлених ділянках дороги на механічному транспортному засобі повинне бути увімкнене:



1. Дальнє світло фар або габаритні ліхтарі.
2. Ближнє або дальнє світло фар.
3. Ближнє світло фар (протитуманні фари) або габаритні ліхтарі.

19.1 «А»


20 Даний дорожній знак:



1. Забороняє рух транспортних засобів з дистанцією між ними, меншою ніж зазначена на знакові.
2. Забороняє рух транспортних засобів з дистанцією між ними, більшою ніж зазначена на знакові.
3. Забороняє стоянку транспортних засобів з дистанцією між ними, меншою ніж зазначена на знакові.

Дод. 1: 3.20

1 Даний дорожній знак:



1. Дозволяє рух тільки легкових автомобілів і маршрутних транспортних засобів.
2. Дозволяє рух тільки легкових автомобілів.
3. Дозволяє рух тільки легкових автомобілів, автобусів, мотоциклів, маршрутних транспортних засобів і вантажних автомобілів, дозволена максимальна маса яких не перевищує 3,5 т.

Дод. 1: 4.11

2 Чи дозволяється водію керувати транспортним засобом під впливом лікарських препаратів, які знижують швидкість реакції та уваги?

1. Забороняється.
2. Дозволяється.
3. Дозволяється водіям зі стажем не менше трьох років за умови, що лікарський препарат буде прийнято у мінімальній дозі з 8.00 до 18.00.

2.9 «Б»

3 Яким механічним транспортним засобам забороняється обгін при даному дорожньому знакові?



1. Усім вантажним автомобілям.
2. Автобусам і вантажним автомобілям вантажопідйомністю понад 3,5 т.
3. Вантажним автомобілям з дозволеною максимальною масою понад 3,5 т (крім обгону поодиноких транспортних засобів, що рухаються зі швидкістю менше ніж 30 км/год). Тракторам, крім поодиноких велосипедів, гужових візків (саней).
4. Тільки автобусам.

Дод. 1: 3.27


4 Де і на якій відстані до залізничного переїзду встановлюються дані дорожні знаки?



1. Установлюються тільки поза населеними пунктами зі знаком «Залізничний переїзд із шлагбаумом» за 300 м до переїзду.
2. Установлюються самостійно за 150 м до переїзду.
3. Установлюються самостійно на однаковій відстані між першим і другим знаками «Залізничний переїзд із шлагбаумом», або «Залізничний переїзд без шлагбаума».

Дод. 1: 1.31.2, 1.31.5


5 Даний дорожній знак позначає, що:



1. Попереду ділянка дороги, на якій забороняється рух транспортних засобів з дистанцією між ними менше величини, зазначеної на знакові.
2. Попереду ділянка дороги, на якій забороняється рух транспортних засобів, габаритна ширина яких (з вантажем чи без нього) більше зазначеної на знакові.
3. Попереду ділянка дороги, на якій забороняється рух транспортних засобів з інтервалом між ними менше величини, зазначеної на знакові.
4. Попереду ділянка дороги, в'їзд на яку заборонено транспортним засобам, габаритна довжина яких більше величини, зазначеної на знакові.

Дод. 1: 3.17

6 В яких випадках дозволяється перетнути суцільну білу лінію дорожньої розмітки, яка розділяє транспортні потоки протилежних напрямків?



1. Тільки у тому випадку, якщо треба обігнати поодинокий транспортний засіб, що рухається зі швидкістю менше 30 км/год.
2. Тільки у тому випадку, якщо з правого боку від неї нанесено переривчасту лінію.
3. У будь-якому випадку, якщо дорога вільна від інших транспортних засобів.
4. У випадках, зазначених у відповідях 1, 2.
5. У випадках, зазначених у відповідях 1, 2, 3.

Дод. 2: 1.1, 1.11

7 Даний дорожній знак попереджує про наближення до ділянки дороги:



1. З підвищеною слизькістю проїзної частини.
2. З небезпечним узбіччям.
3. З звивистою конфігурацією.
4. З небезпечним спуском.

Дод. 1: 1.13

8 Рух заборонено:



1. Синьому, зеленому й білому автомобілям.
2. Червоному й білому автомобілям.
3. Білому, синьому й жовтому автомобілям.

8.8 «А»

9 Чи допускаються водії категорії «С» до перевезення більше 8 пасажирів у пристасованому з цією метою вантажному автомобілі?

1. Допускаються військовослужбовці термінової служби після проходження спеціальної підготовки і стажування протягом 6 місяців.
2. Не допускаються.
3. Допускаються водії зі стажем не менше 5 років при наявності позитивної характеристики.

21.8

10 Як повинен поводитися водій при русі заднім ходом, якщо він не може забезпечити безпеку дорожнього руху?

1. Регулярно подавати звуковий сигнал.
2. Звернутися за допомогою до інших осіб.
3. Увімкнути габаритні ліхтарі і рухатися як можна повільніше.

10.9

11 При інтенсивному русі чи дозволяється змінювати смугу, якою Ви рухаєтесь?



1. Дозволяється тільки на перехрестях.
2. Дозволяється тільки для об'їзду перешкоди, повороту, розвороту або зупинки.
3. Забороняється.

11.11

12 Різке гальмування під час руху:

1. Забороняється, крім випадків, коли без цього неможливо запобігти дорожньо-транспортній пригоді.
2. Дозволяється, тільки якщо транспортний засіб обладнаний антиблокувальною системою.
3. Дозволяється, тільки якщо швидкість руху і зупинковий шлях транспортного засобу невеликі.
4. Дозволяється при умовах, зазначених у відповідях 1, 2 і 3.

12.9 «Г»

13 Яку безпечну дистанцію між транспортними засобами, що рухаються, повинен обрати водій?

1. Дистанція обирається з розрахунку 1 м на кожні 10 км/год швидкості руху.
2. Дистанція обирається в залежності від швидкості руху, дорожньої обстановки, особливостей вантажу, який перевозять, стану транспортного засобу.
3. Дистанція обирається не менше 10 м до легкового автомобіля і 15 м до вантажного автомобіля, які рухаються попереду.

13.1

14 Яким розпізнавальним знаком позначається транспортний засіб при перевезенні організованих груп дітей?



1




2



3

30.3 «В»

15 Якщо дорога має бульвар або розділювальну смугу, чи дозволяються зупинка і стоянка транспортних засобів біля них?



1. Забороняються.
2. Дозволяються.
3. Дозволяються тільки легковим автомобілям і мотоциклам.

15.3

16 Як повинен учинити водій червоного автомобіля в ситуації, показаній на малюнку?



1. Увімкнути покажчик лівого повороту і звільнити правий ряд.
2. Дочекатися дозвольного сигналу світлофора і проїхати прямо.
3. Увімкнути покажчик правого повороту і повернути праворуч.

16.10

17 Для екстреної зупинки на сухій дорозі необхідно:

1. Вимкнути зчеплення, після чого негайно натиснути на педаль гальма.
2. Натиснути на педаль гальма, не вимикаючи зчеплення.
3. Вимкнути передачу і різко натиснути на педаль гальма.

ОБР

18 Сумарний люфт у рульовому керуванні вантажного автомобіля з дозволеною максимальною масою понад 3,5 т не повинен перевищувати:

1. 10 градусів.
2. 15 градусів.
3. 20 градусів.
4. 25 градусів.
5. 30 градусів.

31.4.2 «А»

19 У якій відповіді найточніше зазначено дозволений спосіб буксирування на гірських дорогах?

1. Буксирування тільки способом часткового навантаження буксированого транспортного засобу.
2. Буксирування тільки на жорсткому зчепленні.
3. Буксирування способами, зазначеними у першій і другій відповідях.
4. Буксирування на гнучкому зчепленні за наявності справних органів керування в буксированому транспортному засобі.
5. Буксирування будь-яким із зазначених способів.

28.3

20 Першим проїде перехрестя:



1. Синій автомобіль.
2. Зелений автомобіль.
3. Червоний і синій автомобілі.

16.12; 16.13


1 Як за Правилами дорожнього руху називається відстань між автомобілями?



1. Безпечний інтервал.
2. Безпечна дистанція.
3. Гальмовий шлях або зупинковий шлях.

1.10

2 Де повинен рухатися пішохід поза населеним пунктом?



1. Тільки по узбіччю в будь-якому напрямку.
2. По узбіччю, а в разі його відсутності, — по краю проїзної частини назустріч рухові транспортних засобів.

4.1; 4.3

3 Яку інформацію закладено у даний дорожній знак?



1. Попереду ділянка дороги з підземним або надземним пішохідним переходом.
2. Попереду позначене місце на дорозі, спеціально виділене для організованого переходу пішоходами проїзної частини.
3. Попереду ділянка дороги, на якій відсутні позначені пішохідні переходи.

Дод. 1: 5.35.1

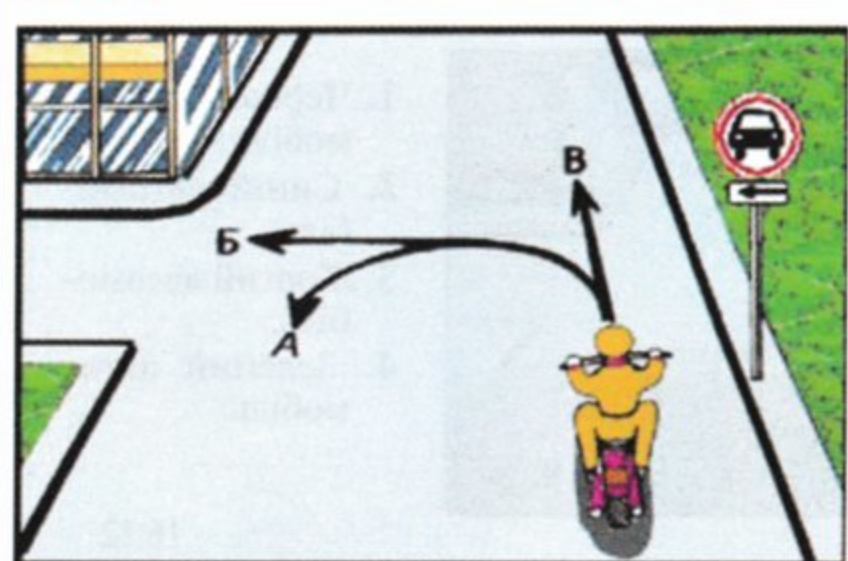
4 Даний дорожній знак з табличкою:



1. Забороняє розворот тільки вантажних автомобілів з причепом.
2. Забороняє розворот тільки легкових автомобілів з причепом.
3. Забороняє розворот тільки тракторів з причепом.
4. Забороняє розворот усіх транспортних засобів з причепом.
5. Забороняє розворот тільки тракторів і вантажних автомобілів.

Дод. 1: 7.5.2

5 В якій відповіді зазначені всі напрямки, за якими дозволено транзитний рух водію мотоцикла?



1. Тільки В.
2. В усіх напрямках.
3. А і В.
4. А і Б.

Дод. 1: 3.3, 7.3.2

6 Скільки смуг для руху має дорога, де транспортні потоки протилежних напрямків поділяються подвійною суцільною лінією?



1. Три смуги.
2. Чотири і більше смуг.
3. Дві або три смуги.
4. Дві смуги.

Дод. 2: 1.3


7 Яку інформацію закладено у даний дорожній знак?



1. Знак позначає дорогу, призначену для руху тільки автобусів.
2. Знак позначає пункт зупинки автобуса і (або) тролейбуса.
3. Знак позначає смугу, призначену для руху тільки маршрутних транспортних засобів.
4. Знак позначає пункт зупинки автобуса.

Дод. 1: 5.41.1

8 Рух заборонено:



1. Жовтому і червоному автомобілям.
2. Зеленому, червоному і білому автомобілям.
3. Білому і зеленому автомобілям, мікроавтобусу.

8.8 «А»

9 Яким жестом руки водій автомобіля повинен подати попереджувальний сигнал про поворот праворуч?

1. Сигнал подається лівою рукою, витягнутою в сторону і зігнутою у лікті під прямим кутом догори.
2. Круговими рухами за часовою стрілкою лівої руки, витягнутої вперед.
3. Покачуванням лівої руки вверх і вниз.

9.3

10 Коли водій повинен дати дорогу пішоходам? Дайте повну відповідь.

1. При виїзді на дорогу з місць стоянки.
2. При виїзді на дорогу з автозаправних станцій.
3. При виїзді на дорогу з дворів.
4. При з'їзді з дороги у двір.
5. В усіх перелічених випадках.

10.2

11 Рух по проїзній частині на велосипедах дозволяється тільки в один ряд по правій крайній смузі якомога правіше. В яких випадках дозволяється виїзд з даної смуги?

1. Тільки коли виконується об'їзд.
2. Для повороту ліворуч і розвороту в дозволених Правилами дорожнього руху випадках.
3. У випадках, зазначених у відповідях 1 і 2.
4. У випадках, зазначених у відповідях 1 і 2, а також за наявності не більше двох смуг для руху в даному напрямку.

11.14

12 Чи дозволяється буксирування на автомагістралі?

1. Дозволяється тільки на жорсткому зчепленні зі швидкістю від 40 км/год до 50 км/год.
2. Дозволяється будь-яке буксирування зі швидкістю від 40 км/год до 50 км/год.
3. Дозволяється тільки на гнучкому зчепленні зі швидкістю від 40 км/год до 50 км/год.

27.3; 12.7

13 Що повинен учинити водій червоного автомобіля при наближенні транспортного засобу, який подає спеціальний звуковий та світловий сигнали?



1. Дати дорогу і забезпечити безперешкодний проїзд.
2. Зменшити швидкість і продовжувати рух, уникаючи рвучких маневрів, пов'язаних із перестроюванням.
3. Зупинитися, не змінюючи смуги руху, й увімкнути аварійну світлову сигналізацію.


3.2

14 Як позначаються крайні зовнішні частини вантажу, що виступають за габарити транспортного засобу на відстань, більшу ніж це передбачено Правилами дорожнього руху, в темну пору доби й за умов недостатньої видимості?

1. Світлоповертачами або ліхтарями: спереду — білого, ззаду — червоного, збоку — оранжевого кольору.
2. Прапорцями: ззаду — червоними, спереду — білими.
3. Сигнальними щитками або прапорцями (з нанесеними по діагоналі червоними та білими смугами, що чергуються).

30.3 «З»

15 Водії яких транспортних засобів порушили правила стоянки поза населеними пунктами?



1. Водій легкового автомобіля.
2. Водій вантажного автомобіля.
3. Обидва водії.

15.3;
дод. 1: 3.35

16 Останнім проїде перехрестя:



1. Червоний автомобіль.
2. Синій автомобіль.
3. Жовтий автомобіль.
4. Зелений автомобіль.

16.12

17 Як впливає стомлення на увагу і реакцію водія?

1. Увага та реакція водія зменшуються.
2. Увага та реакція водія підвищуються.
3. Не впливає на увагу і реакцію водія.

ОБР

18 Ви наближаєтесь до нерегульованого пішохідного переходу. Як Ви повинні вчинити в даній ситуації?



1. Зменшити швидкість, а в разі потреби зупинитися, щоб дати дорогу пішоходам, для яких може бути створено перешкоду чи небезпеку.
2. Побачивши, що пішоходи помітили Вас, трохи збільшити швидкість і скоріше проїхати пішохідний перехід.


18.1

19 В яких з перелічених випадків слід перемкнути дальнє світло фар на ближнє?

1. При в'їзді в населений пункт.
2. При русі з невеликою швидкістю.
3. При в'їзді на перехрестя.
4. Перед зустрічним, а також при русі за попутним транспортним засобом.

19.2

20 Синій автомобіль проїде перехрестя:



1. Першим.
2. Другим.
3. Третім.
4. Останнім.

16.11; 16.14;
3.2

CD

КОДИ ПРАВИЛЬНИХ ВІДПОВІДЕЙ

CD

№ ЗАВДАННЯ

№ БІЛЕТА

	1	2	3	4	5	6	7	8	9	10	11	12	13	14	15	16	17	18	19	20	
1	1	3	2	3	2	1	4	1	3	1	5	2	3	2	3	1	4	5	1	2	1
2	2	2	2	3	2	1	3	1	1	2	2	3	1	2	1	2	3	2	3	2	2
3	3	3	4	2	3	2	3	1	4	4	2	2	4	1	3	2	2	4	1	2	3
4	1	4	2	1	3	2	1	1	4	2	3	2	4	1	1	4	2	4	4	3	4
5	3	4	2	3	2	4	4	4	2	2	1	1	2	3	3	2	2	4	3	2	5
6	2	2	2	2	1	4	1	2	3	4	2	1	2	2	1	2	2	1	1	3	6
7	2	3	2	4	1	3	1	3	1	4	1	1	1	4	1	2	2	1	1	1	7
8	2	2	3	4	1	2	3	1	2	1	3	2	3	5	2	2	3	2	3	2	8
9	3	3	2	4	4	1	3	1	1	2	2	3	2	1	2	4	1	2	4	3	9
10	3	1	1	2	2	1	3	2	3	3	1	3	3	3	4	3	3	2	2	2	10
11	3	1	2	3	3	4	3	4	3	1	2	4	3	2	5	3	4	2	1	1	11
12	2	3	3	2	1	3	3	4	3	2	1	3	4	3	2	1	3	2	3	3	12
13	2	3	1	3	2	2	5	1	4	3	4	3	2	5	3	3	1	2	1	4	13
14	4	3	5	5	2	2	2	3	2	1	4	3	1	2	1	1	1	3	4	5	14
15	2	1	2	3	3	4	2	2	3	1	3	3	3	5	4	1	3	1	1	1	15
16	3	3	2	4	2	4	3	3	1	1	1	4	2	3	4	3	1	3	2	1	16
17	2	3	3	2	1	5	1	1	2	2	2	1	4	2	1	2	2	1	3	3	17
18	1	3	2	5	2	1	3	3	3	3	3	1	1	1	2	2	2	3	2	2	18
19	1	1	3	1	2	2	1	2	1	3	1	3	5	1	3	2	2	1	1	1	19
20	4	4	1	4	4	1	2	2	1	2	2	4	2	5	4	1	3	1	1	2	20
21	1	3	1	1	3	3	1	2	3	1	1	3	3	3	2	4	2	1	2	1	21
22	3	4	1	1	1	1	1	2	4	3	3	4	2	2	4	3	1	1	2	1	22
23	1	2	2	3	2	3	1	3	3	3	2	1	2	4	3	1	2	1	3	3	23
24	4	4	1	4	5	1	1	2	2	1	3	1	3	4	1	3	1	3	2	3	24
25	3	2	4	1	4	3	2	1	2	2	4	3	3	4	2	1	1	2	3	4	25
26	3	5	2	5	1	2	3	3	5	3	5	2	1	3	1	1	2	2	1	4	26
27	3	3	2	2	2	1	1	2	3	3	2	1	1	5	2	2	4	2	4	2	27
28	2	1	1	5	3	1	3	1	4	3	4	2	2	1	3	1	2	3	3	2	28
29	4	2	1	4	5	1	2	1	2	2	2	3	4	4	4	1	3	2	4	3	29
30	1	3	1	5	2	3	4	2	3	1	1	3	4	1	1	1	2	4	3	2	30
31	2	4	2	5	2	3	3	1	2	1	2	2	3	2	4	1	3	3	3	2	31
1	2	3	4	5	6	7	8	9	10	11	12	13	14	15	16	17	18	19	20		

CD

№ ЗАВДАННЯ

CD

№ БІЛЕТА

	1	2	3	4	5	6	7	8	9	10	11	12	13	14	15	16	17	18	19	20	
32	5	1	3	1	2	3	4	1	2	1	3	5	2	4	3	1	2	1	2	3	32
33	2	4	1	4	1	1	3	1	2	1	2	2	4	1	3	2	1	2	4	3	33
34	2	4	4	3	4	1	2	1	5	2	2	1	3	2	1	1	2	1	2	4	34
35	2	2	1	3	4	1	4	5	3	4	1	3	2	1	2	2	1	1	3	2	35
36	2	3	1	3	2	3	1	4	2	1	3	1	2	1	1	2	1	2	1	2	36
37	2	4	1	1	1	3	5	3	4	4	1	1	2	2	3	2	3	4	2	1	37
38	3	2	3	2	2	1	1	3	1	1	1	4	2	1	3	2	4	1	3	1	38
39	2	2	1	3	4	1	2	3	4	2	3	3	3	2	1	1	3	3	3	1	39
40	1	3	2	4	2	3	3	2	1	2	2	1	2	2	1	1	2	1	2	1	40
41	2	2	1	2	2	3	1	3	1	3	1	2	2	4	2	1	1	2	2	1	41
42	3	2	5	5	1	2	2	3	2	4	4	2	1	1	1	2	4	3	4	4	42
43	1	1	5	3	2	1	2	2	3	5	2	2	1	1	1	1	2	1	4	4	43
44	2	4	3	4	5	2	5	2	3	2	2	1	3	4	3	2	1	2	2	3	44
45	5	3	3	1	1	3	3	2	4	4	2	1	2	1	2	3	1	2	2	2	45
46	2	3	4	5	4	3	2	4	1	4	3	4	3	1	1	3	1	2	4	1	46
47	1	3	2	4	4	2	2	2	2	4	1	2	2	3	3	3	2	1	3	2	47
48	2	1	2	1	1	2	3	1	1	3	2	2	2	3	1	3	1	5	1	4	48
49	2	1	3	3	1	1	2	3	4	3	3	3	1	3	2	3	2	2	4	3	49
50	2	3	1	2	1	1	3	1	3	1	3	4	4	3	3	2	1	3	1	2	50
51	1	2	4	5	4	1	4	4	1	3	1	2	1	3	4	3	4	1	3	4	51
52	2	2	3	5	1	3	2	4	3	3	4	1	3	4	1	1	2	1	4	1	52
53	3	2	2	1	2	2	2	1	2	3	3	3	3	3	1	2	1	1	1	3	53
54	1	3	3	3	3	3	1	2	4	5	4	3	3	2	1	1	3	2	3	3	54
55	3	3	1	5	3	2	2	3	3	2	4	5	2	3	1	3	2	3	2	1	55
56	1	2	1	2	3	2	2	2	4	4	1	4	3	3	4	1	4	2	2	1	56
57	1	2	4	3	3	4	2	2	2	3	1	2	3	2	4	3	1	4	3	2	57
58	4	3	1	2	3	4	2	5	3	2	3	3	3	2	2	3	1	3	3	2	58
59	2	4	2	5	3	1	2	3	3	3	4	3	2	2	3	4	1	2	2	1	59
60	2	4	1	5	5	2	3	2	4	5	2	3	2	3	2	1	1	3	3	3	60
61	2	2	2	5	4	2	3	4	1	2	3	3	3	5	3	2	2	1	2	2	61
62	4	1	2	2	5	2	3	2	3	3	1	3	1	5	2	3	3	2	1	2	62
	1	2	3	4	5	6	7	8	9	10	11	12	13	14	15	16	17	18	19	20	

CD

№ ЗАВДАННЯ

CD

№ БІЛЕТА

	1	2	3	4	5	6	7	8	9	10	11	12	13	14	15	16	17	18	19	20	
63	4	1	4	2	2	1	4	1	3	2	3	1	4	3	2	2	4	3	3	3	63
64	2	2	2	5	5	4	4	2	1	2	1	2	3	3	3	2	1	1	1	3	64
65	1	4	1	1	1	2	1	2	1	3	4	4	2	3	5	2	2	1	4	3	65
66	2	4	4	4	2	2	1	1	2	5	2	3	1	1	1	1	3	3	1	2	66
67	2	2	3	1	2	3	5	2	3	3	2	1	4	2	2	1	2	1	3	3	67
68	1	2	1	2	4	4	1	4	2	2	2	4	2	1	1	2	1	1	3	1	68
69	3	2	1	2	1	2	2	3	1	3	2	2	2	2	2	1	3	3	1	2	69
70	1	2	1	1	1	2	1	5	4	1	5	2	1	3	4	1	4	2	4	2	70
71	2	1	1	1	2	1	3	4	3	4	2	3	1	1	3	1	2	2	4	3	71
72	2	5	3	5	1	4	3	4	3	4	1	4	3	3	1	3	1	1	3	3	72
73	2	3	4	5	1	1	5	1	2	2	3	1	3	2	4	2	1	3	3	2	73
74	1	4	2	2	2	5	2	2	1	1	1	2	1	3	3	1	1	4	2	2	74
75	3	1	2	4	2	4	3	2	2	2	4	1	3	2	3	1	3	2	1	2	75
76	2	4	4	1	4	3	3	3	3	3	1	4	2	3	5	1	3	2	4	1	76
77	2	3	3	2	2	3	5	2	3	1	4	1	3	2	2	1	1	1	1	1	77
78	3	1	1	3	3	2	4	1	2	3	3	1	3	4	4	3	3	3	1	1	78
79	3	4	3	1	3	2	4	4	3	4	2	2	1	1	4	1	1	3	2	2	79
80	3	1	4	4	4	4	1	3	1	5	3	4	3	1	1	2	1	1	3	1	80
81	1	4	1	1	1	3	3	1	3	1	1	1	3	4	3	2	1	2	1	1	81
82	4	1	3	2	3	2	3	2	2	1	1	1	4	5	4	1	2	1	2	1	82
83	2	1	2	2	5	3	2	2	2	3	1	2	1	4	1	3	3	1	3	2	83
84	3	2	1	3	3	2	2	1	3	1	2	1	1	2	1	2	1	3	1	3	84
85	2	3	2	1	2	1	3	3	2	5	3	2	1	4	2	3	1	2	4	2	85
86	1	1	3	4	3	1	3	3	3	1	1	5	2	3	3	3	3	1	3	3	86
87	2	1	1	5	5	2	5	3	1	1	3	5	3	2	2	3	3	4	3	2	87
88	2	1	1	2	3	1	1	4	2	3	3	3	3	3	2	1	3	2	3	1	88
89	1	1	3	1	2	2	2	3	2	3	2	2	1	2	3	3	1	1	1	2	89
90	4	1	3	2	1	4	1	3	4	3	1	3	2	4	1	1	2	3	3	4	90
91	1	3	2	3	2	3	4	3	2	1	1	2	2	1	2	3	2	3	2	1	91
92	3	1	3	3	2	4	1	1	1	2	2	1	2	1	1	3	2	3	3	2	92
93	2	2	2	4	3	2	4	3	1	5	3	2	1	1	3	3	1	1	4	3	93
	1	2	3	4	5	6	7	8	9	10	11	12	13	14	15	16	17	18	19	20	

Навчальне видання

ПБДР — Екзаменаційні білети
14-те видання
(окремий розділ НМП «Я — водій»)

CD

Автори:

Гусаров Сергій Миколайович,
Астапкович Володимир Іванович,
Будник Сергій Іванович,
Демянко Олександр Миколайович,
Берізко Микола Михайлович,
Колчинський Юрій Йосипович

Шеф-редактор: Ю.Й. Колчинський
Редактор, перекладач: Є.В. Ходун
Дизайн, комп'ютерна верстка: К.С. Нілов, В.Ю. Колчинський

Підписано до друку 21.05.2013р. Формат 60x84/8. Папір офсетний.
Ум. друк. арк.23. Друк офсетний. Тираж 5000 пр. Зам. № 393

НВП «Світлофор»,
вул. Лермонтовська, 12, м. Харків, 61024, Україна
Телефон/факс: (057) 758-58-52, 758-58-53, 754-35-55
www.svetofor.net.ua
E-mail: svetofor@3g.ua

Свідоцтво суб'єкта видавничої справи
ДК № 1257 від 06.03.2003 р.

Надруковано з готових позитивів у друкарні ЗАТ «Поліграфсервіс»
61012, м.Харків, вул. Червоні ряди, 14

НАУКОВО-ВИРОБНИЧЕ ПІДПРИЄМСТВО «СВІТЛОФОР»

**ПРОПОНУЄ НОВІ ВИДАННЯ
українською і російською мовами:**

«ЧИ ЗНАЄТЕ ВИ ПРАВИЛА ДОРОЖНЬОГО РУХУ?»

Тематичні завдання для вивчення «Правил дорожнього руху України». Ілюстрований навчально-методичний посібник у вигляді тестів.

«ПБДР – ЕКЗАМЕНАЦІЙНІ БІЛЕТИ»

Поліграфічна та електронна версії. Офіційне видання. Білети призначені для складання теоретичного іспиту на право керувати транспортними засобами.

«Я – ВОДІЙ»

Навчально-методичний посібник вміщує «Правила дорожнього руху України», «ПБДР – Екзаменаційні білети» і багато іншої інформації.

«ПРАВИЛА ДОРОЖНЬОГО РУХУ УКРАЇНИ»

Офіційне видання. Правилами регламентований порядок дорожнього руху на території України з урахуванням державних стандартів та інших нормативних актів.

«КОМЕНТАРІ ДО ПРАВИЛ ДОРОЖНЬОГО РУХУ УКРАЇНИ»

У книзі наводяться роз'яснення вимог «Правил дорожнього руху України».

«ПРАВИЛА ДОРОЖНЬОГО РУХУ УКРАЇНИ»

Комплект з 29 кольорових плакатів формату 61x81 см на картоні.

«ПОДАННЯ ПЕРШОЇ МЕДИЧНОЇ ДОПОМОГИ УЧАСНИКАМ ДОРОЖНЬОГО РУХУ»

Комплект з 28 кольорових плакатів формату 61x81 см на картоні і методичний посібник.

«КУЛЬТУРНИЙ ВОДІЙ? ФАНТАСТИКА!»

Літературно-художнє видання про культуру водіння і взаємини учасників дорожнього руху.

ШАНОВНІ УЧАСНИКИ ДОРОЖНЬОГО РУХУ!

Література з Правил та безпеки дорожнього руху, розроблена і видана в НВП «Світлофор», повністю відповідає нормативній базі України і тому є офіційною. У ній застосовані методики, які дозволяють швидко розібратися по суті питання.

В НВП «Світлофор» Ви можете отримати відповіді на найскладніші питання з даної теми.

Наші учбові посібники допоможуть Вам стати грамотним учасником дорожнього руху.

Публікації на нашому інтернет-сайті завжди присвячені найбільш актуальним проблемам безпеки дорожнього руху.



Колчинський
Юрій Йосипович,
директор НВП «Світлофор»,
викладач-методист
вищої категорії

**БАЖАЄМО ВАМ БЕЗАВАРІЙНОГО ТА ПРИЄМНОГО
РУХУ!**

НАША АДРЕСА:

вул. Лермонтовська, 12,
м. Харків, 61024, Україна
тел.: (057) 758-58-52, 758-58-53, 754-35-55

e-mail: svetofor@3g.ua

<http://gai.org.ua> - підготовка до іспиту з ПБДР України



Зразок голограми НВП «Світлофор»



УВАГА!

НВП «Світлофор» несе відповідальність за якість і правильність тільки тих книг, на обкладинці яких мається голограма НВП «Світлофор». Книга без такої голограми вважається контрафактною, а її реалізатор несе відповідальність за порушення Закону України «Про авторське право і суміжні права».

Відтворення чи тиражування цього посібника в цілому або його частин категорично заборонено. Порушення авторських прав переслідується Законом України.



НВП «Світлофор»
м. Харків

НВП «Світлофор»
вул. Лермонтовська, 12
м. Харків, 61024, Україна
тел./факс: (057) 758-58-52
тел./факс: (057) 758-58-53
тел./факс: (057) 754-35-55
www.svetofor.net.ua
e-mail: svetofor@3g.ua